

一、单选题（本大题共 20 小题，共 40.0 分）

读我国四大地理区域简图，完成下列题。



1. 黄河流经的地理区域不包括（ ）
A. 北方地区 B. 南方地区 C. 西北地区 D. 青藏地区
2. “千里冰封”“万里雪飘”“银装素裹”描述的区域是图中的（ ）
A. ① B. ② C. ③ D. ④
3. 下列山脉属于图中区域④与区域②界线的是（ ）
A. 秦岭山脉 B. 昆仑山脉 C. 大兴安岭 D. 横断山脉

读我国部分地区示意图，完成下列题。



4. 关于 A 山脉地理意义的叙述，正确的是（ ）

A. A 山脉是温度带分界线
B. A 山脉是省级行政区分界线

C. A 山脉是干湿地区分界线
D. 400 毫米年等降水量线经过 A 山脉
5. 与同纬度 B 山脉西部地区相比，B 山脉（ ）

A. 气温较低
B. 降水较少
C. 冬季积雪较薄
D. 属于干旱地区
6. 对图中①②③三地的叙述，正确的是（ ）

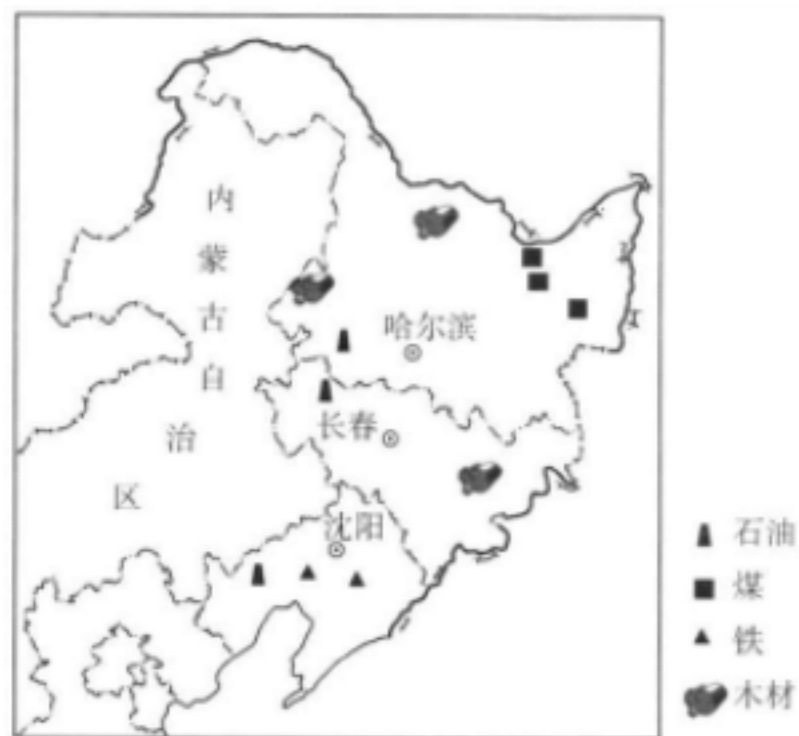
A. ①地土壤肥沃，是棉花的集中种植区

B. ②地距海较近，淡水资源缺乏

C. ③地地势较高，农作物一年三熟

D. ①②两地被称为“黑土地”

读我国东北三省示意图，完成下列题。



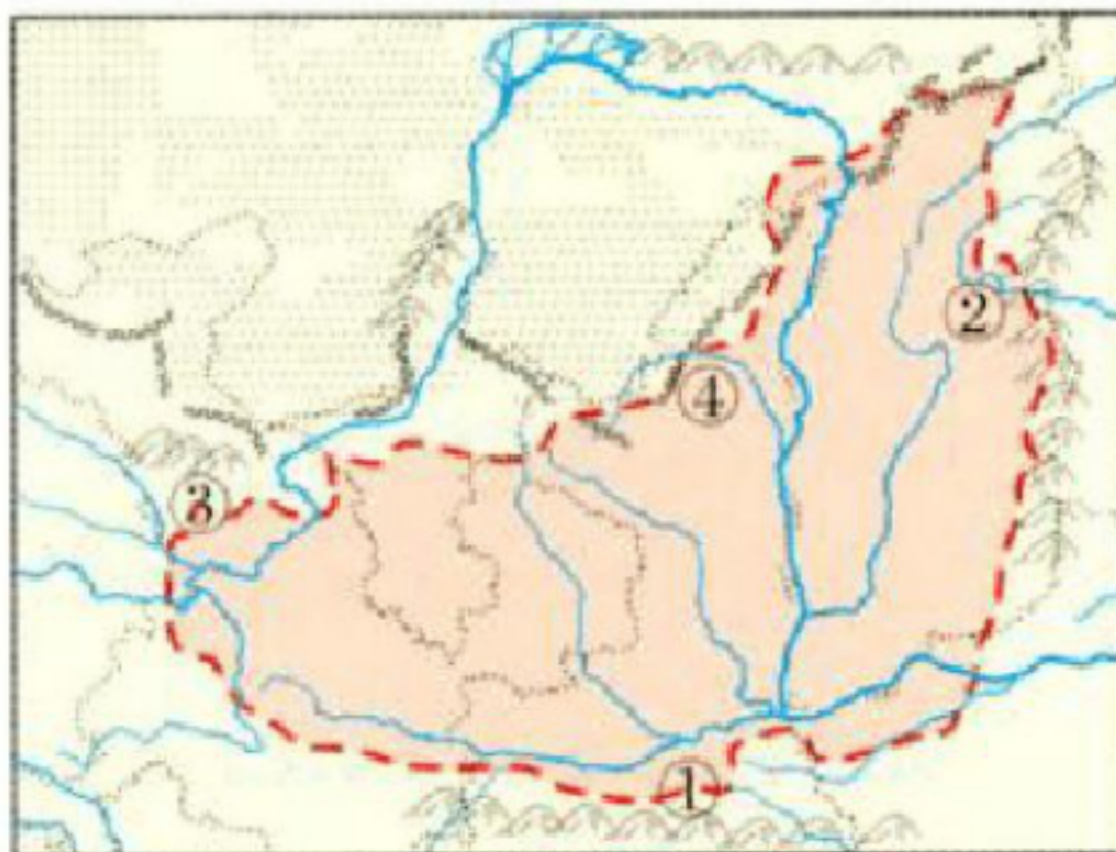
7. 东北三省重工业发达，最主要的影响因素是（ ）

A. 市场
B. 科技
C. 森林资源
D. 矿产资源
8. 下列工业不宜在东北地区发展的是（ ）

A. 机械制造
B. 石油化工
C. 家具制造
D. 甘蔗制糖
9. 下列关于东北三省的说法，不正确的是（ ）

- A. 该区域纬度高，气温低，农作物一年一熟
- B. 该区域主要农作物有冬小麦、大豆、玉米等
- C. 该区域山环水绕、沃野千里，是我国重要的商品粮生产基地
- D. 该区域气候冷湿，是我国重要的沼泽湿地保护区

黄土高原是世界最大的黄土沉积区,生态环境脆弱。读黄土高原图,回答下列题目。



10. 图中序号代表的地理事物与其特征对应,正确的是 ()
- A. ①—秦岭—长江、黄河的分水岭
 - B. ②—太行山—地势第一、二级阶梯分界线
 - C. ③—贺兰山—黄土高原西部边界
 - D. ④—长城—季风区与非季风区的分界线
11. 黄土高原水土流失严重的人为原因主要是 ()
- A. 夏季降水集中, 多暴雨
 - B. 滥垦乱伐, 过度放牧
 - C. 气候干旱, 植被稀少
 - D. 黄土结构疏松, 裂隙较多
12. 关于黄土高原地理特征的叙述, 正确的是 ()
- A. 独特的地貌类型有塬、梁、峁等
 - B. 黄土高原是流水沉积形成的
 - C. 水稻和小麦是当地主要的粮食作物
 - D. 信天游、锅庄舞是当地的传统文化

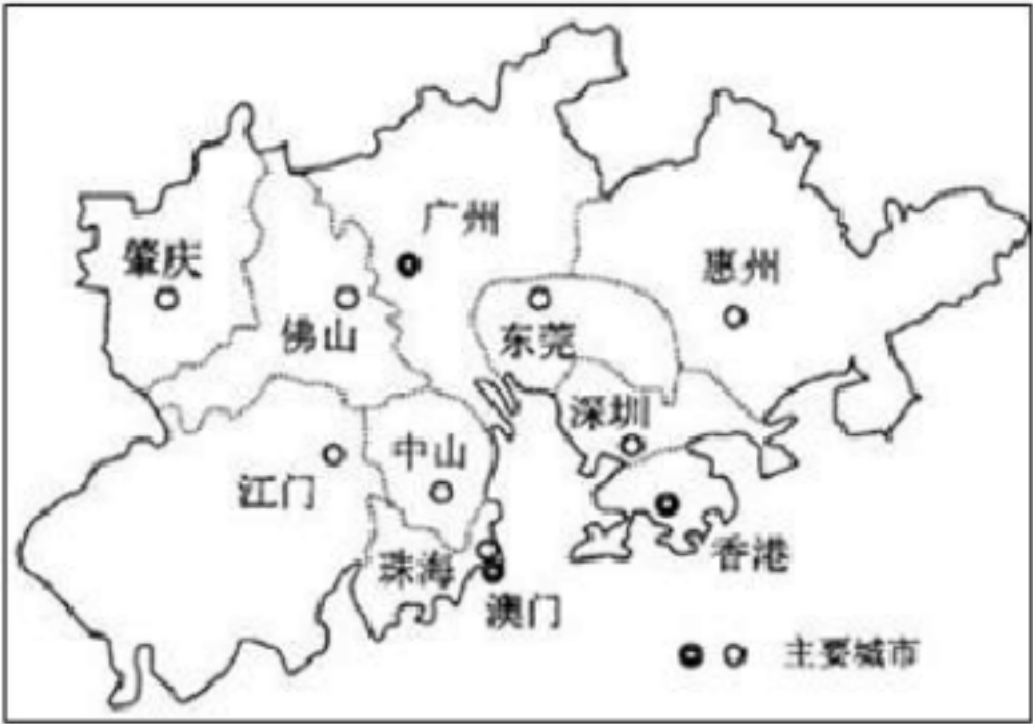
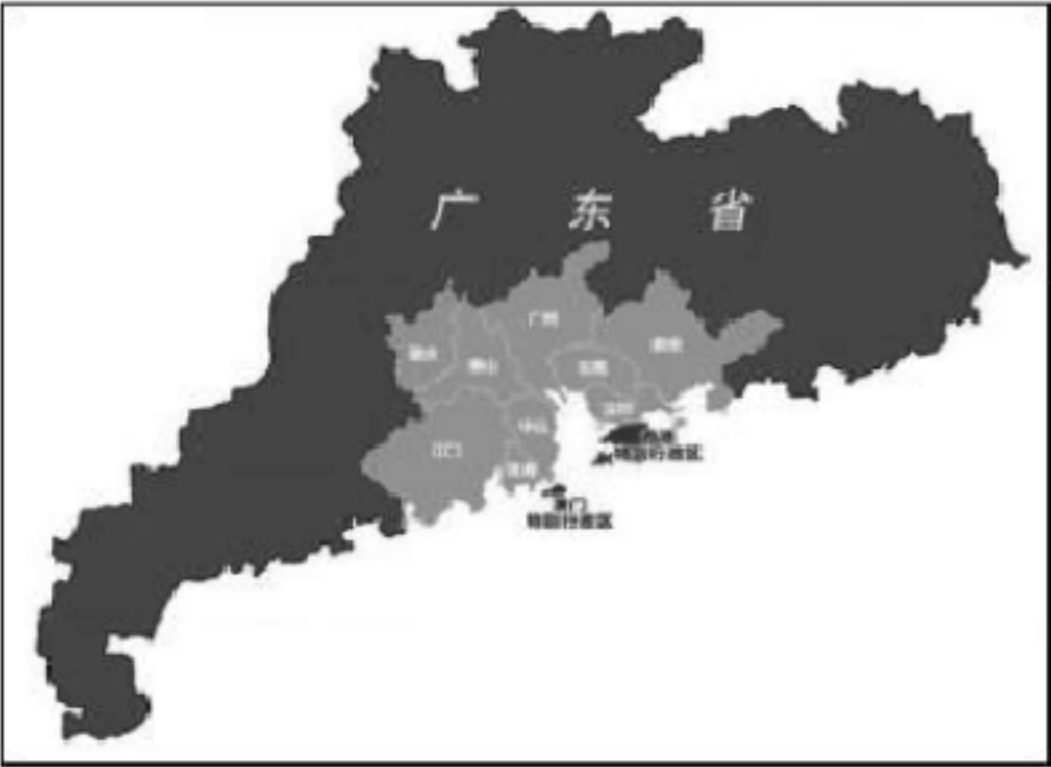
读“北京轮廓范围图”，完成下列题目。



北京市略图

13. 关于北京的描述，正确的是（ ）
- A. 地势东南高西北低
B. 濒临渤海
C. 位于华北平原西北
D. 西部隔太行山脉与内蒙古高原相邻
14. 要体验首都北京悠久的历史文化，你应该选择参观（ ）
- A. 故宫 B. 人民大会堂 C. 鸟巢 D. 中关村科技园
15. 雄安新区正在高起点高标准建设，一些非首都功能部门将迁往这里，这对北京的影响是（ ）
- ①交通压力将有所减轻
②政治中心地位将大幅度降低
③城市空气质量将进一步提高
④住房紧张状况将有所缓解
- A. ①②③ B. ①②④ C. ②③④ D. ①③④
16. 下列关于北方地区和南方地区的叙述，错误的是（ ）
- A. 南方地区面积比北方地区大，但人口没北方地区多
B. 北方地区以“黑土地”和“黄土地”著称，长江以南的丘陵多红壤，平原地区为“水稻土”
C. 北方地区煤炭、石油丰富，南方地区水能、有色金属丰富
D. 北方地区居民主食为面食，南方地区居民主食为米饭

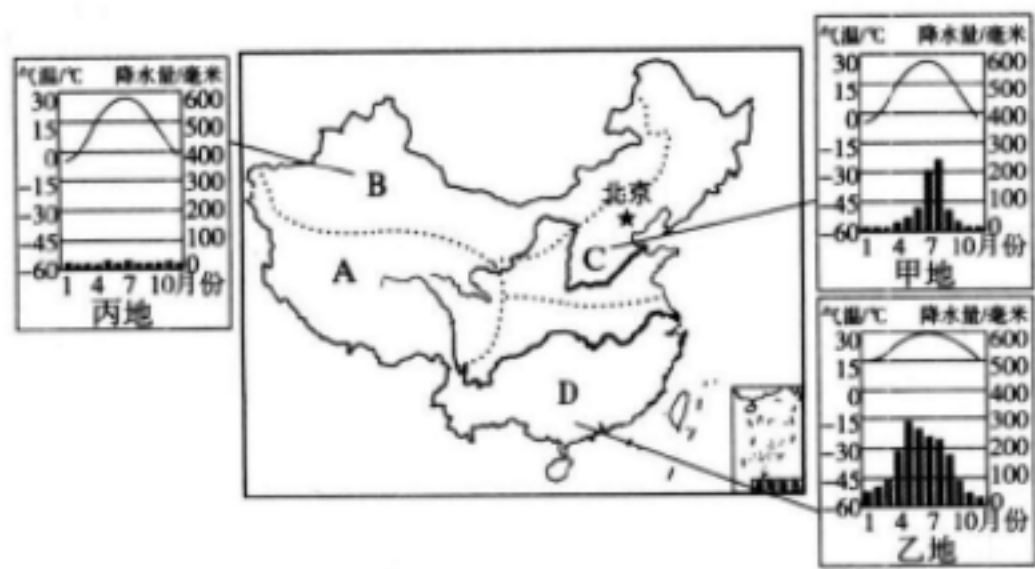
粤港澳大湾区背靠中国大陆，面向东南亚，是世界四大湾区之一，读粤港澳大湾区位置和组成示意图，完成下列小题。



17. 下列城市不属于粤港澳大湾区的是
- A. 江门 B. 厦门 C. 广州 D. 佛山
18. 下列关于粤港澳大湾区地理环境的描述，不正确的是
- A. 大湾区南临南海 B. 位于珠江三角洲
- C. 位于亚热带季风气候区 D. 全部都属于广东省
19. 从地理视角出发，下列不符合粤港澳大湾区未来发展的是
- A. 大力发展重工业 B. 发展高新技术产业
- C. 进一步扩大开放 D. 走绿色低碳道路
20. 台湾是祖国神圣不可分割的领土。下列有关台湾省的叙述，正确的是（ ）
- A. 台湾岛地形以平原和山地为主，农作物一年两到三熟
- B. 台湾岛的河流短小湍急，水能丰富，大多流入太平洋
- C. 台湾岛因为水果众多，产量很大，因此被誉为“东方甜岛”
- D. 台湾省的经济命脉是出口贸易，最大贸易伙伴是香港

二、综合题（本大题共 5 小题，共 60.0 分）

21. 读下面我国四大地理区域略图，完成下列问题。（13 分）



(1) 写出图中字母代表的四大地理区域名称。

A_____， B_____， C_____， D_____。

(2) 区域 C 和区域 D 的分界线大致是_____（填山脉）—_____（填河流）线。

(3) 甲地与乙地相比，冬季气温较低的是_____地，导致这种差异的主要因素是_____；甲地与丙地相比，年降水量较少的是_____地，导致这种差异的主要因素是_____。

(4) 区域 C、D 划分的主导因素是_____，区域 B、C 划分的主导因素是_____，区域 A 和 B、C、D 划分的主导因素是_____。

22. 读下面东北地区图，完成下列问题。（14 分）



(1) 我国东北地区北邻 A_____（填国家），南部濒临 B_____海和黄海，东北三省包括_____省、吉林省和辽宁省。

(2) 读图可知,东北地区具有“山环水绕”的山河分布特征,请指出能支持这种结论的证据。

“山环”的证据:

_____。

“水绕”的证据:

_____。

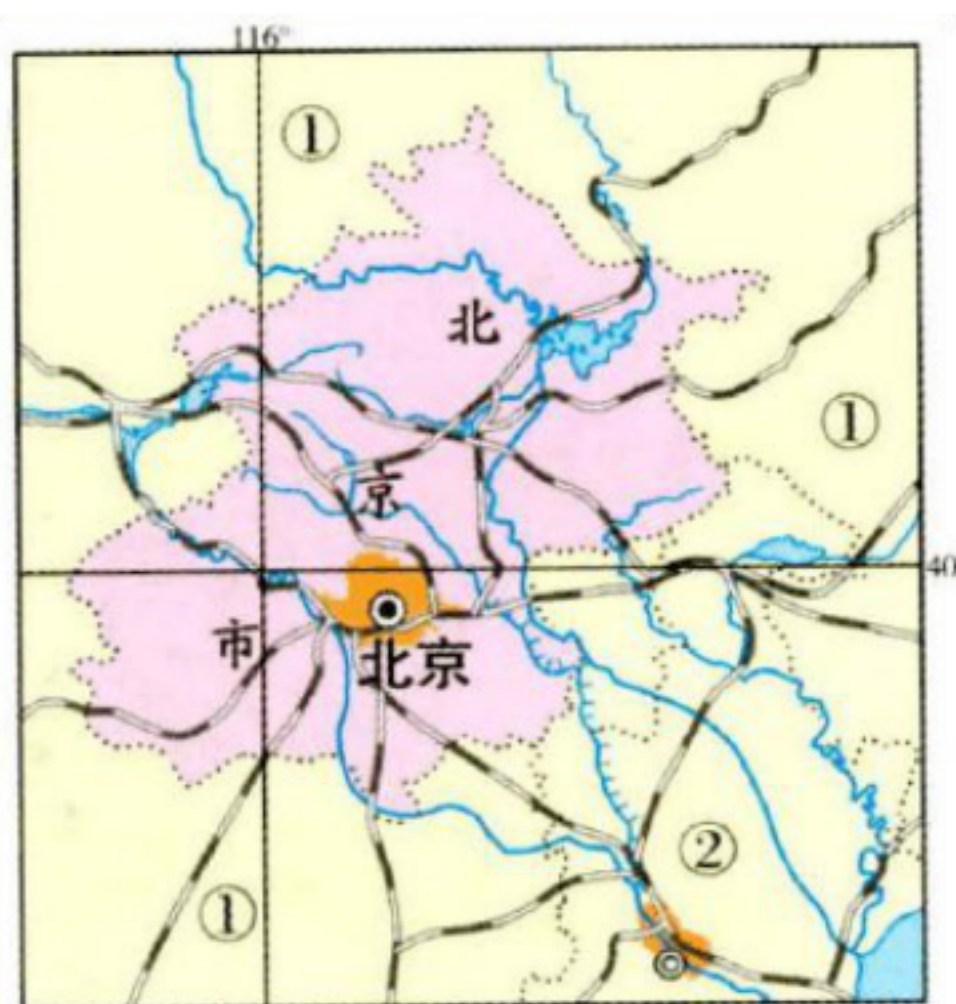
(3) 东北三省山地之间分布着辽阔坦荡的平原,图中①代表的是_____平原,由于其肥沃的黑色土壤,而被称为“_____”,此地区粮食作物的熟制是_____。

(4) 东北三省联系我国广大地区的一条重要铁路线是_____,经过的东北地区的省会城市有沈阳、长春、_____。

(5) 东北地区是我国少数民族的主要分布区之一,请说出至少两个少数民族的名称。

(6) 图中②是_____工业基地,以_____工业为主。

23. 读北京市略图,回答下列问题。(11分)



(1) 北京位于_____平原的西北端,是一个_____(沿海、内陆)城市,距离最近的海是_____。

(2)相邻的省级行政区域: ①____, ②____。(均填简称)

(3)北京西面是能源丰富的____高原,南面是物产丰富的____平原,从西北出____关可进入内蒙古高原,向东出山海关可进入____地区。

(4) 过去北京人在冬季大量储存大白菜的原因是 ()

A.北京人喜爱吃大白菜

B.大白菜营养丰富

C.吃大白菜可以暖和身体

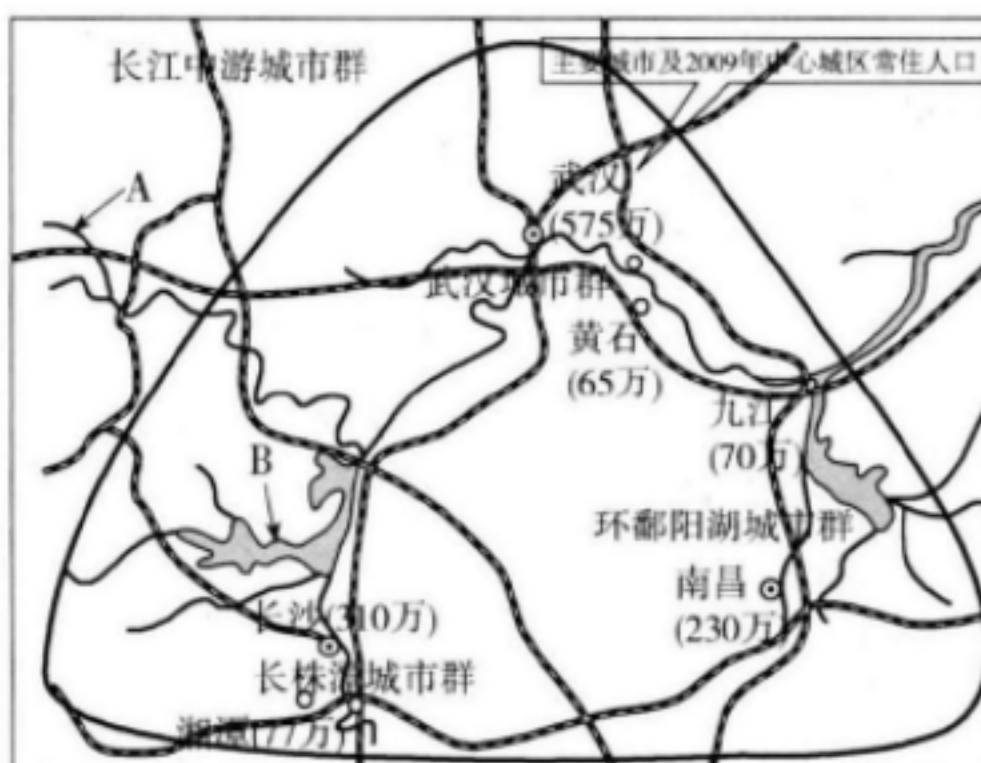
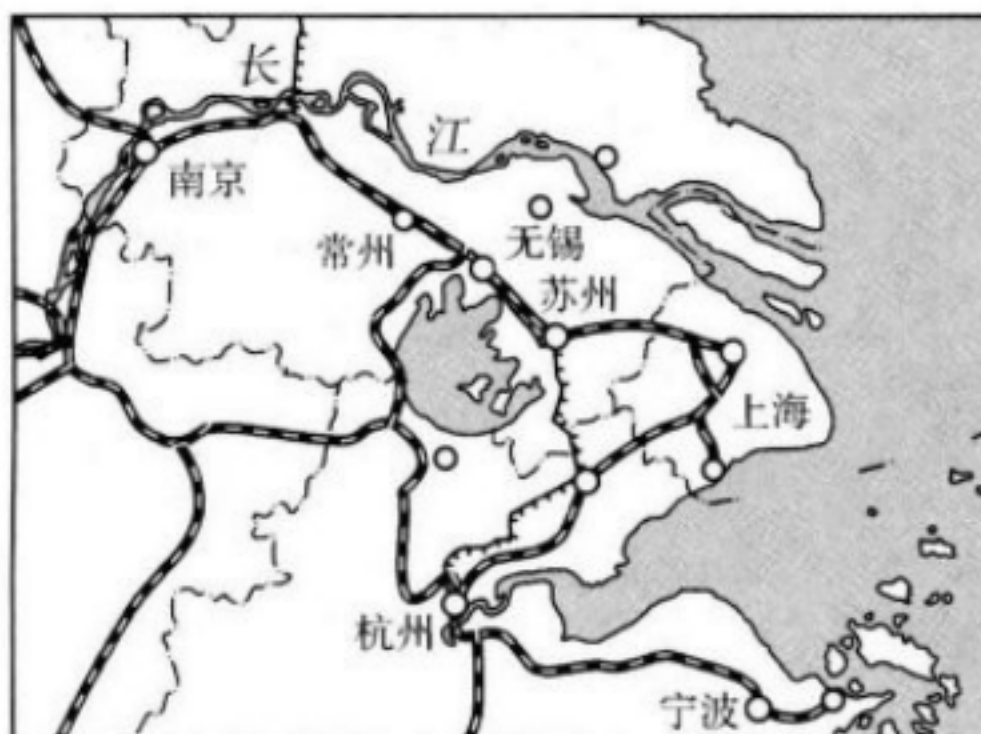
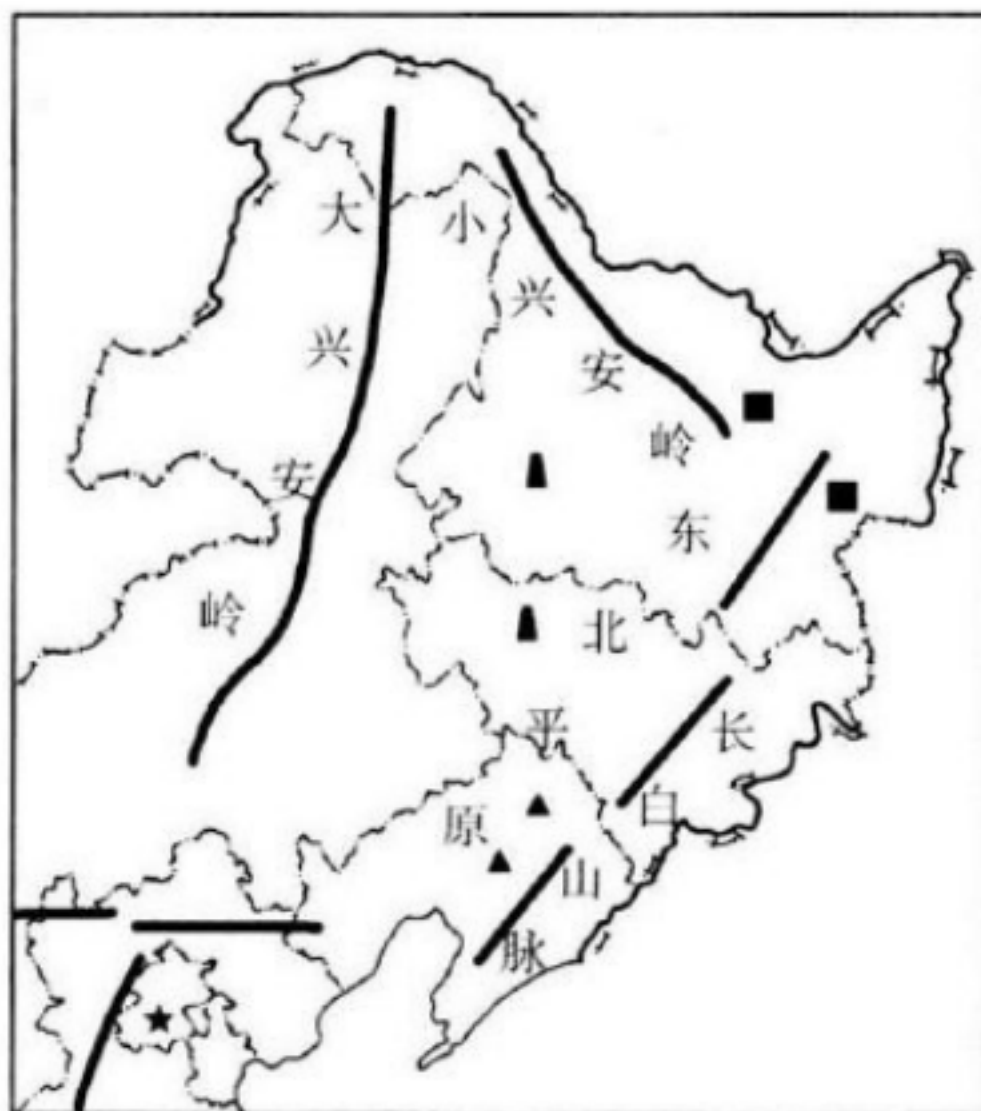
D.北京冬季气温低,不利于蔬菜生长,而大白菜是可以长期储存的蔬菜

(5)北京既是我国悠久的历史古城,又是现代化大都市,就怎样处理好古城的保护和现代化建设的关系提出你的合理建议。

24. 比较区域异同,阅读图文材料,回答下列题目。(10分)

材料一 东北地区是我国重要商品粮生产基地,也是我国重要的工业基地;长江三角洲地区自古以来就是我国著名的“鱼米之乡”,也是我国城市分布最密集、经济发展水平最高的地区;从2020年1月23日10时起,武汉全市公交地铁、轮渡、长途客运停运,机场火车站离汉通道暂时关闭,到2020年4月8日零时起,武汉市解除离汉离鄂通道管控措施,武汉封城历经76天,1814个小时。这是属于武汉封城的抗疫记忆。

材料二 东北地区、长江三角洲地区、长江中游城市群图。



(1)长江三角洲和东北地区都能种植的粮食作物是_____,但东北的品质更加优良,请分析原因。

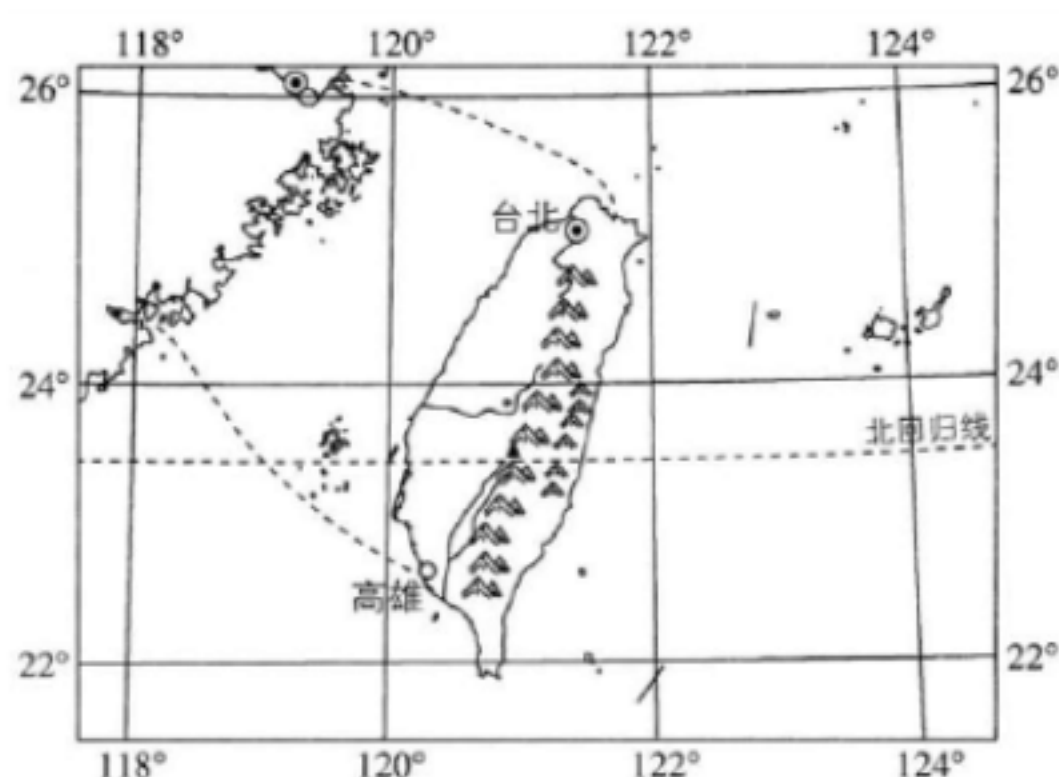
(2)与长江三角洲地区相比,东北地区和青藏地区发展种植业的最不利条件是_____,其中东北地区产生的原因是_____。

(3)长江三角洲的核心城市是_____(简称),与长江三角洲相比,东北地区发展工业的最大优势是_____。

(4)武汉市地处长江最大支流_____和干流的交汇处;武汉封城,离开武汉的火车站封闭,影响的南北铁路干线是_____。

(5)长江中游城市群在夏秋季节经常面临洪水灾害,原因一:长江在此段河道弯曲,排水不畅,尤其是 A_____河段,被称为“九曲回肠”;原因二:人们在 B_____湖围湖造田,导致该湖泊调洪能力下降。所以近年来人们采取了退耕还湖、裁弯取直等措施治理长江中游河段的洪水灾害。

25. 读台湾略图,回答问题。(13 分)



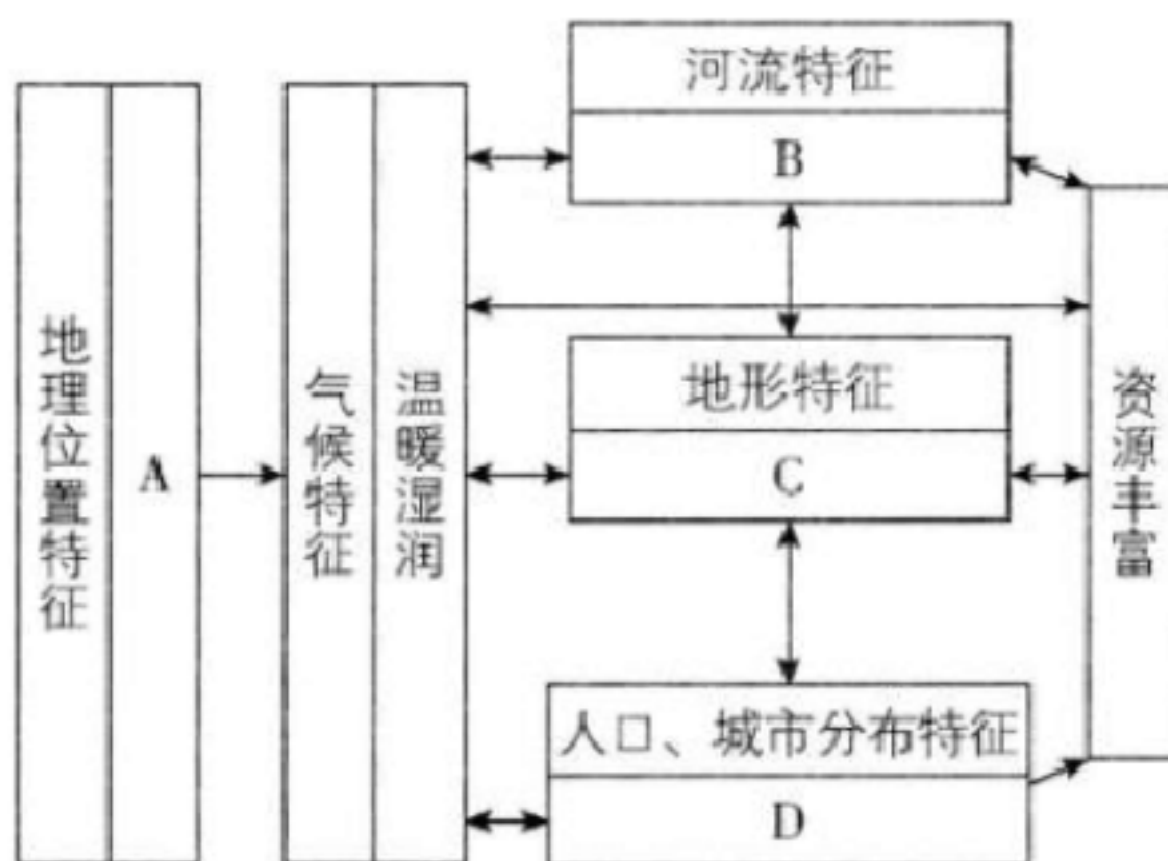
(1)台湾岛东临_____洋,西隔_____海峡,与祖国大陆_____省相望。

(2)台湾岛地处我国温度带中的热带、_____带,气候温暖湿润,盛产的水果主要有_____等。(写一种即可)

(3)台湾岛上的地形以_____为主,最高峰为_____,平原主要分布在_____部。

(4)台湾地处亚欧板块与_____板块的交界处,因而多火山、地震。

(5)认识台湾地理区域,既要了解区域内的自然和人文要素,还要明确各要素之间的内在联系。下面是某中学生构建的台湾岛的知识网络图,图中有几处空白,试着填一填



A_____ B_____

C_____ D_____

【答案】

1. B 2. A 3. D 4. B 5. B 6. B 7. D
 8. D 9. B 10. A 11. B 12. A 13. C 14. A
 15. D 16. A 17. B 18. D 19. A 20. C

21.

(1)青藏地区 西北地区 北方地区 南方地区 (2)秦岭 淮河 (3)甲 纬度位置 丙 海陆位置 (4)气候 夏季风 地势

22.

(1)俄罗斯 渤 黑龙江 (2)有大、小兴安岭和长白山脉分布于西、北、东三面 有黑龙江、松花江、乌苏里江、图们江、鸭绿江等河流分布 (3)三江 黑土地 一年一熟 (4)京哈线 哈尔滨 (5)满族、朝鲜族、蒙古族等。(任答三个即可) (6)辽中南 重

23.

(1)华北 内陆 渤海

(2)冀、津

(3)黄土 黄淮海(或华北) 居庸 东北

(4)D

(5)在城市建设和发展的同时, 注意保持旧城格局和原有风貌, 保护和修缮重要的古建筑、园林和特色街区, 扩大城市绿地和水网建设。为保护环境, 着重发展耗能少、耗水少、污染小的企业和高新技术产业。(言之有理即可)

24.

(1)水稻 纬度高, 气温低, 农作物生长时间长。

(2)热量不足 纬度高

(3)沪 煤、铁等矿产资源丰富

(4)汉江 京广线

(5)荆江 洞庭

25.

(1)太平 台湾 福建

(2)亚热 菠萝、香蕉、荔枝等(任选其一, 合理即可)

(3)山地 玉山 西

(4)太平洋

(5)A: ①海陆位置特征: 北邻东海, 南临南海, 东面直接濒临太平洋, 西面隔台湾海峡于福建省相望;②纬度位置: 北回归线穿过台湾省的中南部, 主要位于热带、亚热带。B: ①河流短小; ②水流湍急; ③水能丰富。C: ①以山地为主, 平原面积狭小; ②山脉呈东北—西南走向, 分布在台湾省的中东部, 平原分布在西部。D: 主要分布在台湾省的西部平原地区。

VV99.net

免费文档下载