

人教版八年级上册地理期末试卷(2)

一、选择题。

1、在某电视台举行的一档“地理知识竞赛”节目中，观众对其中几道题目作出了以下判断，其中不正确的是（ ）。

- A. 中国大部分地区位于北温带
B. 中国是一个海陆兼备的国家
C. 中国领土最西端在曾母暗沙
D. 中国陆地领土面积居世界第三

2、我国的三级行政区划是指（ ）。

- A. 省、市、县
B. 中央、省、县
C. 省、县、乡
D. 自治区、自治州、自治县

3、与澳门行政级别相同的城市是（ ）。

- A. 哈尔滨
B. 台北
C. 昆明
D. 香港

4、从以上资料中得出的结论，正确的是（ ）。

- A. 我国城镇人口多于乡村人口
B. 我国男性人口多于女性人口
C. 我国的人口总数正逐渐减少
D. 我国的人口总数已达最高峰

5、人口数量过多给我国带来的不利影响有（ ）。

- ①资源紧缺 ②劳动力不足 ③环境破坏 ④就业压力大 ⑤住房困难
A. ①②③
B. ①③④
C. ②③④⑤
D. ①③④⑤

6、我国地理学家胡焕庸提出了一条著名的人口地理界线是（ ）。

- A. 秦岭——淮河
B. 黑河——腾冲
C. 长城沿线
D. 0℃等温线

7、下列关于我国民族特征的说法，不正确的是（ ）。

- A. 共有 56 个民族
B. 各民族不论大小，一律平等
C. 各民族均匀分布
D. 民族分布“大杂居、小聚居”

读我国沿“北纬 30° 地形剖面图”，回答 8—10 题：

8、图中反映出的我国地势特征是（ ）。

- A. 东高西低
B. 西高东低
C. 中部高，四周低
D. 北高南低

9、图中，数字①所在的地形区是（ ）。

- A. 青藏高原
B. 内蒙古高原
C. 柴达木盆地
D. 黄土高原

10、从图可知，第三级阶梯上的主要地形是（ ）。

- A. 山地和高原
B. 盆地和高原
C. 平原和丘陵
D. 平原和盆地

11、我国山区面积广大。在开发利用山区的过程中，要特别注意（ ）。

- A. 做好生态环境建设
B. 加大矿产资源开发力度
C. 大力发展旅游业
D. 开垦荒地，增加耕地面积

12、图中等温线的延伸方向大致是（ ）。

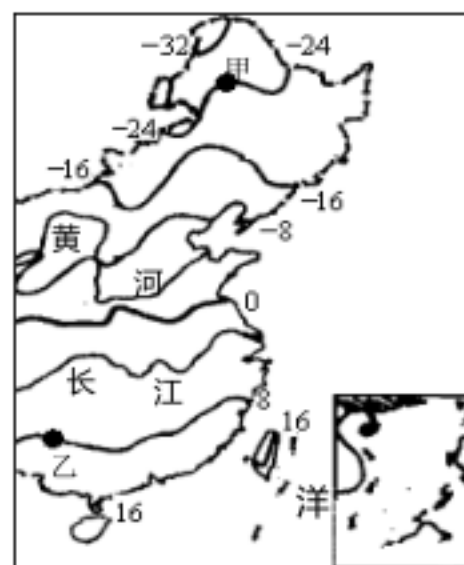
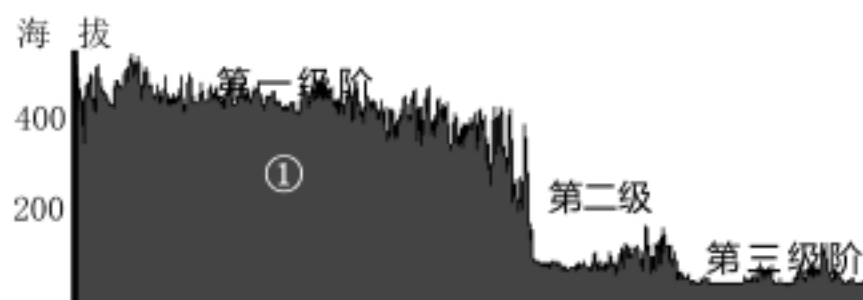
- A. 南——北
B. 东——西
C. 西北——东南
D. 东北——西南

13、图中，甲、乙两地的气温相差（ ）。

- A. 48℃
B. 40℃
C. 32℃
D. 24℃

14、关于长江和黄河的叙述，不正确的是（ ）。

- A. 都注入太平洋
B. 都属于外流河
C. 冬季都有结冰期
D. 汛期都集中在夏季



东部 1 月等温线图

- 15、从图可知，1月平均气温最高的地区是（ ）。
- A. 黑龙江 B. 内蒙古 C. 广东、广西 D. 海南、台湾

- 16、上述诗句中描述的景象出现在（ ）。
- A. 长江中下游地区 B. 华北平原 C. 云贵高原 D. 东北平原

- 17、关于该城市气候特点的叙述，正确的是（ ）。
- A. 冬长夏短，气候严寒 B. 降水丰富，主要集中于夏半年
- C. 终年炎热干燥 D. 冬季多雨，夏季少雨

- 18、该城市的气候类型是（ ）。
- A. 热带雨林气候 B. 温带大陆性气候 C. 亚热带季风气候 D. 高原山地气候

- 19、自然资源是人类生存和发展的基础。下列说法，不正确的是（ ）。
- A. 我国自然资源总量丰富，人均不足 B. 自然资源都是取之不竭、用之不尽
- C. 土地、阳光属于可再生资源 D. 应注意节约和保护自然资源

- 20、该地的土地利用类型是（ ）。
- A. 水田 B. 旱地 C. 林地 D. 草地

- 21、根据图中信息，推断正确的是（ ）。
- A. 属于平原地区 B. 年降水量稀少 C. 以水稻种植为主 D. 农业机械化水平高

- 22、解决我国水资源短缺问题的根本出路是（ ）。

- A. 兴建水库 B. 节约、保护水资源
- C. 跨流域调水 D. 提高水价

- 23、湖北、湖南、广东三省的简称分别是（ ）。
- A. 鄂、湘、粤 B. 赣、湘、粤 C. 鄂、渝、闽 D. 皖、黔、琼

- 24、铁路运输是我国最重要的运输方式，其主要优势在于（ ）。
- A. 机动灵活 B. 安全舒适 C. 快捷方便 D. 运量大、运输距离长

- 25、下列铁路干线中，没有经过成都的是（ ）。
- A. 成昆线 B. 成渝线 C. 陇海线 D. 宝成线

- 26、发展农业要因地制宜。下列做法中，不合理的是（ ）。

- A. 山区退耕还林，保持水土 B. 草原地区发展畜牧业
- C. 河流、湖泊周围发展渔业 D. 平原地区发展林业

- 27、关于成都地区地理特征的叙述，不正确的是（ ）。
- A. 位于亚热带 B. 属于湿润区 C. 冬冷夏热 D. 位于非季风区

- 28、下列工业部门中，属于轻工业的是（ ）。
- A. 食品、医药 B. 煤炭、石油 C. 电力、钢铁 D. 化工、机械

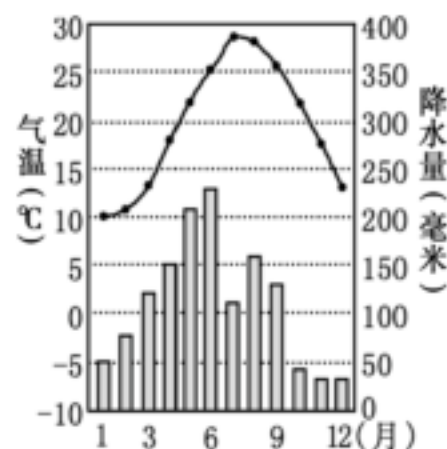
- 29、我国四大工业区中，以重工业为主的是（ ）。
- A. 京津唐 B. 辽中南 C. 沪宁杭 D. 珠江三角洲

- 30、发展高新技术产业依赖的主要条件是（ ）。
- A. 资源丰富 B. 环境优越 C. 科技力量雄厚 D. 交通便利

二、综合题。（包括3个大题，共40分）

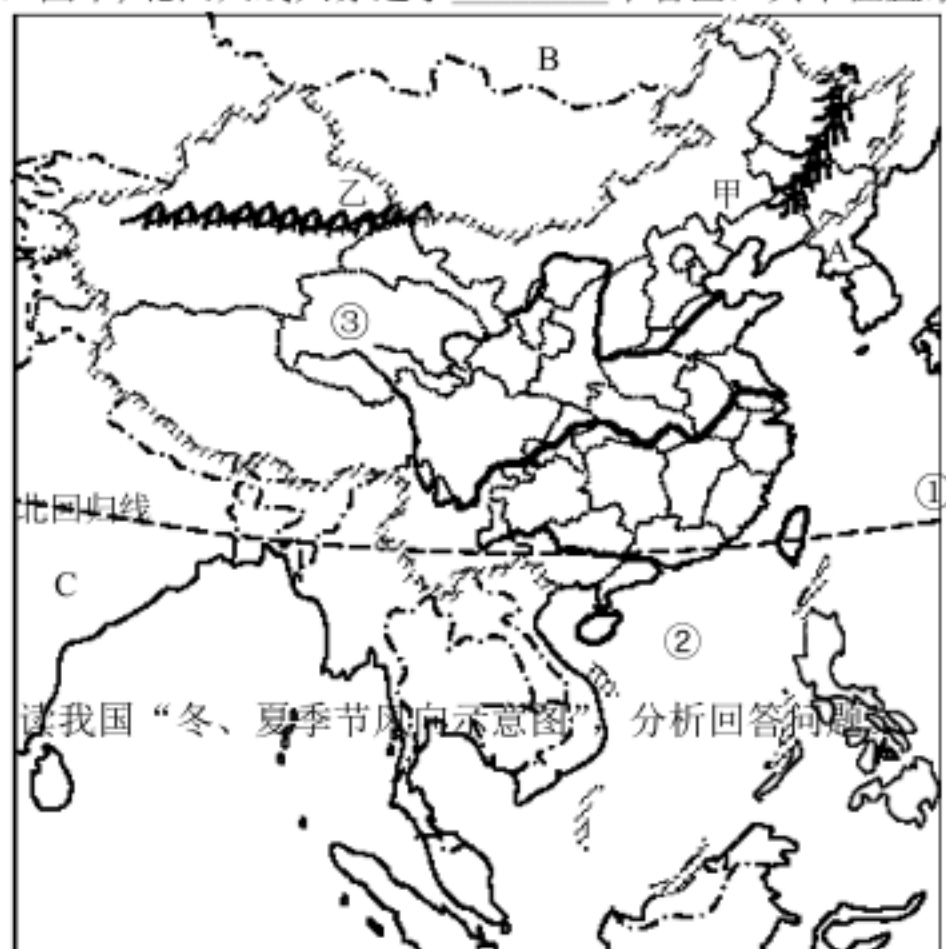
- 31、读“中国及周边地区略图”，分析回答问题。

- (1) 在图中适当位置填写出：新疆维吾尔自治区、西藏自治区、四川省。
- (2) 图中，字母A是_____（国家），B是_____（国家），C是_____（国家）。
- (3) 图中，数字①是_____（海洋），②是_____（海洋）。
- (4) 图中，甲是_____（山脉），乙是_____（山脉）。



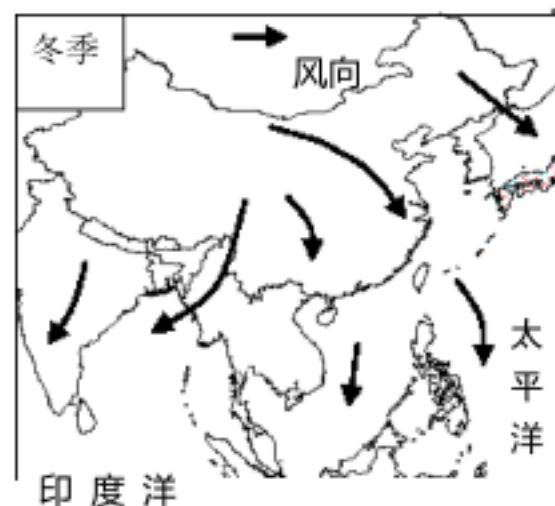
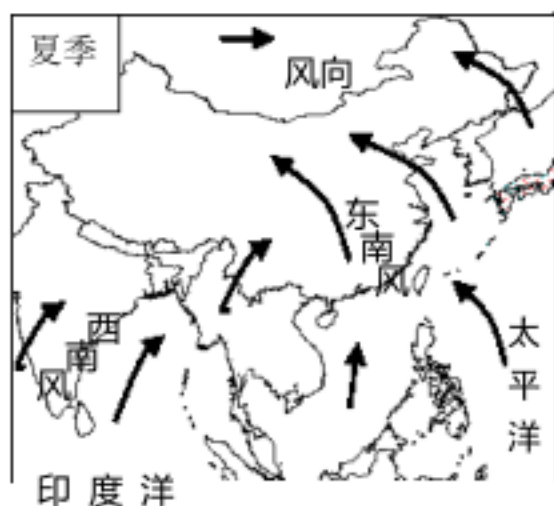
某乡村土地利用景观

- (4) 长江、黄河的发源地所在的省区③是_____，其行政中心是_____。
- (5) 图中,北回归线共穿过了_____个省区,其中位置最东的是_____。

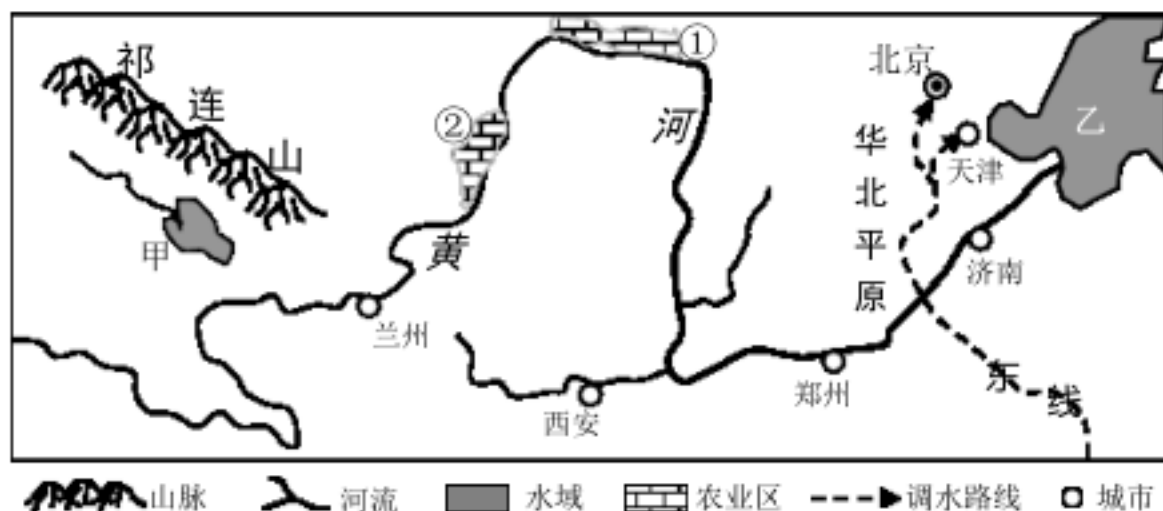


22、读我国“冬、夏季节风向示意图”，分析回答问题。

- (1) 受海陆位置和纬度位置的影响,我国大多数地区冬、夏季节盛行风向_____ (填:相同或相反),把这种风向随季节而显著改变的现象称为_____气候。



- (2) 据图可知,我国的降水集中在_____ (季节),其水汽来源于_____洋和_____洋。如果夏季风活动不稳定,容易导致的气象灾害是_____、_____。



- (3) 冬季,我国盛行_____风和_____风;如果冬季风活动强烈,容易形成_____ (灾害性天气);四川盆地受冬季风影响_____ (填:大或小),主要原因是_____。

23、读“黄河流域略图”，分析回答问题。

- (1) 图中祁连山的走向是_____，它是第_____级阶梯和第_____级阶梯的分界线。
- (2) 图中甲地分布有我国最大的湖泊是_____；乙是_____（海洋）。
- (3) 图中①和②是我国重要的农业区，它们因得益于黄河水的灌溉而成为“塞上江南”，其中①是_____平原，②是_____平原。
- (4) 为了解决北方缺水问题，我国正在实施的跨流域调水工程是_____，该工程的东线（如图所示）主要是满足_____、_____等城市的用水需求。
- (5) 图中兰州、西安、郑州、济南等四个城市分布的共同特征是_____。

人教版八年级上册地理期末试卷(2)参考答案

一、选择题。

1—5: CCDBD 6—10: BCBAC 11—15: ABCCD

16—20: ABCBA 21—25: CBADC 26—30: DDABC

二、综合题。

- 31、(1) 填图略 (2) 朝鲜、俄罗斯、印度
(3) 东海、南海 (4) 大兴安岭、天山
(5) 青海省、西宁 (6) 4个、台湾
- 32、(1) 相反、季风 (2) 夏季(夏秋); 太平洋、印度洋(顺序可交换); 水灾、旱灾(或旱涝灾害)
(3) 西北风、东北风(顺序可交换); 寒潮、小、盆地地形阻挡了外部冷空气的入侵
- 33、(1) 西北—东南(或东南—西北)、 第一级、第二级
(2) 青海湖、渤海
(3) 河套、宁夏
(4) 南水北调; 北京、天津
(5) 分布在黄河及其支流沿岸(或沿河分布)
(6) 黄河进入下游(华北)平原地区, 流速减缓, 河道变宽, 泥沙沉积, 河床抬高。

VV99.net

免费文档下载