

# 2025 西师大版数学一年级下册全册提升练习

原创作者 李想

## 第一单元《20 以内的退位减法》单元课时练习

### 《11 减几》课堂提升练

#### 一、课堂练习

##### 【基础题】

1. 看图填一填。




$$\square + \square = 11$$




$$11 - 3 = \square$$

$$11 - 8 = \square$$

2. 算一算，连一连



##### 【提高题】

3. 小胖家的果盘里有 6 个 ，妈妈又买来一些，现在果盘里有 11 个 。妈妈买来几个 ？

##### 【拓展题】

4. 课间操的时候，男生 11 人排成一列队伍，其中小明的前面有 8 个小朋友，他的后面有多少个小朋友？

#### 二、知识技能类作业

##### 【必做题】

1. 看图写算式。



# 2025 西师大版数学一年级下册全册提升练习

原创作者 李想

第一单元《20 以内的退位减法》单元课时练习

《11 减几》课堂提升练

## 一、课堂练习

### 【基础题】

1. 看图填一填。



$\square + \square = 11$

$11 - 3 = \square$

$11 - 8 = \square$

2. 算一算，连一连



### 【提高题】

3. 小胖家的果盘里有 6 个🍎，妈妈又买来一些，现在果盘里有 11 个🍎。妈妈买来几个🍎？

### 【拓展题】

4. 课间操的时候，男生 11 人排成一列队伍，其中小明的前面有 8 个小朋友，他的后面有多少个小朋友？

## 二、知识技能类作业

## 一、课堂练习

### 【基础题】

1. 看图填一填。



$\square + \square = 13$   
 $13 - 9 = \square$   
 $13 - 4 = \square$

2. 跷跷板。

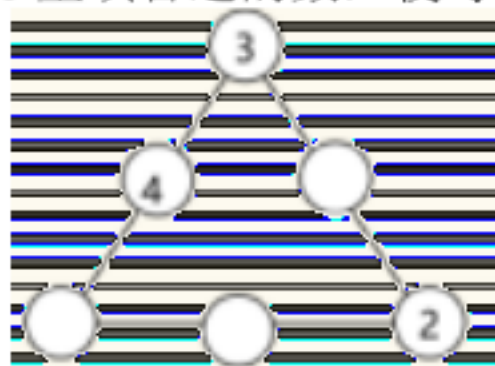


### 【提高题】

3. 小猫要钓 12 条鱼，已经钓了 8 条，小猫还要钓多少条鱼？

### 【拓展题】

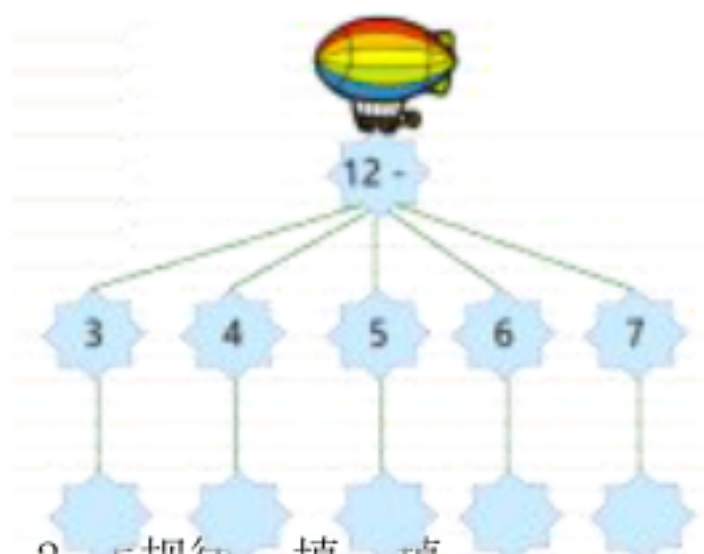
4. 在○里填合适的数，使每条边上的 3 个数的和都是 13




## 二、知识技能类作业

### 【必做题】

1. 试一试，你准行！




2. 找规律，填一填。



【选做题】

1. 填一填。

$$12 - 5 = \square$$



The image shows three cartoon children with speech bubbles containing math problems. The first child on the left has a speech bubble with two problems:  $10 - 5 = \square$  and  $2 + \square = \square$ . The middle child has a speech bubble with two problems:  $5 + \square = 12$  and  $12 - 5 = \square$ . The child on the right has a speech bubble with one problem:  $12 - 2 - 3 = \square$ .

2. 小军和小华共做了 13 个纸船，小华做了 7 个，小军做了多少个？  
“ $12 - 4$ ”还能解决生活中哪些问题？

### 三、综合实践类作业



# 《十几减9》课堂提升练

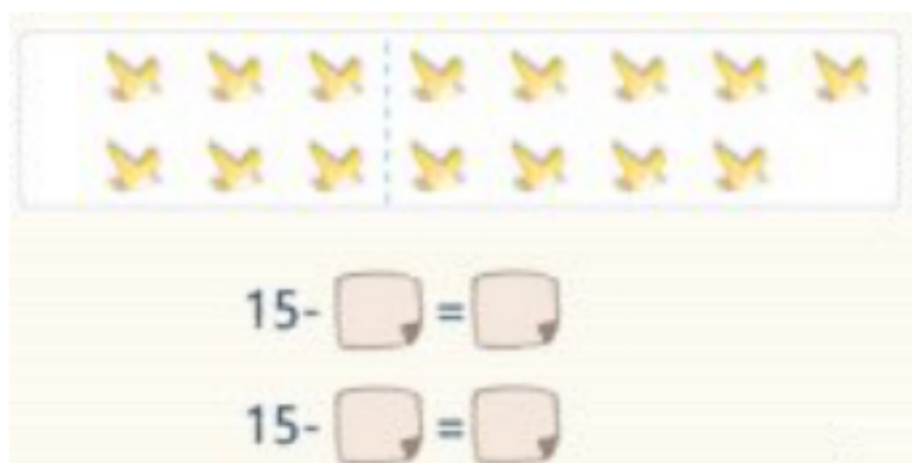
## 一、课堂练习

### 【基础题】

1. 算一算，连一连。

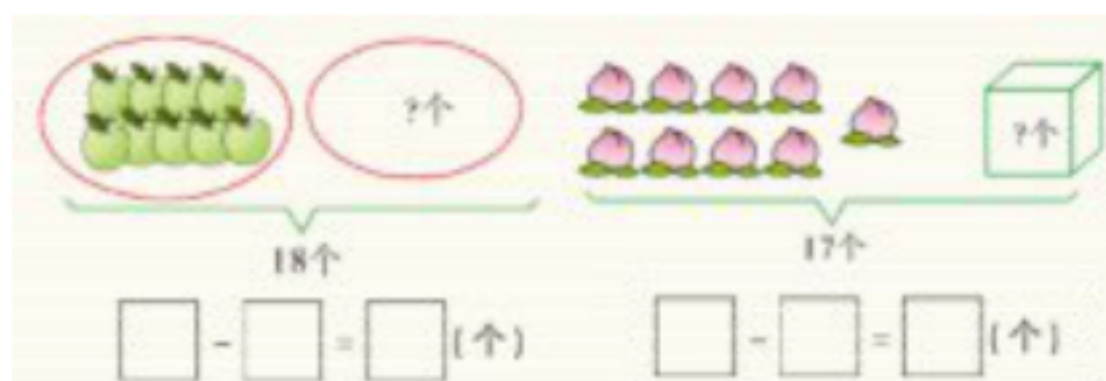


2. 填一填。



### 【提高题】

3. 看图列式。



### 【拓展题】

4. 操场上站着一排同学一共有 13 人，小红的左边有 9 人，小红的右边有几人？

## 二、知识技能类作业

### 【必做题】

1. 圈一圈，结一结。



2. 小红做了 12 朵红花，小明做了 9 朵。小明至少还要做几朵，才能超过小红？

【选做题】

1. 算一算，连一连。



2. 17 个同学在玩老鹰捉小鸡的游戏，已经捉住了 9 人，还有几人没捉住？

### 三、综合实践类作业

“15-9” 还能解决生活中哪些问题？

## 《做个减法表》课堂提升练

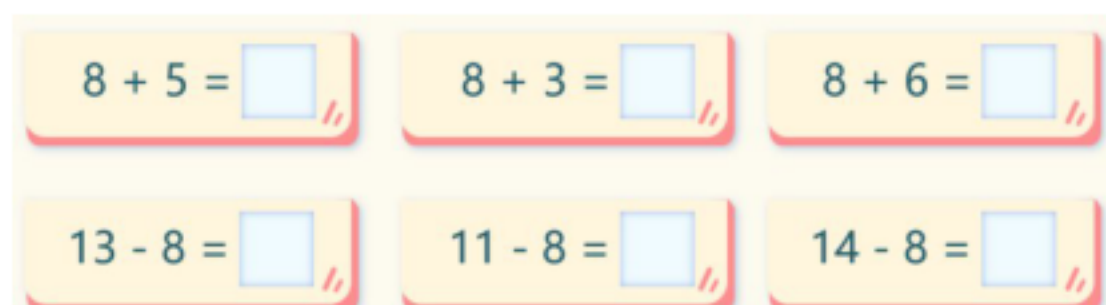
### 一、课堂练习

#### 【基础题】

1. 找出不同的算式。




2. 算一算，说说你发现了什么？



#### 【提高题】

3. 按要求写出符合要求的算式。



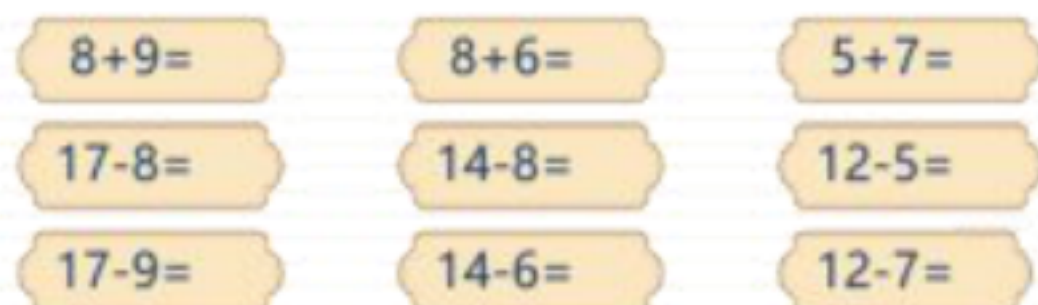
#### 【拓展题】

4. 13 只鸡排成一队，其中有 1 只大公鸡，从前面数，它站在第 8，它的后面有几只鸡？


### 二、知识技能类作业

#### 【必做题】

1. 填一填。



2. 把得数是 8 的涂上红色，把得数是 9 的涂上绿色。



【选做题】

1. 算一算。



2. 14 个同学站成一队做操，从前面数小明是第 6 个，从后数他是第几个？  
课后制作一个 20 以内退位减法的减法表

### 三、综合实践类作业

课后制作一个 20 以内退位减法的减法表。



# 《解决问题》课堂提升练

## 一、课堂练习

### 【基础题】

1. 填一填。


$$\square + \square = 12$$



$$12 - \square = \square$$

$$12 - \square = \square$$

2. 看图列式。



### 【提高题】

3. 原来有 14 条鱼，现在还剩多少条鱼？



### 【拓展题】

4. 看图写出算式。



## 二、知识技能类作业

### 【必做题】

1. 不计算，在得数大的算式后面画“√”。



2. 一共有 15 根胡萝卜。

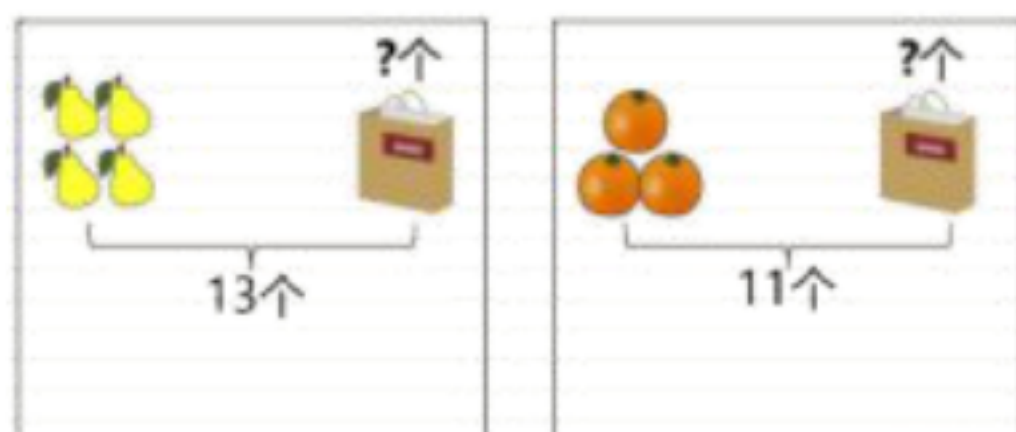


(1) 筐子里 9 个，筐外有多少个？

(2) 筐外有 6 个，筐子里多少个？

【选做题】

1. 看图写出算式。



2. 草地上有 12 只兔子，5 只鸡。跑走了 6 只兔子，还剩几只兔子？

三、综合实践类作业

找找生活中可以用减法解决的问题。

# VV99.net

免费文档下载