

初中地理（八年级下册）（中图版）

20天学习计划 第1天

日期：

姓名：

监督人：

世界上最大的洲

1. 面积: 亚洲是世界上____最大的大洲, 陆地总面积约____平方千米, 约占全球陆地总面积的 $\frac{1}{3}$ 。
2. 亚洲的地理位置
 - (1) 半球位置: 主要位于____和____;
 - (2) 纬度位置: 北部深入____内, 南部延伸到____以南, 跨____三个温度带。
 - (3) 海陆位置: 位于____东部, 东临____, 南临____, 北临____, 西与____相接。
3. 海岸线曲折: 亚洲海岸线绵长而曲折, 是世界上____最长的大洲。亚洲多半岛和岛屿, _____是世界上最大的半岛, _____是世界第三大岛屿。
4. 在亚欧大陆东面和东南面广阔的海洋上, 自北向南分布着一系列弧形群岛。这一带地壳不稳定, 常有____和____发生。



地势起伏大河流众多

5. 亚洲地形特征
 - (1) 地形: 复杂多样, 以____和____为主。
 - (2) 地势: ____。____和____耸立于亚洲的中南部, 构成亚洲地形的“屋脊”; ____多分布在大陆边缘的大河中下游地区。
6. 河流特点
 - (1) 河流众多: 亚洲是世界上大河最多的大洲, 被称为____; 河流大多发源于____和____, 呈____向四周分流入海。亚洲第一长河是____, 亚洲流经国家最多的河流是____。
 - (2) 内流区面积广: 约占其总面积的____
 - (3) 湖泊众多: ____是世界上最深、蓄水量最大的____, ____是世界上最大的湖泊, ____是世界上盐度最大的咸水湖。

初中地理（八年级下册）（中图版）

20天学习计划 第2天

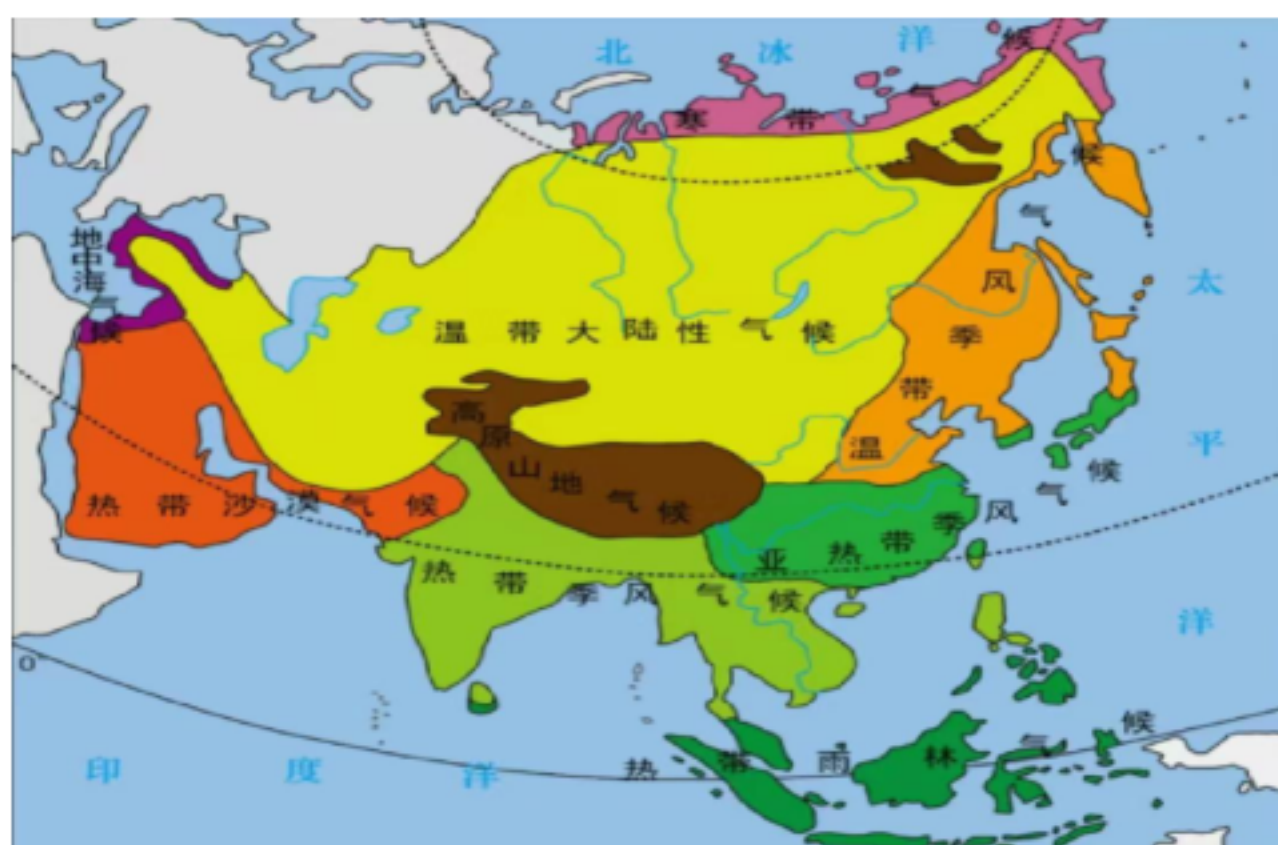
日期：

姓名：

监督人：

气候复杂多样

1. 亚洲幅员辽阔，地跨____、____和____；大陆东西宽广，内陆距海岸最远超过____千米；地形复杂，地表起伏很大。受____、____和____等因素的综合影响，亚洲气候复杂多样，季风气候显著，____分布广。
2. 季风气候显著：亚洲地处世界最大的大陆——____，东临世界最大的大洋——____，南临____，这种海陆分布形势，使亚洲____和____成为世界上典型的季风气候区。由于降水不稳定，该地区容易出现____。
3. 温带大陆性气候分布广：该气候特点是____，____，____，气温____，降水集中在____。



众多的人口

4. 人口数量：亚洲人口总数约 43.9 亿 (2015年)，约占世界总人口的 3/5，是世界上____最多的大洲，有6个国家人口超过1亿。
5. 人口分布
 - (1) 人口稠密地区：____、____、____、____、____。这些地区自然条件优越、开发历史悠久、水陆交通便利、____较为发达。
 - (2) 人烟稀少地区：大多位于自然环境较为恶劣的____、____和____。
6. 人口增长：亚洲人口____高于世界平均水平。从20 世纪后半叶开始，中国、印度和东南亚一些国家推行____，控制人口增长。
7. 亚洲的人种：亚洲是____人种的故乡，但在____和____则主要分布着白色人种。

初中地理（八年级下册）（中图版）

20天学习计划 第3天

日期：

姓名：

监督人：

古老的文明

1. _____是世界古代文明的摇篮，在_____、_____和_____先后出现了灿烂的古代文明。在漫长的历史进程中，这些文明通过不同的途径向外传播，为世界文明发展作出了巨大的贡献。

2. 亚洲是世界三大宗教的发祥地，也是_____、_____和_____等民族宗教的发祥地。宗教对一些国家的政治、经济和文化发展有着重要的影响。



经济发展不平衡

3. _____以后，亚洲许多国家先后摆脱了_____。半个多世纪以来，这些国家根据自身条件，选择了适合_____的发展道路，不断推进经济发展。



4. 亚洲各国经济发展水平存在显著差异。亚洲有的国家是_____，如日本；但大部分国家是_____。亚洲各国人均国内生产总值相差悬殊，人均国内生产总值最多与最少的国家相差 _____倍。

初中地理（八年级下册）（中图版）

20天学习计划 第4天

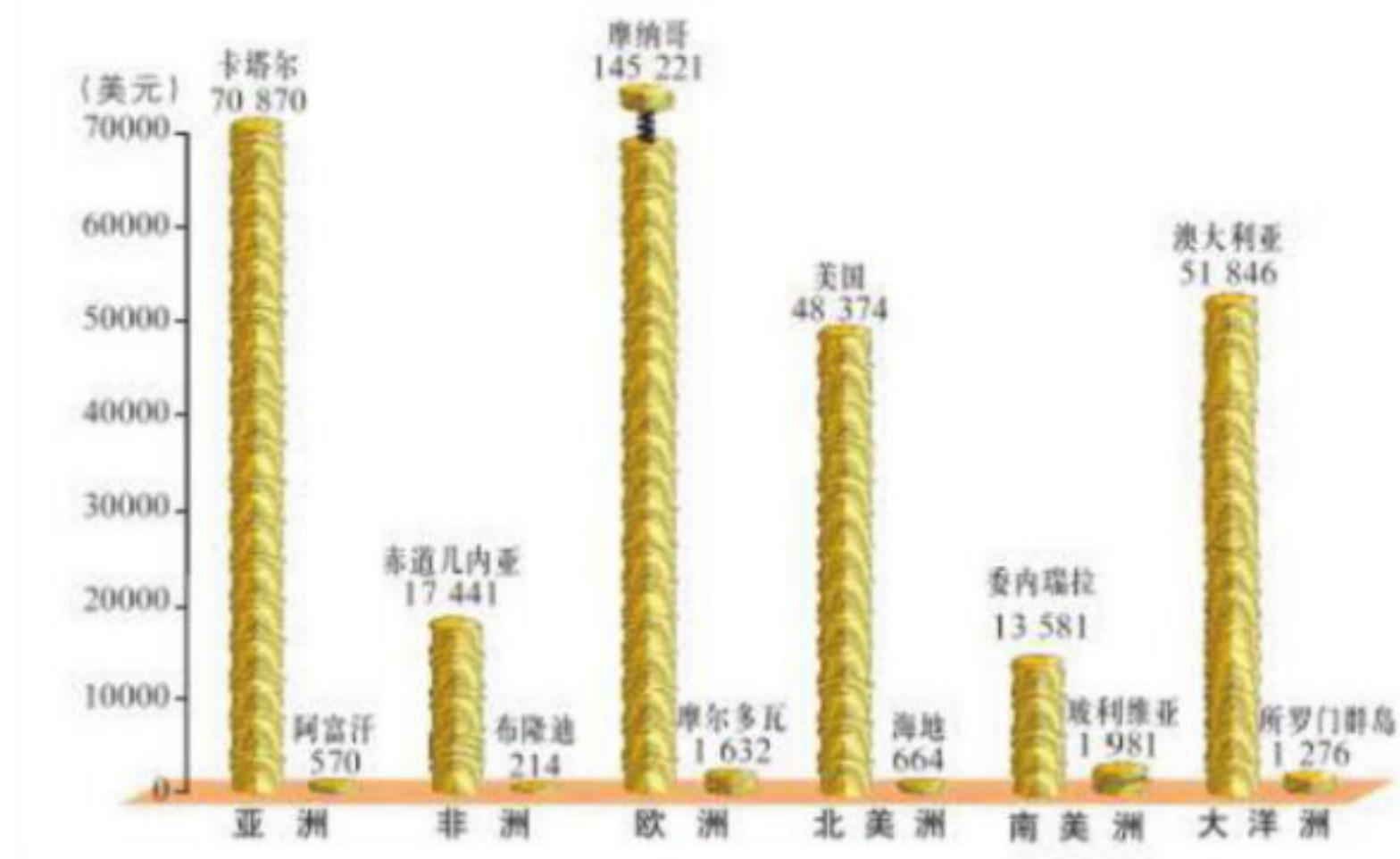
日期：

姓名：

监督人：

经济发展状况差异

1. ____、____经济发展迅速，东南亚一些国家经济发展较快，西亚的产油国依靠出口____，成为高收入国家：
2. 亚洲也有部分国家受____和____的限制，经济发展缓慢，仍未摆脱贫；还有国家饱受战乱之害，政局动荡不安。
3. 亚洲各国国情各异，发展水平不一，文化多样。正是这种____和____，亚洲各国需要加强交流，寻找符合各国特点的合作途径与方法，发挥各国经济的____，实现共同繁荣。
4. 亚洲作为世界上经济发展最迅速的地区之一，在世界经济格局中占有十分突出的地位。如何在经济发展、人口增长的情况下，做到____发展，是亚洲各国面临的一项重要而艰巨的任务。



世界六大洲人均国内生产总值最多和最少的国家（2010年）

东南亚

重要的地理位置

5. 位置范围：东南亚位于亚洲的____，由____和____两大部分组成。中南半岛与中国山水相连，主要有____、____和____等国家。马来群岛由2万多个岛屿组成，主要有____、____等国家。

初中地理（八年级下册）（中图版）

20天学习计划 第5天

日期：

姓名：

监督人：

重要的地理位置

1. 位置重要性



(1) 东南亚的位置：地处A____与B____、C____与D____的“十字路口”，是世界海上运输的枢纽之一。

(2) 马六甲海峡的位置：马来半岛与苏门答腊岛之间的E____，是沟通____与____的天然水道，也是欧洲、____、西亚和南亚通往东亚和东南亚最便捷的通道，是世界海上运输的____。

2. 中南半岛地形特点：____。在河流的下游平原和三角洲地区，地势平坦，土壤肥沃，灌溉便利。____是东南亚最长的河流，发源于中国境内，向南注入____。

3. 多火山、地震：位于____地震带和____地震带交汇处，火山、地震频发。____是世界最大的群岛国家，也是世界上____最多的国家之一。



D 印度尼西亚的火口湖

初中地理（八年级下册）（中图版）

20天学习计划 第6天

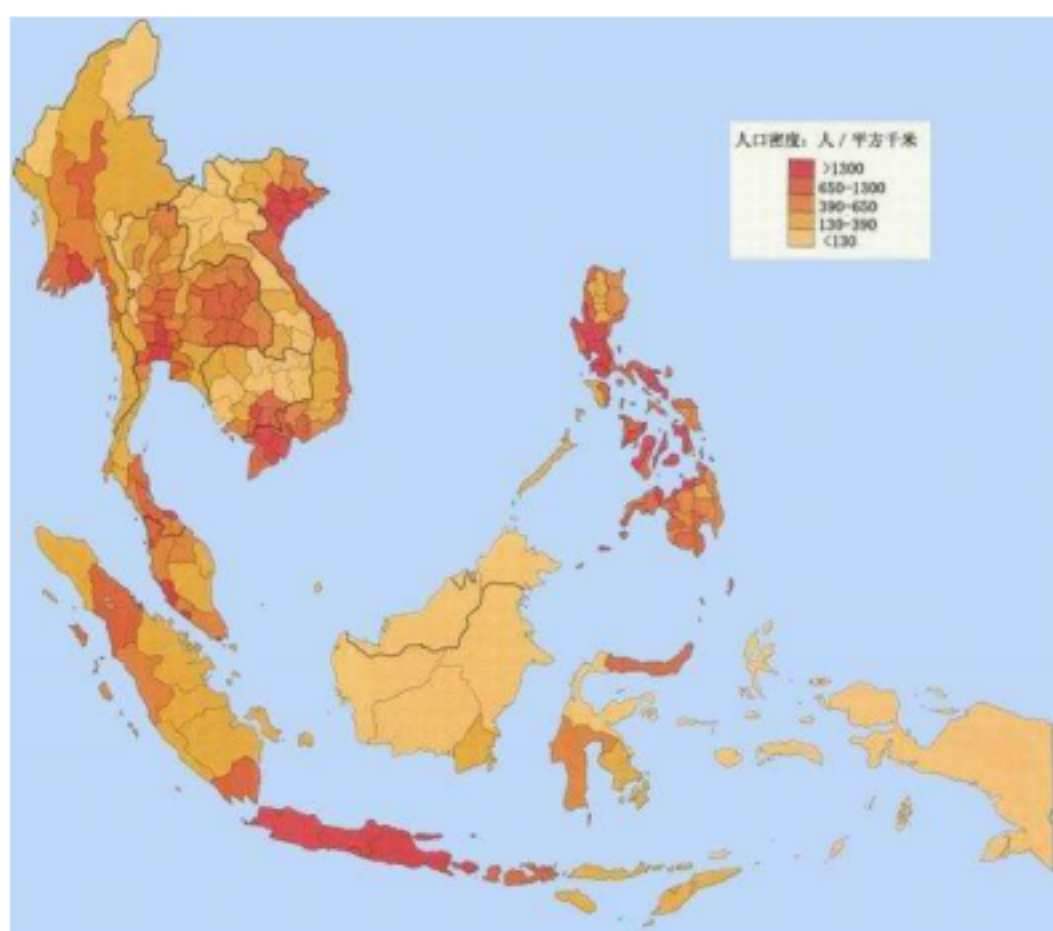
日期：

姓名：

监督人：

人口和城市分布

1. _____是世界上人口比较稠密的地区之一。东南亚的人口多分布在_____和_____, 城市也主要分布在这里。



2. 东南亚的人种以_____人种为主。东南亚是世界上_____和_____最集中的地区之一，目前有3300多万人，占世界外籍华人和华侨总数的70%以上。

湿热的气候 丰富的物产

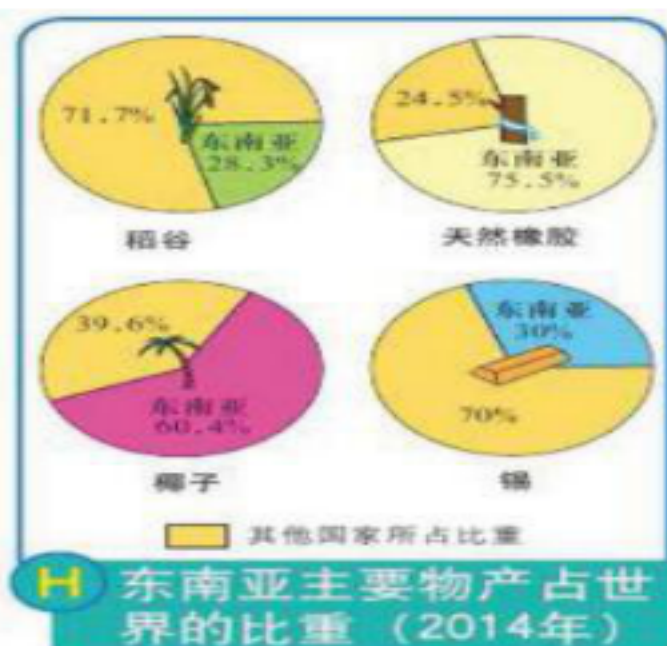
3. 东南亚大部分地处_____, 全年高温，降水丰沛。_____和_____属于热带雨林气候，终年高温多雨；中南半岛大部分和菲律宾群岛北部属于_____, 全年高温，年降水量大，有明显的旱季和雨季。

4. 丰富的物产

(1) 热带经济作物：_____等的产量、出口量均居世界前列。

(2) 粮食作物：东南亚是_____重要种植区。_____和_____是重要的农耕区。

(3) 矿产资源：是_____和_____的重要产区。



初中地理（八年级下册）（中图版）

20天学习计划 第7天

日期：

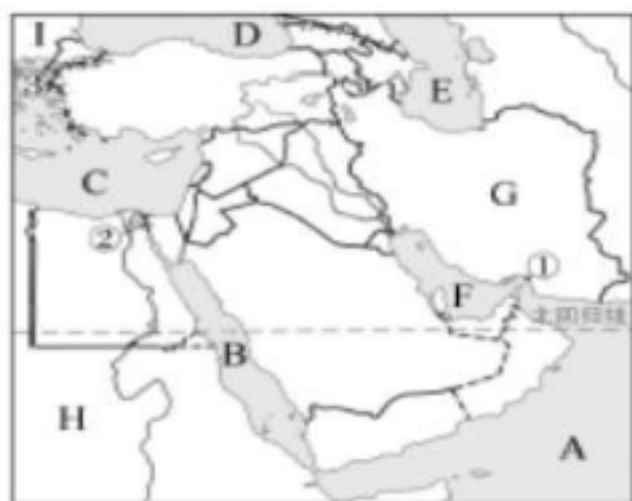
姓名：

监督人：

发展不平衡的经济

1. 发展较快的国家：_____；
2. 比较落后的国家：_____。
3. 因地制宜发展经济：泰国、马来西亚、文莱等国发展了_____；泰国、马来西亚、新加坡发展_____。

“五海三洲”之地



4. 中东地处 G _____、H _____、I _____三大洲的交界地带，介于 A _____、B _____、C _____、D _____、E _____之间，被称为“五海三洲”之地。
5. 战略要地：F _____，① _____，② _____，③ _____
6. 位置的重要性：中东是沟通_____和_____、连接东方和西方的要道。

丰富的石油资源

7. 地位：中东_____储量极其丰富、_____和_____在世界上占有非常重要的地位。
8. 分布：主要分布在_____。
9. 重要产油国：沙特阿拉伯、_____、科威特、_____、伊朗、_____、阿曼和巴林等。
10. 输出：主要输往_____以及_____、_____等国家。
11. 经济差异：石油资源分布差异，贫富悬殊。高收入国家主要有_____等，世界上贫困国家之一的_____也位于此。

严重匮乏的水资源

12. 水资源匮乏：中东自然条件恶劣，大部分地区气候_____，沙漠广布，河流_____、缺水严重。_____有“中东水塔”的称号。
13. 人口分布：_____、_____及有_____的地方。
14. 解决水资源短缺的途径：_____。

初中地理（八年级下册）（中图版）

20天学习计划 第8天

日期：

姓名：

监督人：

种植业和畜牧业

1. 种植业：（1）由于气候炎热干燥，中东地区农业以_____为主。灌溉农业主要分布在_____、_____。

（2）主要农作物有_____、_____、_____等。

2. 畜牧业：以_____为主。

3. 手工业：土耳其、伊朗等国_____闻名世界。



不平静的中东

4. 居民：中东地区是一个_____聚居区，除伊朗、土耳其和以色列等国家外，其他国家的居民以_____为主。阿拉伯人属_____人种，_____和_____是他们共同的语言和文字。

5. 宗教信仰：中东是_____、_____和_____的发源地，这三大宗教都把耶路撒冷奉为“圣城”。阿拉伯人大部分信仰_____。

6. 冲突激烈：_____冲突、_____冲突及_____冲突非常激烈。

欧洲西部位置与范围

7. 位置：欧洲西部是指欧洲的西半部，三面临海（北临_____、西临_____，南临_____），好像亚欧大陆向西伸出的大半岛。

8. 区域划分：欧洲西部分为_____、_____、_____和_____。大多数属于发达国家。

9. 半岛和岛屿：南欧指_____、_____和_____及其附近的一些岛屿，西欧指欧洲西部濒临大西洋的地区和附近的岛屿；北欧指54°N以北的斯堪的_____、_____和_____及其他一些岛屿；中欧指北起北海和波罗的海，南到阿尔卑斯山脉的欧洲中部地区。



初中地理（八年级下册）（中图版）

20天学习计划 第9天

日期：

姓名：

监督人：

深受海洋的影响

1. 海岸线曲折，有许多优良港湾：荷兰的_____是世界上最大的海港之一。



2. 提供便利的航运条件

(1) 北大西洋航线：美国东海岸-_____-英国-波罗的海。

(2) 亚欧航线：_____-地中海-苏伊士运河-_____-东南亚-_____-澳大利亚。

(3) 江海联运：_____和_____是主要的内河航线，通过内河航运与海上沟通。

3. 海洋性气候显著：欧洲西部_____显著，起决定作用的因素是_____和_____。

4. 渔业发达：海洋还为欧洲西部沿海国家提供了大量渔产品，特别是_____等沿海国家。

发达的经济

5. 发展条件：欧洲西部是近代科学文化与技术_____的地方。

6. 经济发达：_____是世界经济强国。

7. 工业带：西起____，东到____，北____的南部，南到_____。

发展方向

8. 以依靠煤、铁等资源的重工业和纺织工业为主，转向以依靠高新技术的_____为主。

9. _____发达，促进了经济的不断发展。环境优美，人文景观丰富，吸引了世界各地的游客。

初中地理（八年级下册）（中图版）

20天学习计划 第10天

日期：

姓名：

监督人：

欧洲联盟

1. 欧洲联盟简称____，是当今世界____最高的区域____组织。

2. 目的：为了促进本地区的____，各国在自身发展的同时彼此加强合作。

3. 成员国：截至 2013 年1月，欧盟共有____ 个成员国

（注意：2020年1月，欧盟正式批准了英国“脱欧”）。

4. 影响及作用：推动了欧洲国家之间的____合作。对整个世界都起着不可替代的作用。2010年，欧盟各国的进出口贸易总额居世界____。



撒哈拉以南非洲位置与范围

5. 地理位置：（1）纬度位置：撒哈拉以南非洲地跨____，绝大部分位于南、北回归线之间的____地区。

（2）海陆位置：撒哈拉以南非洲西临____及边缘海几内亚湾，北临____，东临____，东北临____。

6. 范围：撒哈拉以南非洲是指____中部以南的非洲大陆，以及____等岛屿。

撒哈拉以南非洲是____的故乡，也是目前世界上最大的黑色人种聚居地。



热带气候与热带自然景观

7. 气候类型

（1）热带雨林气候：主要分布在____和____，特点是____。

（2）热带草原气候：主要分布在热带雨林气候的____和____，特点是全年高温，降水季节差异明显，分为明显的____。

8. 气候与自然景观分布特点

（1）以____为对称轴呈南北对称分布。（2）地势较高的高原、山地地区气候____明显。

9. 撒哈拉沙漠面积不断扩展，____土地荒漠化严重。

初中地理（八年级下册）（中图版）

20天学习计划 第11天

日期：

姓名：

监督人：

高原为主的地形

1. 地形类型：地形以____为主，起伏较和缓。

2. 地势变化：_____。

3. 主要地形区

(1) 乞力马扎罗山：位于_____，是非洲_____，是一座__火山。

(2) 东非大裂谷：由非洲板块与印度洋板块_____形成的。

世界矿产宝库

4. 地位：撒哈拉以南非洲矿产资源种类多，储量丰富，_____等的储量居世界首位。

5. 分布：矿产资源主要分布在_____以南地区、几内亚湾沿岸、_____和_____等地。

6. 主要矿产及生产国

(1) 金刚石：主要产于刚果民主共和国和南非。_____有“中非宝石”之称，____金刚石产值和出口量居世界前列。

(2) 黄金：南非的_____均居世界前列。

7. 铜：_____的储量、产量和出口量均居非州前列，有_____之称。

努力改变单一经济

9. 经济特点：以_____为主的单一经济。历史根源是长期遭受_____。

10. 经济发展措施：

(1) 探索适合本国国情的经济发展道路，充分利用本国的资源，发展多种_____生产，改变单一经济结构，同时引进_____和____发展民族工业。

(2) 大力加强撒哈拉以南非洲各国之间的合作，促进经济的共同繁荣。例如坦赞铁路的修建，使地处内陆的赞比亚可以利用_____来发展进出口贸易。

初中地理（八年级下册）（中图版）

20天学习计划 第12天

日期：姓名：监督人：

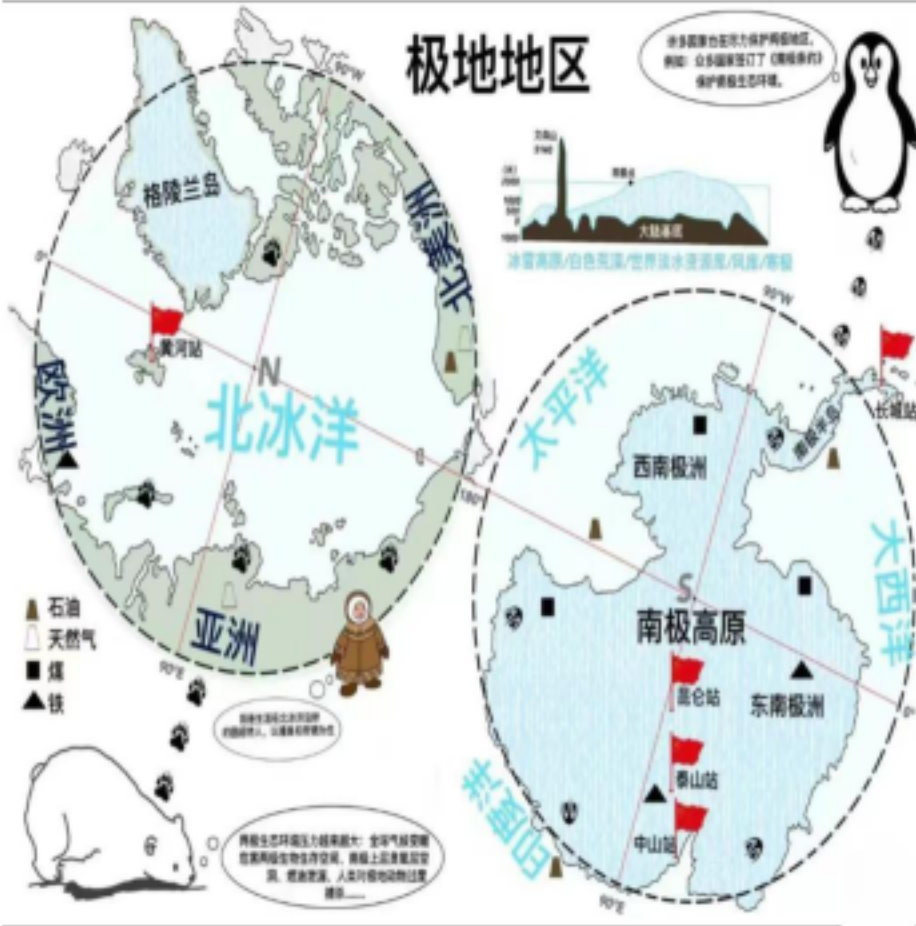
冰雪新天地

1. 北极与南极：

比较项目	北极地区	南极地区
位置和范围	北极地区指_____的区域，主体是北冰洋，大部分属于国际公共海域	南极地区指_____以南的区域，包括南极大陆及其周边水域
地表特征	以_____为主	以_____为主
气候	气候寒冷	地球上_____的地方
动植物	植物有地衣、苔藓等；动物有_____等	植物有地衣、苔藓；动物_____、_____、_____等
居民	_____和_____人	无常住人口
矿产资源	煤炭	石油、____、____、金、银

对极地地区的开发、利用和保护

2. 天然实验室：极地地区的自然环境，基本上保持着人类发现以前的原始面貌，为科学家进行气象、冰川和地质等方面的研究提供了_____。
3. 南极科学考察站：中国于 1985 年和 1989年分别在南极地区建立了_____和_____，于 2009年在南极内陆冰盖最高点建立了_____，为南极地区的研究和保护作出了贡献。
4. 和平利用极地地区：各国应共同遵守_____等保护极地地区。



初中地理（八年级下册）（中图版）

20天学习计划 第13天

日期：

姓名：

监督人：

亚洲东部的岛国



1. 位置: 日本位于____东部、____的西北部。
2. 组成: 日本领土由北海道、____、九州、四国四个大岛及附近许多小岛组成。
3. 地形: 日本是个____的国家, _____约占全国陆地面积的3/4, _____面积狭小, 仅分布在_____。
4. 多火山、地震: 日本地处_____火山地震带, 地壳很不稳定。_____是日本最高的山峰, 也是著名的活火山。
5. 气候: 日本属_____气候和_____气候, _____气候特征明显。夏秋季节日本太平洋沿岸多_____。
6. 资源: 日本陆地面积的2/3被_____, _____资源丰富。

岛国经济

7. 农业: 日本为了适应_____的特点, 农业机械注重_____, 并且采取科学的耕种方法, 实行_____, 单位面积产量很高。
8. 渔业: 海洋捕捞量居世界前列, _____是世界四大渔场之一。
9. 工业
 - (1) 工业特点: 日本经济_____, 原因是日本工业所需的原料、燃料需要大量_____, 产品大量_____。
 - (2) 工业分布: 日本工业主要分布在_____沿岸, 因为这里海岸线曲折, 良港多, 海上交通便利, 利于发展对外贸易。
 - (3) 日本的贸易伙伴: _____等。
 - (4) 对外贸易港口: _____、_____。

文化交流

10. 受外来文化影响
 - (1) 受古代中国文化影响: 文字、和服、茶道、花道等衣食住行深受_____影响。
 - (2) 受欧美思想文化影响: 在引进_____的同时, 还积极吸收_____。
11. 充分展现其民族特性: 如_____, _____等。

初中地理（八年级下册）（中图版）

20天学习计划 第14天

日期：

姓名：

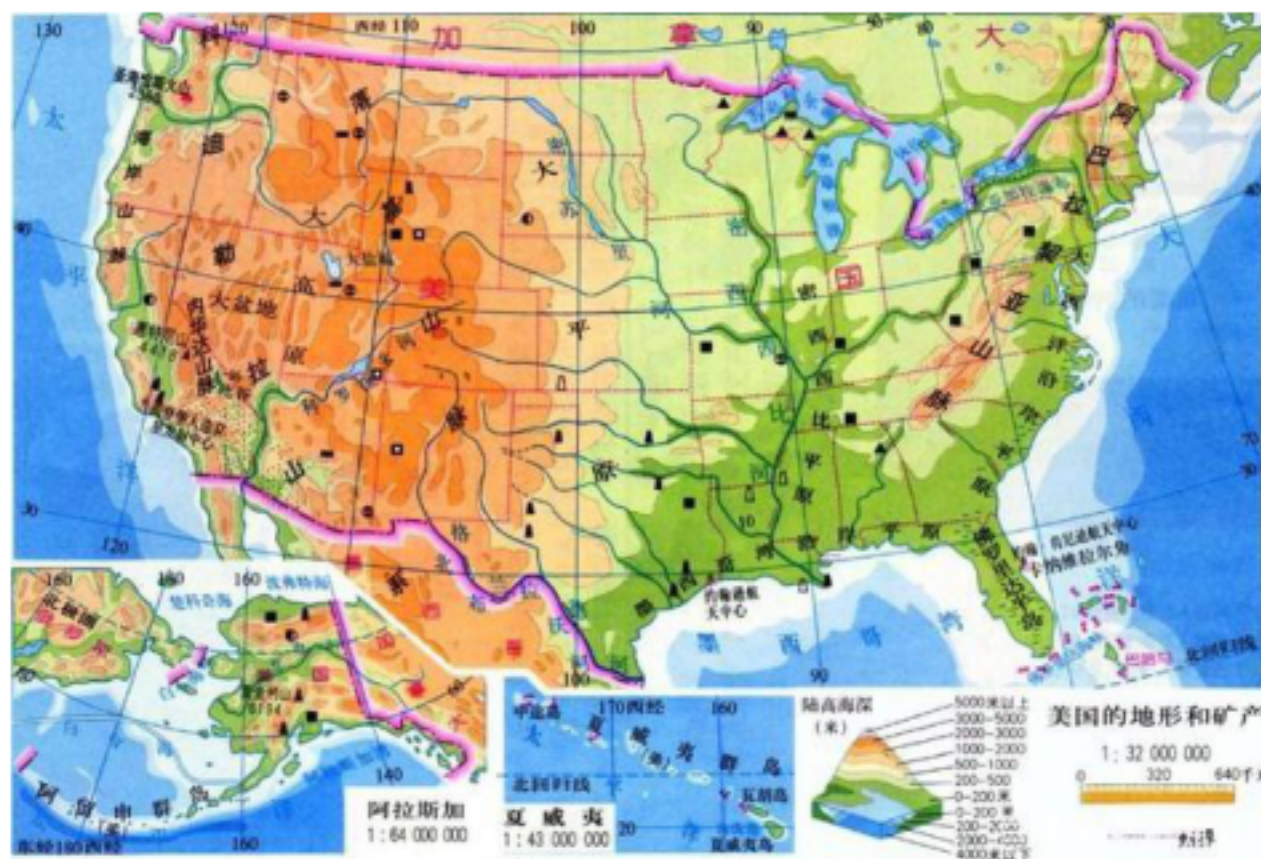
监督人：

美国领土组成

1. 位置:本土位于北美大陆中部,东、西、南分别濒临____、____、和____,北与____接壤,西南与____毗邻。

2. 组成:陆地面积 937 万平方千米,除本土外,还包括____和____两个州。

地形分三部分:西部____、东部____和中部____。 地势:东西____,中间____。



多元文化的交融

3. 移民国家:美国是种族和民族都很复杂的移民国家,有“____”的称号。

4. 居民构成:居民主要是____的后裔,非洲黑人的后裔,原住民是____。截至 2015 年,美国人口达到

5. 22亿,____人种约占80%,____人种约占 13%。

第一经济大国

6. 经济地位:美国的经济实力和综合国力在世界上均居____。

7. 农业

(1)世界上最大的商品粮生产国。美国农业实现了地区生产的____(形成了一些农业带和农业区)和____(效率高,产量大)。

(2)美国农业带和农业区:____、____、____、____、____和____、混合农业区、地中海式农业区、亚热带作物带等。

初中地理（八年级下册）（中图版）

20天学习计划 第15天

日期：姓名：监督人：

工业

1. 三大工业区

_____工业区	发展最早	钢铁、机械、汽车、化学等
_____工业区	新兴工业	石油、航空航天、电子等
_____工业区	新兴工业	飞机制造、石油化工、以信息技术为主的高新技术产业

2. 主要城市

- ①_____：著名的“硅谷”，西部最大的港口，美国华人最多的城市。
- ②_____：美国第二大城市，最大的飞机制造和石油化工中心。
- ③_____：美国_____城市，_____海港。
- ④_____：首都，美国的政治、文化中心。
- ⑤_____：美国南部最大的城市和石油化工基地，航天中心所在地。
- ⑥_____：美国第三大城市和最大的钢铁工业基地。

高新技术产业

3. _____已成为美国经济支柱产业。



初中地理（八年级下册）（中图版）

20天学习计划 第16天

日期：

姓名：

监督人：

独占一个大陆的国家

1. 地理位置：澳大利亚位于_____，东临_____，西临_____。

2. 领土组成：领土包括_____、_____和附近一些小岛，是世界唯一独占_____的国家。

3. 面积：澳大利亚面积 769万平方千米，位居世界第六位，是大洋洲面积_____。

4. 人口：澳大利亚有 2 397 万人(2015 年)，地广人稀，92%为_____人种。



区域差异明显

5. 澳大利亚地形分三部分：西部_____、东部_____（大分水岭）和中部_____。

地势：_____。

(1) 西部高原

① 面积广阔，地势不高，分布着_____（世界上最大的独石山——_____）。

② 气候_____（地处南回归线两侧，降水少）。

国人烟稀少。

(2) 东部_____

① 东北部：全年高温多雨，为_____气候。

② 东南部：气候_____，有狭窄沿海平原，多_____，开发_____，人口城市_____。

(3) 中部平原：气候干旱，河流少，有丰富地下水，被称为_____。适宜发展_____，_____的产量和出口均居世界首位，被称为“_____”。



初中地理（八年级下册）（中图版）

20天学习计划 第17天

日期：

姓名：

监督人：

独特的动植物和自然景观

1. 具有古老性和特殊性的原因：与其他大陆分离，长期_____；长期_____。
2. 特有动植物：桉树、_____、树袋熊、鸸鹋、_____等。
3. 大堡礁：位于澳大利亚东北部的珊瑚海，是世界上最大的_____。

“坐在矿车上的国家”

4. 经济地位：澳大利亚是南半球_____的资本主义国家。
5. 矿产资源：矿产资源品种多、储量大、质量好，被称作“_____”。
6. 经济发展：目前_____已成为澳大利亚新的支柱产业。
7. 主要城市：_____—首都，悉尼—全国最大的_____和_____，_____—全国第二大城市。



巴西地理位置

8. 位置
 - (1) 纬度位置：大部分位于_____和_____之间，属于_____带。
 - (2) 海陆位置：位于南美洲_____，东临_____，是南美洲面积_____的国家。
 9. 地形：以_____和_____为主，A 是世界上最大的平原——_____，B 是世界上最大的高原——_____。
- 地势：_____。



亚马孙河和亚马孙平原

10. 亚马孙河：发源于_____，向东注入_____，是世界上_____最大、_____最广的河流。河流落差小，_____十分便利。
11. 亚马孙平原：是世界上面积最大的平原，位于_____地区，大部分位于巴西境内。
12. 热带雨林
 - (1) 亚马孙河流域是世界上最大的热带雨林分布区，有“_____”的美誉。
 - (2) 开发利用：由于过度砍伐，森林破坏严重，导致_____严重。

初中地理（八年级下册）（中图版）

20天学习计划 第18天

日期：

姓名：

监督人：

迅速发展的经济

1. 经济地位：巴西是南美洲_____的国家，是世界上重要的_____，_____是其国民经济的支柱产业。

2. 农业：_____等热带经济作物的产量居世界前列。

3. 工矿业：巴西矿产资源丰富，_____等矿产资源的储量居世界前列。

巴西高原北部的_____是世界最大铁矿。



人口和城市

4. 人口

(1) 数量：巴西是南美洲人口_____的国家，2015 年巴西人口达到 _____ 亿。

(2) 人口分布：巴西人口分布不均，90%的人口居住在_____沿海地带，广大的_____和_____人口稀少。

5. 人种复杂：_____是巴西最早的居民，除此之外，还有欧洲移民的后裔，非洲黑人的后裔，亚洲中国人、日本人的后裔。

6. 城市

- (1) _____是南美洲最大的城市，是巴西最大的工业中心和金融中心。
- (2) _____是巴西第二大城市和最大海港，是巴西工商业和金融中心。
- (3) _____是巴西的首都，全国的政治中心。



初中地理（八年级下册）（中图版）

20天学习计划 第19天

日期：

姓名：

监督人：

疆域辽阔

1. 位置：俄罗斯位于亚欧大陆的____，北临____，东濒____，西接____，是地跨亚欧两洲的____国家。

2. 面积：俄罗斯面积约1707万平方千米，是世界上陆地面积____的国家。



3. 地形：乌拉尔山脉以西是A____；乌拉尔山脉以东是B____、C____和D____，地势__高__低。

4. 河流湖泊

- (1)____是欧洲第一长河，航运发达，被俄罗斯人誉为“____”。
- (2) 乌拉尔山脉以东的河流水量丰富，水能蕴藏量大，但____长，不利于航运。
- (3)____是世界上最深、蓄水量最大的淡水湖。

5. 气候：俄罗斯大部分属于____气候，北极圈以北属于____气候，太平洋沿岸属于____气候。

6. 资源：

- (1) 森林资源：俄罗斯是世界上森林面积最大的国家，以____为主。
- (2) 矿产资源：俄罗斯矿产资源种类齐全、储藏量大、自给程度高，主要分布在____地区。

7. 农业：俄罗斯农业主要分布在____，主要作物有____、玉米、亚麻、____等。

8. 边境贸易：俄罗斯有____陆上邻国，____是俄罗斯重要的贸易伙伴。

交通、工业

9. 发达的交通：运输方式齐全，以____为主。以____为中心的铁路网地学陕看世界和西伯利亚大铁路将全国城市和工业区连在一起。

10. 工业：(1) 结构：俄罗斯工业基础雄厚，部门齐全，____、____、____尤为突出，____比较落后。

(2) 四大工业区：俄罗斯的工业主要集中在四个地区：____工业区、____工业区、____工业区、____工业区。

初中地理（八年级下册）（中图版）

20天学习计划 第20天

日期：

姓名：

监督人：

城市

1. 首都_____：全国最大的城市和政治、经济、文化中心，综合性交通枢纽，机械工业和纺织工业中心。
2. _____：全国第二大城市和最重要的海港。

多民族的国家

3. 民族众多：俄罗斯有 100 多个民族，其中_____约占人口总数的 80%。
4. 人口：截至 2015 年，俄罗斯人口达到 1.45 亿。俄罗斯人口分布_____，_____人口约占全国的 3/4，_____地广人稀。俄罗斯城市人口约占全国的314。

地跨两大洲——埃及

5. 埃及是_____国家，大部分位于非洲_____，苏伊士运河以东的_____位于亚洲。
- (2) 埃及西邻_____，南接苏丹，东临_____并与巴勒斯坦、以色列接壤，北濒_____。
6. 气候：埃及南部大部分地区属_____气候，尼罗河三角洲和北部沿海地区属_____气候。
7. 河流：_____是世界第一长河，自南向北流经埃及，是埃及的主要水源。

发展中的工农业

8. 农业：农耕区集中在_____和_____地区，盛产优质_____。
9. 工业：近年来，石油和天然气工业发展较快，成为埃及的支柱产业之一，目前_____已成为埃及的经济支柱。
10. 外汇来源：_____，成为埃及外汇收入的四大主要来源。

富有特色的旅游业

11. 著名资源：埃及历史悠久，文化灿烂，旅游资源丰富，素有“_____”的美誉。_____、卡特巴城堡、_____都是世界著名古迹。_____是世界著名的大坝之一。
12. _____成为埃及外汇收入的第一大来源。

居民和城市

13. 居民：主要是_____，多信奉_____。
14. 城市：首都_____，是非洲最大的城市和世界历史文化名城，埃及最大的港口是_____。
15. 分布：人口和城市主要分布在_____。

初中地理（八年级下册）（中图版）

20天学习计划 第1天

日期：

姓名：

监督人：

世界上最大的洲

1. 面积: 亚洲是世界上面积最大的大洲，陆地总面积约 4400万 平方千米，约占全球陆地总面积的 $\frac{1}{3}$ 。
2. 亚洲的地理位置
 - (1) 半球位置: 主要位于东半球和北半球；
 - (2) 纬度位置: 北部深入北极圈内，南部延伸到赤道以南，跨寒带、温带和热带三个温度带。
 - (3) 海陆位置: 位于亚欧大陆东部，东临太平洋，南临印度洋，北临北冰洋，西与欧洲相接。
3. 海岸线曲折: 亚洲海岸线绵长而曲折，是世界上海岸线最长的大洲。亚洲多半岛和岛屿，阿拉伯半岛是世界上最大的半岛，加里曼丹岛是世界第三大岛屿。
4. 在亚欧大陆东面和东南面广阔的海洋上，自北向南分布着一系列弧形群岛。这一带地壳不稳定，常有地震和火山活动发生。



地势起伏大河流众多

5. 亚洲地形特征
 - (1) 地形: 复杂多样，以山地和高原为主。
 - (2) 地势: 中间高、四周低。青藏高原和帕米尔高原耸立于亚洲的中南部，构成亚洲地形的“屋脊”；平原多分布在大陆边缘的大河中下游地区。
6. 河流特点
 - (1) 河流众多: 亚洲是世界上大河最多的大洲，被称为“巨河之洲”；河流大多发源于中部高原和山地，呈放射状向四周分流入海。亚洲第一长河是长江，亚洲流经国家最多的河流是湄公河。
 - (2) 内流区面积广: 约占其总面积的 40%
 - (3) 湖泊众多: 贝加尔湖是世界上最深、蓄水量最大的淡水湖，里海是世界上最大的湖泊，死海是世界上盐度最大的咸水湖。

初中地理（八年级下册）（中图版）

20天学习计划 第2天

日期：

姓名：

监督人：

气候复杂多样

1. 亚洲幅员辽阔，地跨寒带、温带和热带；大陆东西宽广，内陆距海岸最远超过2500千米；地形复杂，地表起伏很大。受纬度高低、距海远近和地形等因素的综合影响，亚洲气候复杂多样，季风气候显著，温带大陆性气候分布广。
2. 季风气候显著：亚洲地处世界最大的大陆——亚欧大陆东部，东临世界最大的大洋——太平洋，南临印度洋，这种海陆分布形势，使亚洲东部和南部地区成为世界上典型的季风气候区。由于降水不稳定，该地区容易出现旱涝灾害。
3. 温带大陆性气候分布广：该气候特点是冬季严寒，夏季暖热，春秋季短，气温年较差大，降水集中在夏季。



众多的人口

4. 人口数量：亚洲人口总数约 43.9 亿 (2015年)，约占世界总人口的 3/5，是世界上人口数量最多的大洲，有6个国家人口超过1亿。
5. 人口分布
 - (1) 人口稠密地区：南亚、东南亚、中国东部、朝鲜半岛、日本群岛。这些地区自然条件优越、开发历史悠久、水陆交通便利、工农业较为发达。
 - (2) 人烟稀少地区：大多位于自然环境较为恶劣的内陆高原高山地区、沙漠地区和原始林区。
6. 人口增长：亚洲人口自然增长率高于世界平均水平。从20 世纪后半叶开始，中国、印度和东南亚一些国家推行计划生育政策，控制人口增长。
7. 亚洲的人种：亚洲是黄色人种的故乡，但在南亚和西亚则主要分布着白色人种。

初中地理（八年级下册）（中图版）

20天学习计划 第3天

日期：

姓名：

监督人：

古老的文明

1. **亚洲**是世界古代文明的摇篮，在**美索不达米亚平原**、**印度河谷地**和**黄河—长江中下游地区**先后出现了灿烂的古代文明。在漫长的历史进程中，这些文明通过不同的途径向外传播，为世界文明发展作出了巨大的贡献。
2. 亚洲是世界三大宗教的发祥地，也是**印度教**、**犹太教**和**道教**等民族宗教的发祥地。宗教对一些国家的政治、经济和文化发展有着重要的影响。



经济发展不平衡

3. **第二次世界大战**以后，亚洲许多国家先后摆脱了**殖民统治**。半个多世纪以来，这些国家根据自身条件，选择了适合**本国国情**的发展道路，不断推进经济发展。



4. 亚洲各国经济发展水平存在显著差异。亚洲有的国家是**发达国家**，如日本；但大部分国家是**发展中国家**。亚洲各国人均国内生产总值相差悬殊，人均国内生产总值最多与最少的国家相差**100多倍**。

初中地理（八年级下册）（中图版）

20天学习计划 第4天

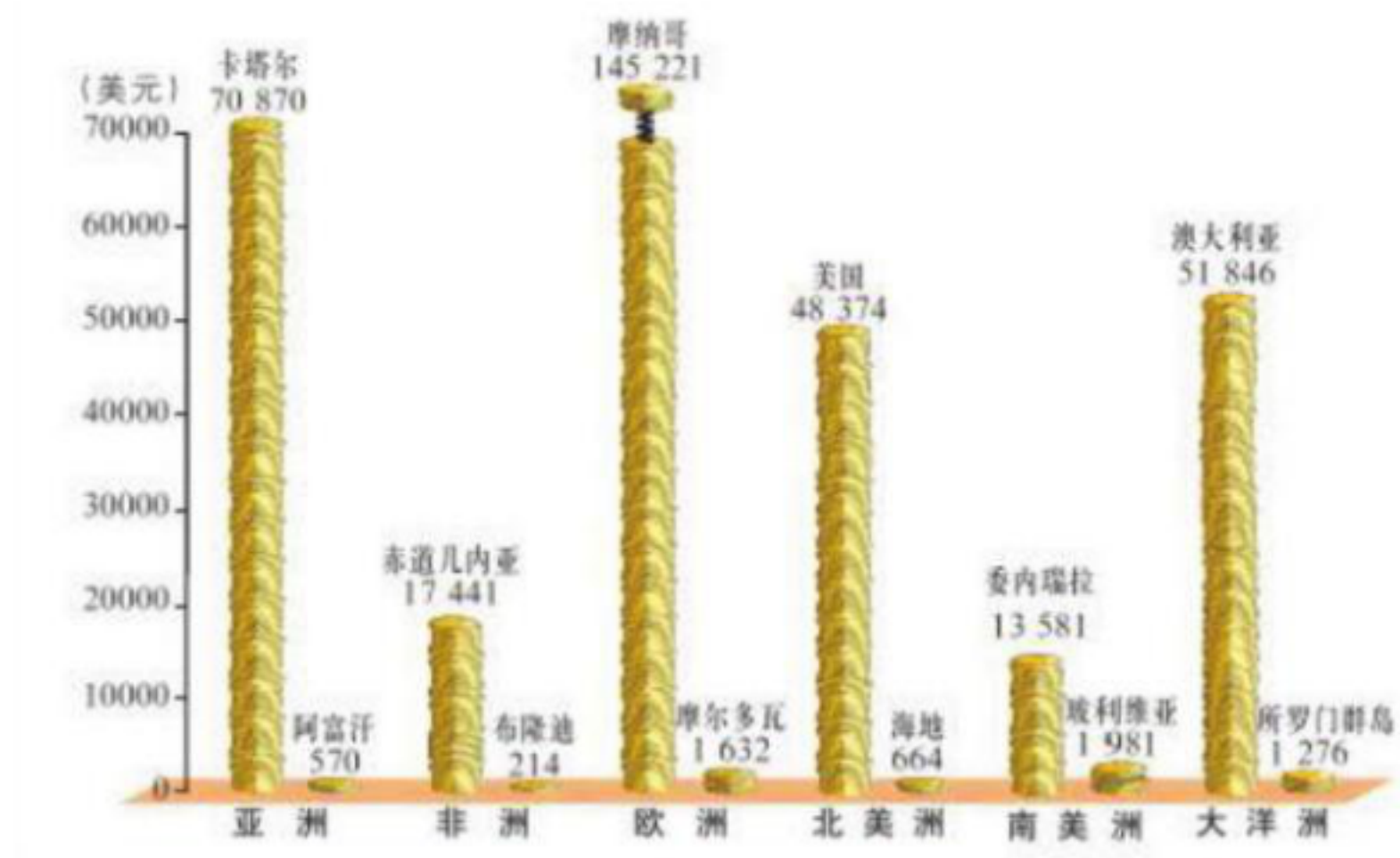
日期：

姓名：

监督人：

经济发展状况差异

1. **中国**、**印度**经济发展迅速，东南亚一些国家经济发展较快，西亚的产油国依靠出口**石油**，成为高收入国家：
2. 亚洲也有部分国家受**自然条件**和**历史原因**的限制，经济发展缓慢，仍未摆脱贫；还有国家饱受战乱之害，政局动荡不安。
3. 亚洲各国国情各异，发展水平不一，文化多样。正是这种**多样性**和**互补性**，亚洲各国需要加强交流，寻找符合各国特点的合作途径与方法，发挥各国经济的**互补性**，实现共同繁荣。
4. 亚洲作为世界上经济发展最迅速的地区之一，在世界经济格局中占有十分突出的地位。如何在经济发展、人口增长的情况下，做到**可持续发展**，是亚洲各国面临的一项重要而艰巨的任务。



世界六大洲人均国内生产总值最多和最少的国家（2010年）

东南亚

重要的地理位置

5. 位置范围：东南亚位于亚洲的**东南部**，由**中南半岛**和**马来群岛**两大部分组成。中南半岛与中国山水相连，主要有**越南**、**泰国**和**马来西亚**等国家。马来群岛由2万多个岛屿组成，主要有**印度尼西亚**、**菲律宾**等国家。

初中地理（八年级下册）（中图版）

20天学习计划 第5天

日期：

姓名：

监督人：

重要的地理位置

1. 位置重要性



(1) 东南亚的位置：地处A亚洲与B大洋洲、C 印度洋与D太平洋的“十字路口”，是世界海上运输的枢纽之一。

(2) 马六甲海峡的位置：马来半岛与苏门答腊岛之间的E马六甲海峡，是沟通太平洋与印度洋的天然水道，也是欧洲、非洲、西亚和南亚通往东亚和东南亚最便捷的通道，是世界海上运输的“咽喉”。

2. 中南半岛地形特点：山河相间，纵列分布。在河流的下游平原和三角洲地区，地势平坦，土壤肥沃，灌溉便利。湄公河是东南亚最长的河流，发源于中国境内，向南注入南海。

3. 多火山、地震：位于环太平洋地震带和地中海-喜马拉雅地震带交汇处，火山、地震频发。印度尼西亚是世界最大的群岛国家，也是世界上火山最多的国家之一。



D 印度尼西亚的火口湖

初中地理（八年级下册）（中图版）

20天学习计划 第6天

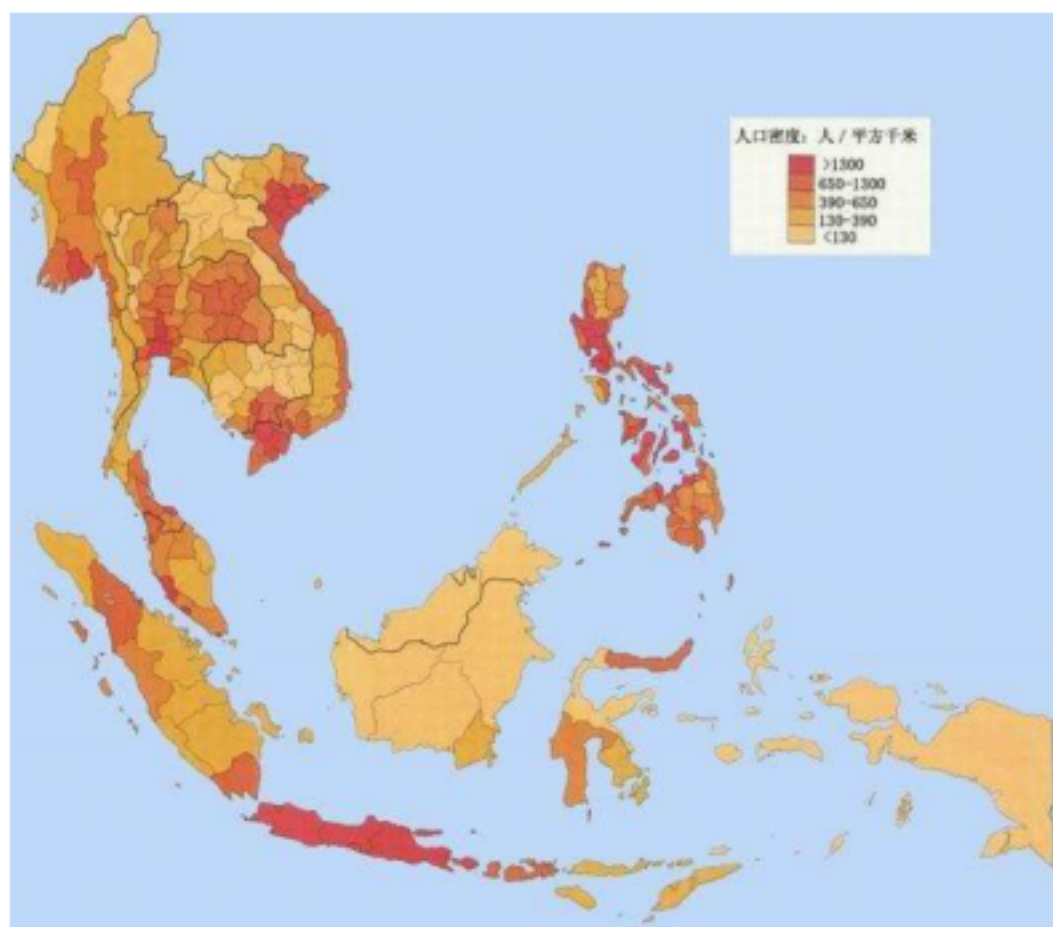
日期：

姓名：

监督人：

人口和城市分布

1. **东南亚**是世界上人口比较稠密的地区之一。东南亚的人口多分布在**平原**和**河口三角洲**，城市也主要分布在这里。



2. 东南亚的人种以**黄色**人种为主。东南亚是世界上**外籍华人**和**华侨**最集中的地区之一，目前有3300多万人，占世界外籍华人和华侨总数的70%以上。

湿热的气候 丰富的物产

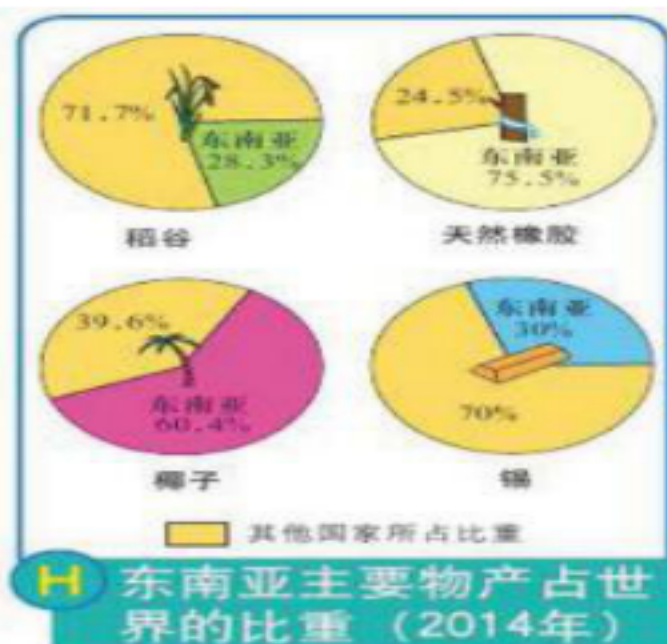
3. 东南亚大部分地处**热带**，全年高温，降水丰沛。**马来半岛南部**和**马来群岛大部分**属于热带雨林气候，终年高温多雨；中南半岛大部分和菲律宾群岛北部属于**热带季风气候**，全年高温，年降水量大，有明显的旱季和雨季。

4. 丰富的物产

(1) 热带经济作物：**椰子、天然橡胶、油棕、马尼拉麻**等的产量、出口量均居世界前列。

(2) 粮食作物：东南亚是**稻谷**重要种植区。**湄公河三角洲**和**伊洛瓦底江下游**是重要的农耕区。

(3) 矿产资源：是**石油**和**锡**的重要产区。



初中地理（八年级下册）（中图版）

20天学习计划 第7天

日期:

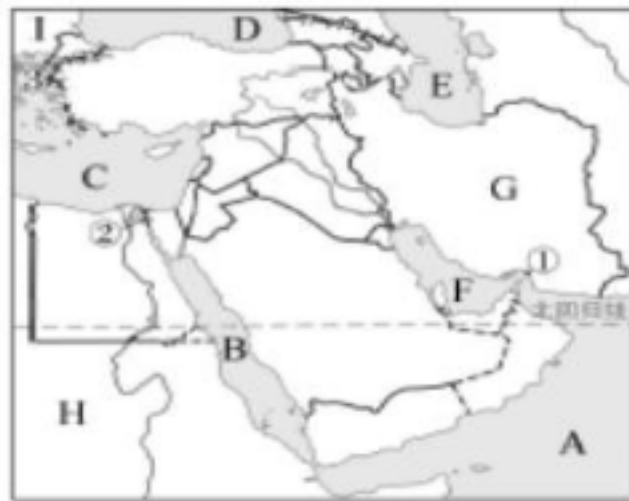
姓名:

监督人:

发展不平衡的经济

1. 发展较快的国家: 新加坡、马来西亚、文莱;
2. 比较落后的国家: 缅甸、柬埔寨、老挝。
3. 因地制宜发展经济: 泰国、马来西亚、文莱等国发展了 出口加工工业; 泰国、马来西亚、新加坡发展 旅游业。

“五海三洲”之地



4. 中东地处 G 亚洲、H 非洲、I 欧洲 三大洲的交界地带，介于 A 阿拉伯海、B 红海、C 地中海、D 黑海、E 里海 之间，被称为“五海三洲”之地。
5. 战略要地: F 波斯湾，① 霍尔木兹海峡，② 苏伊士运河，③ 土耳其海峡
6. 位置的重要性: 中东是沟通 大西洋 和 印度洋、连接东方和西方的要道。

丰富的石油资源

7. 地位: 中东 石油 储量极其丰富、产量 和 出口量 在世界上占有非常重要的地位。
8. 分布: 主要分布在 波斯湾沿岸。
9. 重要产油国: 沙特阿拉伯、阿拉伯联合酋长国、科威特、卡塔尔、伊朗、伊拉克、阿曼和巴林等。
10. 输出: 主要输往 西欧 以及 美国、日本 等国家。
11. 经济差异: 石油资源分布差异, 贫富悬殊。高收入国家主要有 沙特阿拉伯阿拉伯、联合酋长国、科威特、卡塔尔 等，世界上贫困国家之一的 也门 也位于此。

严重匮乏的水资源

12. 水资源匮乏: 中东自然条件恶劣，大部分地区气候 炎热干燥，沙漠广布，河流 稀少、缺水严重。 戈兰高地 有“中东水塔”的称号。
13. 人口分布: 河流两侧、绿洲 及有 泉水 的地方。
14. 解决水资源短缺的途径: 建立海水淡化工厂。

初中地理（八年级下册）（中图版）

20天学习计划 第8天

日期:

姓名:

监督人:

种植业和畜牧业

1. 种植业: (1) 由于气候炎热干燥, 中东地区农业以灌溉农业为主。灌溉农业主要分布在尼罗河流域、幼发拉底河-底格里斯河流域。

(2) 主要农作物有小麦、香料萱麻、纸莎草等。

2. 畜牧业: 以游牧放养牲畜为主。

3. 手工业: 土耳其、伊朗等国手工编织地毯闻名世界。



不平静的中东

4. 居民: 中东地区是一个多民族聚居区, 除伊朗、土耳其和以色列等国家外, 其他国家的居民以阿拉伯人为主。阿拉伯人属白色人种, 阿拉伯语和阿拉伯文是他们共同的语言和文字。

5. 宗教信仰: 中东是伊斯兰教、基督教和犹太教的发源地, 这三大宗教都把耶路撒冷奉为“圣城”。阿拉伯人大部分信仰伊斯兰教。

6. 冲突激烈: 宗教冲突、民族冲突及各种政治势力冲突非常激烈。

欧洲西部位置与范围

7. 位置: 欧洲西部是指欧洲的西半部, 三面临海(北临北冰洋、西临大西洋、南临地中海), 好像亚欧大陆向西伸出的大半岛。

8. 区域划分: 欧洲西部分为南欧、西欧、北欧和中欧。大多数属于发达国家。

9. 半岛和岛屿: 南欧指伊比利亚半岛、亚平宁半岛和巴尔干半岛及其附近的一些岛屿, 西欧指欧洲西部濒临大西洋的地区和附近的岛屿; 北欧指54°N以北的斯堪的纳维亚半岛、日德兰半岛和冰岛及其他一些岛屿; 中欧指北起北海和波罗的海, 南到阿尔卑斯山脉的欧洲中部地区。



初中地理（八年级下册）（中图版）

20天学习计划 第9天

日期：

姓名：

监督人：

深受海洋的影响

1. 海岸线曲折，有许多优良港湾：荷兰的鹿特丹港是世界上最大的海港之一。



2. 提供便利的航运条件

(1) 北大西洋航线：美国东海岸-北大西洋-英国-波罗的海。

(2) 亚欧航线：欧洲西部-地中海-苏伊士运河-波斯湾-东南亚-东亚-澳大利亚。

(3) 江海联运：莱茵河和多瑙河是主要的内河航线，通过内河航运与海上沟通。

3. 海洋性气候显著：欧洲西部温带海洋性气候显著，起决定作用的因素是盛行西风和北大西洋暖流。

4. 渔业发达：海洋还为欧洲西部沿海国家提供了大量渔产品，特别是挪威等沿海国家。

发达的经济

5. 发展条件：欧洲西部是近代科学文化与技术发展最早的地方。

6. 经济发达：德国、英国、法国和意大利是世界经济强国。

7. 工业带：西起英国，东到波兰南部，北起瑞典和挪威的南部，南到意大利北部。

发展方向

8. 以依靠煤、铁等资源的重工业和纺织工业为主，转向以依靠高新技术的核能、电子、航空和化学工业为主。

9. 服务业发达，促进了经济的不断发展。环境优美，人文景观丰富，吸引了世界各地的游客。

初中地理（八年级下册）（中图版）

20天学习计划 第10天

日期：

姓名：

监督人：

欧洲联盟

1. 欧洲联盟简称欧盟，是当今世界一体化程度最高的区域政治、经济集团组织。
2. 目的：为了促进本地区的发展，各国在自身发展的同时彼此加强合作。
3. 成员国：截至 2013 年1月，欧盟共有 28 个成员国
(注意：2020年1月，欧盟正式批准了英国“脱欧”)。
4. 影响及作用：推动了欧洲国家之间的科技合作。对整个世界都起着不可替代的作用。2010年，欧盟各国的进出口贸易总额居世界第一位。



撒哈拉以南非洲位置与范围

5. 地理位置：(1) 纬度位置：撒哈拉以南非洲地跨南、北半球，绝大部分位于南、北回归线之间的热带地区。
(2) 海陆位置：撒哈拉以南非洲西临大西洋及边缘海几内亚湾，北临地中海，东临印度洋，东北临红海。
6. 范围：撒哈拉以南非洲是指撒哈拉沙漠中部以南的非洲大陆，以及马达加斯加岛等岛屿。

撒哈拉以南非洲是黑色人种的故乡，也是目前世界上最大的黑色人种聚居地。



热带气候与热带自然景观

7. 气候类型

- (1) 热带雨林气候：主要分布在刚果盆地和几内亚湾沿岸，特点是终年高温多雨。
- (2) 热带草原气候：主要分布在热带雨林气候的南北两侧纬度较高的地区和东非高原地区，特点是全年高温，降水季节差异明显，分为明显的干季和湿季。

8. 气候与自然景观分布特点

- (1) 以赤道为对称轴呈南北对称分布。(2) 地势较高的高原、山地地区气候垂直变化明显。

9. 撒哈拉沙漠面积不断扩展，萨赫勒地区土地荒漠化严重。

初中地理（八年级下册）（中图版）

20天学习计划 第11天

日期:

姓名:

监督人:

高原为主的地形

1. 地形类型:地形以高原为主,起伏较和缓。
2. 地势变化:地势东南高、西北低。
3. 主要地形区
 - (1) 乞力马扎罗山:位于东非高原,是非洲最高峰,是一座死火山。
 - (2) 东非大裂谷:由非洲板块与印度洋板块张裂拉伸作用形成的。

世界矿产宝库

4. 地位:撒哈拉以南非洲矿产资源种类多,储量丰富,金刚石、金、锰和铀等的储量居世界首位。
5. 分布:矿产资源主要分布在赞比西河以南地区、几内亚湾沿岸、刚果盆地和东非高原等地。
6. 主要矿产及生产国
 - (1) 金刚石:主要产于刚果民主共和国和南非。刚果民主共和国有“中非宝石”之称,南非金刚石产值和出口量居世界前列。
 - (2) 黄金:南非的黄金储量、产量和出口量均居世界前列。
7. 铜:赞比亚铜矿的储量、产量和出口量均居非州前列,有“铜矿之国”之称。

努力改变单一经济

9. 经济特点:以初级产品为主的单一经济。历史根源是长期遭受殖民统治。
10. 经济发展措施:
 - (1) 探索适合本国国情的经济发展道路,充分利用本国的资源,发展多种农矿产品生产,改变单一经济结构,同时引进外国资本和技术发展民族工业。
 - (2) 大力加强撒哈拉以南非洲各国之间的合作,促进经济的共同繁荣。例如坦赞铁路的修建,使地处内陆的赞比亚可以利用坦桑尼亚的港口来发展进出口贸易。

初中地理（八年级下册）（中图版）

20天学习计划 第12天

日期：姓名：监督人：

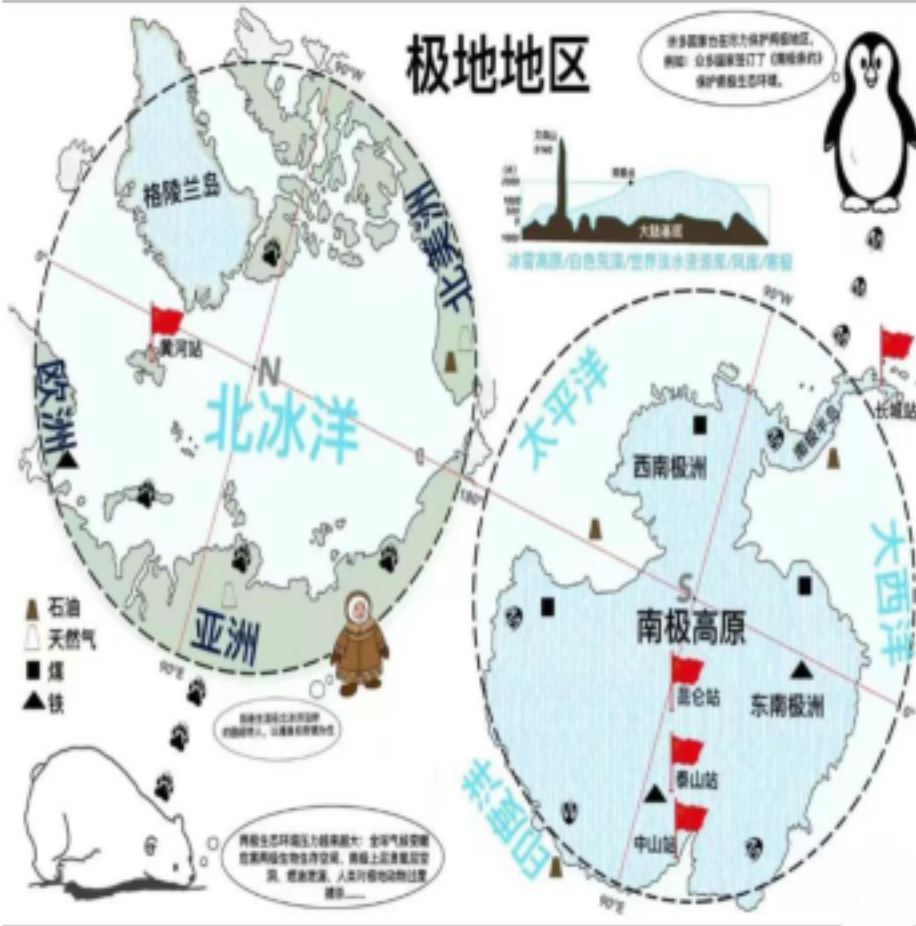
冰雪新天地

1. 北极与南极：

比较项目	北极地区	南极地区
位置和范围	北极地区指 <u>北极圈以北</u> 的区域，主体是北冰洋，大部分属于国际公共海域	南极地区指 <u>60° S</u> 以南的区域，包括南极大陆及其周边水域
地表特征	以 <u>海洋</u> 为主	以 <u>陆地</u> 为主
气候	气候寒冷	地球上 <u>最冷、风力最强</u> 的地方
动植物	植物有地衣、苔藓等；动物有 <u>北极熊、驯鹿</u> 等	植物有地衣、苔藓；动物 <u>企鹅、磷虾、海豹</u> 等
居民	<u>因纽特人</u> 和 <u>沙米人</u>	无常住人口
矿产资源	煤炭	石油、 <u>煤</u> 、 <u>铁</u> 、金、银

对极地地区的开发、利用和保护

2. 天然实验室：极地地区的自然环境，基本上保持着人类发现以前的原始面貌，为科学家进行气象、冰川和地质等方面的研究提供了天然实验室。
3. 南极科学考察站：中国于 1985 年和 1989年分别在南极地区建立了长城站和中山站，于 2009年在南极内陆冰盖最高点建立了昆仑站，为南极地区的研究和保护作出了贡献。
4. 和平利用极地地区：各国应共同遵守《南极条约》等保护极地地区。



初中地理（八年级下册）（中图版）

20天学习计划 第13天

日期：

姓名：

监督人：

亚洲东部的岛国



1. 位置: 日本位于亚洲东部、太平洋的西北部。
2. 组成: 日本领土由北海道、本州、九州、四国四个大岛及附近许多小岛组成。
3. 地形: 日本是个多山的国家，山地、丘陵约占全国陆地面积的3/4，平原面积狭小，仅分布在沿海地区。
4. 多火山、地震: 日本地处环太平洋火山地震带，地壳很不稳定。富士山是日本最高的山峰，也是著名的活火山。
5. 气候: 日本属亚热带季风气候和温带季风气候，海洋性气候特征明显。夏秋季节日本太平洋沿岸多台风。
6. 资源: 日本陆地面积的2/3被森林覆盖，森林资源丰富。

岛国经济

7. 农业: 日本为了适应耕地少、地块小的特点，农业机械注重小型化，并且采取科学的耕种方法，实行精耕细作，单位面积产量很高。
8. 渔业: 海洋捕捞量居世界前列，北海道渔场是世界四大渔场之一。
9. 工业
 - (1) 工业特点: 日本经济对外依赖性强，原因是日本工业所需的原料、燃料需要大量进口，产品大量出口。
 - (2) 工业分布: 日本工业主要分布在太平洋和濑户内海沿岸，因为这里海岸线曲折，良港多，海上交通便利，利于发展对外贸易。
 - (3) 日本的贸易伙伴: 美国(最大)、中国、韩国等。
 - (4) 对外贸易港口: 神户、横滨。

文化交流

10. 受外来文化影响
 - (1) 受古代中国文化影响: 文字、和服、茶道、花道等衣食住行深受中国唐代文化影响。
 - (2) 受欧美思想文化影响: 在引进先进生产技术的同时，还积极吸收欧美的思想文化。
11. 充分展现其民族特性: 如温泉沐浴、春天赏樱等。

初中地理（八年级下册）（中图版）

20天学习计划 第14天

日期：

姓名：

监督人：

美国领土组成

1. 位置:本土位于北美大陆中部,东、西、南分别濒临大西洋、太平洋、和墨西哥湾,北与加拿大接壤,西南与墨西哥毗邻。

2. 组成:陆地面积 937 万平方千米,除本土外,还包括阿拉斯加和夏威夷两个州。

地形分三部分:西部落基山脉、东部阿巴拉契亚山脉和中部平原。 地势:东西高,中间低。



多元文化的交融

3. 移民国家:美国是种族和民族都很复杂的移民国家,有“人种博物馆”的称号。

4. 居民构成:居民主要是欧洲人移民的后裔,非洲黑人的后裔,原住民是印第安人。截至 2015 年,美国人口达到

5. 22亿, 白色人种约占80%, 黑色人种约占 13%。

第一经济大国

6. 经济地位:美国的经济实力和综合国力在世界上均居首位。

7. 农业

(1)世界上最大的商品粮生产国。美国农业实现了地区生产的专业化(形成了一些农业带和农业区)和机械化(效率高,产量大)。

(2)美国农业带和农业区:乳畜带、玉米带、棉花带、小麦区、畜牧业和灌溉农业区、混合农业区、地中海式农业区、亚热带作物带等。

初中地理（八年级下册）（中图版）

20天学习计划 第15天

日期：姓名：监督人：

工业

1. 三大工业区

东北部工业区	发展最早	钢铁、机械、汽车、化学等
南部工业区	新兴工业	石油、航空航天、电子等
西部工业区	新兴工业	飞机制造、石油化工、以信息技术为主的高新技术产业

2. 主要城市

- ①圣弗朗西斯科(旧金山):著名的“硅谷”，西部最大的港口，美国华人最多的城市。
- ②洛杉矶:美国第二大城市，最大的飞机制造和石油化工中心。
- ③纽约:美国最大城市，最大海港。
- ④华盛顿:首都，美国的政治、文化中心。
- ⑤休斯敦:美国南部最大的城市和石油化工基地，航天中心所在地。
- ⑥芝加哥:美国第三大城市和最大的钢铁工业基地。

高新技术产业

- 3. 信息技术产业已成为美国经济支柱产业。



初中地理（八年级下册）（中图版）

20天学习计划 第16天

日期：

姓名：

监督人：

独占一个大陆的国家

1. 地理位置：澳大利亚位于南半球，东临太平洋，西临印度洋。
2. 领土组成：领土包括澳大利亚大陆、塔斯马尼亚岛和附近一些小岛，是世界唯一独占一个大陆的国家。
3. 面积：澳大利亚面积 769万平方千米，位居世界第六位，是大洋洲面积最大的国家。
4. 人口：澳大利亚有 2 397 万人(2015 年)，地广人稀，92%为白色人种。

区域差异明显

5. 澳大利亚地形分三部分：西部高原、东部山地（大分水岭）和中部平原。

地势：东西高，中间低。

(1) 西部高原

- ①面积广阔，地势不高，分布着高地和孤山（世界上最大的独石山——艾尔斯山）。

- ②气候炎热干燥（地处南回归线两侧，降水少）。

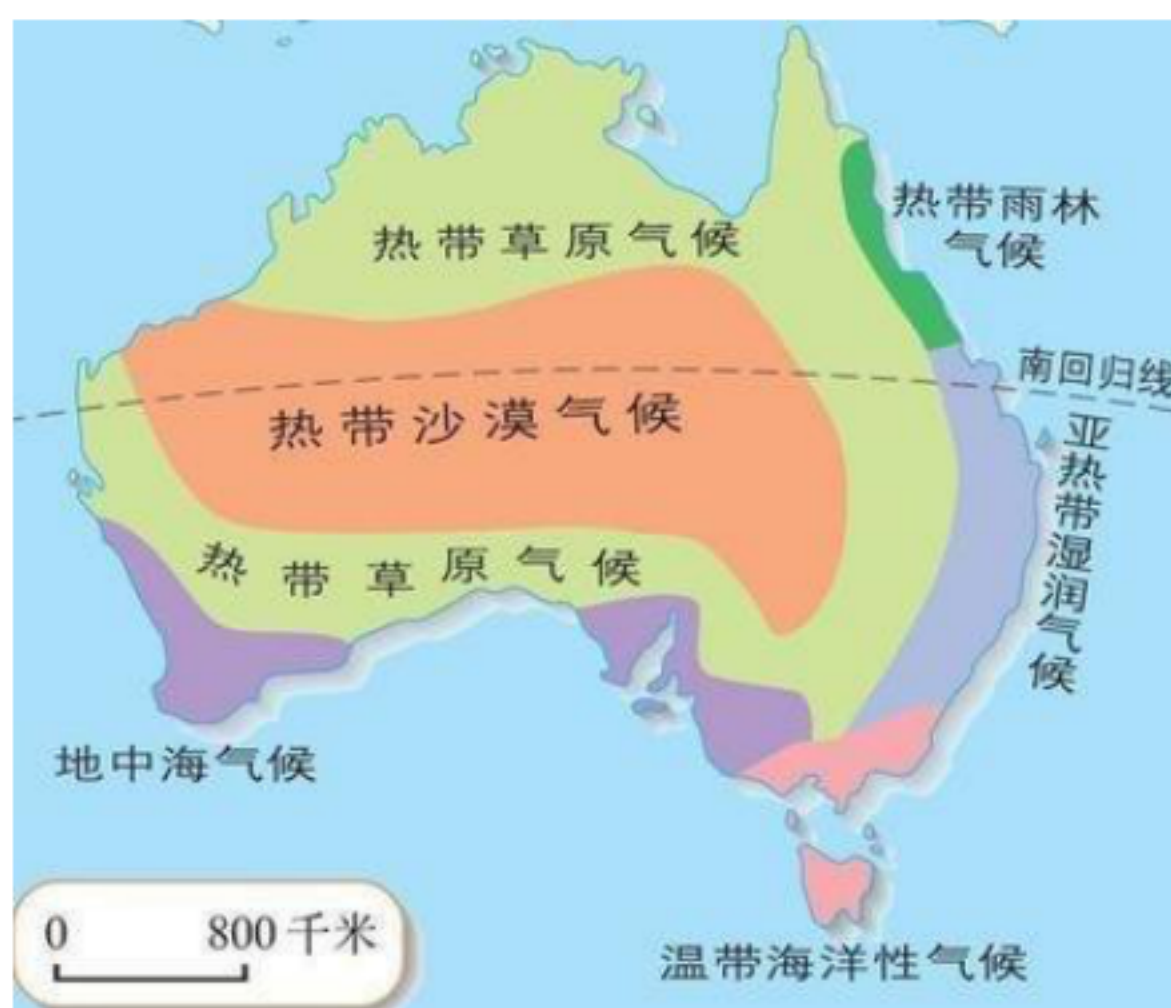
国人烟稀少。

(2) 东部大分水岭

- ①东北部：全年高温多雨，为热带雨林气候。

- ②东南部：气候温暖湿润，有狭窄沿海平原，多优良港湾，开发最早，人口城市密集。

- ③中部平原：气候干旱，河流少，有丰富地下水，被称为大自流盆地。适宜发展养羊业，羊毛的产量和出口均居世界首位，被称为“骑在羊背上的国家”。



初中地理（八年级下册）（中图版）

20天学习计划 第17天

日期：

姓名：

监督人：

独特的动植物和自然景观

1. 具有古老性和特殊性的原因:与其他大陆分离,长期孤立于海洋中;长期独立发展演化。
2. 特有动植物:桉树、袋鼠、树袋熊、鸸鹋、鸭嘴兽等。
3. 大堡礁:位于澳大利亚东北部的珊瑚海,是世界上最大的珊瑚礁群。

“坐在矿车上的国家”

4. 经济地位:澳大利亚是南半球经济发达的资本主义国家。
5. 矿产资源:矿产资源品种多、储量大、质量好,被称作“坐在矿车上的国家”。
6. 经济发展:目前服务业已成为澳大利亚新的支柱产业。
7. 主要城市:堪培拉—首都,悉尼—全国最大的工业中心和海港,墨尔本—全国第二大城市。



巴西地理位置

8. 位置
 - (1) 纬度位置:大部分位于赤道和南回归线之间,属于热带。
 - (2) 海陆位置:位于南美洲东部,东临大西洋,是南美洲面积最大的国家。

9. 地形:以平原和高原为主, A 是世界上最大的平原—亚马孙平原, B 是世界上最大的高原—巴西高原。

地势:南高北低。



亚马孙河和亚马孙平原

10. 亚马孙河:发源于安第斯山脉,向东注入大西洋,是世界上水量最大、流域面积最广的河流。河流落差小,航运十分便利。
11. 亚马孙平原:是世界上面积最大的平原,位于亚马孙河的中下游地区,大部分位于巴西境内。
12. 热带雨林
 - (1) 亚马孙河流域是世界上最大的热带雨林分布区,有“地球之肺”的美誉。
 - (2) 开发利用:由于过度砍伐,森林破坏严重,导致水土流失严重。

初中地理（八年级下册）（中图版）

20天学习计划 第18天

日期：

姓名：

监督人：

迅速发展的经济

1. 经济地位：巴西是南美洲经济实力最强的国家，是世界上重要的发展中国家，服务业、工业、农牧业是其国民经济的支柱产业。

2. 农业：咖啡、甘蔗、天然橡胶等热带经济作物的产量居世界前列。

3. 工矿业：巴西矿产资源丰富，铁、锰、铝土等矿产资源的储量居世界前列。

巴西高原北部的卡拉雅斯铁矿是世界最大铁矿。



人口和城市

4. 人口

(1) 数量：巴西是南美洲人口最多的国家，2015 年巴西人口达到 2.08 亿。

(2) 人口分布：巴西人口分布不均，90%的人口居住在东部和东南部沿海地带，广大的内陆高原和亚马孙平原地区人口稀少。

5. 人种复杂：印第安人是巴西最早的居民，除此之外，还有欧洲移民的后裔，非洲黑人的后裔，亚洲中国人、日本人的后裔。

6. 城市

- (1) 圣保罗是南美洲最大的城市，是巴西最大的工业中心和金融中心。
- (2) 里约热内卢是巴西第二大城市和最大海港，是巴西工商业和金融中心。
- (3) 巴西利亚是巴西的首都，全国的政治中心。



初中地理（八年级下册）（中图版）

20天学习计划 第19天

日期:

姓名:

监督人:

疆域辽阔

1. 位置: 俄罗斯位于亚欧大陆的北部, 北临北冰洋, 东濒太平洋, 西接波罗的海, 是地跨亚欧两洲的欧洲国家。

2. 面积: 俄罗斯面积约1707万平方千米, 是世界上陆地面积最大的国家。



3. 地形: 乌拉尔山脉以西是A东欧平原; 乌拉尔山脉以东是B西西伯利亚平原、C 中西伯利亚高原和 D 东西伯利亚山地, 地势东高西低。

4. 河流湖泊

(1) 伏尔加河是欧洲第一长河, 航运发达, 被俄罗斯人誉为“母亲河”。

(2) 乌拉尔山脉以东的河流水量丰富, 水能蕴藏量大, 但封冻期长, 不利于航运。

(3) 贝加尔湖是世界上最深、蓄水量最大的淡水湖。

5. 气候: 俄罗斯大部分属于温带大陆性气候, 北极圈以北属于寒带苔原气候, 太平洋沿岸属于温带季风气候。

6. 资源:

(1) 森林资源: 俄罗斯是世界上森林面积最大的国家, 以亚寒带针叶林为主。

(2) 矿产资源: 俄罗斯矿产资源种类齐全、储藏量大、自给程度高, 主要分布在乌拉尔山脉及其以东地区。

7. 农业: 俄罗斯农业主要分布在东欧平原, 主要作物有小麦、玉米、亚麻、甜菜等。

8. 边境贸易: 俄罗斯有 14个陆上邻国, 中国、日本和韩国是俄罗斯重要的贸易伙伴。

交通、工业

9. 发达的交通: 运输方式齐全, 以铁路运输为主。以莫斯科为中心的铁路网地学陕看世界和西伯利亚大铁路将全国城市和工业区连在一起。

10. 工业: (1) 结构: 俄罗斯工业基础雄厚, 部门齐全, 重工业、航空航天、核工业尤为突出, 民用工业比较落后。

(2) 四大工业区: 俄罗斯的工业主要集中在四个地区: 莫斯科工业区、圣彼得堡工业区、乌拉尔工业区、新西伯利亚工业区。

初中地理（八年级下册）（中图版）

20天学习计划 第20天

日期：

姓名：

监督人：

城市

1. 首都莫斯科：全国最大的城市和政治、经济、文化中心，综合性交通枢纽，机械工业和纺织工业中心。
2. 圣彼得堡：全国第二大城市和最重要的海港。

多民族的国家

3. 民族众多：俄罗斯有 100 多个民族，其中俄罗斯族约占人口总数的 80%。
4. 人口：截至 2015 年，俄罗斯人口达到 1.45 亿。俄罗斯人口分布不均匀，欧洲部分人口约占全国的 3/4，亚洲部分地广人稀。俄罗斯城市人口约占全国的 3/4。

地跨两大洲——埃及

5. 埃及是非洲国家，大部分位于非洲东北部，苏伊士运河以东的西奈半岛位于亚洲。
- (2) 埃及西邻利比亚，南接苏丹，东临红海并与巴勒斯坦、以色列接壤，北濒地中海。
6. 气候：埃及南部大部分地区属热带沙漠气候，尼罗河三角洲和北部沿海地区属地中海气候。
7. 河流：尼罗河是世界第一长河，自南向北流经埃及，是埃及的主要水源。

发展中的工农业

8. 农业：农耕区集中在尼罗河谷地和尼罗河三角洲地区，盛产优质长绒棉。
9. 工业：近年来，石油和天然气工业发展较快，成为埃及的支柱产业之一，目前旅游业已成为埃及的经济支柱。
10. 外汇来源：旅游业、石油工业、侨汇和苏伊士运河，成为埃及外汇收入的四大主要来源。

富有特色的旅游业

11. 著名资源：埃及历史悠久，文化灿烂，旅游资源丰富，素有“世界最大的露天博物馆”的美誉。金字塔、卡特巴城堡、卡纳克神庙都是世界著名古迹。阿斯旺大坝是世界著名的大坝之一。
12. 旅游业成为埃及外汇收入的第一大来源。

居民和城市

13. 居民：主要是阿拉伯人，多信奉伊斯兰教。
14. 城市：首都开罗，是非洲最大的城市和世界历史文化名城，埃及最大的港口是亚历山大港。
15. 分布：人口和城市主要分布在尼罗河三角洲。

VV99.net

免费文档下载