

# 2019-2020 学年上学期一年级期中检测卷(A)

班级: 姓名: 满分: 100 分 考试时间: 90 分钟

题序	第一题	第二题	第三题	第四题	第五题	第六题	第七题	总分
得分								

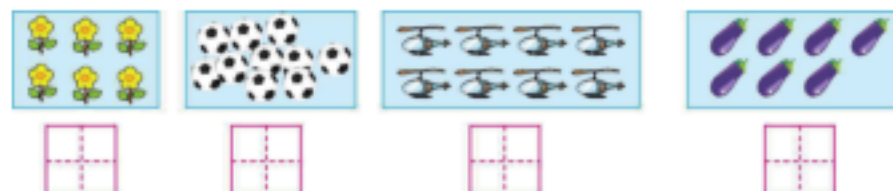
## 一、看谁算得对又快。(8 分)

$10-9=$      $6+2=$      $8-5=$      $2+1+7=$

$9-8=$      $7-5=$      $4+5=$      $6+4-5=$

## 二、想一想,填一填。(34 分)

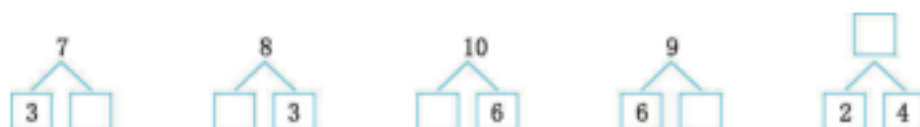
### 1.看图写数。(4 分)



### 2.在□里填上合适的数。(6 分)



### 3.(5 分)



### 4.(4 分)



一共有( )只小猫;从左边数,小黑猫排第( );它前面有( )

只小猫,后面有( )只小猫。

5.把 2、8、0、6、10、5、9 这些数,按从大到小的顺序写一写。

(7 分)

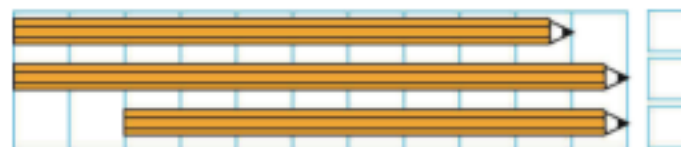
6.(4 分) 6.(4 分)

把右边的 7 串葡萄圈起来,在从左边数第 8 串葡萄下面画“ ”。

7.(4 分) 7.(4 分) 比 少 个;  
比 多 个。

## 三、比一比,分一分。(12 分)


1.在最长的后面画“○”,最短的后面画“×”。(4 分)



2. 在最高的下面画“○”，最矮的下面画“×”。(4分)



3. 把每行中不同类的圈出来。(4分)



四、小鱼儿吐泡泡。(9分)



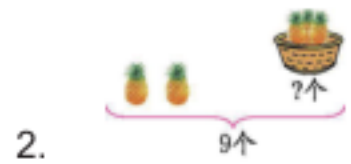
- |                     |                     |                    |
|---------------------|---------------------|--------------------|
| $4+1 \bigcirc 7$    | $6+4 \bigcirc 10$   | $9-7 \bigcirc 4$   |
| $6+0 \bigcirc 4+4$  | $7-1 \bigcirc 0+6$  | $7-4 \bigcirc 8-5$ |
| $4+2 \bigcirc 10-2$ | $10-4-4 \bigcirc 1$ | $2+7-3 \bigcirc 5$ |

五、看一看,填一填。(6分)

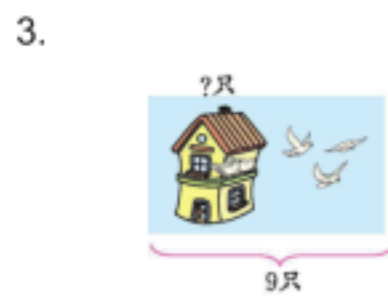


- 丫丫的前面是( ), 右边是( )。
- ( )在丁丁的左边, ( )在丁丁的右边。
- 圆圆的后面是( ), 左边是( )。

六、看图列式计算。(15分)



2.  $\square \bigcirc \square = \square$



3.  $\square \bigcirc \square = \square$

4. 还剩多少根黄瓜?



$$\square \bigcirc \square \bigcirc \square = \square$$

5.现在有多少个小朋友?



$$\square \bigcirc \square \bigcirc \square = \square$$

七、解决问题。(16 分)

1.(5 分)



每只小猴摘一个桃,树上还有几个桃?

$$\square \bigcirc \square = \square$$

2.幼儿园小朋友排队打预防针,从前面数小林是第 3 个,从后面数小林是第 5 个。打预防针的共有几个小朋友?(5 分)

$$\square \bigcirc \square \bigcirc \square = \square$$

3.小兔的生日。(6 分)



(1)演奏的小动物一共有多少只?

$$\square \bigcirc \square \bigcirc \square = \square$$

(2)篮子里还剩几个萝卜?

$$\square \bigcirc \square \bigcirc \square = \square$$

(3)根据图中的信息,你还能提出什么数学问题?用算式表示出来。

## 2019-2020 学年上学期一年级期中检测卷(A)

### 参考答案

一、1 8 3 10 1 2 9 5

二、1.6 10 8 7 2.0 4 6 7 9 10

3.4 5 4 3 6 4.10 8 7 2

5.10 9 8 6 5 2 0

6.略 7.3 3

三、1.  2.

3.略

四、< = < < = = < > >

五、1.丁丁 亚宁 2.小红 圆圆 3.亚宁 丁丁

六、1.3+7=10 7+3=10 10-3=7 10-7=3

2.9-2=7 3.9-3=6 4.7-3-1=3

5.5-2+3=6

七、1.9-7=2 2.3+5-1=7

3.(1)3+2+2=7 (2)8-3-1=4

(3)答案不唯一,如:一共有多少朵花?

2+3+2=7

# VV99.net

免费文档下载