

一年级上册数学黄冈期末定制密卷

时间:60 分钟

书写等级:_____

质量等级:_____

题号	一	二	三	四	五	六	七	八	九	十	总分
分数											

一、口算下列各题。(20 分)

$8 + 3 =$

$10 - 0 =$

$3 + 8 =$

$4 + 6 + 5 =$

$7 - 3 =$

$7 + 5 =$

$9 - 2 =$

$15 - 5 - 5 =$

$7 + 8 =$

$17 - 10 =$

$9 + 2 =$

$10 - 4 + 8 =$

$9 + 6 =$

$7 + 9 =$

$6 + 6 =$

$9 - 5 + 9 =$

$7 - 7 =$

$6 + 2 =$

$8 - 8 =$

$8 - 2 + 4 =$

二、填一填。(23 分)

1. 一个数,个位上是1,十位上也是1,这个数是()。

2. 比15少2的数是(),比15多2的数是()。

3. 和10相邻的两个数是()和()。

4. $\begin{array}{c} 8 \\ \swarrow \quad \searrow \\ 4 \quad \square \end{array}$ $\begin{array}{c} 7 \\ \swarrow \quad \searrow \\ \square \quad 2 \end{array}$ $\begin{array}{c} \square \\ \swarrow \quad \searrow \\ 2 \quad 8 \end{array}$ $\begin{array}{c} 9 \\ \swarrow \quad \searrow \\ 3 \quad \square \end{array}$

5.  是由()个  组成的。

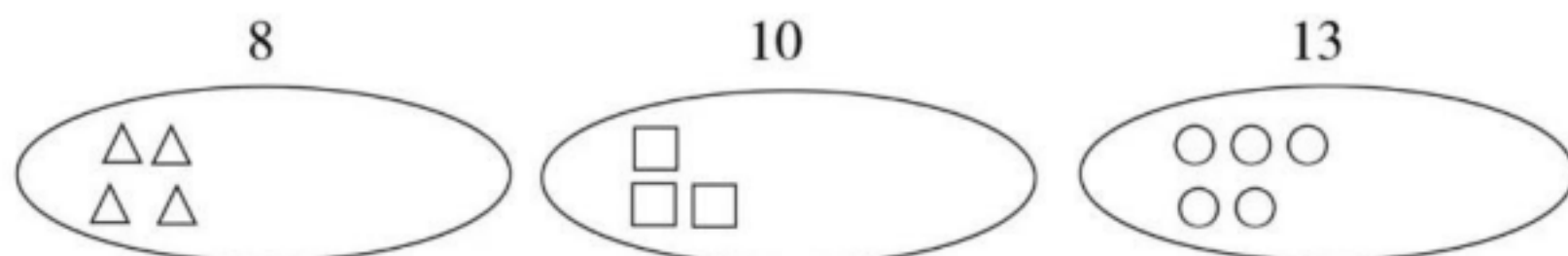
6. 一个加数是5,另一个加数是12,和是()。

7. 被减数是13,减数是3,差是()。

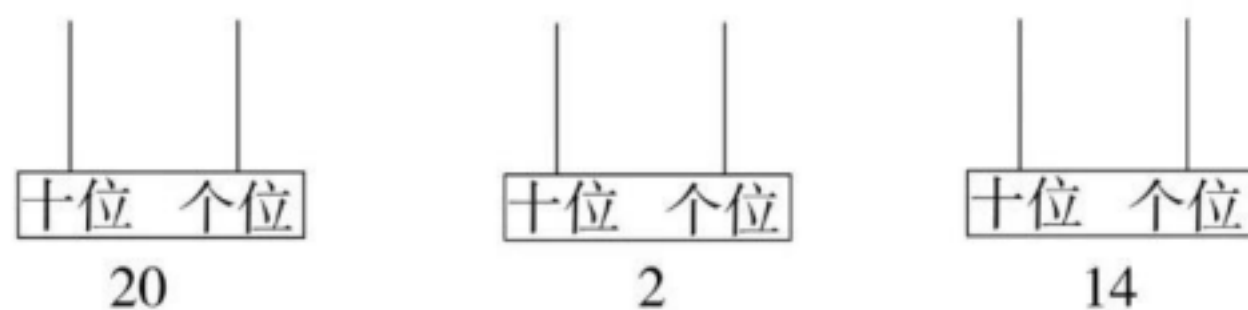
8. 11 14 9 16 18 20 17 12 19

上面一共有()个数,其中最大的数是(),最小的数是()。从左边数第6个数是(),从右边数第6个数是()。

9. 看数继续画。



10. 看数画珠子。



三、涂一涂,画一画。(6分)

1. 从右边数涂第3个△。



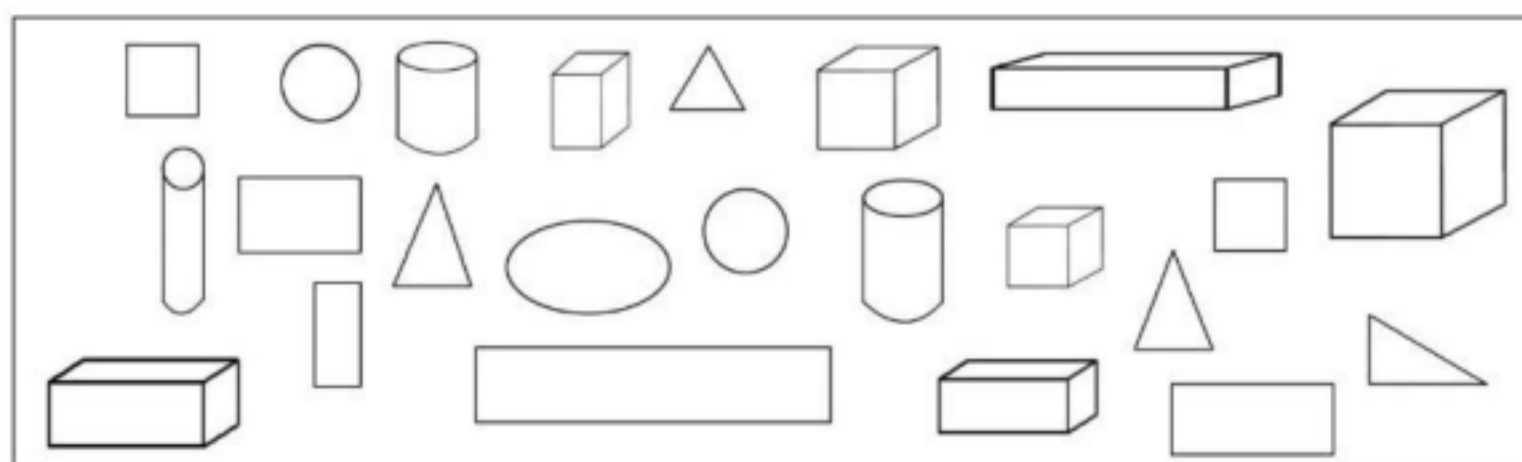
2. 画○,与△同样多。



3. 画△,比○多3个。







四、数一数,填一填。(14分)



○有()个,△有()个,□有()个,▭有()个,
 ()个,圆柱有()个,长方体有()个,正方体有()个。

五、想一想,写一写,连一连。(12分)



六、在()里填上合适的数。(9分)

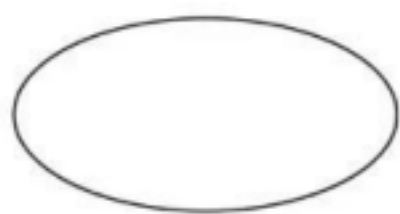
1. () + 6 = 15 2. 3 + () = 10 3. 8 + () = 11
 4. 10 - () = 6 5. 12 - () = 10 6. () - 4 = 5
 7. 8 + () = 16 8. () + 4 = 11 9. () + 3 = 13

七、列式计算。(4分)

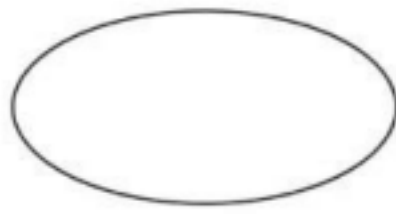
1. 两个加数都是8,和是多少?
 2. 比7大6的数是多少?
 3. 一个数减去2得8,这个数是多少?
 4. 7和6的和减去3,差是多少?

八、算一算,填一填。(13分)

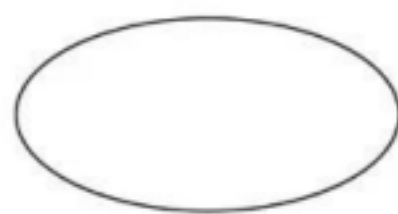
- | | | | | |
|--------|--------|--------|--------|-------|
| 8 + 4 | 14 - 4 | 12 + 2 | 6 + 6 | 5 + 5 |
| 7 + 7 | 3 + 9 | 13 - 3 | 13 + 1 | 3 + 7 |
| 10 - 0 | 10 + 2 | 9 - 3 | 4 + 10 | 8 + 5 |



得数是10

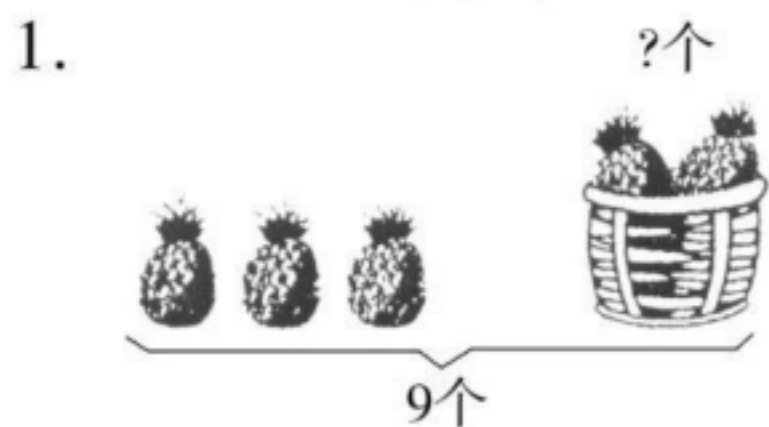


得数是12

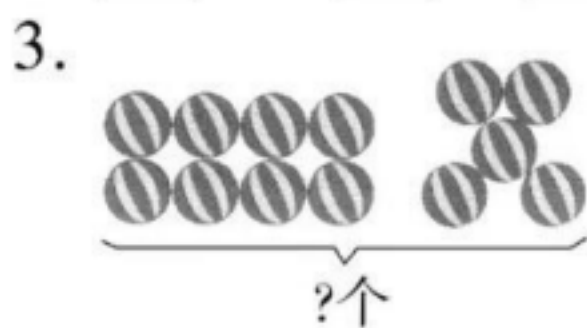


得数是14

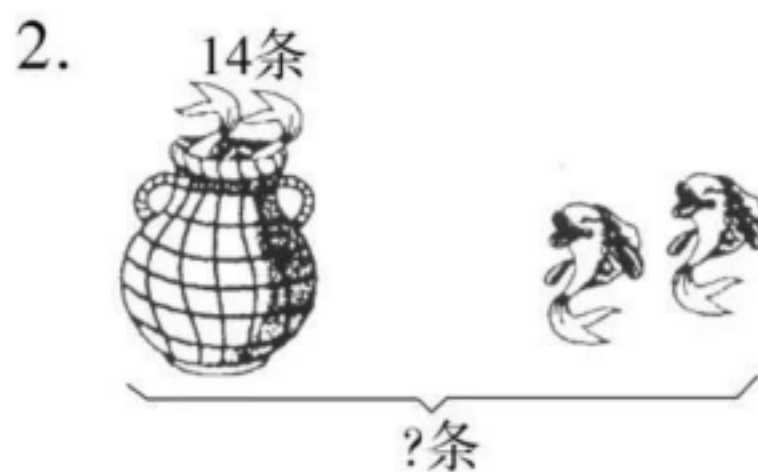
九、看图列式计算。(8分)



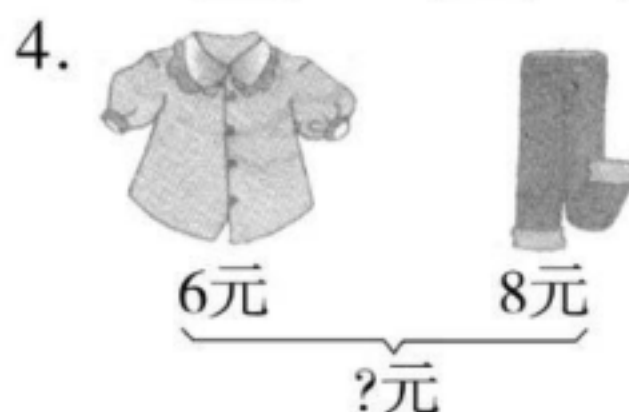
$$\square \bigcirc \square = \square (\text{个})$$



$$\square \bigcirc \square = \square (\text{个})$$




$$\square \bigcirc \square = \square (\text{条})$$



$$\square \bigcirc \square = \square (\text{元})$$

十、解决问题。(1~3题每题2分,4题5分,共11分)

1.



又游来了9只。



现在有多少只鸭?

$$\square \bigcirc \square = \square (\text{只})$$

2.



我已经得了7颗☆,今天老师又奖给我8颗☆。

你一共得了多少颗☆?



$$\square \bigcirc \square = \square (\text{颗})$$

3.



共有16人排队



小明

小明的后面还有多少人排队?

$$\square \bigcirc \square = \square (\text{人})$$

4.



8元



10元



2元



12元

(1) 买一个皮球和一辆小汽车一共要用多少元?

$$\square \bigcirc \square = \square (\text{元})$$

(2) 买一个皮球和一把小刀一共要用多少元?

$$\square \bigcirc \square = \square (\text{元})$$

(3) 你还能提出什么数学问题?

VV99.net

免费文档下载