


教科版一年级科学上册期末试卷（新版）

班级：_____ 姓名：_____

题序	一	二	三	四	五	总分
得分						

一、选择题。

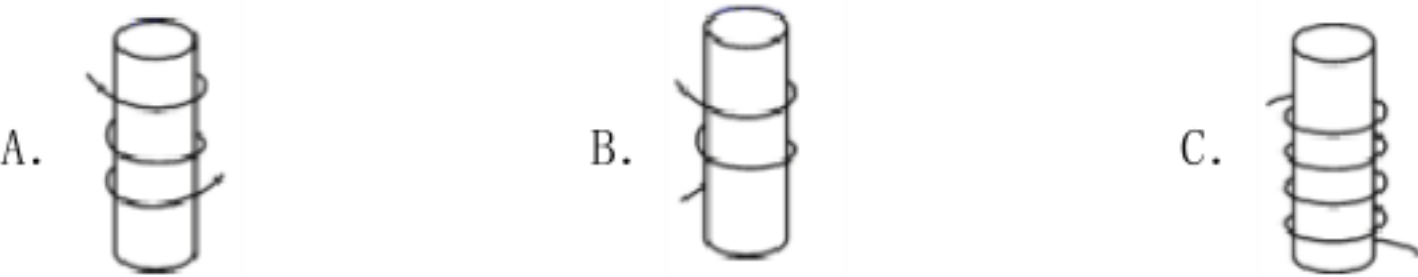
1、下列物体中，与鸡蛋形状相似的是（ ）。



2、下面物体由石头做成的是（ ）。

- A. 木材
- B. 棉被
- C. 雕塑

3、下列三根线中，最长的是（ ）。



4、小狗的鼻子可灵敏了，可以闻到各种（ ）。

- A. 味道
- B. 气味
- C. 声音

5、如图所示，这些物品的分类标准是根据（ ）。



- A. 轻重
- B. 形状
- C. 大小

6、测量物体长度时，测量计划是（ ）。

- ①在相连处画线做记号 ②选定起点和终点 ③数一数测量结果 ④每个单位之间要首尾相连

A. ④②③①

B. ②④①③

C. ①②③④

7、下图这几种叶子是扇形的是（ ）。

A.



B.



C.



8、我们是根据（ ）来辨认植物的。



A. 颜色

B. 形象

C. 气味

9、松树的叶子是（ ）。

A. 细长的

B. 爱心型

C. 圆形的

10、在校园里观察小动物时，使用棉签的目的不包括（ ）。

A. 方便记录

B. 不用手直接抓

C. 不伤害小动物

二、判断题。

1、天气太冷了，可以把教室的门窗都关闭。（ ）

2、能溶解到水中的物质都是无色的。（ ）

3、人会使用工具，会使用工具的也就是人。（ ）

4、使用剪刀时要注意安全。（ ）

5、油可以溶于水。（ ）

6、我们要节约用水，珍惜每滴水。（ ）

7、蚂蚁的身体分头胸腹三部分。（ ）

8、科学课上有小游戏、小制作，还有观察、实验。（ ）

9、大公鸡是小鸡的妈妈。（ ）

10、一杯不认识的液体，可以用尝一尝的方法进行辨别。（ ）

三、连线题。

1、把沙子、黏土与其相对应的特点连起来。

	颗粒小
沙 子	不沾手
	粗 糙
	细 腻
黏 土	颗粒大
	沾 手

四、 看图完成下列题目。



1. 沙子的渗水性比黏土好，是因为（ ）。
A. 沙子的颗粒大 B. 沙子比较干净 C. 沙粒间的空隙大
2. 黏土可以用来做（ ）。
A. 沙雕塑 B. 沙画 C. 陶罐
3. 关于沙子和黏土下列说法正确的是（ ）。
A. 黏土粗糙 B. 沙子比黏土干 C. 干沙子不沾手

五、 想一想



①

②

③

④

⑤

气球

魔方

水杯（水）

足球

火柴

(1) 上面五种物体中可以流动的是（_____）

(2) 上面五种物体中（_____）和（_____） 可以分为一类。

(3) 上面五种物体中②和⑤相比（_____）比较轻。

参考答案

一、选择题。

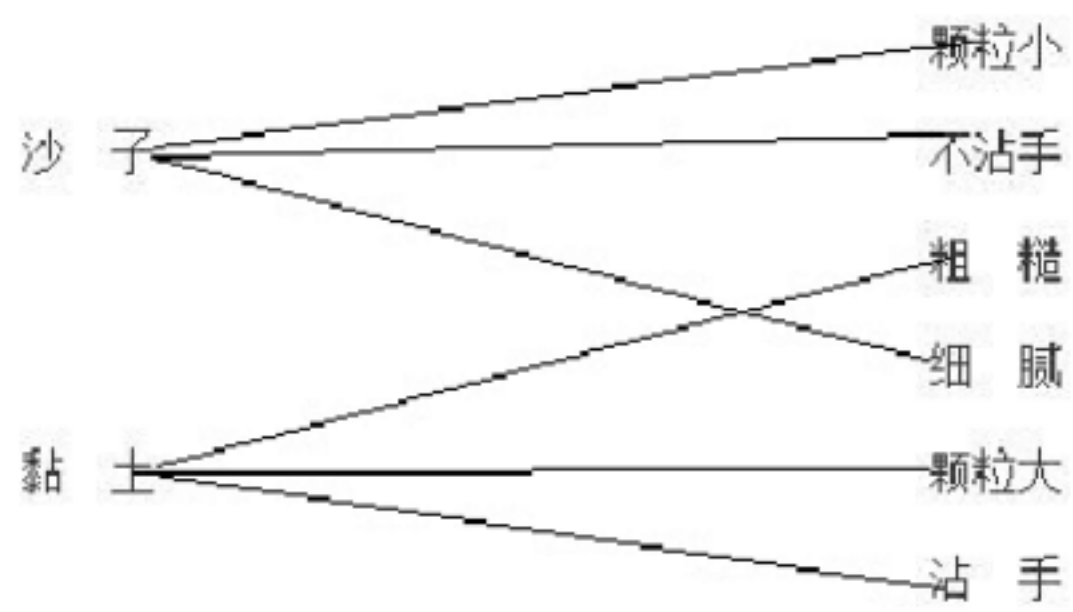
- 1、B
- 2、C
- 3、C
- 4、B
- 5、B
- 6、B
- 7、C
- 8、C
- 9、A
- 10、A

二、判断题。

- 1、×
- 2、×
- 3、×
- 4、√
- 5、×
- 6、√
- 7、√
- 8、√
- 9、×
- 10、×

三、连线题。

- 1、



四、 看图完成下列题目。

1、

1. C 2. C 3. C

五、 想一想

1、水 气球 足球 火柴

VV99.net

免费文档下载