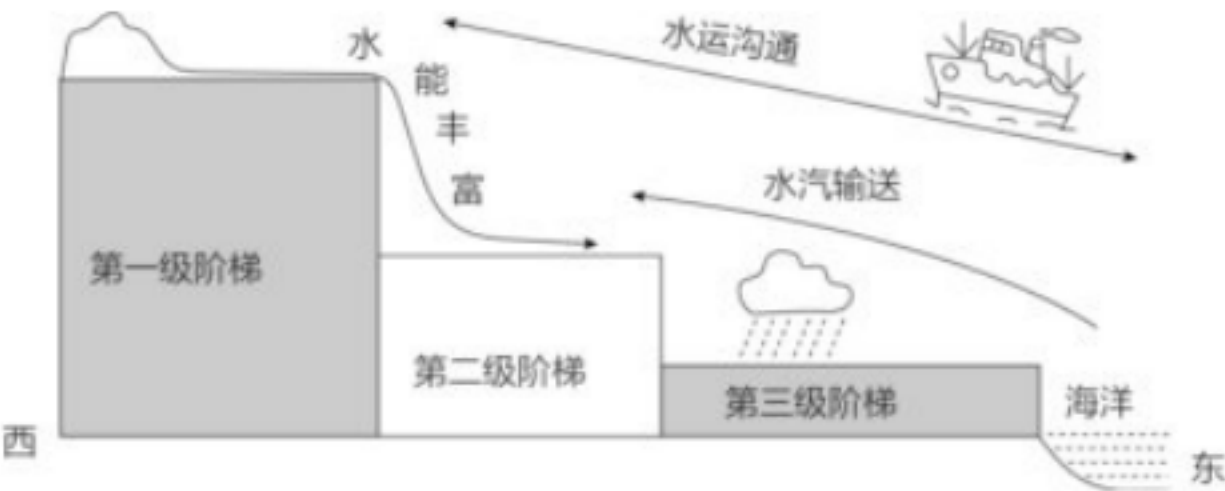


鲁教版初中地理七年级上册期中测试卷

一、选择题。

1. 如图为某地理老师讲“我国的地势特征”时绘制的简图。该图反映出我国的地势特征对社会经济发展的有利影响有（ ）



- ①大河沟通东西交通，方便沿海和内地的联系
- ②三级阶梯地势都很平坦，耕地资源都很丰富
- ③有利于海洋湿润气流深入内陆，带来丰富的降水
- ④阶梯交界处河流落差大，水能资源丰富

- A.①③④
- B.①②③
- C.②③④
- D.①②④

2. 如图示意珠江水系图，读图完成1 - 2题。

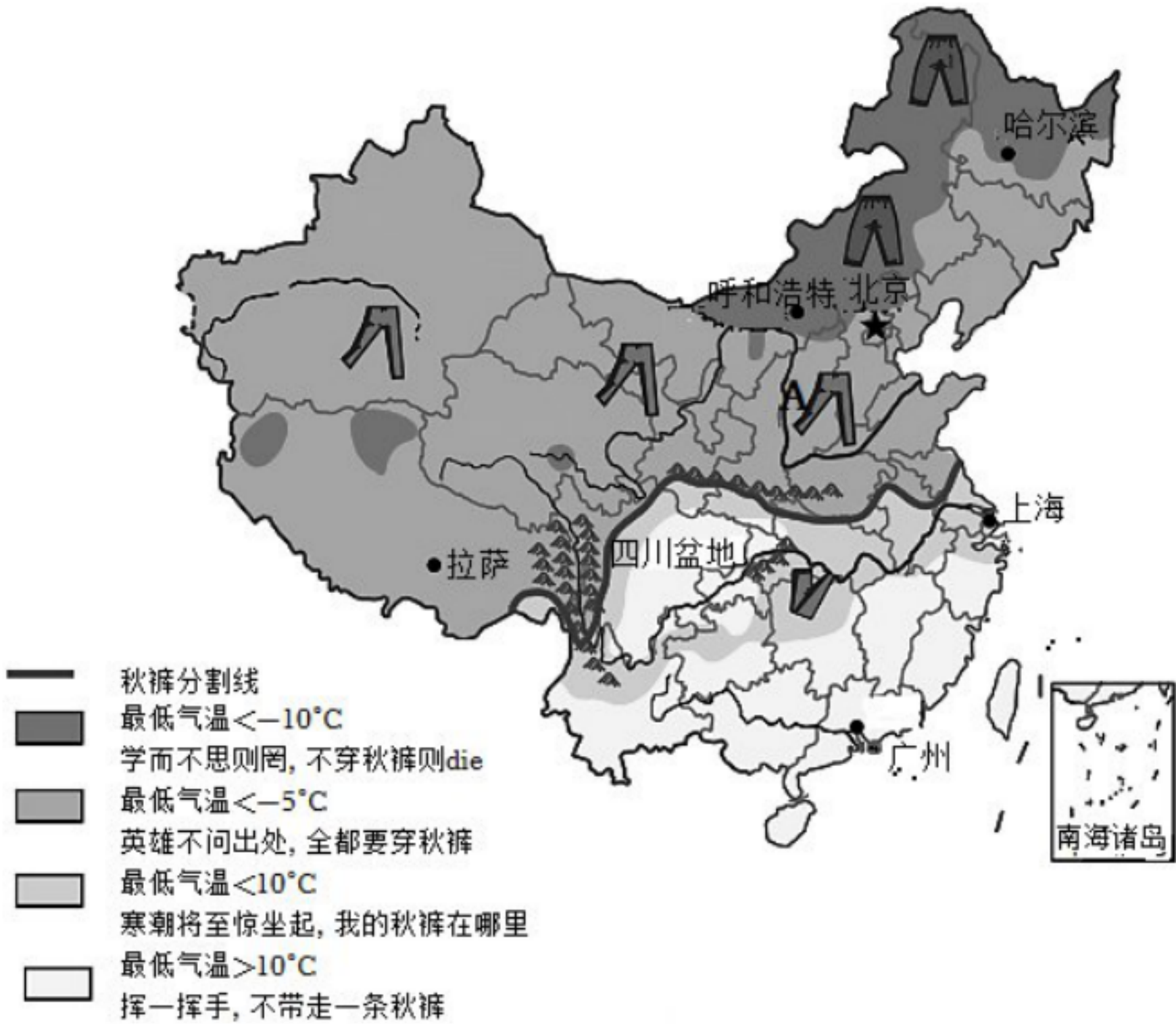


- (1). 关于珠江的叙述，正确的是（ ）
- A.注入印度洋
 - B.有结冰期
 - C.含沙量大
 - D.水位季节变化大

- (2). 珠江注入我国四大边缘海中的 ()
- A.渤海
 - B.黄海
 - C.东海
 - D.南海

3. 2023年5月12日是第15个全国“防灾减灾日”。下列关于防灾减灾做法不正确的是 ()
- A.当遭遇雷雨天气时，应远离电线杆，防止漏电伤人
 - B.当发生泥石流时，应向垂直于泥石流流动方向的山坡上跑
 - C.发生火灾时，人在高楼撤离要乘坐电梯迅速逃生
 - D.发生地震时，在户外应选择开阔地带避震，在室内应尽量抱头屈膝躲在小开间的墙角

4. 中央气象台10月25日发布寒潮蓝色预警，受新一股冷空气影响，预计未来三天我国中东部地区将自北向南出现大风降温天气，如图为“秋裤预警地图”。读图判断下列说法正确的是 ()



- A. “不穿秋裤则Die” 的城市是广州
- B. “秋裤预警地图” 反映我国气温从北向南递减

C. “秋裤预警地图” 反映了我国气温从西北向东南递减

D.和同纬度的长江中下游平原相比，四川盆地却“不带走一条秋裤”，主要是因为其四周环山

5. 中华人民共和国成立以来，我国各民族和睦相处、共同发展。下列对我国民族分布、文化及政策的叙述，正确的是（ ）

①少数民族主要分布在西南、东南和西北地区

②具有大散居、小聚居、交错杂居的特点

③在中国入选世界非物质文化遗产名录项目中，有很多是少数民族文化的杰出代表。例如新疆维吾尔族的《格萨尔》史诗、侗族大歌、蒙古族呼麦等

④各少数民族聚居的地区实行民族区域自治

⑤各少数民族有自己的民族语言和文字，很多少数民族地区设有双语站牌名

A.①③⑤

B.②④⑤

C.①②④

D.②③④

6. 拥有“小桥·流水·人家”景观的小镇最可能位于的干湿地带为（ ）



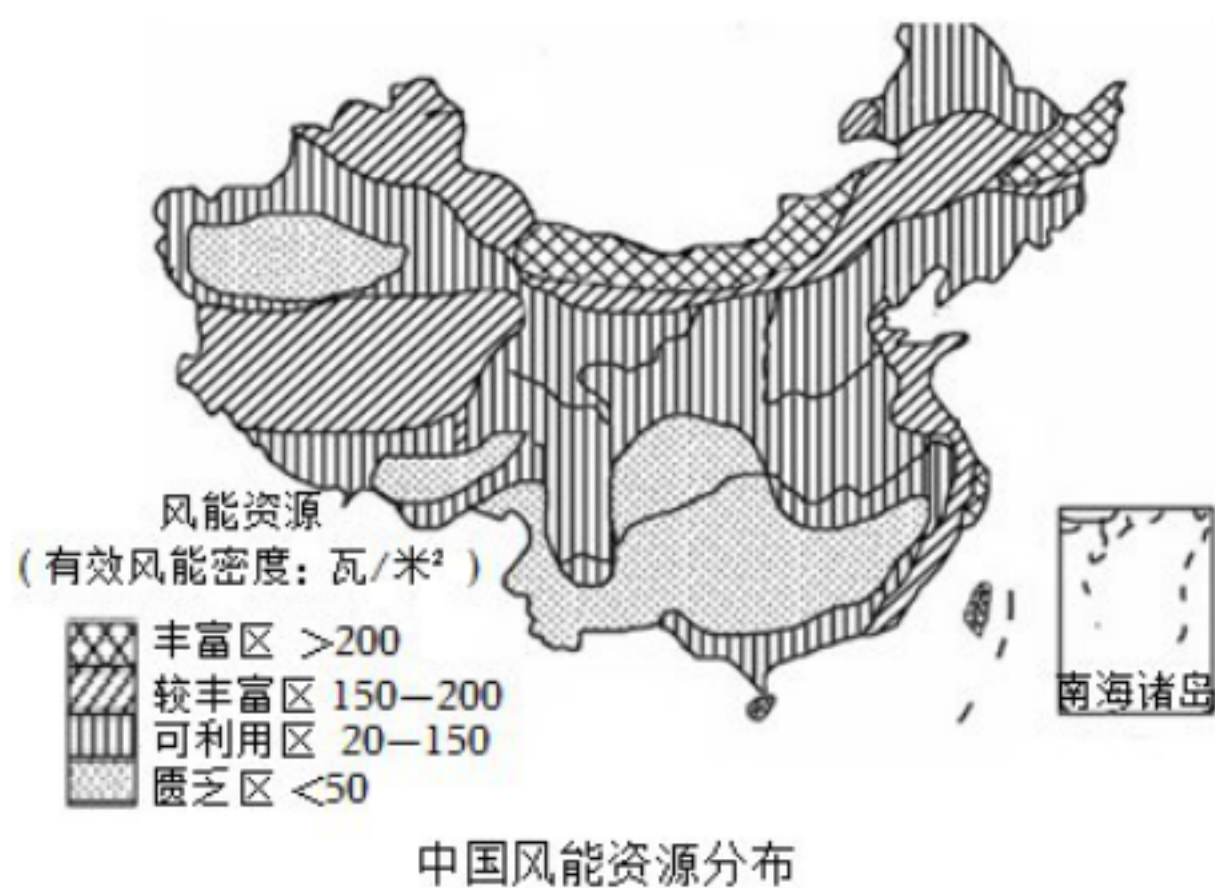
A.干旱地区

B.半干旱地区

C.半湿润地区

D.湿润地区

7. 读中国风能资源分布图，回答1~3题。



(1). 根据能源是否能重复利用的性质，下列能源与风能性质相同的是 ()

- A.煤炭
- B.石油
- C.太阳能
- D.天然气

(2). 风能欠缺的地区是 ()


- A.北京
- B.重庆
- C.台湾
- D.成都

(3). 关于海上风电的优点是 ()



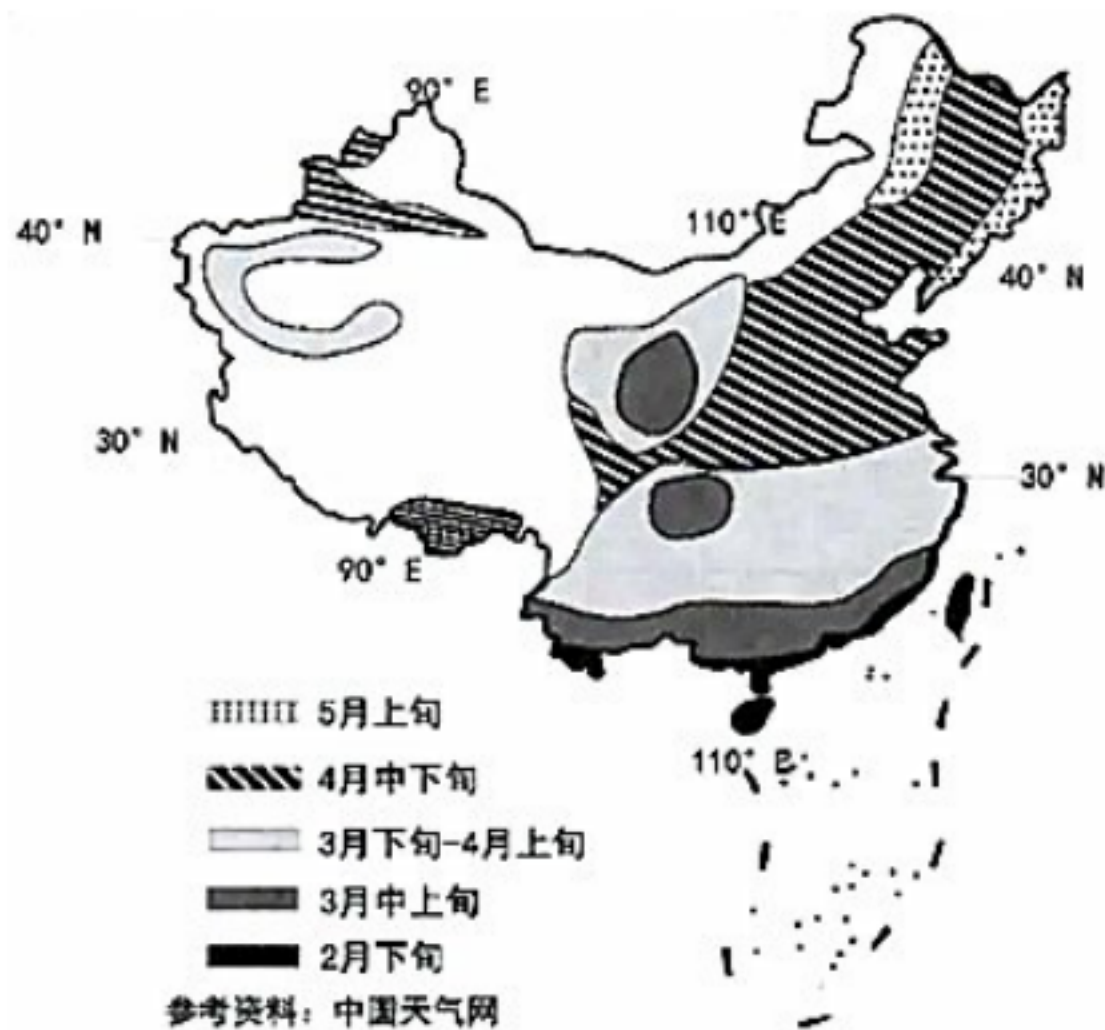
- A.投资成本低
- B.解决了西部地区能源不足的问题
- C.海平面没有遮挡物，风力足
- D.稳定可靠，可大规模开发

8. 2022年第24届冬奥会将由北京与张家口联合举办，冰墩墩和雪容融是本次冬奥会的吉祥物。读图，据此完成1~2题。



- (1). 2022年北京冬奥会最佳的时间宜选择在 ()
- A.5~6月
B.8~9月
C.10~11月
D.1~2月
- (2). 与北京相比，张家口市承办户外雪上赛事项目的有利条件是 ()
- A.冬季气温较高
B.地形起伏小
C.场馆设施更多
D.降雪量更多

9. 一年之计在于春，如图为“我国春耕春播时间示意图”，据此完成1~2题。



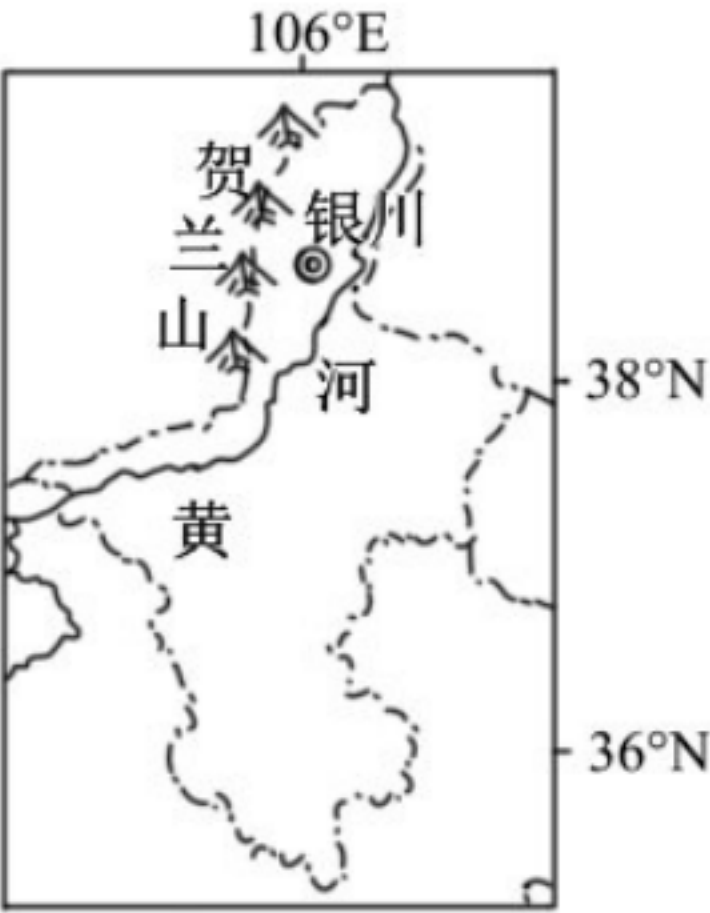
- (1). 导致我国东部地区春耕时间差异的主要因素是 ()
- A.海陆位置

- B.纬度位置
- C.地形地势
- D.人类活动

(2). 东北是全球水稻种植最北地区，其有利的气候条件是（ ）

- A.冬季寒冷漫长
- B.雨热同期
- C.昼夜温差小
- D.日照充足

10. “一山一水一长廊”造就了贺兰山东麓葡萄种植的优越环境。如图示意宁夏回族自治区位置。据此完成1~2题。



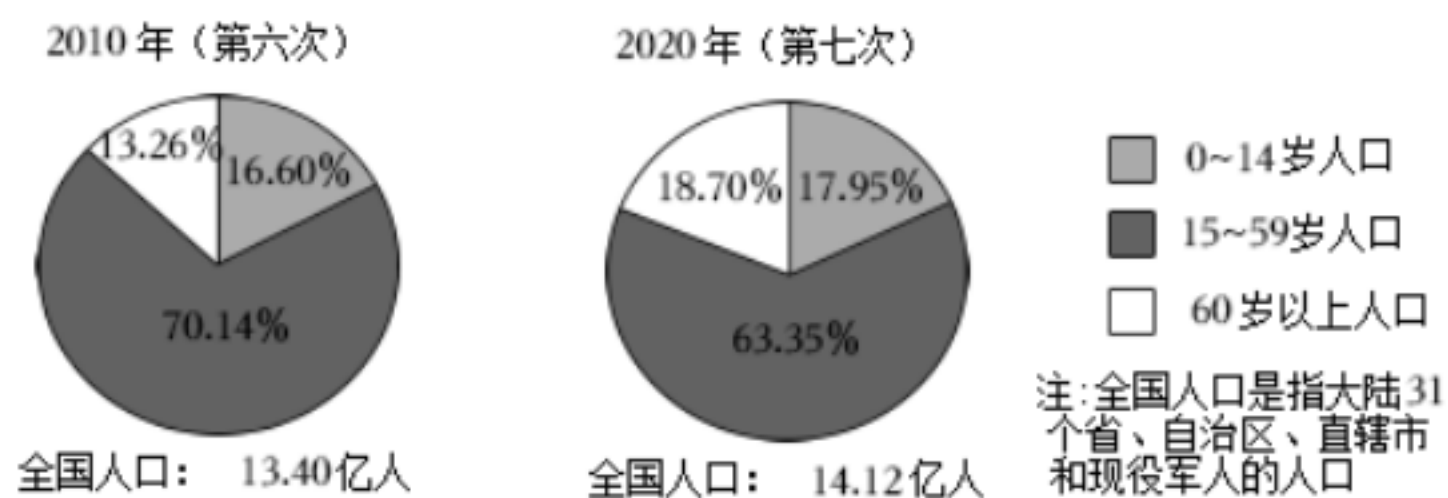
(1). “一山”是指贺兰山，据图判断其走向是（ ）

- A.东西走向
- B.弧形山脉
- C.南北走向
- D.西北—东南走向

(2). 贺兰山东麓葡萄种植的优越气候条件是（ ）

- A.气候温和、降水丰富
- B.光照强、昼夜温差大
- C.地处低纬、热量充足
- D.气温年较差、日较差小

11. 我国已完成七次全国人口普查工作。如图为第六次、第七次全国人口普查部分数据统计图。读图，完成第1~2题。



(1). 2010 - 2020年间 ()

- A. 0 - 14岁人口数量减少
- B. 15 - 59岁人口比重增加
- C. 60岁以上人口比重增加
- D. 全国人口增长超过1亿

(2). 人口普查可以 ()

- ①掌握人口规模的变化
- ②查清人口结构的状况
- ③改变人口空间分布格局
- ④提供人口政策制定的依据

- A. ①②③
- B. ①②④
- C. ①③④
- D. ②③④

12. 中国是茶的故乡，茶文化的发源地。绿茶、红茶、黑茶、乌龙茶、黄茶、白茶为我国六大茶类。如图是我国黑茶主要分布区域图。据此完成1~2题。



(1). 图中黑茶与所在省区简称对应正确的是 ()

- A. 茯茶—陇
- B. 老青茶—湘
- C. 边茶—渝

D.六堡茶—桂

(2). 图中普洱茶所在地形区的地势地貌特征是 ()

A.远看是山，近看是川

B.地势坦荡，一望无际

C.千沟万壑，支离破碎

D.地表崎岖，多喀斯特地貌

VV99.net

免费文档下载