

## 人教版地理八年级上册期末水平自测卷①

来源：凜冬洋(QQ3390869957)

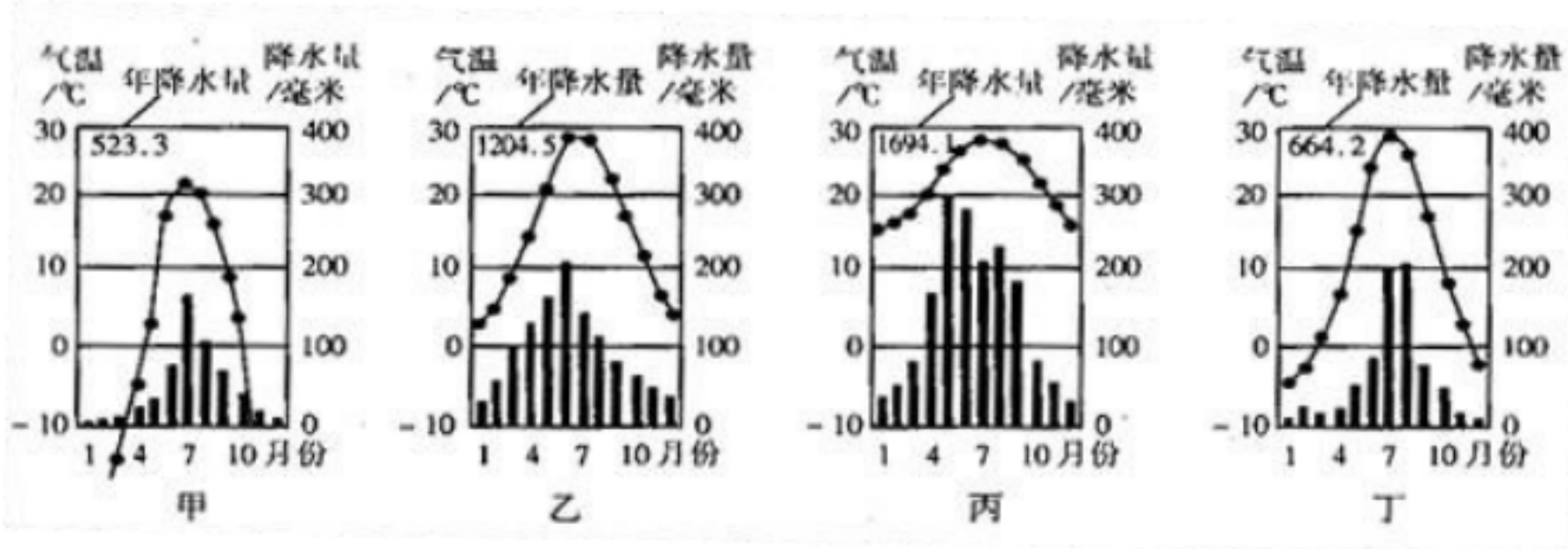
### 一、单选题（共 26 题；共 64 分）

- 1、下列关于我国疆域的表述，正确的是（ ）
  - A、我国领土最东端在台湾省
  - B、我国领土东西跨经度约 50 度
  - C、我国领土南北跨纬度 49 度多
  - D、我国大陆海岸线长约 2 万多千米，陆上国界线约 1.8 万千米
- 2、当乌苏里江 7 点太阳升起的时候，帕米尔高原上的边防战士正在（ ）
  - A、吃早餐
  - B、上夜校
  - C、收看午间新闻
  - D、午夜巡逻
- 3、下列关于我国人口的叙述，正确的是（ ）
  - A、我国内蒙古、新疆、西藏、青海四省区，面积占全国的一半，人口仅占全国的五分之一
  - B、我国黑河—腾冲线的东南部地区面积不及全国的一半，而人口占全国的 94%
  - C、我国东部地区人口稀少而西部地区人口密集
  - D、江苏、台湾人口密度高达 500 人 / 平方千米以上
- 4、我国人口分布很不均衡，疏密有一定规律。在黑河—腾冲人口线以西绝大部分地区人口密度小于（ ）
  - A、400 人 / 平方千米
  - B、100 人 / 平方千米
  - C、10 人 / 平方千米
  - D、1 人 / 平方千米
- 5、读我国华北某地区等高线图，回答下题。



- 下列各种关于地形、地势的表述中，最符合图示地区的是（ ）
- A、山河相间、山高谷深
  - B、危崖耸立、地势险要
  - C、远看是山、近看成川
  - D、地面起伏、沟壑纵横

6、甲、乙、丙、丁四幅图分别是我国东部季风区南、北方四个平原地区的气温年变化曲线图和各月降水柱状图，如果四图分别代表四座城市广州、武汉、北京、哈尔滨，则其对应关系正确的是（ ）



- A、甲——北京、乙——武汉、丙——广州、丁——哈尔滨
- B、甲——哈尔滨、乙——武汉、丙——广州、丁——北京
- C、甲——哈尔滨、乙——广州丙——武汉、丁——北京
- D、甲——北京、乙——广州丙——武汉、丁——哈尔滨

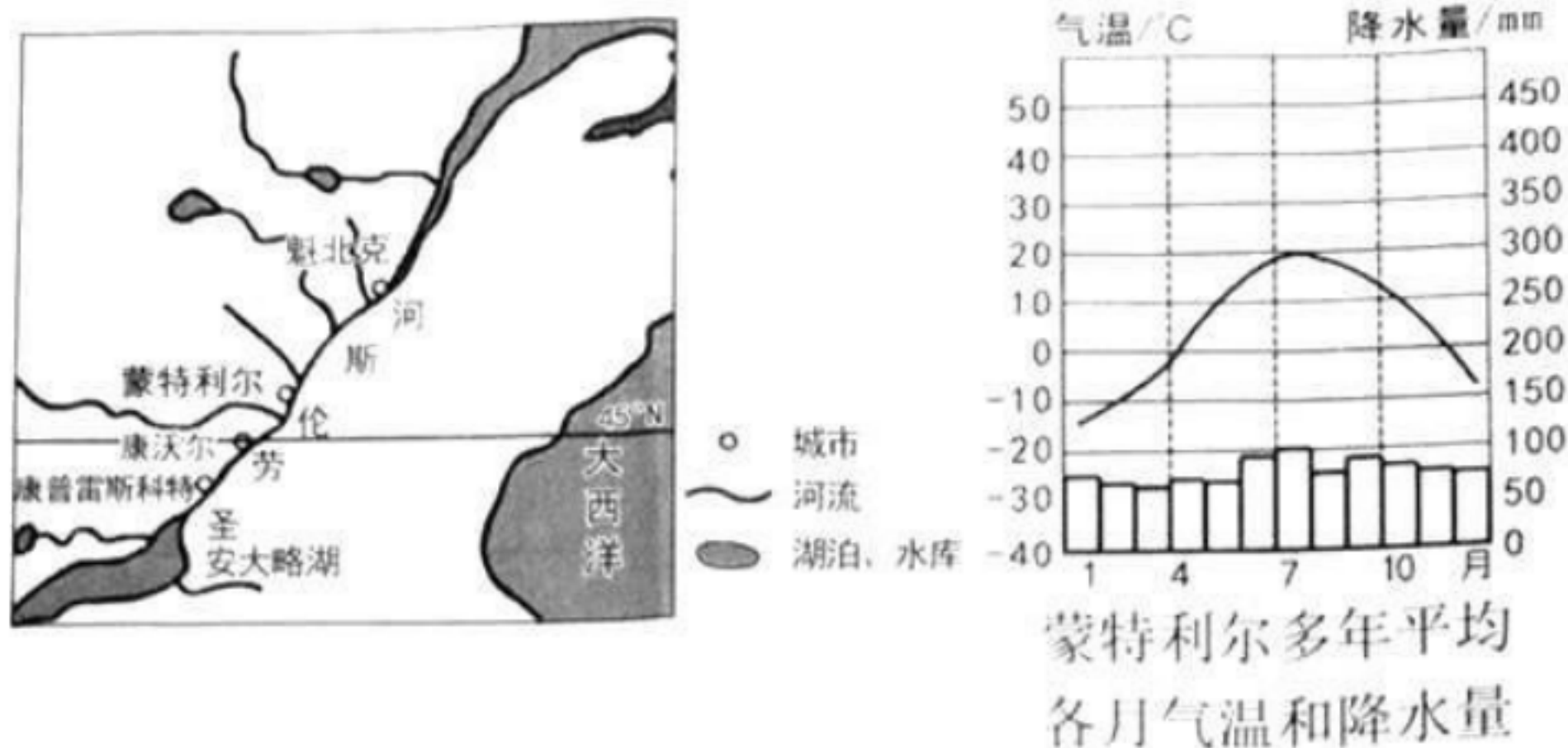
7、下表是四个城市气温与降水资料，这四个城市依次是

城市代号	一月		七月		年均温℃	年降水量mm
	气温℃	降水 mm	气温℃	降水 mm		
A	—4.3	2.7	25.9	175.7	11.8	577.9
B	3.7	39.4	27.8	127.9	15.8	1109.8
C	—13.5	7.5	24.7	20.4	6.9	236.4
D	13.3	43.4	28.5	227.6	21.9	1684.3

四个城市最有可能的是

- A、呼和浩特、武汉、拉萨、南昌
- B、哈尔滨、成都、西宁、昆明
- C、银川、西安、长春、海口
- D、北京、上海、乌鲁木齐、广州

8、（2017·广东）圣劳伦斯河是一条著名的“冰冻之河”，读图，完成以下问题。



(1) 蒙特利尔附近河段结冰期大约为 ( )

- A、2 个月
- B、4 个月
- C、6 个月
- D、8 个月

(2) 城市多沿圣劳伦斯河分布的原因是 ( )

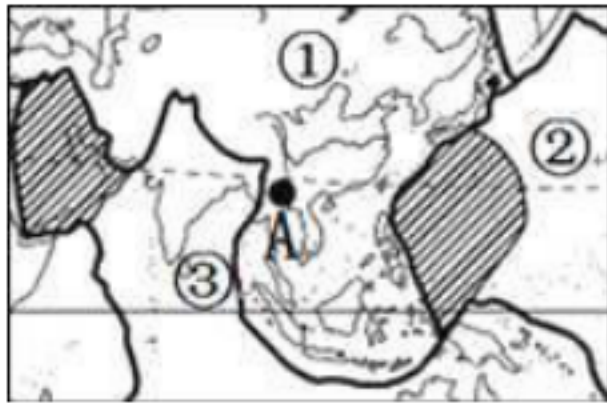
- ①气候常年温和多雨 ②水源充足 ③水运便利 ④多平坦开阔的地形
- A、①②③
- B、①②④
- C、①③④
- D、②③④

9、关于长江和黄河的叙述，正确的是 ( )

- ①都发源于青藏高原，都流经了三级阶梯；
- ②长江是我国第一大河，黄河是我国第二大河；
- ③长江中下游以湖口为界，黄河中下游以河口为界；
- ④水能资源方面，长江集中在上游河段，黄河集中在上中游；
- ⑤都属于外流河，长江水量大无结冰期，黄河含沙量大有凌汛。
- A、①②③④⑤
- B、①②③
- C、③④⑤
- D、①④⑤

10、2014 年 10 月 7 日 21 时 49 分，我国云南省普洱市景谷傣族彝族自治县（图中 A 处：100.5° E，23.4° N）发生了 6.6 级地震，深度 5 千米。读材料和世界板块分布局部图，对于该地震产生的主要原因描述

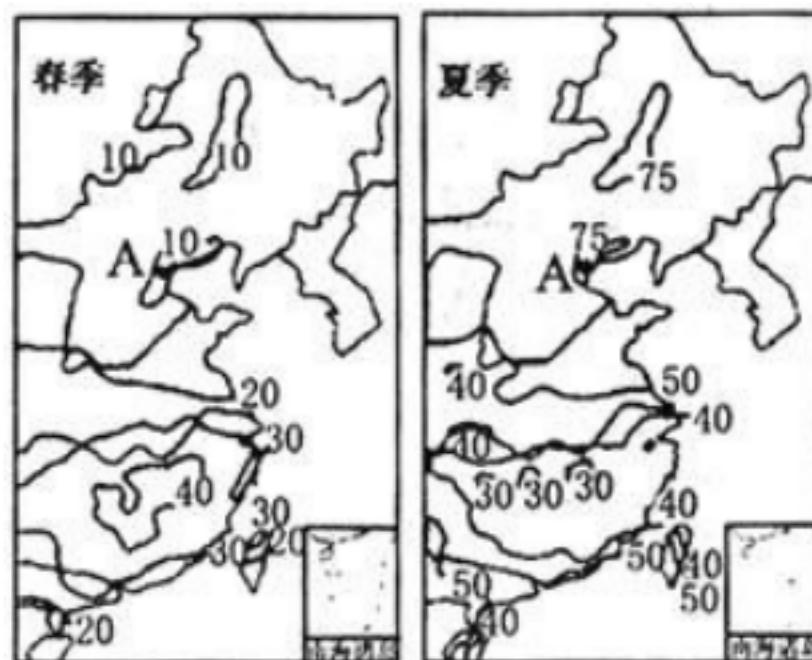
正确的是（ ）



- A、位于①欧亚板块与②太平洋板块交界处，地壳运动比较活跃
- B、位于①欧亚板块与③印度洋板块交界处，地壳运动比较活跃
- C、位于②太平洋板块与③印度洋板块交界处，地壳运动比较活跃
- D、位于①欧亚板块、②太平洋板块与③印度洋板块交界处，地壳运动比较活跃

11、如图反映了我国东部地区春季和夏季降水占全年降水的比重，根据图中的信息判断，图中的 A 地极有

可能发生的灾害是（ ）



- A、春旱和夏涝
- B、台风
- C、泥石流
- D、滑坡

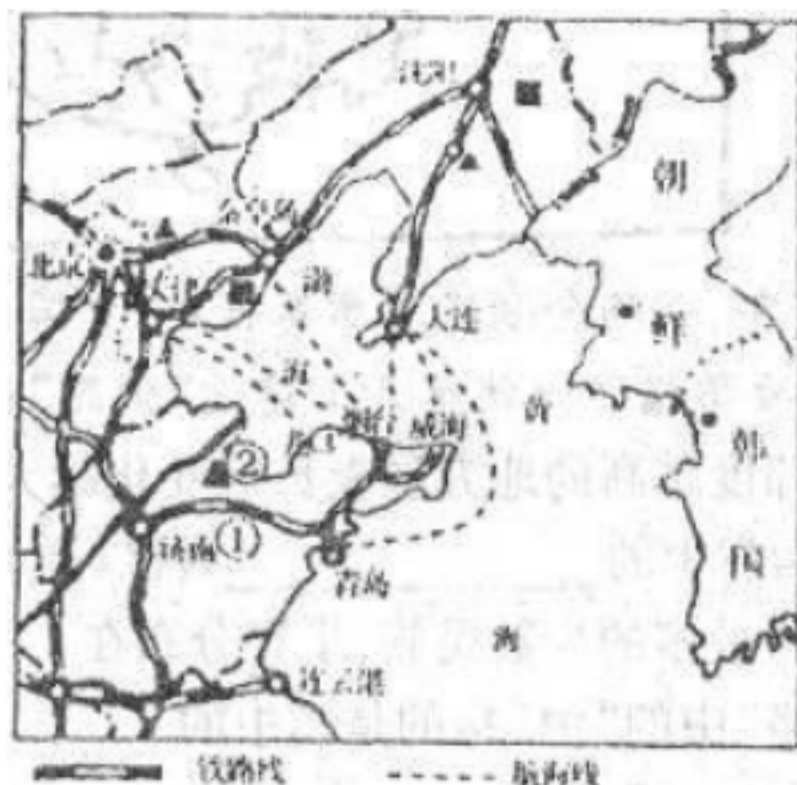
12、右图甲地降水丰富，与之关联的资源有 （ ）



- ①铁矿 ②水能 ③石油 ④森林
- A、①②
- B、②③
- C、③④
- D、②④



13、阅读下图，图中的②指的是（ ）



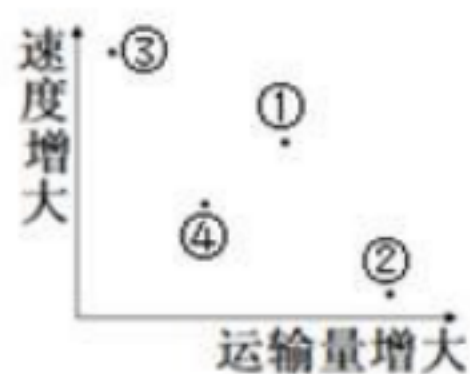
- A、大庆油田
- B、胜利油田
- C、华北油田
- D、中原油田

14、下列说法正确的有（ ）

- ①我国的铁矿资源贫矿多、富矿少
- ②我国的煤炭资源主要分布在华北和西北地区，山西、陕西和内蒙古等省区最为丰富
- ③我国高新技术产业起步较早，发展迅猛。河北雄安新区是我国第一个国家级高新技术产业开发区
- ④我国工业基地的分布，表现出沿海、沿江河、沿铁路线的特点。其中沪宁杭工业基地是全国最大的综合性工业基地

- A、①②③
- B、①②④
- C、②③④
- D、①②③④

15、比较我国主要运输方式的运输量和速度的关系，说出图中数字所代表的运输方式分别是什么（ ）

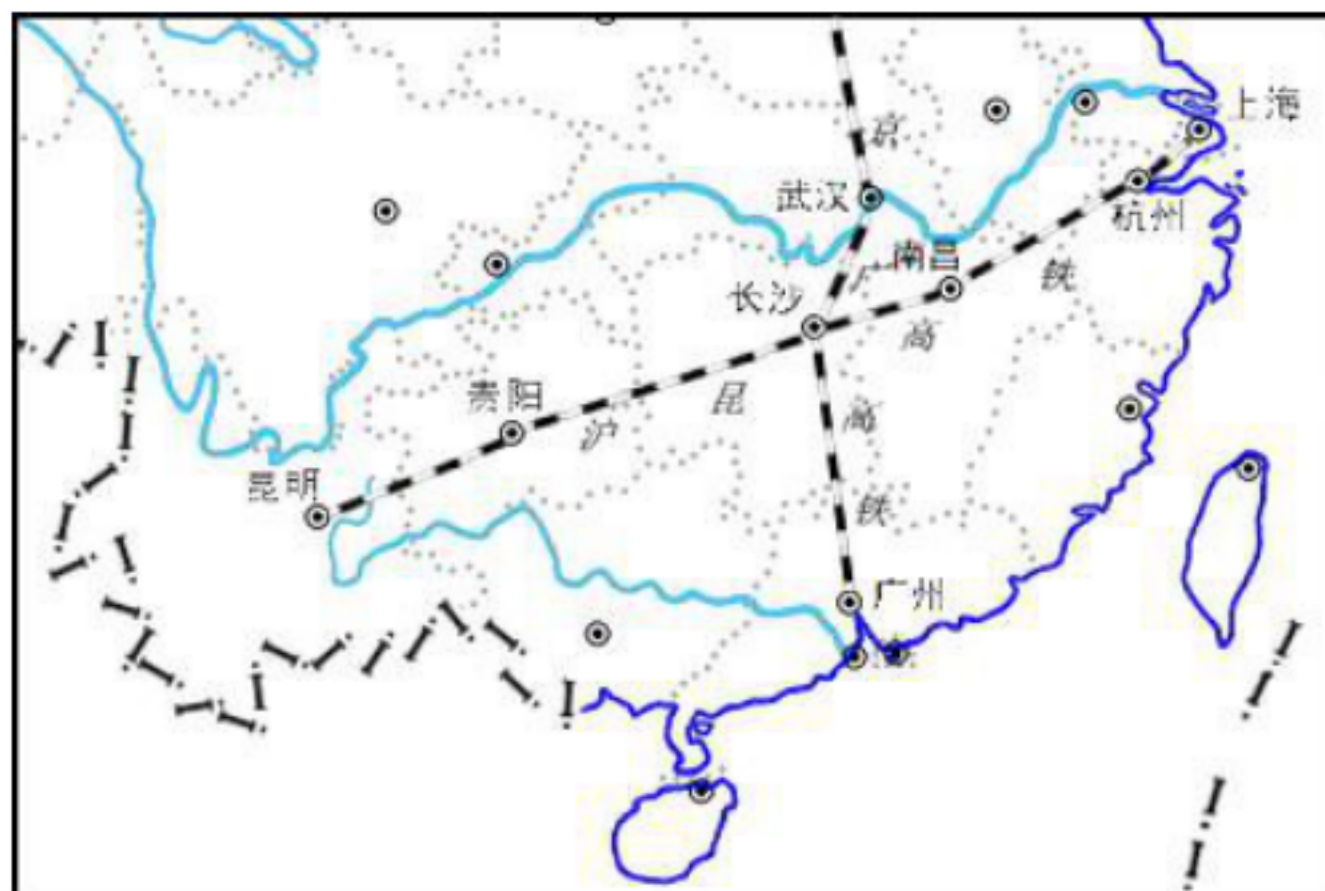


- A、①公路、②空运、③铁路、④水运
- B、①铁路、②水运、③空运、④公路
- C、①水运、②铁路、③公路、④空运
- D、①公路、②空运、③水运、④铁路

16、我国东部沿海地区的高速公路多的主要原因是（ ）

- A、地形平坦，没有大的山川阻碍
- B、城市和人口集中，经济发达，资金雄厚
- C、原有的公路网密布，便于改建高速公路
- D、地处沿海，便于国际交流，发展对外贸易

17、2016年12月28日，我国东西向最长高铁—沪昆高铁全线通车。读下图，完成下面小题。



(1)沪昆高铁经过的地形区是（ ）

- A、云贵高原
- B、四川盆地
- C、华北平原
- D、珠江三角洲

(2)沪昆高铁全线通车日，沪昆高铁沿线（ ）

- A、麦浪滚滚
- B、昼短夜长
- C、烈日炎炎
- D、台风肆虐

(3)沪昆高铁全线开通后，对以下航空线客流量影响最大的是（ ）

- A、昆明到上海
- B、贵阳到昆明
- C、南昌到广州
- D、上海到广州

18、（2011•株洲）图为日本轮廓简图，读图回答下列三小题。



(1) 2011 年 3 月 11 日，日本本州东海岸附近海域发生了 9.0 级地震，并引发了海啸。日本地震频发的主要原因是（ ）

- A、日本是一个多山的国家
- B、日本位于板块的交界处
- C、日本建设了很多核电站
- D、日本是一个岛国

(2) 日本是经济发达的资本主义国家，其工业主要集中分布在（ ）

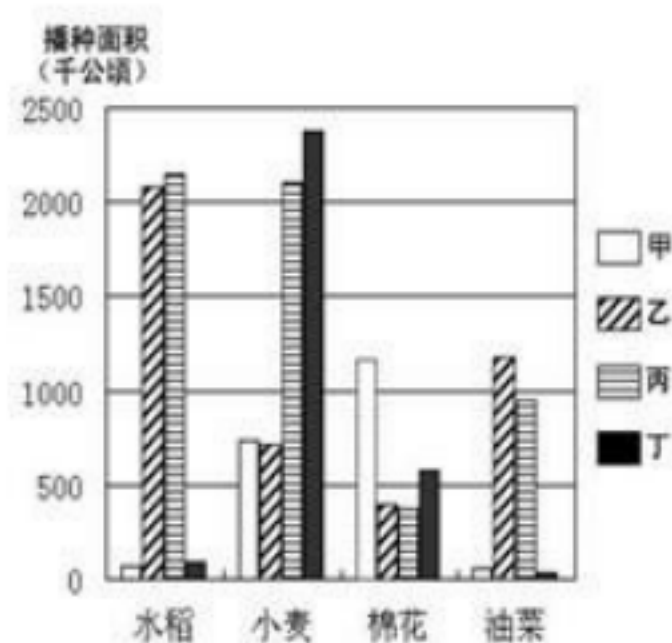
①日本海沿岸 ②太平洋沿岸 ③濑户内海沿岸 ④本州岛中部。

- A、①②
- B、②③
- C、①③
- D、②④

(3) 地震发生后，中国政府向日本抗震救灾援助的石油，选择最佳的运输方式是（ ）

- A、管道运输
- B、铁路运输
- C、海洋运输
- D、航空运输

19、读“我国四省区水稻、小麦、棉花、油菜播种面积统计图”，据此回答下题。



图中甲、乙、丙、丁分别代表（ ）


- A、新疆、湖北、安徽、河北
- B、河北、湖北、安徽、新疆



C、新疆、安徽、河北、湖北

D、安徽、河北、新疆、湖北

20、图对话是家住湖南某地的小明与好友小亮的 QQ 聊天记录。小明的家乡可能位于（ ）



A、长江中下游平原

B、东北平原

C、华北平原

D、黄土高原

21、我国优良畜种滩羊的省区是（ ）

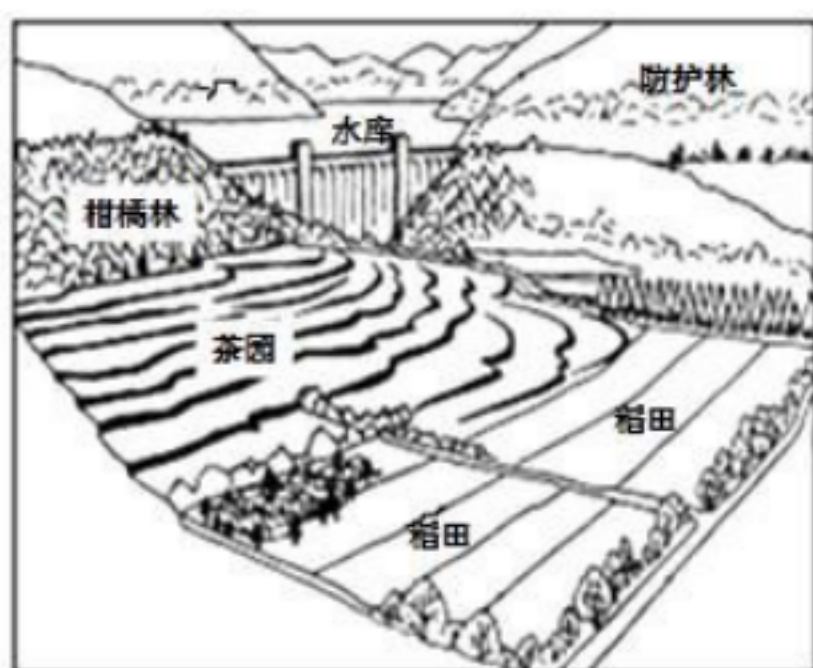
A、西藏自治区

B、宁夏回族自治区

C、新疆维吾尔自治区

D、内蒙古自治区

22、读我国某地农业生产景观图，回答下列各题。



某地农业生产景观图

(1)读我国某地农业生产景观图，判断该地位于（ ）

A、黄土高原

B、大兴安岭

C、江南丘陵

D、东北平原

(2)该地的主要粮食作物及耕作制度是（ ）

A、小麦 一年一熟

B、小麦 两年三熟

C、水稻 一年一熟

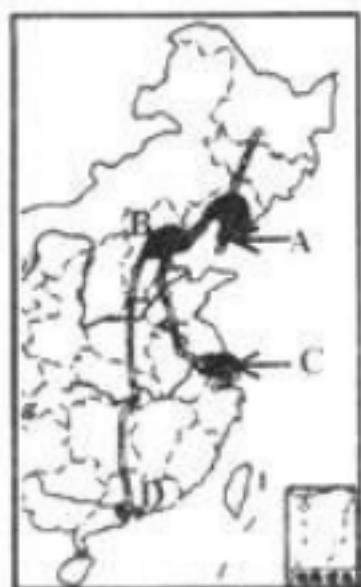
D、水稻 一年两熟



23、下列措施中，符合“两型社会”发展理念的是（ ）

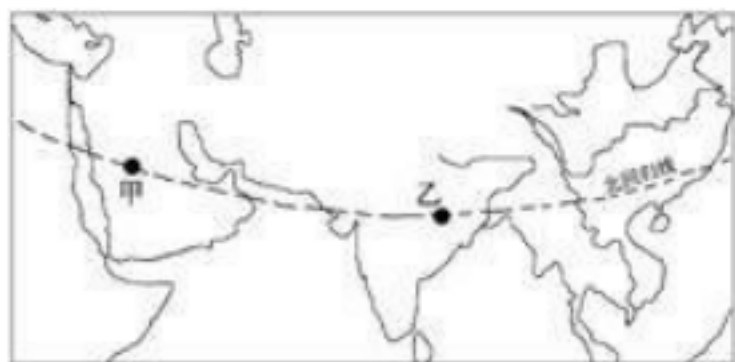
- A、城市群布局采用绿心式形态
- B、长沙大力发展冶金工业
- C、鼓励私人汽车发展
- D、把湘潭发展成为特大城市

24、（2017•南充）对下图中各区域特征的描述错误的是



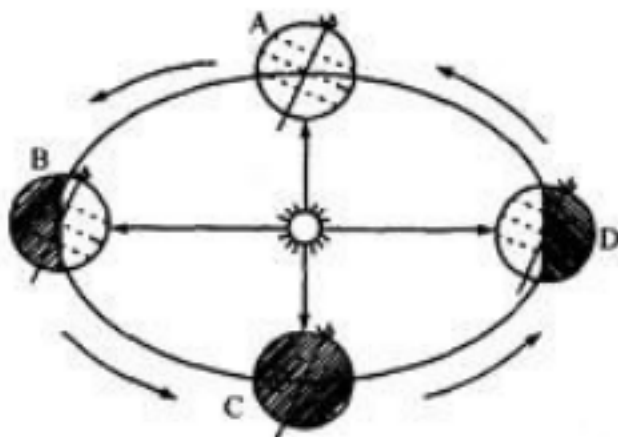
- A、A地区有丰富的煤、铁、石油等资源，发展成为重工业基地
- B、南水北调缓解了B地区水资源紧张状况，有利于工农业生产
- C、C地区集“黄金海岸”和“黄金水道”的位置优势于一体，发展成为我国最大的综合性工业基地
- D、D地区自然资源丰富，形成了世界先进制造业基地

25、图中有关甲乙两地的叙述，正确的是（ ）



- A、两地居民都以白色人种为主
- B、两地纬度相同，气候类型相同
- C、两地都以水稻种植业为主
- D、两地都是世界著名的产油区

26、当地球公转到图中B点位置时，不可能有的现象是（ ）

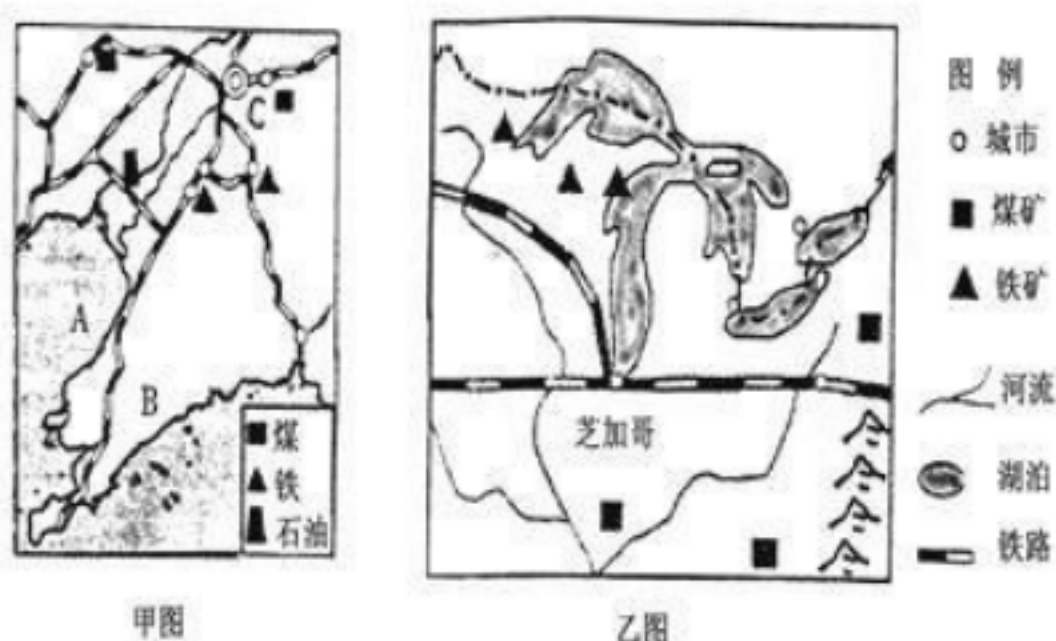


- A、印度半岛处于多雨期
- B、我国内流区内各河流普遍进入枯水期

- C、北京的昼长达一年中最大值  
D、我国东部广大地区盛行东南风

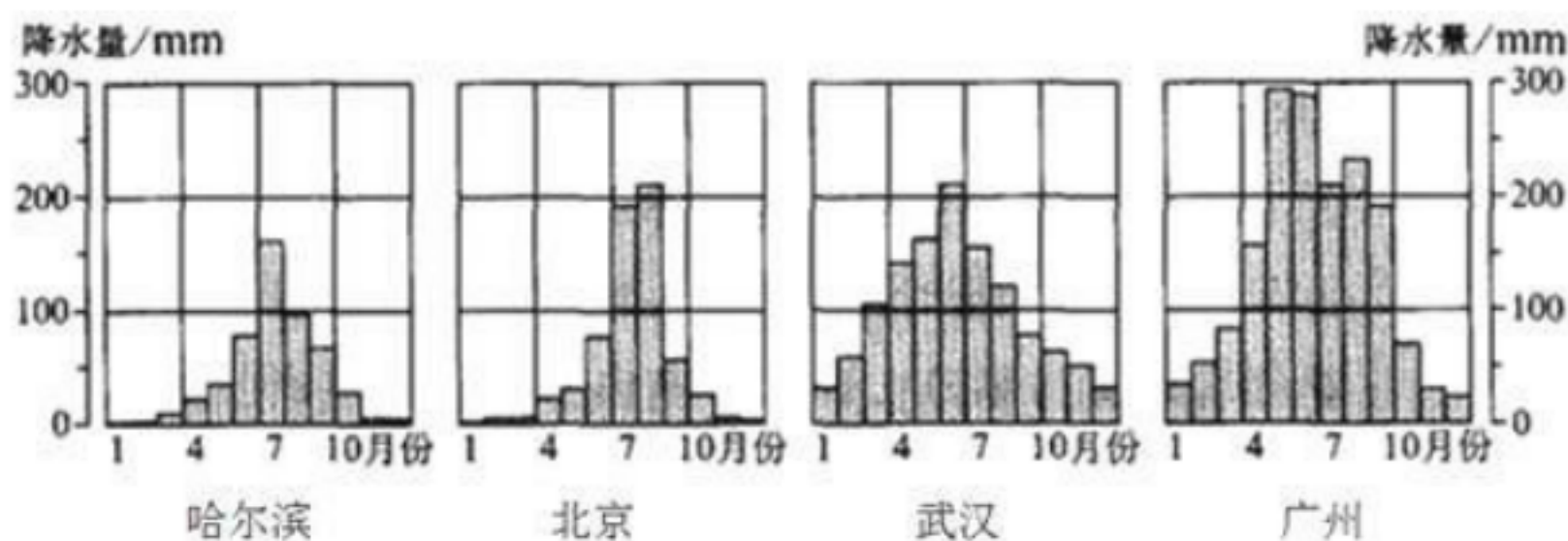
## 二、填空题（共 4 题；共 36 分）

27、甲图和乙图所示地区分别位于中国和美国的东北部，都是本国的老工业区，为本国的经济做出过巨大的贡献，比较后回答：



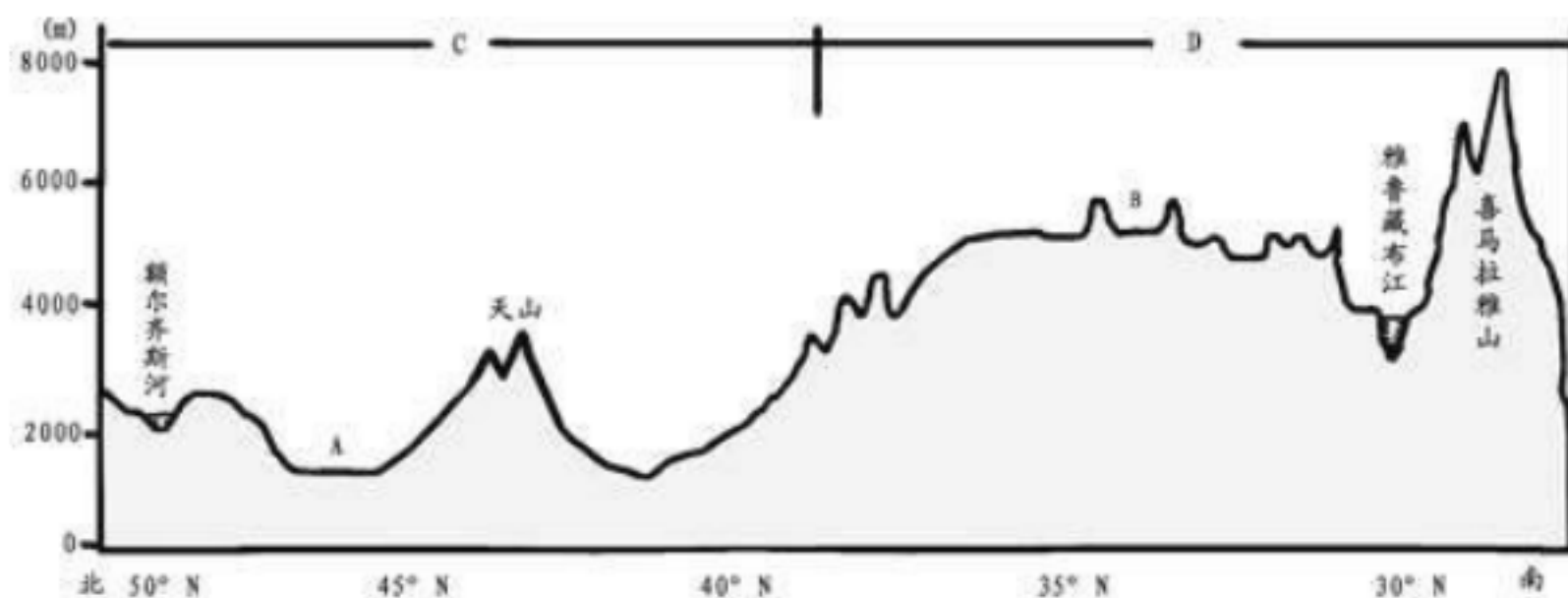
- (1) 甲图所示的是\_\_\_\_\_工业区，乙图所示的是\_\_\_\_\_工业区，两工业区发展工业共同的有利条件是\_\_\_\_\_（矿产）资源丰富，\_\_\_\_\_便利。
- (2) 甲图所示的 A 是\_\_\_\_\_海，B 是\_\_\_\_\_半岛。
- (3) 乙图中五大湖附近的农业带是\_\_\_\_\_，该带所属的气候类型是\_\_\_\_\_。
- (4) 甲图中的省级行政中心 C 是\_\_\_\_\_，乙图中的芝加哥是美国的\_\_\_\_\_中心。

28、读“我国四个城市降水柱状图”，回答下列各题。



- (1) 四个城市各月柱状图表明，我国东部地区的降水量由\_\_\_\_\_向\_\_\_\_\_逐渐减少。（填南或北）
- (2) 四个城市降水的季节分配都\_\_\_\_\_（填均匀或不均匀），降水集中在\_\_\_\_\_季。
- (3) 我国东部地区，雨季开始和结束的迟早主要是由\_\_\_\_\_季风（填冬或夏）的进退决定的，如果月降水量大于 100 毫米即进入雨季，则四城市处于雨季的月份分别有：哈尔滨\_\_\_\_\_月、北京\_\_\_\_\_月、武汉\_\_\_\_\_月、广州\_\_\_\_\_月。由此可见，我国东部从北到南雨季长短变化是\_\_\_\_\_。
- (4) 由四城市月降水柱状图试分析，松花江（哈尔滨附近）、长江（武汉附近）、海河（北京附近）、珠江（广州附近）四条河流汛期长短变化是：\_\_\_\_\_。

29、读我国南北方向(沿东经 85° 经线)的地形剖面图，回答下列问题：



- (1) 图中 A、B 两地所在的省级行政区全称分别是\_\_\_\_\_和\_\_\_\_\_，其中，A 地所在省级行政区的行政中心是\_\_\_\_\_市。
- (2) 如图所示的额尔齐斯河与雅鲁藏布江流出我国后分别流入了邻国\_\_\_\_\_和\_\_\_\_\_；此剖面线上喜马拉雅山南坡与我国相邻的国家是\_\_\_\_\_。
- (3) C、D 两处分别为我国地势的第\_\_\_\_\_级和第\_\_\_\_\_级阶梯，此剖面图所示区域的地势特点是\_\_\_\_\_。

30、我国的“三江并流”自然景观被联合国列入《世界自然遗产名录》。从空中望去，三条大江由北往南平行流动近 170 千米，蔚为奇观。读下图并结合所学知识，完成以下问题。



西南地区某区域示意图



甲



乙

- (1) 图中“三江并流”区域地处我国的\_\_\_\_\_山区，蕴藏有丰富的\_\_\_\_\_资源。
- (2) 河流 A 是一条国际性河流，流入东南亚地区被称为湄公河，在我国境内的名称是\_\_\_\_\_。
- (3) 图中 B 地是我国著名的旅游胜地\_\_\_\_\_，该地区最主要的少数民族是\_\_\_\_\_族；甲、乙两幅图片中，反映该少数民族风情的是\_\_\_\_\_（填甲或乙）。

# VV99.net

免费文档下载