

第四、五单元检测

zěn yàng fàng hé shì lián yì lián

1. 怎样放合适？连一连。



bǎ měi háng zhōng bù tóng lèi de huá qù

2. 把每行中不同类的划去。

(1)				
(2)				
(3)				
(4)				

qǐng bǎ xià liè dòng wù fēn lèi

3. 请把下列动物分类。



天上飞的

②

地上走的

①

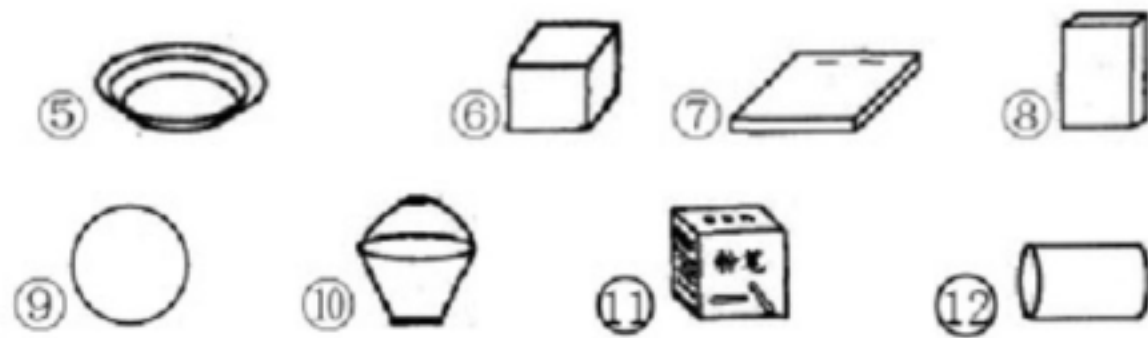
水中游的





③

tián yì tián

4. 填一填。




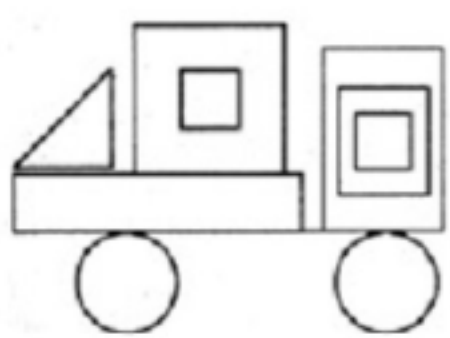


()是, ()是, ()是, ()是.

shǔ yì shù

5. 数一数。

□()个, ()个。
△()个, ○()个。



bǎ tóng lèi de quān zài yì qǐ
6. 把同类的圈在一起。

(1)

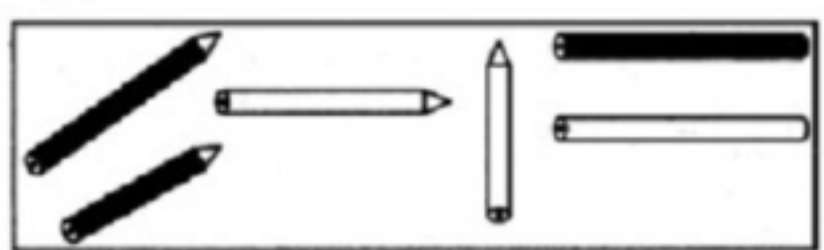


(2)









àn yāo qiú xuǎn yì xuǎn

7. 按要求选一选。









上面的铅笔按颜色分是方法(); 按长短分是方法()。

方法一:

A. 	B. 	C. 
		

方法二:

A. 	B. 
	
	

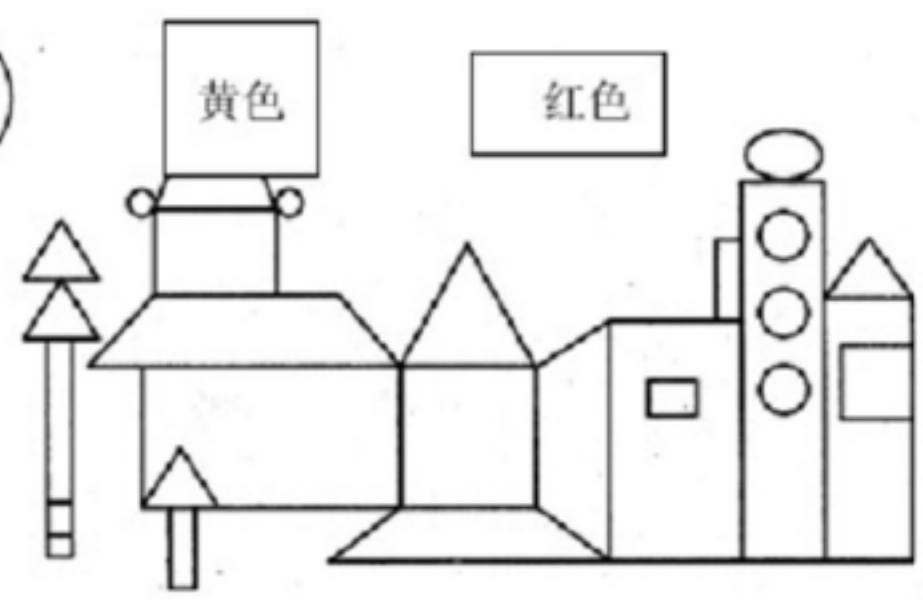
àn yāo qiú tú sè

8. 按要求涂色。



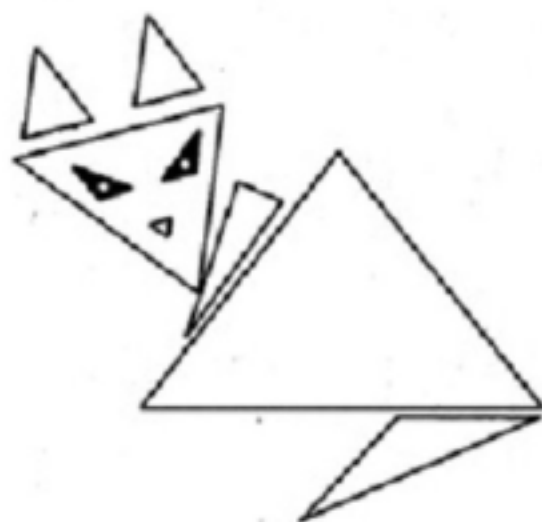
黄色

红色



bǎi yì bǎi shù yì shù

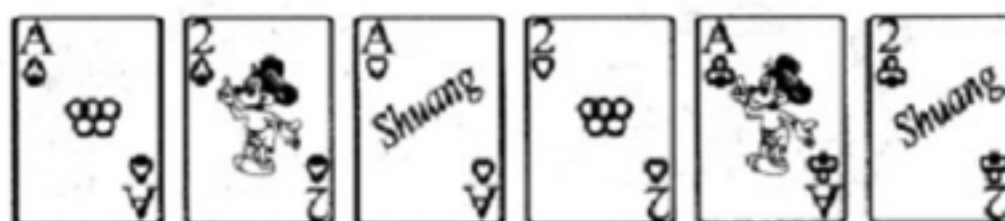
9. 摆一摆，数一数。



有()个三角形

xià mian yǒu zhāng pū kè pái nǐ huì fēn lèi ma shì yí shì

10. 下面有6张扑克牌，你会分类吗？试一试。



①

②

③

④

⑤

⑥

小红已经分出了一种：

①④⑤

②④⑥

你能分出其他的两种吗？

(1)

(2)

参考答案

1. 略

2. (1) 自行车 (2) 藕 (3) 长方体 (4) 苹果

3. 天上飞的: ②⑥⑫⑭⑯

地上走的: ①⑤⑦⑨⑪⑬

水中游的: ③④⑧⑩⑮

4. 正方体: ③⑥⑪ 圆柱: ⑫ 长方体: ④⑦⑧ 球: ①

5. 3 3 1 2

6. 略

7. 二 一

8. 略

9. 9

10. (1)

①④

②⑤

③⑥

 (2)

①②

③④

⑤⑥

精心整理资料，感谢使用！

VV99.net

免费文档下载