

建南民族中学 2011 年秋季八年级地理  
期 中 试 题

(总分：50 分)

一、选择题：(每小题 1 分，共 20 分)

题号	1	2	3	4	5	6	7	8	9	10	11	12	13	14	15	16	17	18	19	20
答案																				

1. 在某地美食一条街，来自济南的贝贝和玲玲如果想吃家乡菜，应该进以下列招牌命名的美食店是：

A. “湘菜”；    B. “粤菜”；    C. “鲁菜”；    D. “川菜”。

2. 与我国陆地相邻，并且均为内陆国的是：

A. 俄罗斯、蒙古、巴基斯坦；                      B. 哈萨克斯坦、印度、缅甸；  
C. 蒙古、阿富汗、老挝；                              D. 朝鲜、尼泊尔、老挝。

3. 下列各组中，属相邻的两个省级行政区的是：

A. 黑龙江省和辽宁省；                                  B. 云南省和广东省；  
C. 甘肃省和重庆市；                                      D. 宁夏回族自治区和陕西省。

4. 下列城市中，1 月份平均气温最低的是：

A. 广州；        B. 北京；        C. 武汉；        D. 哈尔滨。

5. 世界大多数农作物和动植物都能在我国找到适合生长的地区，是因为我国：

A. 季风气候显著；    B. 夏季普遍高温；  
C. 气候复杂多样；    D. 雨热同期。

6. 下列地区，地处暖温带、半湿润地区的是：

A. 长江中下游平原；                                      B. 东北平原；  
C. 华北平原；    D. 塔里木盆地。

7. 我国水资源季节分配特点是：

A. 夏秋少，冬春多；                                      B. 夏秋少，冬春也少；  
C. 夏秋多，冬春也多；                                      D. 夏秋多，冬春少。

8. 被称为“黑土地”的是：

A. 黄土高原；    B. 华北平原；

班 级

姓 名

考 号

C. 内蒙古高原; D. 东北平原。

9. 下列地理景观与其对应的地区搭配, 正确的是:

A. 林海雪原——大兴安岭; B. 茶园——山东丘陵;  
C. 水乡——华北平原; D. 沙滩椰林——西双版纳。

10. 我国夏季气温最低的地区分布在:

A. 漠河地区; B. 青藏高原;  
C. 内蒙古高原; D. 天山山脉。

11. 秦岭——淮河一线是我国重要的地理分界线, 下列说法错误的是:

A. 是 1 月份  $0^{\circ}\text{C}$  等温线通过的地方; B. 800 毫米年等降水量线通过的地方;  
C. 亚热带和中温带的分界线; D. 湿润地区和半湿润地区的分界线。

12. 我国人口政策的基本内容是:

A. 实行计划生育; B. 晚婚、晚育、少生、优生;  
C. 人口基数大, 增长速度快; D. 控制人口数量, 提高人口素质。

13. 我国东北—西南走向的山脉主要有三列, 最西边的一列是:

A. 大兴安岭—太行山—巫山—雪峰山; B. 祁连山—横断山脉;  
D. 天山—阴山—燕山; C. 贺兰山—六盘山—横断山脉。

14. 我国最大的有利气候资源是:

A. 气候类型复杂多样; B. 夏季高温多雨, 雨热同期;  
C. 冬冷夏热; D. 全国大部分地区位于北温带。

15. 北回归线自东向西穿过的我国四个省(区)是:

A. 滇、桂、粤、台; B. 台、粤、桂、滇;  
C. 台、闽、粤、桂; D. 闽、粤、桂、滇。

16. 主要耕作区在山间小盆地, 当地人称为“坝子”的高原是:

A. 青藏高原; B. 内蒙古高原; C. 黄土高原; D. 云贵高原。

17. 美国的种植条件优越, 而我国和印度两国都是水旱灾害频繁发生的国家。我国旱涝灾害多发的根本原因是:

A. 冬季风势力太强; B. 夏季风势力太强;  
C. 每年夏季风强弱和进退时间早晚的不同; D. 西高东低的地势;

18. 我国最东端地区的居民听到“北京时间 12 点”报时的时候, 最西端地区最可能的情况是:

- A. 居民在午间收看中央台新闻；      B. 牧民在准备丰盛的晚餐；  
C. 中学生们正在上早自习；      D. 边防战士在午夜巡逻。

19. 以下海洋中属于我国内海的是：

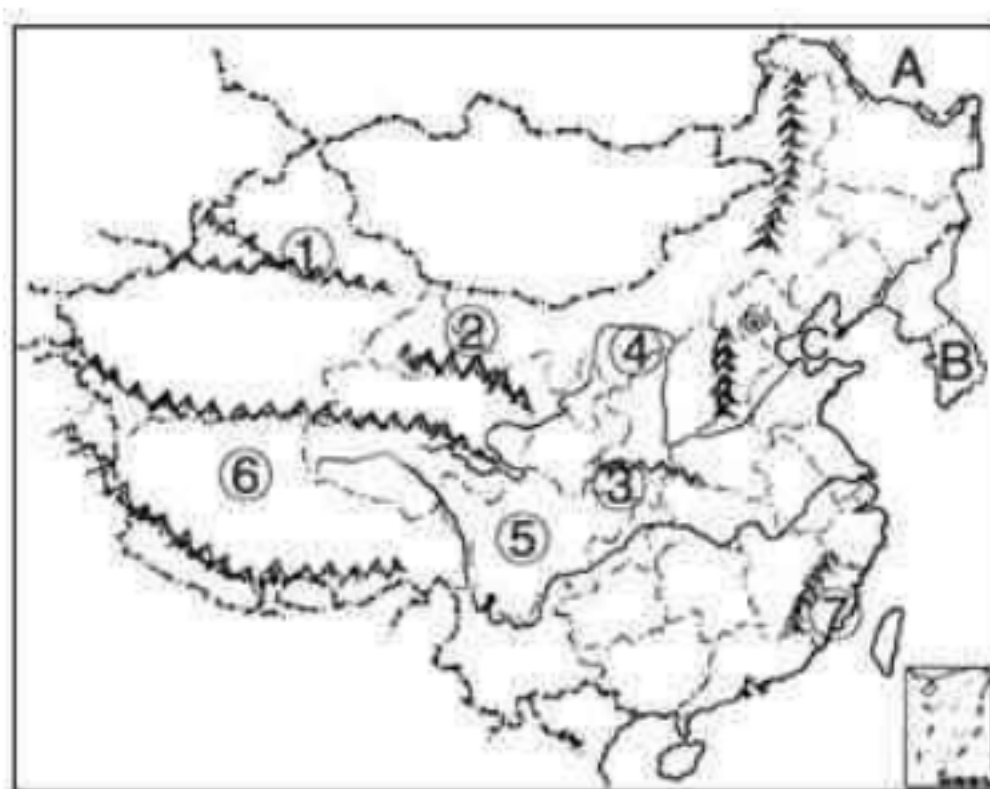
- A. 东海、台湾海峡；      B. 东海、琼州海峡；  
C. 渤海、台湾海峡；      D. 渤海、琼州海峡。

20. 下面关于我国各民族分布的说法，正确的是：

- A. 汉族主要分布在西南、西北和东北部地区；  
B. 少数民族主要分布在东部和中部地区；  
C. 各民族“大聚居，小杂居”，相互交错居住；  
D. 各民族“大杂居，小聚居”，相互交错居住。

二、综合题：（共 30 分）

21. 读“中国略图”，完成下列问题：（10 分）



(1) 填出图中序号所代表的地理事物名称：

山脉：①\_\_\_\_\_；      ②\_\_\_\_\_；      ③\_\_\_\_\_；

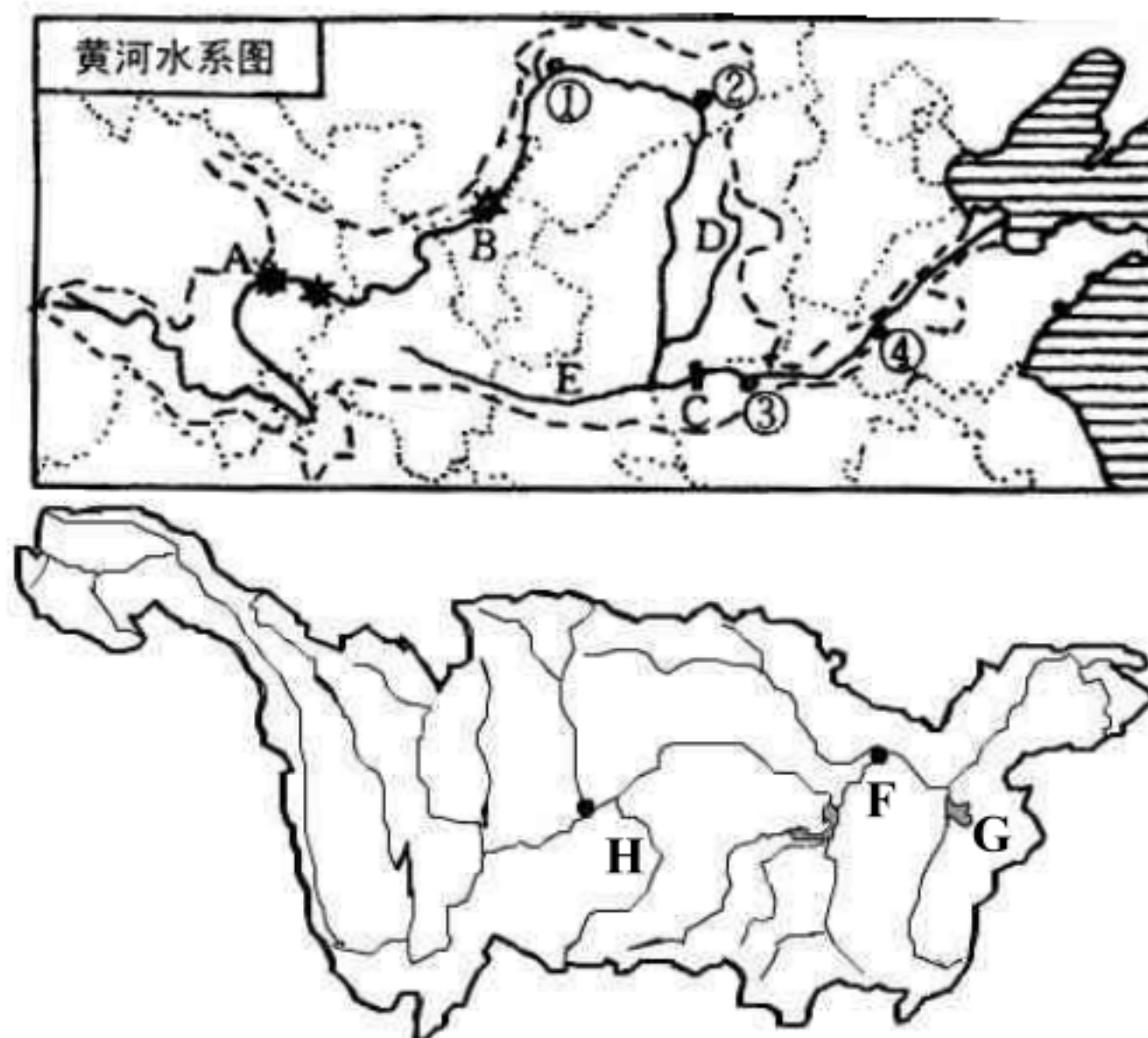
河流：④\_\_\_\_\_；      地形区：⑤\_\_\_\_\_盆地；

省区：⑥\_\_\_\_\_省；      行政中心：⑦\_\_\_\_\_市。

(2) 填出图中字母所代表的地理事物名称：

A \_\_\_\_\_ (国家), B \_\_\_\_\_ (国家), C \_\_\_\_\_ 海。

22、读图完成下列各题：(12分)



(1) 写出图中字母所代表的地理事物的名称：

水电站或水利枢纽： A \_\_\_\_\_； C \_\_\_\_\_；


支流： D \_\_\_\_\_； E \_\_\_\_\_； H \_\_\_\_\_。

城市： F \_\_\_\_\_； 湖泊： G \_\_\_\_\_。

(2) 划分黄河上游和中游的地点是\_\_\_\_\_，图中数字代号是\_\_\_\_\_。

(3) 历史上有“天下黄河富宁夏”和“黄河百害，惟富一套”之说。上游的\_\_\_\_\_平原和\_\_\_\_\_平原由于黄河的灌溉，形成了富庶的农业区；而“害”主要发生在黄河的\_\_\_\_\_游河段。

23. 读我国北方和南方水土资源的比较图，回答问题。(5分)





(1) 读图可知,我国北方土地资源比南方\_\_\_\_\_ (多或少),但水资源却比南方\_\_\_\_\_ (多或少)。水土资源的配合不合理,加剧了我国\_\_\_\_\_ (北方或南方)地区的缺水状况。

(2) 解决我国水资源空间分布不均匀的措施是\_\_\_\_\_。

(3) 节约用水,人人有责。请说出两条可行的家庭节水计划: \_\_\_\_\_  
\_\_\_\_\_。

24、阅读下列材料,结合漫画“飞来的山峰”,回答有关问题。(4分)



材料一: 18世纪以后,世界人口增长的速度越来越快。1830年全世界仅有10亿人,1930年增加到20亿,1975年为40亿,1987年50亿,1999年达到60亿,2011年10月30日已突破70亿。目前,世界人口每年仍以7800万人左右的速度增长。2011年4月28日,国家统计局局长马建堂发布2010年第六次人口普查登记(已上报户口)的全国总人口为1339724852人。

材料二: 世界耕地总面积只占全球陆地面积的1/10,但由于水蚀、风蚀、沙漠侵吞,公交建设用地和农村住房面积不断扩大,耕地面积日益减少,仅中国每年就减少70万公顷左右。

(1) 上述材料和漫画主要揭示了我国目前所面临的\_\_\_\_\_和\_\_\_\_\_两大问题。

(2) 针对上述两个问题,我国制定了\_\_\_\_\_和\_\_\_\_\_  
\_\_\_\_\_两个基本国策。

# VV99.net

免费文档下载