

新人教版八年级地理(上册)期末复习及答案

(时间: 60 分钟 分数: 100 分)

班级: _____ 姓名: _____ 分数: _____

一、选择题 (共 25 个小题, 每题 2 分, 共 50 分)

1、歌曲《我爱你—中国》: 当灿烂的太阳跳出了你东海的碧波, 你的帕米尔高原上依然是群星闪烁..... 该现象说明我国 ()

A. 南北跨纬度多 B. 南北跨平原多 C. 东西跨经度多 D. 东西跨高原多

2、下列自然资源, 全部属于可再生资源的是 ()

A. 石油、森林、煤炭、太阳能 B. 铁矿、天然气、铀矿、阳光

C. 阳光、土地、水、草原 D. 森林、水、天然气、铁矿

3、我国自古就有“南稻北麦”、“南甘北甜”之说. 南北方地区的分界线是 ()

A. 喜马拉雅山—长江

B. 昆仑—黄河

C. 秦岭—淮河

D. 南岭—珠江

4、关于世界陆地和海洋的叙述, 正确的是 ()

A. 三分陆地, 七分海洋 B. 世界上最大的大洋是印度洋

C. 全球海陆分布均匀 D. 世界上最大的大陆是非洲大陆

5、东南亚的位置特点是 ()

A. 三洲五海之地

B. 连接东西方的铁路枢纽

C. “十字路口”的位置

D. 位于印度洋和大西洋之间

6、印度是世界第二人口大国, 目前人口仍然以较快的速度增长。印度人口众多产生的影响有 ()

①劳动力充足 ②人口老龄化严重 ③资源、环境压力大

④劳动力素质高 ⑤消费市场广阔

A. ①③⑤

B. ②③④

C. ①④⑤

D. ②④⑤

7、我国的某山脉, 以北以旱地为主, 以南以水田为主, 以北的耕作制度是两年三熟, 以南的耕作制度是一年两熟, 这条山脉是 ()

A. 天山

B. 阴山

C. 秦岭

D. 南岭

8、下列诗句中, 形象地反映了我国北方地区冬季景观的是 ()

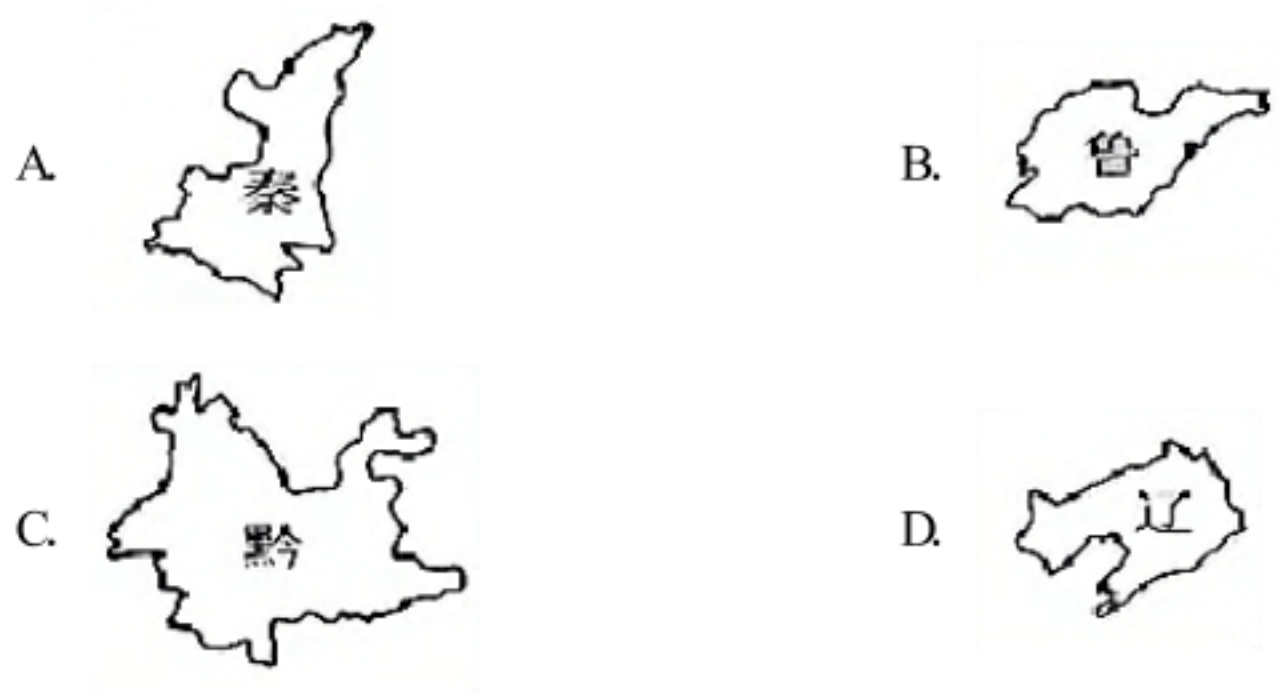
- A. “草长莺飞二月天，拂堤杨柳醉春烟”
B. “北国风光，千里冰封，万里雪飘”
C. “羌笛何须怨杨柳，春风不度玉门关”
D. “君问归期未有期，巴山夜雨涨秋池”
- 9、亚洲南面三大半岛从东向西依次是（ ）
A. 中南半岛、印度半岛、阿拉伯半岛 B. 中南半岛、阿拉伯半岛、印度半岛
C. 阿拉伯半岛、中南半岛、印度半岛 D. 印度半岛、阿拉伯半岛、中南半岛
- 10、家住黑龙江的小丽暑假去新疆旅游，发现新疆在北京时间晚上八点太阳还没落山，造成这种时间差异的原因是（ ）
A. 南北纬度的差异 B. 东西经度的差异
C. 地形地势的差异 D. 海陆位置的差异
- 11、下列农作物中，主要种植在北方地区的是（ ）
A. 水稻、甘蔗 B. 甜菜、大豆 C. 棉花、水稻 D. 小麦、甘蔗
- 12、划分南北半球的界线是（ ）
A. 20° W和 160° E B. 0° 和 180°
C. 0° 纬线 D. 0° 经线网
- 13、关于我国国家级高新技术产业开发区分布特点的描述，正确的是（ ）
A. 多沿河沿湖分布 B. 多分布在东南沿海地区
C. 多沿交通干线分布 D. 多依附于大中城市的高新区
- 14、西亚地区处在印度洋和大西洋的重要国际航线上，沟通这两大洋的咽喉是（ ）
A. 苏伊士运河、直布罗陀海峡 B. 苏伊士运河、马六甲海峡
C. 巴拿马运河、土耳其海峡 D. 巴拿马运河、白令海峡
- 15、下列语句中，描写南方地区景观的是（ ）
A. 千里冰封，万里雪飘 B. 枯藤老树昏鸦，小桥流水人家
C. 早穿皮袄午穿纱，围着火炉吃西瓜 D. 远看是山，近看成川
- 16、有人说“今年的降水比往年少”，这是指降水的（ ）
A. 季节变化 B. 年际变化 C. 季节分配 D. 日变化
- 17、黄河中下游含沙量大的主要原因是（ ）

- A. 注入的支流众多
- B. 降水量大，位于湿润区
- C. 水流速度快
- D. 流经黄土高原区

18、东南亚地区的马六甲海峡运输繁忙，船只过往不断，它是沟通哪两大洋的咽喉要道（ ）

- A. 印度洋、大西洋
- B. 大西洋、北冰洋
- C. 印度洋、太平洋
- D. 太平洋、大西洋

19、下列省级行政区域单位轮廓与其对应的简称错误的是（ ）



20、日本人 20 岁时，要举行“成人节”仪式，这时她们会穿上心爱的（ ）

- A. 唐装
- B. 西装
- C. 和服
- D. 牛仔服

21、地图是我们日常生活必不可少的工具，手机打车软件中使用的地图是（ ）

- A. 地形图
- B. 电子地图
- C. 人口分布图
- D. 气候分布图

22、解决水资源空间分布不均的有效措施是（ ）

- A. 跨流域调水
- B. 防治水污染
- C. 兴修水库
- D. 节约用水

23、地球上四大洋中面积最大的是（ ）

- A. 太平洋
- B. 大西洋
- C. 印度洋
- D. 北冰洋

24、下面四幅图中，表示北半球的是（ ）



25、我国地理学家胡焕庸提出了一条著名的人口地理界线是（ ）

A 秦岭——淮河 B . 黑河——腾冲 C . 长城沿线 D . 0℃等温线

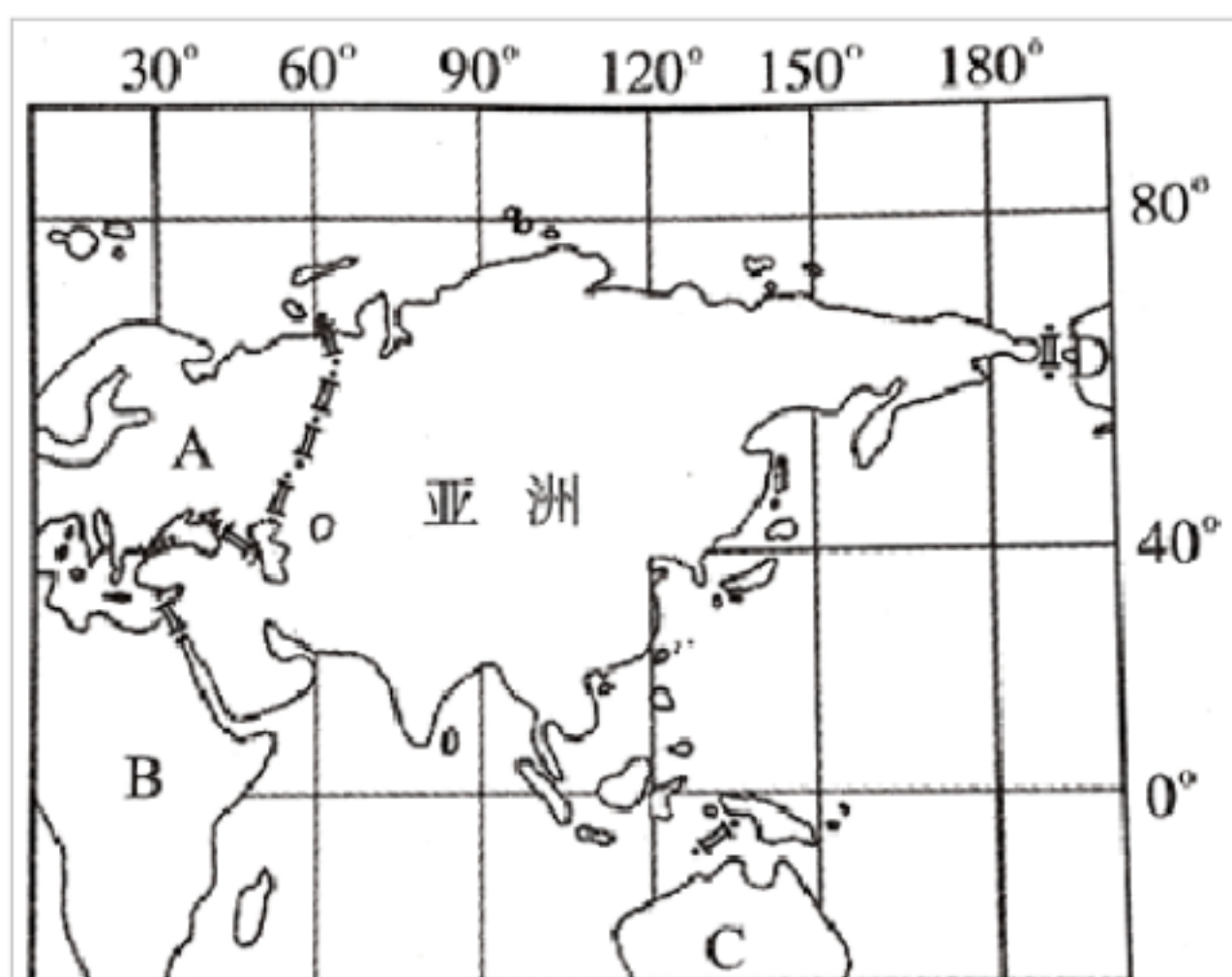
二、综合题（第 1 题 12 分,第 2 题 10 分,第 3 题 15 分,第 4 题 13 分,共 50 分）

1、读下图，按要求答题：



- (1) 我国人口分布特点是____多，____少；AB两地是我国人口分布图上分界线的两个端点，则 A地是____， B 地是____。
- (2) 少数民族主要分布在我国的____、____和____。
- (3) 泼水节是我国____族的传统节日，该民族主要分布的省级行政区的简称是____。
- (4) 我国人口最多的少数民族是____。
- (5) 中国各民族的分布特点是_____

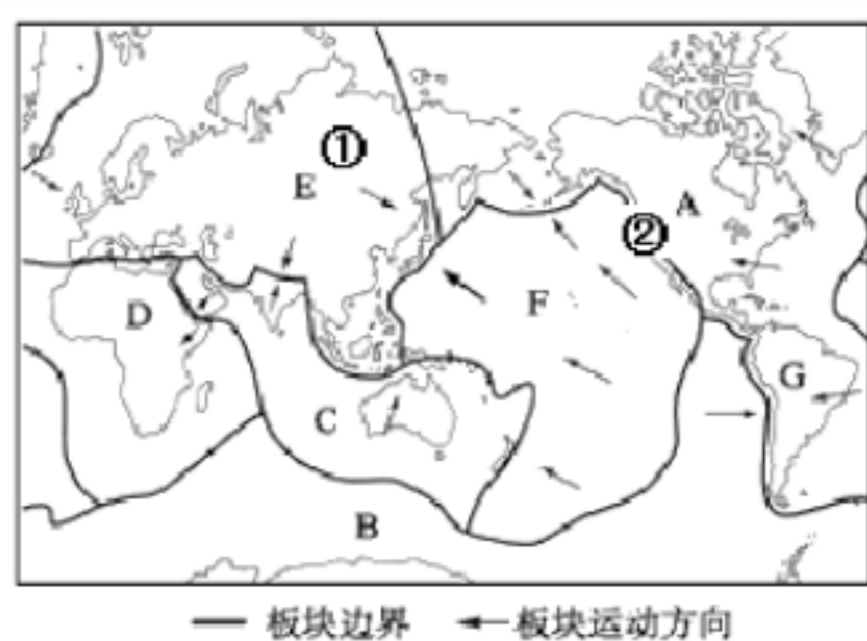
2、读“亚洲的范围图”，完成下列问题。



- (1) 亚洲以_____山脉、乌拉尔河、里海、大高加索山脉、_____海峡与 A _____洲为界。
- (2) 亚洲的_____方向以_____运河与 B _____洲为界。
- (3) 亚洲的_____面隔海与 C _____洲相望。
- (4) 亚洲的_____（方向）以_____海峡与 D _____洲为界。
- (5) 图中显示，亚洲的纬度位置大致是（_____）

- A. $0^{\circ} \sim 80^{\circ} \text{ N}$ B. $10^{\circ} \text{ S} \sim 80^{\circ} \text{ N}$
- C. $10^{\circ} \text{ N} \sim 80^{\circ} \text{ N}$ D. $0^{\circ} \sim 70^{\circ} \text{ N}$

3、读“七大板块示意图”，完成下列问题。



(1) 填出图中板块的名称：

C: _____ 板块； F: _____ 板块； E: _____ 板块。

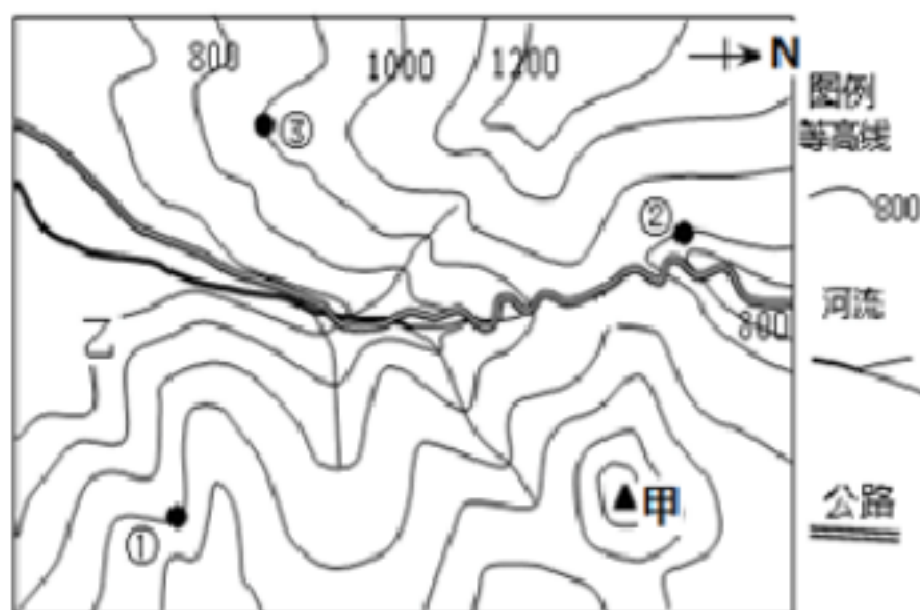
(2) 根据板块学说，解释日本多地震的原因是（_____）

- A. 日本多山，四周是海洋
- B. 日本位于亚欧板块与太平洋板块的交界地带
- C. 日本位于亚欧板块与印度洋板块的交界地带

(3) 环绕 F 板块的火山地震带叫_____火山地震带。

(4) ①和②两处比较稳定的是_____处。

4、读我市某区域等高线地形图，完成下列各题。



(1) 图中①、②、③处在山脊线上的是_____处，三地海拔最高相差_____米。

(2) 甲处山体部位的名称是_____。

(3) 图中河流干流的大致流向是_____。

(4) 等高线地形图中，缺少地图三要素之一的_____。

(5) 如果甲处的气温是 10°C ，只考虑地形因素，乙地的气温应该不低于_____ $^{\circ}\text{C}$ 。

(6) 在山区公路建设中，陡坡段增加“之”字状弯曲，原因是_____。

- A. 尽可能接近居民点
- B. 尽可能减缓坡度
- C. 尽可能避免跨越河流
- D. 尽可能节省材料

(7) 图示地区主要地形是_____。

- A. 丘陵
- B. 高原
- C. 山地
- D. 平原

参考答案

一、选择题（共 25 个小题，每题 2 分，共 50 分）

1、C

2、C

3、C

4、A

5、C

6、A

7、C

8、B

9、A

10、B

11、B

12、C

13、D

14、A

15、B

16、B

17、D

18、C

19、C

20、C

21、B

22、A

23、A

24、C

25、B

二、综合题（第 1 题 12 分，第 2 题 10 分，第 3 题 15 分，第 4 题 13 分，共 50 分）

1、东 西 黑河 腾冲 西南 西北 东北 傣 云或滇
壮族 大散居，小聚居，交错杂居

2、(1) 乌拉尔；土耳其；欧

(2) 西南；苏伊士；非

(3) 东南；大洋

(4) 东北；白令；北美

(5) B

3、印度洋 太平洋 欧亚 B 环太平洋 ①

4、(1) ③ 100

(2) 山峰

(3) 由北向南

(4) 比例尺

(5) 13.6℃

(6) B

(7) C

VV99.net

免费文档下载