

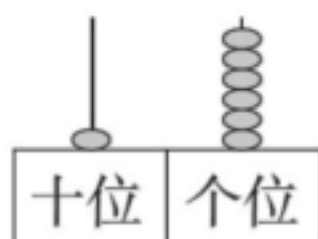
## 期末检测卷

一、填一填。(2、3 题每题 4 分，其余每空 1 分，共 41 分)

1. 数一数。



( )



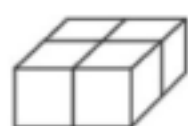
( )



( )



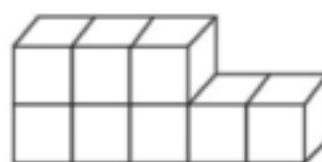
( )



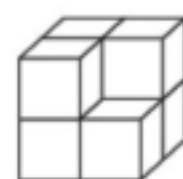
( ) 个



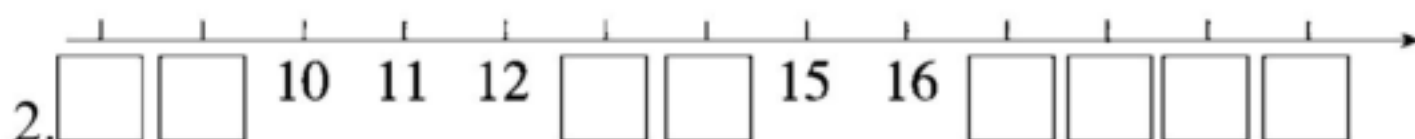
( ) 个



( ) 个



( ) 个



3.



4. (1) 2 个十是( ), 18 里面有( )个十和( )个一。

(2) 和 14 相邻的数是( )和( )。

(3) 9 个一和 1 个十合起来是( )。

5. 11 的前面一个数是( ), 后面一个数是( )。

6. 写出 1 小时后的时间。



:



:



:



:

7. 在○里填上“>”“<”或“=”。

$10 \bigcirc 15 - 10$

$9 - 3 \bigcirc 9$

$10 \bigcirc 5 + 6$

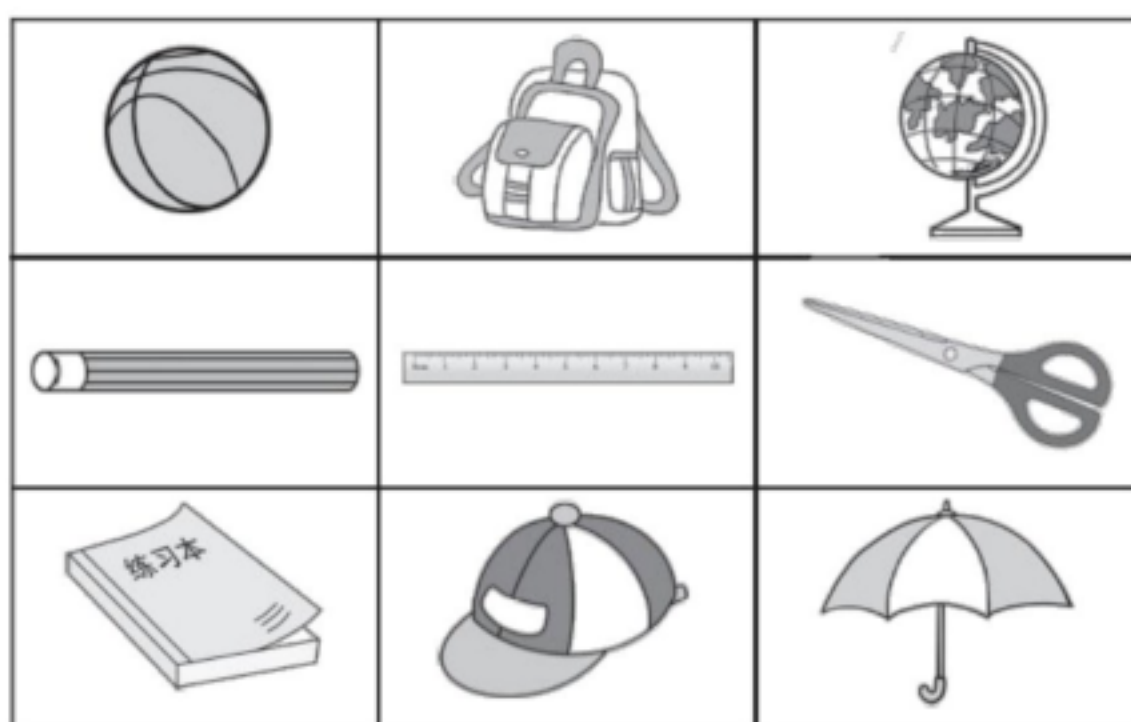
$19 - 8 \bigcirc 11$

$3+6 \bigcirc 6+3$

$9+8 \bigcirc 6+8$

$13 \bigcirc 7+6$

$18-8 \bigcirc 9$



8.

(1)上图中一共有( )种物品。

(2)  的( )面是  ,  的( )面是  。









(3)  的( )边是  , ( )边是  。

二、算一算。(1题12分,2题8分,共20分)

$3+8=$ $9+6=$ $11+5=$	$8-0=$ $9+9=$ $13-3=$	$15-5=$ $6+7=$ $8+4=$	$6+6-2=$ $18-10+6=$ $8+6-3=$
-----------------------------	-----------------------------	-----------------------------	------------------------------------

1.

2. 猜灯谜,填一填。


 + 9 = 13	8 +  = 15	2 +  = 8	 + 7 = 12
 + 4 = 11	6 +  = 16	6 +  = 12	 + 7 = 7


三、我会画。(1题2分,2题4分,共6分)

1. 在△的左边画3个□,右边画4个○。





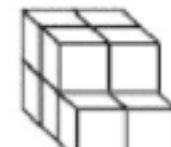
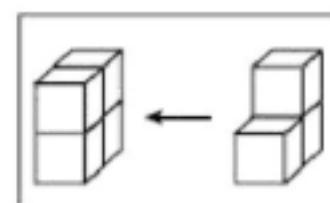
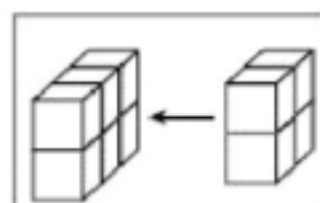
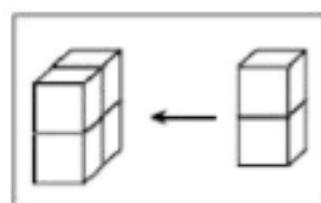
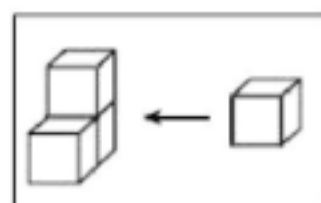
2. (1)画○, 与  同样多。




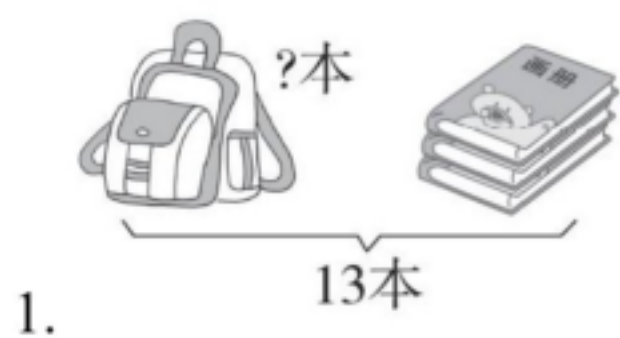
(2)画△, 比☆少 2 个。



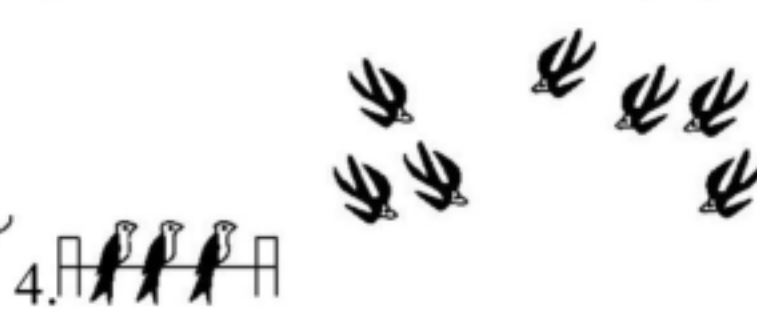
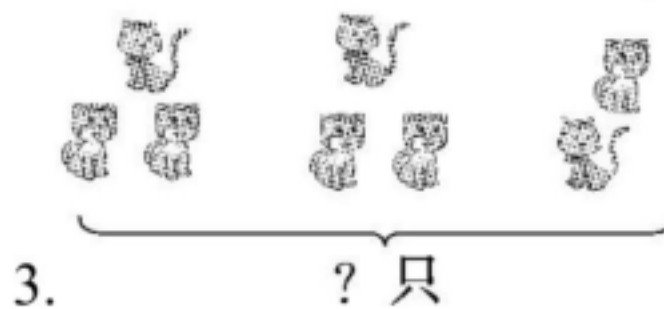
四、搭一搭, 连一连。(4 分)



五、看图列式计算。(每题 3 分, 共 12 分)




$\square \bigcirc \square = \square$  (本)       $\square \bigcirc \square = \square$  (颗)



$\square \bigcirc \square \bigcirc \square = \square$  (只)       $\square \bigcirc \square \bigcirc \square = \square$  (只)

六、解决问题。(4题5分,其余每题4分,共17分)



原来有多少个松果?  $\square \bigcirc \square = \square$  (个)


2. 今天来了18个同学,每人一个,还差多少个?



$\square \bigcirc \square = \square$  (个)



她可能买了多少支笔?  $\square \bigcirc \square = \square$  (支)



(1)一共有几只小鸡?

方法一:  $\square \bigcirc \square = \square$  (只) 方法二:  $\square \bigcirc \square = \square$  (只)

(2)请你再提出一个数学问题,并解答。



## 答案

一、1. 9 16 20 0 4 3 8 7

2. 8 9 13 14 17 18 19 20

3. 1 8 2 8(答案不唯一)

4. (1)20 1 8 (2)13 15 (3)19

5. 10 12

6. 2: 00 11: 00 4: 00 12: 00

7.  $>$   $<$   $<$   $=$   $=$   $>$   $=$   $>$

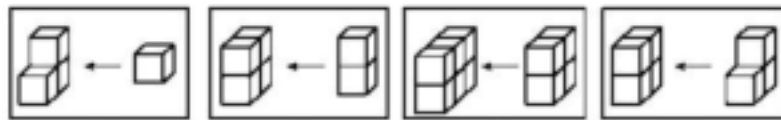
8. (1)9 (2)下 上 (3)左 右

二、1.11 15 16 8 18 10 10 13 12 10 14 11


2. 4 7 6 5 7 10 6 0

三、1. □□□△○○○○

2. (1)○○○○ (2)△△△



四、



五、1.  $13 - 3 = 10$ (本)

2.  $9 + 6 = 15$ (颗)

3.  $3 + 3 + 2 = 8$ (只)

4.  $6 - 3 + 4 = 7$ (只)

六、1.  $6 + 8 = 14$ (个)

2.  $18 - 8 = 10$ (个)





3.  $5+9=14$ (支)(答案不唯一)

4. (1) $5+2=7$ (只)  $3+4=7$ (只)

(2)(答案不唯一) 原来有多少只小鸟?

$3+4=7$ (只)



# VV99.net

免费文档下载