

湘教版初中地理七年级下册期末测试卷

一、选择题。

1. 读“亚洲人口分布示意图”，判断下列说法有误的是（ ）



- A. 极端寒冷和炎热地区人口稀疏
- B. 气温限制内陆地区人口分布
- C. 高原山地地区人口稀疏
- D. 中低纬度沿海地区人口稠密

2. 有关亚洲的叙述，正确的是（ ）

- A. 以热带草原气候为主，跨纬度最广的大洲
- B. 绝大部分位于西半球
- C. 亚洲波斯湾及其沿岸地区石油资源丰富
- D. 亚洲东部和南部是热带雨林气候

3. 与亚洲相比，欧洲显著的地理特征是（ ）

- A. 地势起伏大，高低悬殊
- B. 气候的大陆性特征显著
- C. 河流径流量季节变化大

D.冰川作用显著

4. 下列关于欧洲西部自然环境特点的叙述，正确的是（ ）

- ①欧洲西部海岸线曲折，多内海、半岛、海湾
- ②欧洲西部地形以平原为主，地势西高东低
- ③欧洲西部以北温带为主，北部一年中有极昼、极夜现象
- ④欧洲西部气候湿润，全年降水多，降水均匀

A.③④

B.①②

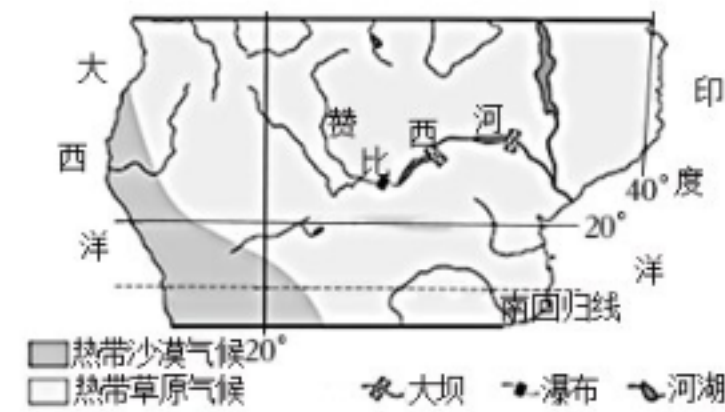
C.②④

D.①③

5. 小明2月到欧洲旅行，回来后对同学说了下面几句话，你认为哪一句不可信（ ）

- A.到处都能看到佛教的塔林
- B.阿尔卑斯山滑雪场人很多
- C.餐厅常见食物是牛排、奶酪、奶油
- D.港口有许多等待出口的大型机械

6. 赞比西河是世界水能最丰富的河流之一。如图为非洲局部图。读图，完成1~3题。



(1). 赞比西河（ ）

- A.自东向西流
- B.流经热带草原
- C.注入大西洋
- D.属于内流河

(2). 赞比西河的水文特征是（ ）

- A.结冰期长

B.流量季节变化小

C.冬季断流

D.水量大、流速大

(3). 过度开垦、过度放牧等人类活动会导致图示地区 ()

A.土地荒漠化加剧

B.台风侵扰增加

C.低温冻害频发

D.雨林破坏严重

7. 西亚被称为“世界石油宝库”，下列对西亚石油资源的叙述正确的是 ()

①西亚是世界上石油储量最丰富的地区，约占世界总储量的一半以上

②西亚是世界上石油产量最大的地区，占到世界石油总产量的三分之一

③西亚是世界上石油出口量最多的地区，所产石油90%以上供出口

④西亚石油主要分布在波斯湾和红海沿岸地区

A.①②③④

B.①②③

C.②③④

D.①②④

8. 关于东南亚农业的叙述，正确的是 ()

①耕地广大，集中连片，以水田为主，土壤肥沃 ②水稻是主要粮食作物，种植历史悠久 ③是世界上人口稠密的地区之一，居民多为黄种人，喜爱吃大米饭 ④是世界上天然橡胶、棕榈油、椰子和蕉麻的最大产地

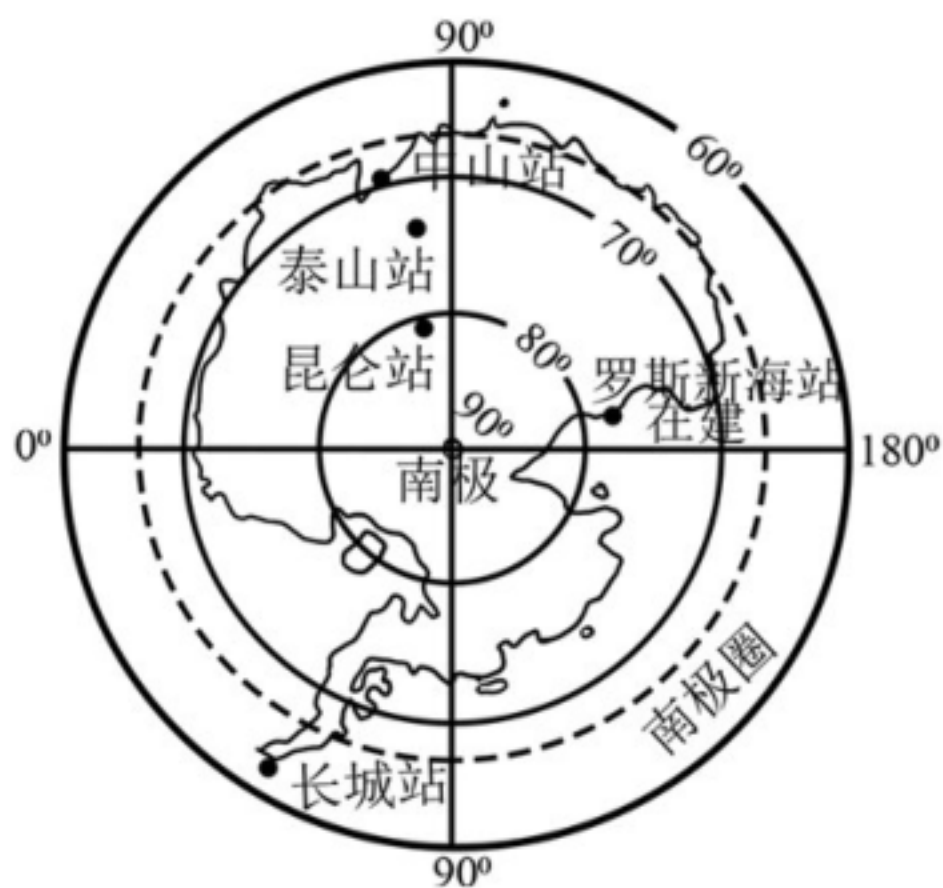
A.①②③

B.①②④

C.①③④

D.②③④

9. 如图是我国南极科学考察站分布图，据此完成1~3题。



- (1). 我国南极科学考察站中，纬度最高的是 ()
 - A.中山站
 - B.泰山站
 - C.昆仑站
 - D.长城站
- (2). 南极科考站多选择在2月建设，是因为此时南极地区 ()
 - A.正值暖季
 - B.出现极夜
 - C.降水丰富
 - D.风平浪静
- (3). 在南极地区科学考察中，为了保护极地环境，建议 ()
 - A.焚烧废弃物品
 - B.捕捉喂养企鹅
 - C.运回生活垃圾
 - D.掩埋老旧设备

10. 素有“地球之肺”之称的亚马孙热带雨林，约60%位于巴西境内。近年来热带雨林遭破坏十分严重，保护雨林已成为了人类共同关心的问题。图1为巴西示意图，图2为1988～2018年亚马孙雨林森林砍伐面

积统计图，据此回答1~3题。



图1

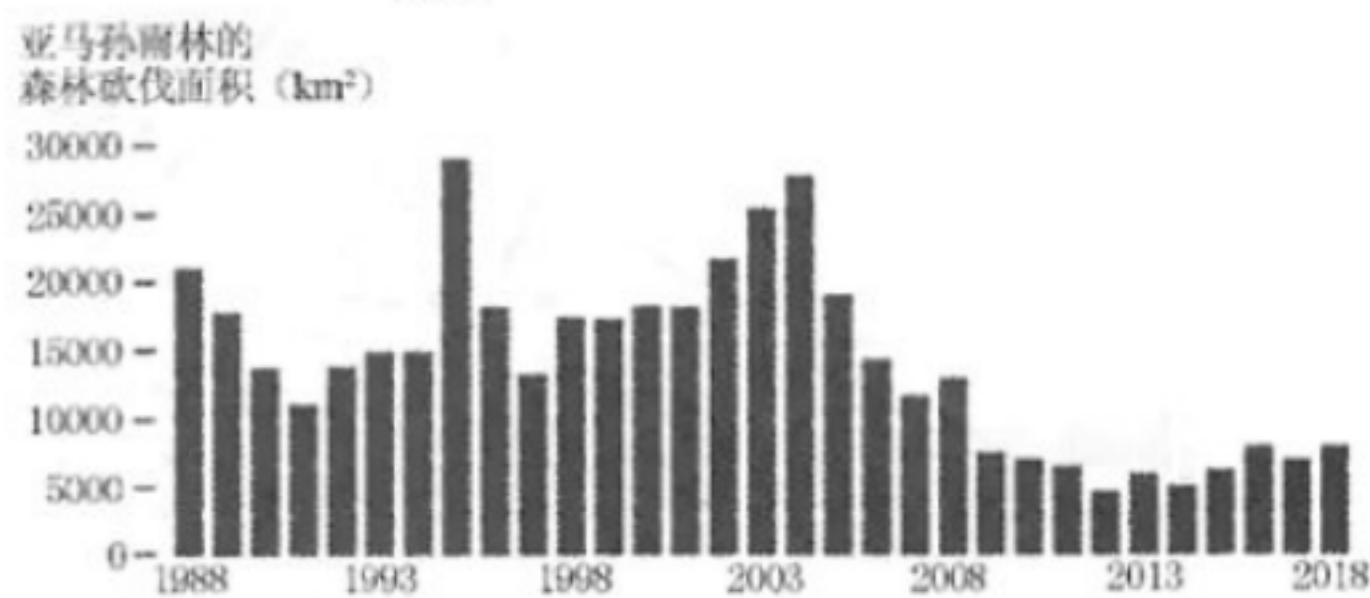
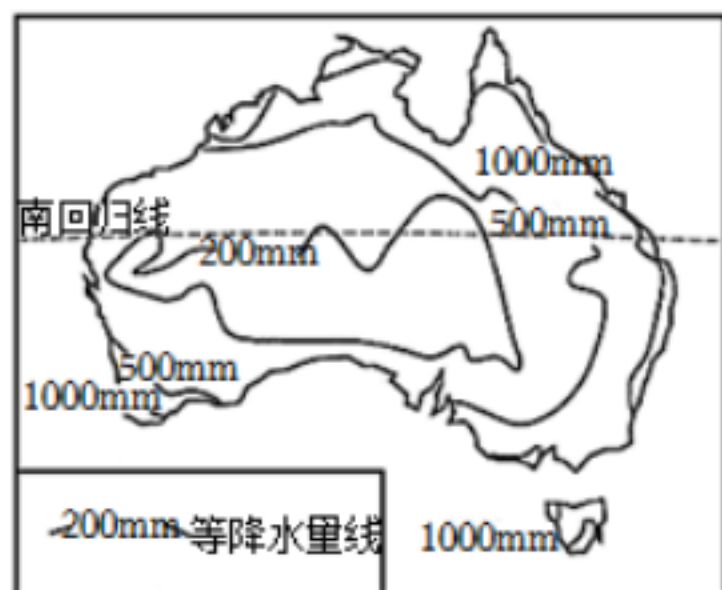


图2

- (1). 有关巴西的叙述，正确的是（ ）
- A.大部分位于南温带
 - B.世界重要的石油出口国
 - C.城市、人口主要分布于巴西高原
 - D.咖啡、玉米主要种植于南部地区
- (2). 1988~2018年亚马孙雨林遭破坏的具体表现为（ ）
- A.雨林砍伐面积累计量在增加
 - B.2008年后砍伐面积持续下降
 - C.30年中砍伐速度经历了先慢后快的变化
 - D.砍伐雨林的目的是为了获得更多的居住用地
- (3). “地球之肺”遭到破坏，对地理环境的主要影响有（ ）
- ①使该地区人口急剧增加
 - ②水土流失加剧
 - ③生物多样性锐减
 - ④南极冰雪资源更丰富
- A.①②
B.①③
C.②③

D.③④

11. 澳大利亚绵羊品种繁多，不同品种的绵羊适应不同的气候条件。其中，细毛羊喜欢温暖干燥的气候；半细毛羊适应湿热的环境，惧怕干燥；肉用羊和肉毛兼用羊喜欢温暖湿润、全年温差不大的气候。图1为澳大利亚年降水量分布图，图2为牧羊带示意图，据此回答1~2题。



澳大利亚年降水量分布图

图 1



澳大利亚牧羊带示意图

图 2

- (1). 澳大利亚牧羊业发展的有利条件是 ()

- ①地势平坦
- ②国内需求量大
- ③草场广阔
- ④气候条件适宜

A.①②③

B.①③④

C.①②④

D.②③④

- (2). 粗放牧羊带适合放牧的品种是 ()

- A.细毛羊
- B.肉用羊
- C.半细毛羊
- D.肉毛兼用羊

12. 美国乳畜带发展的有利条件有 ()

- ①城市和人口分布密集
- ②地处亚热带，热量充足
- ③临近五大湖，水源充足
- ④地形平坦，土壤肥沃

A.①②③

B.①③④

C.①②④

D.②③④

13. 鑫鑫想在2021年暑假去俄罗斯的摩尔曼斯克、圣彼得堡和莫斯科旅游。为此小俊收集了俄罗斯的部分地理知识，你认为错误的是（ ）

A.河流众多，但航运价值不高

B.在亚洲部分领土面积大，人口众多

C.跨两大洲，是世界上领土面积最大的国家

D.自然资源丰富，是世界上少数几个自然资源能够自给的国家之一

VV99.net

免费文档下载