


# 苏教版数学期中试卷

## 一、填空（每空一分，共 23 分）

- 180 分=（ ）时                      72 个月=（ ）年  
（ ）升=15000 毫升              （ ）毫升=50 升  
5 升 500 毫升=（ ）毫升
- 264÷28 的商是（ ）位数，试商可以把 28 看作（ ）来试商，这时商会偏（ ）。
- 119 里最多有（ ）个 20，878÷31 商的最高位在（ ）位上，商是（ ）位数。
- 72÷29，要使商是一位数，□内可以填（ ），要使商是两位数，□内可以填（ ）。
- 不计算，在下面的○里填上“>”“<”或“=”。  
25×20÷10 ○ 25+20×10                      240÷60 ○ 24÷6  
82-36÷12 ○ (84-36)÷12                      960÷24 ○ 960÷8÷3
- ÷32=11……☆，☆是可能中最大的，则□是（ ）。
- 有同样大小的红、白、黑珠共80粒，按先3粒红的，后2粒白的，再1粒黑的排列，第75粒是（ ）色的珠子，黑珠共（ ）粒
- 用2个同样大小的正方体拼成一个长方体，从正面、侧面、和上面可以看到（ ）种不同的图形。
- 小虎在计算除法时，错把除数12看成了21，结果商是17，余数是3，正确的结果是（ ）
- 小丽有3根彩带，第一根长14厘米，第二根长16厘米，第三根长（ ）才可以使三根彩带的平均长度为18厘米。

## 二、判断（共 10 分）

- 三位数除以两位数，商可能是一位数，也可能是两位数。……………（ ）
- 150÷5×6=150÷(5×6)=150÷30=5。……………（ ）
- 如果余数比除数大，说明商小了，应调大。……………（ ）
- 平均数能很好的反映一组数据的总体水平。……………（ ）
- 跳绳队有8人，平均每人的体重是42千克。小明是跳绳队

成员，体重不可能低于 42 千克。…………… ( )

### 三、选择 (共 10 分)

1. 把 2 升的水倒入容量为 250 毫升的杯中，可倒 ( ) 杯。

A. 4            B. 8            C. 10

2. 与  $240 \div 60$  的商相同的算式有 ( )

A、 $(240 \times 2) \div (60 \div 2)$     B、 $(240 + 60) \div (240 + 60)$

C、 $(240 \div 10) \div (60 \div 10)$

3. 从正面看哪一个物体，看到的形状是 。( )



A



B



C

4.  $\square 35 \div 48$  的商是两位数，被除数里的  $\square$  可以填的数有 ( ) 种情况。

A 4

B 5

C 6

5. 小丽 3 天看完一本书，平均每天看 20 页，她前两天每天看的页数都超过 20 页，估一估第三天看的页数。你认为正确的答案是 ( )

A. 第三天看的比 20 页多    B. 第三天看 20 页    C. 第三天看的比 20 页少

### 四、计算 (共 22 分)

#### 1、口算 (8 分)

$90 \div 15 =$

$72 \div 24 =$

$900 \div 90 =$

$210 \div 50 =$

$800 \div 200 =$

$125 \times 8 =$

$88 \div 22 =$

$25 \times 4 \div 25 \times 4 =$

#### 2、列竖式计算 (带\*号的要验算) (共 14 分)

$612 \div 69 =$

$474 \div 59 =$

$* 582 \div 42 =$

$$886 \div 43 =$$

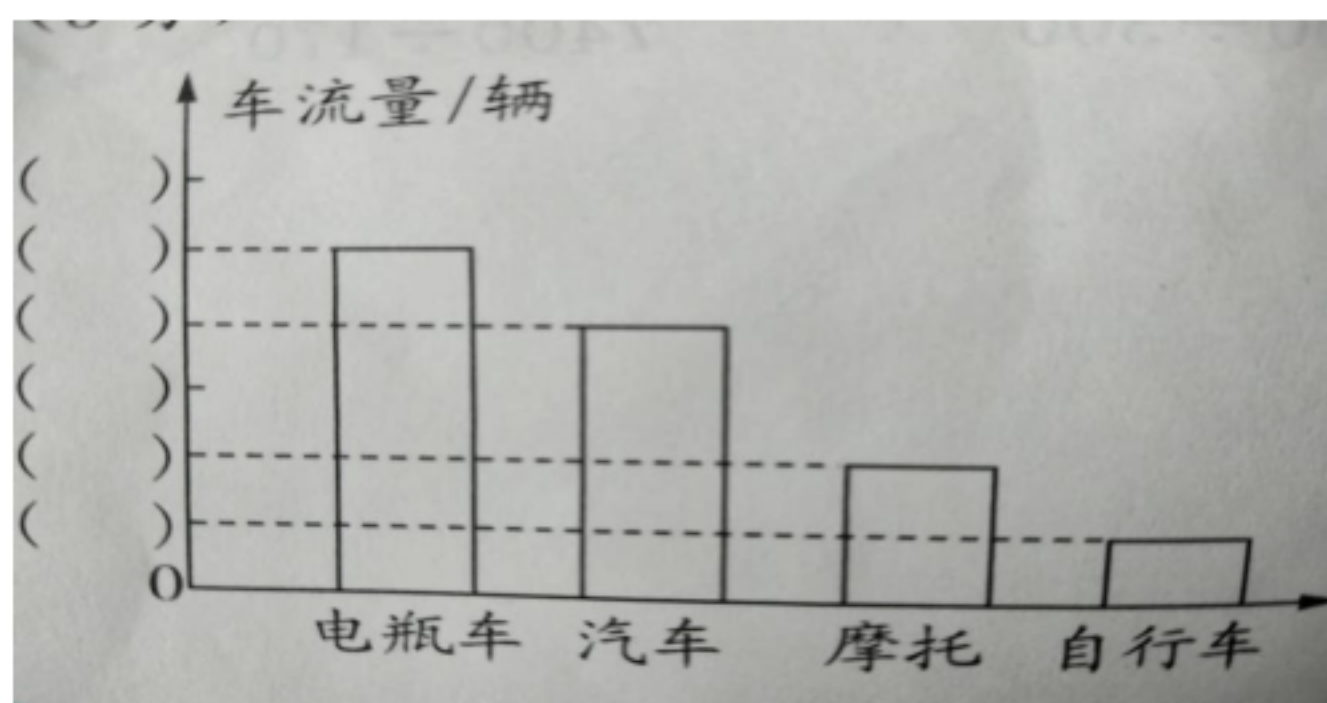
$$402 \div 67 =$$

$$* 710 \div 35 =$$

## 五、操作题（5 分）

根据条件，完成统计图

（1）下面是小芳在小区门口 5 分钟内观察到的车流量情况统计图，已知自行车比汽车少 15 辆，你能完成统计图吗？（3 分）

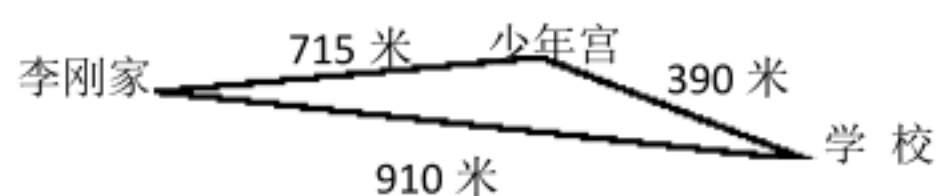


（2）平均每分钟的车流量是多少？（2 分）

## 六、解决问题（共 30 分）

1、小明用一个容量是 200 毫升的量杯测量一个瓶子的容量，他将量杯装满水倒入瓶中，倒第五次时才倒满，这时量杯中还有 150 毫升的水。这个瓶子的容量是多少毫升？

2、李刚从家到学校要用 14 分钟，他用同样的速度从家到少年宫要走几分钟？



3、小华、小英和小明 5 天一共写了 300 个大字，平均每人每天写多少个字？

4、在歌咏比赛中，评委老师给小倩打出的分数如下表。（5 分）

评委	江老师	丁老师	李老师	卓老师	方老师	王老师	刘老师
评分	90	89	62	88	92	86	98

按照比赛规则要去掉一个最高分和一个最低分，你能算出小倩的最后平均得分吗？

5、小明期中考试，语文、数学、科学三门的平均分是 96 分，其中语文考了 98 分，科学考了 99 分，小明期中考试数学考了多少分？

6、一种玩具汽车原来每个 120 元，国庆节搞促销活动，原来买 6 个的钱现在可以多买 2 个，现在每个玩具汽车多少元？

# VV99.net

免费文档下载