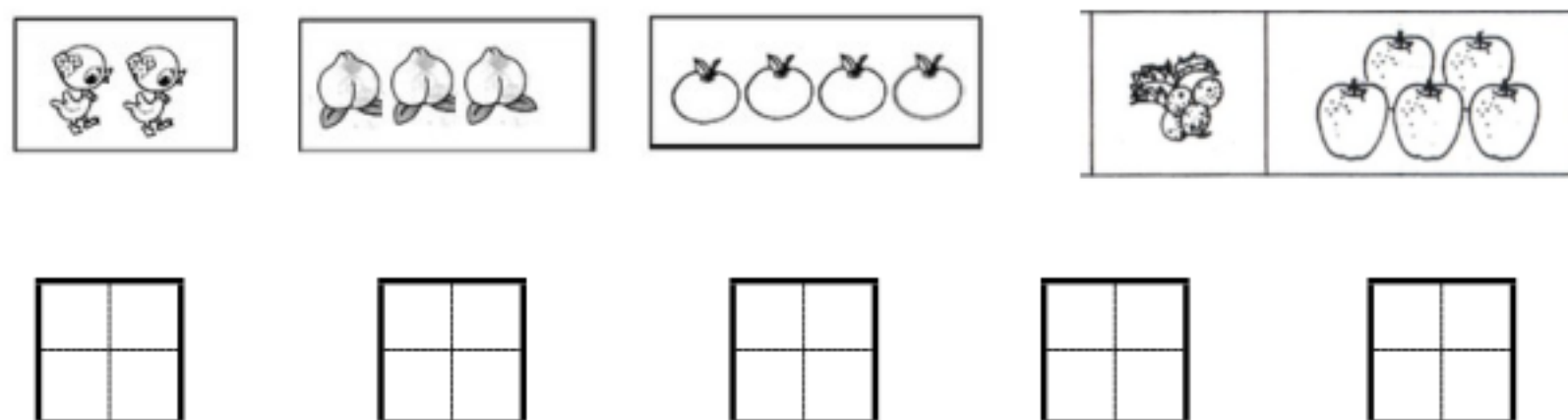
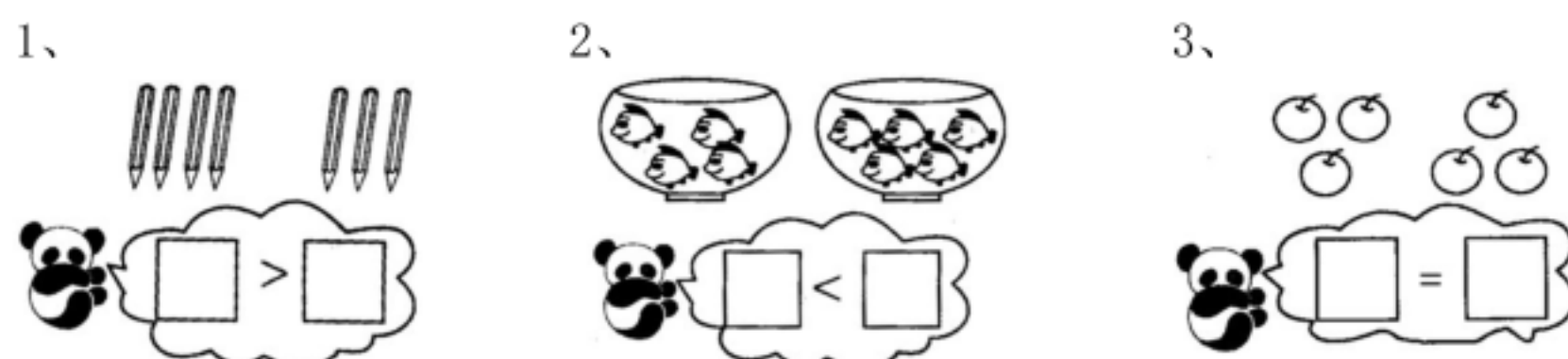


第一单元测试卷

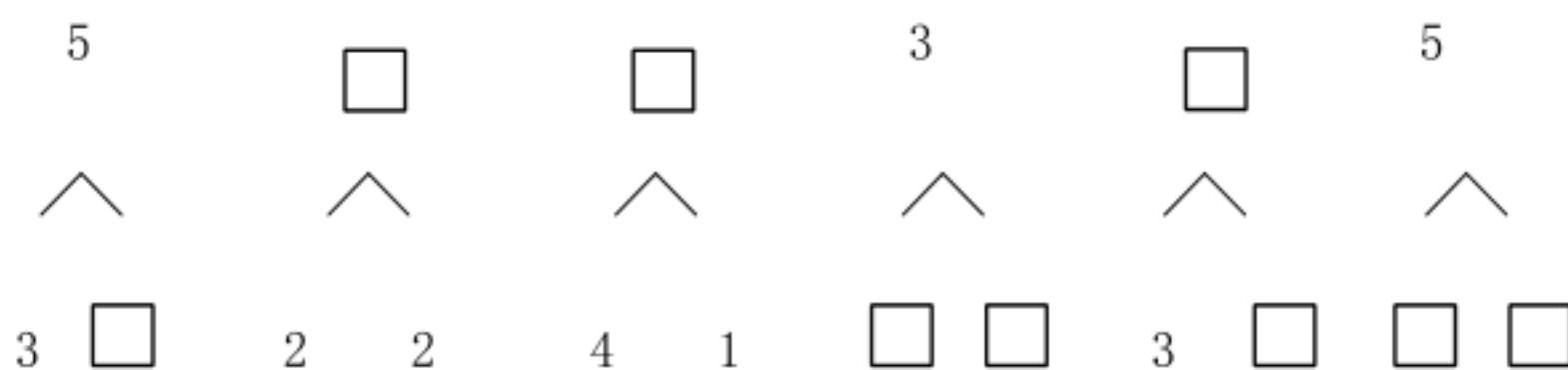
一、看图写数。(5分)



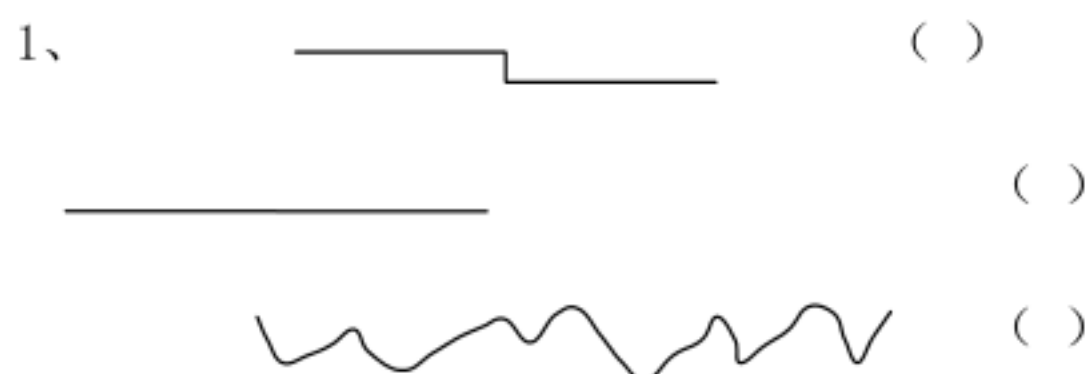
二、数一数，比一比，填一填。(6分)



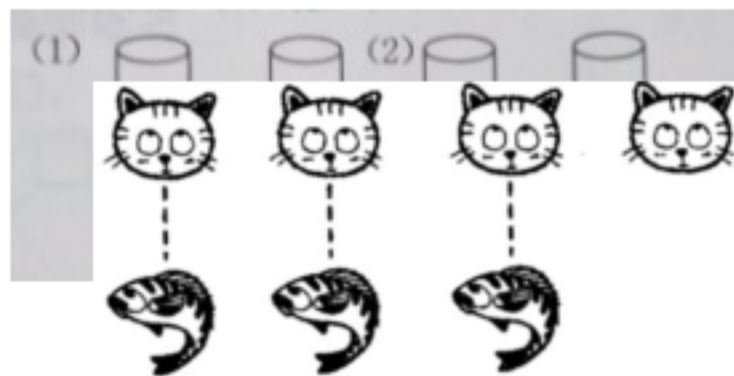
三、想一想，填一填。(6分)



四、在最长的后面画“√”。(12分)



2、哪一杯水喝掉的部分多，在下面打“√”。



五、在○里填上“+”或“-”。(8分)

$4 \bigcirc 1 = 5$

$1 \bigcirc 3 = 4$

$5 \bigcirc 2 = 3$

$0 \bigcirc 1 = 1$

$2 \bigcirc 2 = 4$

$3 \bigcirc 2 = 1$

$3 \bigcirc 3 = 0$

$4 \bigcirc 1 = 3$

六、比一比，填一填。(6分)

 比  多()，

 比  少()。

七、看谁算得又对又快！(20分)

$1+2=$

$2+3=$

$4-2=$

$5-3=$

$0+1=$

$2-1=$

$4-0=$

$5-1=$

$3-0=$

$4+1=$

$1+1=$

$3-1=$

$3-2=$

$4-1=$

$1-1=$

$2+1=$

八、看图列式计算。(24分)



$\square \bigcirc \square = \square$



$\square \bigcirc \square = \square$



$$\square \bigcirc \square = \square$$



$$\square \bigcirc \square = \square$$



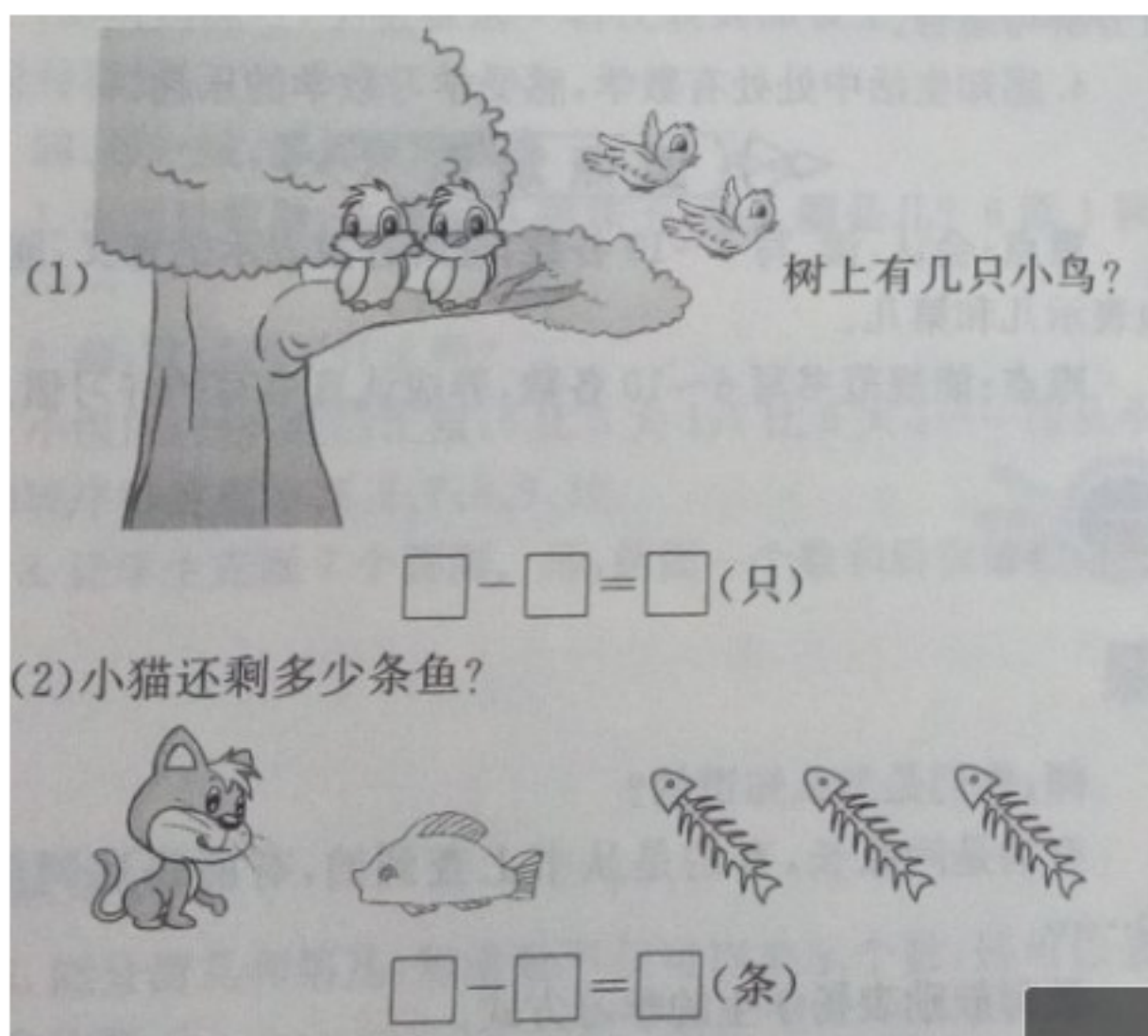
$$\square \bigcirc \square = \square$$



$$\square \bigcirc \square = \square$$

(上图是 3 个和 1 个)

九、解决问题。(8 分)



十、把 0, 1, 2, 3, 4, 5 填在括号里, 每个数只能用一次。(5 分)

$$() + () = () + () = () + ()$$

参考答案:

一、 2 3 4 4 5

二、 1、4 3 2、4 5 3、3 3

三、 2 4 5 1 2 2 5 2 3

四、 略

五、 + + - + + - - -

六、 1 1

七、 3 5 2 2 1 1 4 4 3 5 2 2 1 3 0 4 1 0 0

3

八、 (1) $4+1=5$

(2) $2+3=5$

(3) $4-1=3$

(4) $5-1=4$

(5) $2+2=4$

(6) $5-4=1$

九、 (1) $4-2=2$

十、 (2) $4-3=1$

十、 $0+5=2+3=1+4$

VV99.net

免费文档下载