

2024秋上册

教学质量检查

期末考试卷

年级：一年级

科目：数学

版本：人教版

保密资料

(共5套)

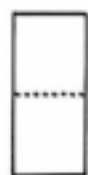
期末摸底测试卷

(时间: 60分钟 满分: 100分)

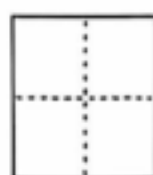
题号	一	二	三	四	五	六	总分
得分							

一、填空题。(第6题5分,第10题4分,其余每空1分,共39分)

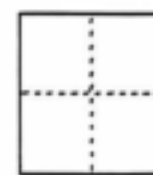
1. 看图写数。



()个一



()个十和()个一



()个十

2. 17是由()个十和()个一组成的,它再添上()就是20。



3. 在5、9、16、20、7和12中,最大的数是(),最接近10的数是(),

小于10的数有()个。

4.



(1)从左数起,第()个是,第()个是.

(2)右边的一个是(),左边的一个是()。

5. 淘气的左边有3人,右边有4人,这一排共有()人。

6. 比一比,填一填。

(1)一共有()个图形。



(2)○比△(多,少),6○4。△比○(多,少),4○6。

7. 猜年龄。(1)

我的年龄在
13和15之间。

()岁

(2)

我的年龄比
12少2。

()岁

8. 填数。

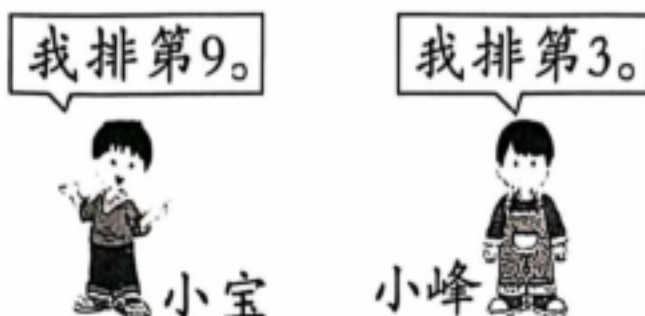
(1)

8		10			13
---	--	----	--	--	----

(2)

20		16		12	
----	--	----	--	----	--

9. 小峰和小宝之间有()人。



10.

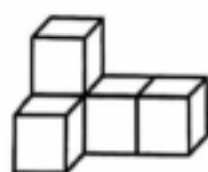


(1) 一共有()个小朋友。

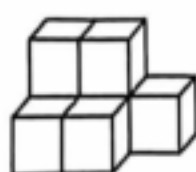
(2) 从右数,小月是第()个小朋友。

(3) 把右边第4个小朋友圈起来,把左边3个小朋友圈起来。

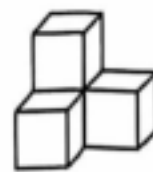
11. 数一数。



()个




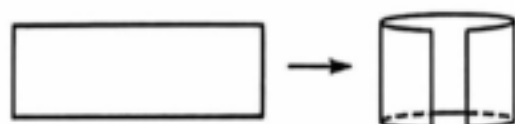
()个



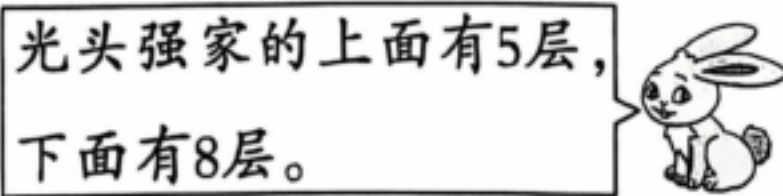
()个

二、选择题。(每题1分,共5分)

1. 把下面这张长方形纸卷一卷,卷出的是()。



2. 光头强的家在第()层。



① 4

② 7

③ 9

3. 小明计算一道加法题,等号前后都是 8,另一个加数是()。

①0

②8

③16

4. 小华和小红读同一本书,小华还剩 11 页没读完,小红还剩 15 页没读完,
()读得多。

①小华

②小红

③无法确定

5. 报数啦!从左往右报,笑笑报 7;从右往左报,笑笑报 9。一共有()个小朋友报数。

①15

②16

③17

三、计算题。(第 1 题 8 分,第 2 题 6 分,共 14 分)

1. 直接写出得数。

$8-6=$

$4+7=$

$9-3=$

$8-7+5=$

$7+6=$

$14-10=$

$7-4=$

$6+4-7=$

2. 在()里填上合适的数。

$()+7=18$

$()+5=17$

$9+()>10$

$()-4=11$

$()-5=10$

$8-()<7$

四、操作题。(第 3 题 8 分,第 4 题 6 分,其余每题 2 分,共 18 分)

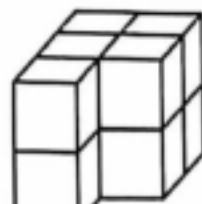
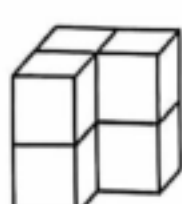
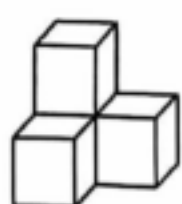
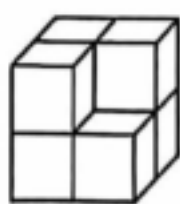
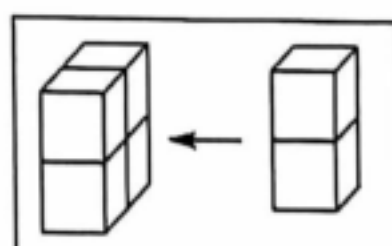
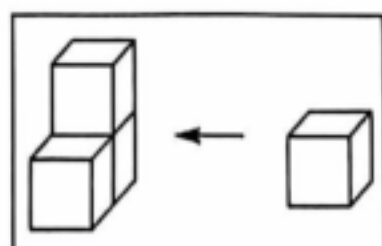
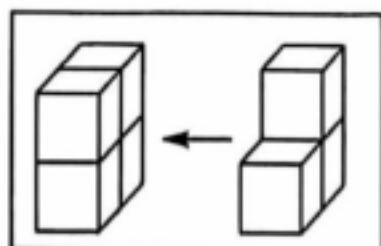
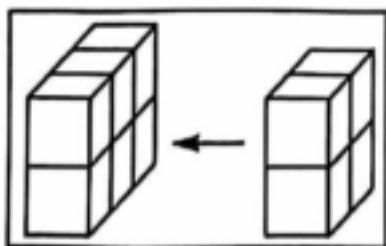
1. 接着画□,和△同样多。 2. 画○,和☆加起来一共 12 个。

△△△△△




☆☆☆☆☆☆☆

□□_____

3. 连一连。




4. 填表。

			
原来有	10 个	() 个	12 个
吃掉	3 个	3 个	5 个
还剩	() 个	10 个	() 个

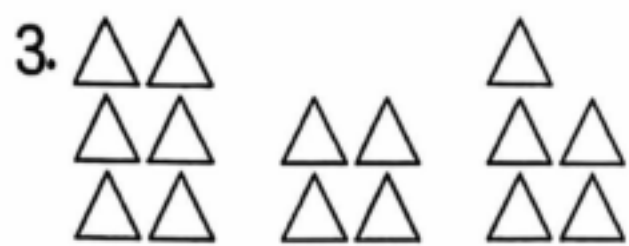
五、看图列式计算。(每题 3 分,共 12 分)



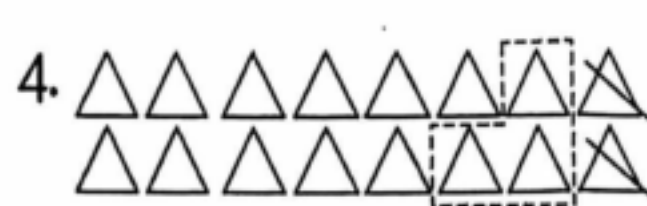
$$\square \bigcirc \square = \square (\quad)$$



$$\square \bigcirc \square = \square (\quad)$$



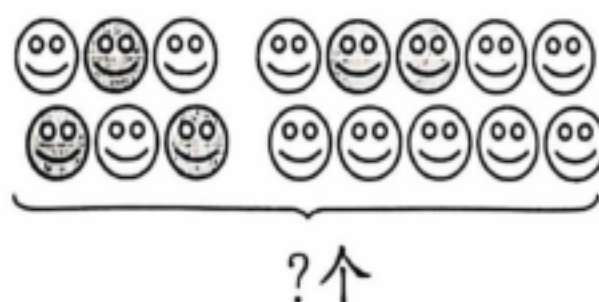
$$\square \bigcirc \square \bigcirc \square = \square (\quad)$$



$$\square \bigcirc \square \bigcirc \square = \square (\quad)$$

六、解决问题。(每题 6 分,共 12 分)

1. 用两种方法解题。



方法一: $\square \bigcirc \square = \square (\quad)$ 方法二: $\square \bigcirc \square = \square (\quad)$

2. 东东买了其中不同的两盒蛋挞。



(1) 东东最多买了多少个蛋挞? (2) 东东最少买了多少个蛋挞?

2024人教版一年级数学上学期学业水平测试

期末学情调研卷

(时间: 60分钟 满分: 100分)

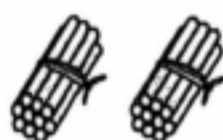
题号	一	二	三	四	五	总分
得分						

一、填空题。(第7题4分,其余每空1分,共32分)

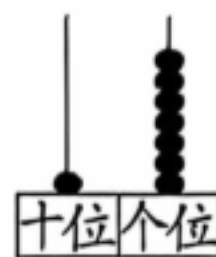
1. 看图写数。



()



()

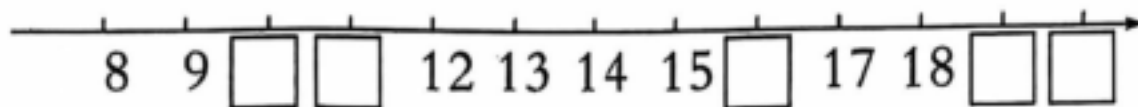


()

2. 16 里面有()个十和()个一。

3. 在 12 和 17 中,()接近 10,()接近 20; 与 14 相邻的两个数是

()和()。



4. 在○里填上“+”或“-”。

$7 \bigcirc 2 = 5$

$9 \bigcirc 8 = 17$

$6 \bigcirc 8 = 14$

$12 \bigcirc 10 = 2$

5. 在○里填上“>”“<”或“=”。

$7 \bigcirc 11$





$14 - 4 \bigcirc 7$

$18 - 8 \bigcirc 9$

$8 + 7 \bigcirc 6 + 9$

6. 




 比  多()辆,  比  少()辆。

7. 仔细观察下列图形。



(1) 把右边的 3 个图形圈起来。

(2) 把左边第 3 个图形涂黑。

(3)  的左边有()个图形, 右边有()个图形。

8. 比5大又比9小的数有()、()、()。

9. 明明排队上公交车,从前面数明明排在第6,他后面还有2人,一共有()人排队上车。

二、选择题。(每题1分,共5分)

1. 与14相邻的两个数是()。

①14和15

②13和15

③13和14

2. 差是11的算式是()。

① $10+1$

② $6+5$


③ $17-6$

3. 要拼成一个大正方体,右面的图形至少还要添()个 。















①7

②6

③5



4. 下面不能用 $9+5=14$ (个)来解决问题的是()。

<p>① 现在有多少个 ?</p> <p>原来有9个 。</p> <p> </p> <p>又买来了5个 。</p>	<p>② 现在有多少个 ?</p> <p>原来有9个 。</p> <p> </p> <p>我吃了5个 。</p>	<p>③ 原来有多少个 ?</p> <p>我吃了9个 。</p> <p> </p> <p>还剩下5个 。</p>
--	--	---

5. 小丽的前面有2人,后面有3人,这一队一共有()人。

①4

②5

③6

三、直接写出得数。(共23分)

$9+7=$

$9-3=$

$6+9=$

$5+6=$

$7-7=$

$2+6=$

$4+5=$

$9+8=$

$6+0=$

$6-5=$

$7+5=$

$19-10=$

$3+4=$

$4-4=$

$4+8=$

$17-7=$

$8+10=$

$5+3=$

$1+9=$

$6+7=$

$4+1+5=$

$9-2+5=$

$4+7-4=$

四、操作题。(第1题4分,第2题6分,共10分)

1. 按要求画一画。

(1) 画△,比☆多2个。

☆☆☆☆☆

(2) 画○,比□少3个。

□□□□□□

2. 接着摆,圈出正确的答案。

(1)  _____ ( )

(2)  _____ ( )

(3)  _____ (  )

五、解决问题。(第6题6分,其余每题4分,共30分)



可以这样算: $\square \bigcirc \square = \square$ ()

也可以这样算: $\square \bigcirc \square = \square$ ()



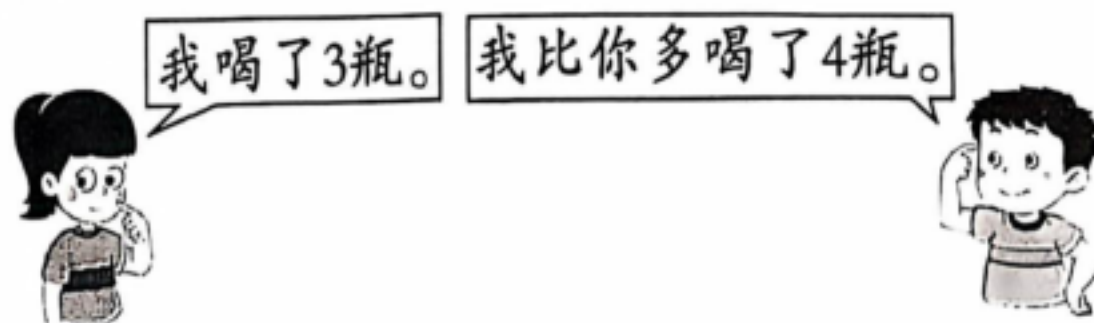
三个人一共买了多少个玩具?



画图数一数,第8只和第15只小鸭之间有()只小鸭。

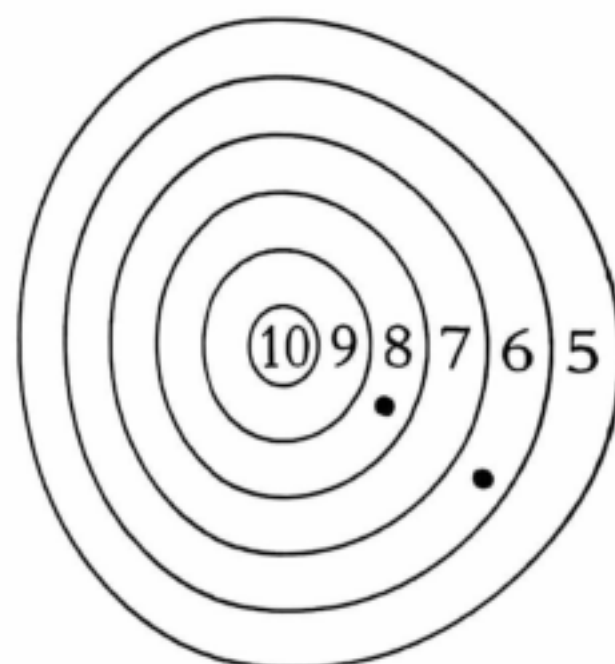
4. 书架上有 12 本书, 又买了 3 本, 小凡借走了 1 本。书架上现在一共有多少本书?

5. 原来有 14 瓶牛奶, 现在还剩多少瓶牛奶?



6. 看图回答问题。

(1) 这是小猴射击的得分情况, 小猴一共得了多少分?



(2) 小兔也射击了两次, 并且都射中, 小兔最多能得多少分?

7. 图书角原来有多少本故事书?



2024人教版一年级数学上学期学业水平测试

期末绝密押题卷

(时间: 60分钟 满分: 100分)

题号	一	二	三	四	五	六	总分
得分							

zhí jiē xiě chū dé shù

一、直接写出得数。(10分)

$17-5=$

$10-3=$

$9-6=$

$10-6+5=$

$8-7=$

$3+5=$

$9+4=$

$3+7+8=$

$4+6=$

$15-2=$

$12+7=$

$12-2+4=$

$7+7=$

$19-10=$

$8+4=$

$14-3+6=$

$13-3=$

$6+7=$

$10+5=$

$16-6-6=$

tián yì tián

二、填一填。(第7题8分,其余每空1分,共25分)

1. 生活情境 乘电梯。

(1)右图中的13读作(),在电梯中表示()楼。

(2)从下往上数,8在第()行,8的左边是()。

(3)比10楼低一层的是()楼。

2. 一个数个位上是5,十位上的数比它小4,这个数是()。

3. 9后面第5个数是(),与它相邻的两个数是()和()。

4. 在()里填上合适的数。

$() + 7 = 15$

$8 + () = 17$

$() - 5 = 10$

$9 + () = 13$

$9 + () > 15$

$8 + () < 16$

5. 今天是星期一,下雨了,笑笑家推迟3天再去郊游。推迟后,他们星期()去郊游。

6. 山羊爷爷的面包店开业了,小动物们都来购买面包,它们在门口排成了一队。小熊和小鹿之间有()只小动物。

电梯

13	14
11	12
9	10
7	8
5	6
3	4
1	2
↓	↓

从前往后数,我排第8。

从前往后数,我排第13。



7. 10 只小鸟住进 4 个鸟窝里, 每个鸟窝里小鸟的只数都不相同, 你能帮小鸟分一分吗? 把小鸟的只数填在括号里。



() 只



() 只



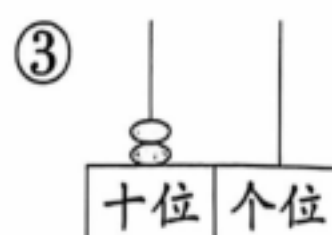
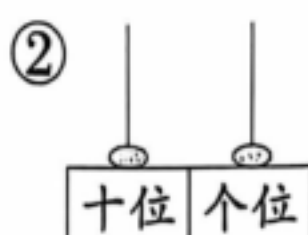
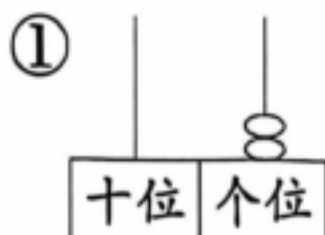
() 只



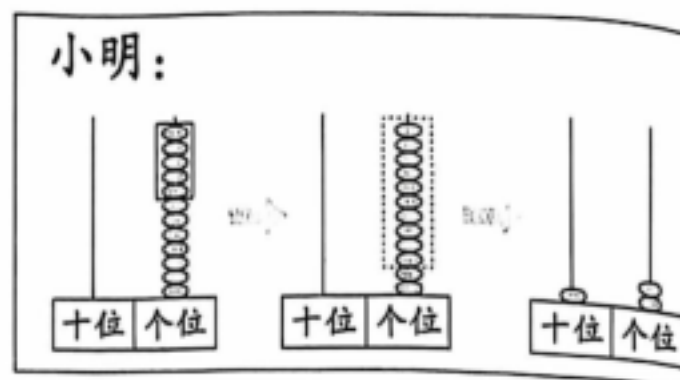
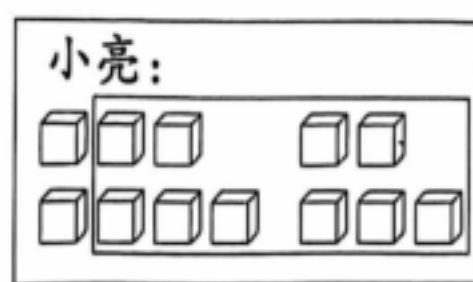
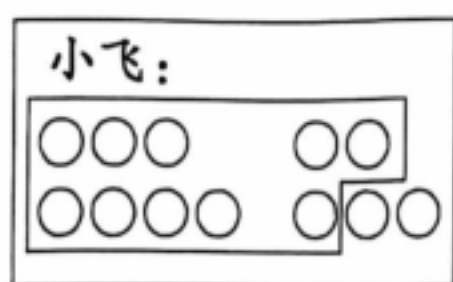
() 只

三、选一选。(将正确答案的序号填在括号里)(10 分)

1. 下面选项()表示的数最小。



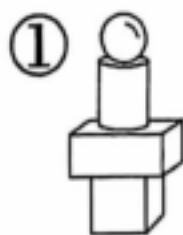
2. 下面是三个小朋友计算“7+5”的方法, 正确的是()。



- ①只有小飞和小亮 ②只有小亮和小明 ③小飞、小亮和小明
3. 摘了 18 个桃子, 送给 8 个, 又送给 5 个, 共送给其他小动物几个桃子? 正确的算式为()。

- ① $8-5=3$ (个) ② $8+5=13$ (个) ③ $18-8-5=5$ (个)

4. 圆柱在正方体的上面, 在长方体的下面; 球在长方体的上面。下面摆放正确的是()。



5. 下面可以用算式“ $9-2-3$ ”来解决的是()。

- ①盘子里有9个苹果,爸爸吃了2个,盘子里还剩几个苹果
 ②车上原来有9人,先下去2人,又上来3人,车上现在有几
 ③高铁站停了9列高铁,先开走2列,又开走3列,高铁站还有几列高铁

dòng shǒu zuò yí zuò
 四、动手做一做。(12分)

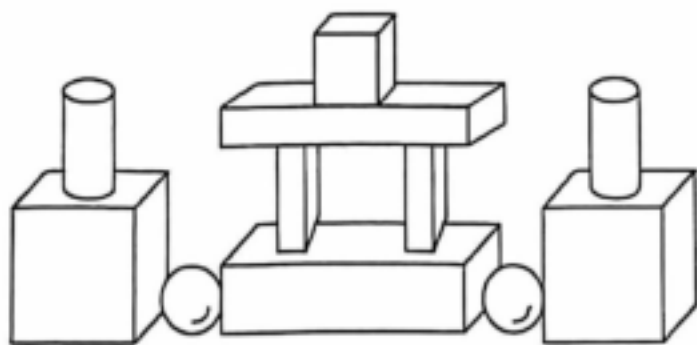
1. 看图补全下面的话。(选填“上”“下”“前”“后”)(4分)



美丽的农场

李叔叔坐在车子的()面,马儿在他()面拉着车子,小狗在他()面欢快地奔跑着,鸡妈妈带着鸡宝宝在大树()面玩耍!

2. 数一数,填一填。(8分)



长方体	()个
正方体	()个
球	()个
圆柱	()个

kàn tú liè shì jì suàn
 五、看图列式计算。(16分)

1. ? 个



18个

$$\square \bigcirc \square = \square (\text{个})$$

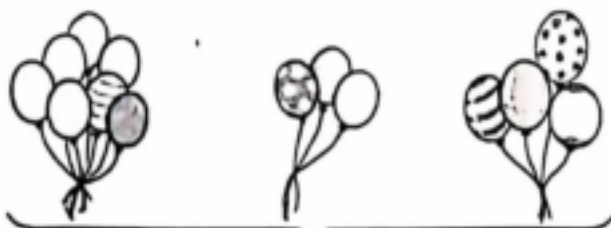
2. 9支



? 支

$$\square \bigcirc \square = \square (\text{支})$$

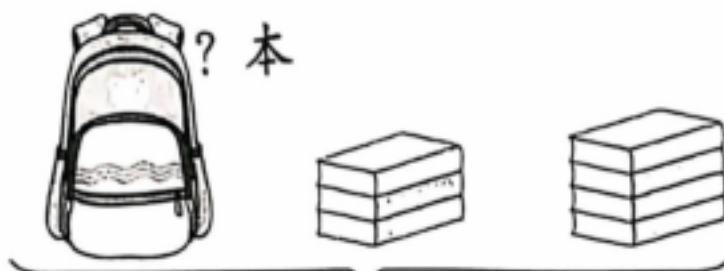
3.



? 个

$$\square \bigcirc \square \bigcirc \square = \square (\text{个})$$

4.



? 本

19本

$$\square \bigcirc \square \bigcirc \square = \square (\text{本})$$


jiě jué wèn tí
六、解决问题。(27分)

1. 房子里有几人?(5分)

$$\square \bigcirc \square = \square (\text{人})$$



zhèng jiù
2. 拯救足球大作战。



它们一共往里面加了多少桶水?(6分)

$$\square \bigcirc \square = \square (\text{桶})$$


3. 松鼠灰灰说:“我上午采了10个松果,下午采了6个松果,先送给松鼠奶奶6个,又送给松鼠弟弟4个。”(6分)

(1) 算式“ $10+6-6=10$ (个)”解决的问题是_____。

(2) 松鼠灰灰现在还剩下多少个松果?

$$\square \bigcirc \square = \square (\text{个})$$

4. 一场大雪过后,小朋友们在雪地上打雪仗、堆雪人。一共有多少个小朋友在雪地上玩耍?(10分)



方法一: $\square \bigcirc \square = \square (\text{个})$ 方法二: $\square \bigcirc \square = \square (\text{个})$

期末名校真题卷

(时间: 60分钟 满分: 100分)

题号	一	二	三	四	五	六	总分
得分							

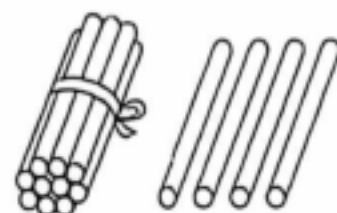
wò huì tián

一、我会填。(每空1分,共31分)

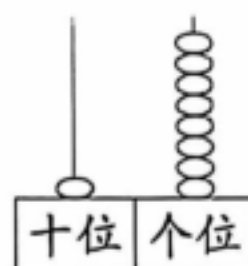
1. 数一数,写一写。




()



()



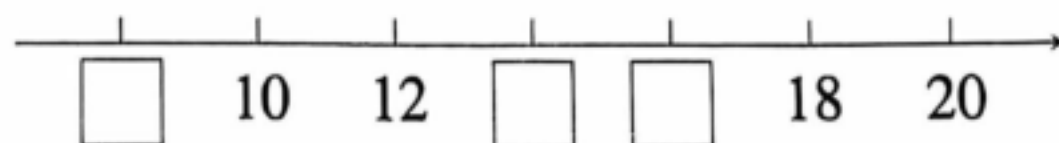
()



()

2. **时事热点** 2024世界泳联锦标赛在卡塔尔多哈举行。在此次比赛中,我国在跳水和花样游泳两项一共夺得16金5银1铜的优异成绩。横线上的数读作:(),它是由()个十和()个一组成的。

3. **西安市** 找规律填数,并回答问题。



(1) 12里面有()个一, 20里面有()个十。

(2) 12和18这两个数,()更接近10,()更接近20。

4. 在○里填上“>”“<”或“=”。

$4+6 \bigcirc 9$

$5+9 \bigcirc 14$

$9-2 \bigcirc 8$

$16-4 \bigcirc 9+3$

$17-3 \bigcirc 7+6$

$7+9 \bigcirc 8+6$

5. **厦门市** 照样子,填一填。



6. **北京市** 小朋友们玩报数游戏,从前往后报数,云云报7;从后往前报数,云云报4。一共有()个小朋友在玩报数游戏。

7. **广州市**



- (1)一共有()个图形,其中正方体有()个。
 (2)从左边数起,第()个和第()个都是球。
 (3)○的左边有()个圆柱,右边有()个长方体。

二、我会选。(将正确答案的序号填在括号里)(6分)

1. 下面的物体中,哪一个最容易滚动?()



2. **郑州市** ☆☆☆☆☆☆☆ 数一数,比一比,下列哪个说法正确?()

①◇比☆多

②☆比◇多

③◇和☆同样多

3. 小于15的两位数有()个。

①5

②6

③4

4. **济南市** 与 $16-3$ 结果相等的算式是()。

① $14-2$

② $4+9$

③ $6+9$

5. **福州市** $\square+9>14$, \square 里最小可以填()。

①5

②6

③7

6. **南宁市** 12个小朋友,每人发一个苹果,正好发完两箱苹果,下面第()箱没有发。



三、我会算。(12分)

1. 直接写出得数。(6分)

$0+8=$

$5+5=$

$9+8=$

$7+10=$

$2+9=$

$10-6=$

$4+9=$

$8+2+9=$

$10+2+6=$

$18-8-4=$

$16-6+4=$

$12+3-5=$

2. 写算式。(6分)

$$\begin{array}{l} \square + \square \\ \square + \square \\ \square + \square \end{array} \rightarrow = 13$$

$$\begin{array}{l} \square - \square \\ \square - \square \\ \square - \square \end{array} \rightarrow = 6$$

wò huì zuò

四、我会做。(10分)

1. **兰州市** 比一比,画一画。(4分)

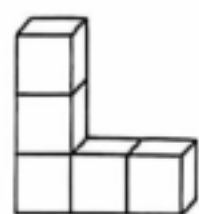
(1)画□,和○同样多。

○ ○ ○ ○ ○ ○

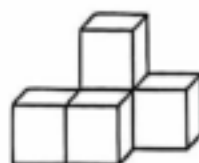
(2)画△,比♡少。

♡ ♡ ♡ ♡ ♡ ♡ ♡ ♡ ♡

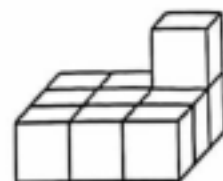
2. 数一数,填一填。(6分)



有()个□



有()个□

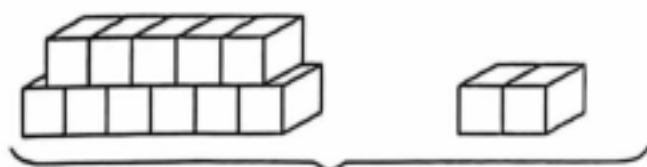


有()个□

wǒ huì kàn tú liè shì jì suàn

五、我会看图列式计算。(12分)


1.



? 块

$$\square \bigcirc \square = \square (\text{块})$$

2.



? 个

$$\square \bigcirc \square = \square (\text{个})$$

3.



一共有多少只小兔子?

方法一: $\square \bigcirc \square = \square (\text{只})$

方法二: $\square \bigcirc \square = \square (\text{只})$

1. 饲养员拿来8个竹笋喂大熊猫,吃掉了5个,还剩几个?(4分)

$$\square \bigcirc \square = \square (\text{个})$$

2. 小朋友们在玩踩气球的游戏。男生脚上一共绑了10个气球,女生脚上一共绑了6个气球,一共用了多少个气球?(5分)


$$\square \bigcirc \square = \square (\text{个})$$



3. **天津市** 第一小组有男生7人,女生5人。这些学生要乘坐一辆车去动物园,你认为他们乘坐下面哪辆车最合适?(5分)



5座



13座



18座

4. **学科融合**

我

是

小

学

生

()画 ()画 3画 8画 ()画

(1) 每个字各有几画? 请把没有填写的写在括号里。(3分)

(2) 从上面选2个不同的字抄写,最少写几画? 最多写几画?(6分)

最少: $\square \bigcirc \square = \square (\text{画})$

最多: $\square \bigcirc \square = \square (\text{画})$

5. **武汉市** 张叔叔前面还有几人等待办理业务?(6分)



我是这样想的:

2024人教版一年级数学上学期学业水平测试

期末素养情境卷

(时间：60分钟 满分：100分)

题号	一	二	三	四	五	六	总分
得分							

为了弘扬航天精神,感受我国科技的发展。学校组织学生参加以“圆梦蓝天,预见未来”为主题的航天研学活动。

一、我会算。(22分)

1. 直接写出得数。(16分)

$3+6=$

$8+8=$

$0+5=$

$18-5-2=$

$10-0=$

$7+5=$

$13-10=$

$8+2-3=$

$6+5=$

$19-9=$

$9+4=$

$9-2+3=$

$17-2=$

$10+6=$

$10-3=$

$4+6+5=$

2. 在□里填上合适的数。(6分)

$$\begin{array}{c} 6+6=\square \\ \begin{array}{|c|c|} \hline \square & \square \\ \hline \end{array} \\ 10 \end{array}$$

$$\begin{array}{c} 8+9=\square \\ \begin{array}{|c|c|} \hline \square & \square \\ \hline \end{array} \\ 10 \end{array}$$

$$\begin{array}{c} 7+2-5=\square \\ \begin{array}{|c|} \hline \square \\ \hline \end{array} \end{array}$$

二、我会填。(每空1分,共24分)

为了确保研学之旅的顺利进行,出发前,老师做了详细的规划与准备工作。

1. 老师查阅了航天研学基地的信息,请你填一填。



学校距离航天研学基地有15千米。(千米是一种长度单位)

航天研学基地和14个篮球场的大小差不多。



(1)依次读出横线上的数:()、()。

(2)14是由()个十和()个一组成的。

(3)15后面的第一个数是()。

2. 老师为每一名同学都准备了号码牌,下面是部分同学的号码牌。

17 10 9 6 20 11 15 1 13 2 8

(1)上面一共有()张号码牌,号码牌上最大的数是(),最小的数是()。

(2)从左边数,第6张号码牌上的数是();从右边数,第3张号码牌上的数是()。

3. 下面是老师为研学之旅准备的部分物品,其中可以滚动的物品有(),所有的面大小都相等的是()。(填序号)



4. 在()里填上合适的数。

$$5 + () = 9 \quad 15 + () = 18 \quad 10 - 10 = 8 - ()$$

$$() - 10 = 5 \quad 16 - () = 6 \quad () + 7 = 9 + 2$$

5. 在○里填上“>”“<”或“=”。

$$19 - 9 \bigcirc 10$$

$$5 + 9 \bigcirc 15$$

$$10 \bigcirc 14 - 10$$

6. 一个加数是9,另一个加数是3,和是();被减数是17,减数是7,差是()。

7. 正式出发前,老师将同学们分成几个小组。第一小组有1位带队老师,6名男同学,3名女同学。第一小组一共有()人。

wǒ huì xuǎn jiāng zhèng què dá àn de xù hào tián zài kuò hào lǐ
三、我会选。(将正确答案的序号填在括号里)(10分)

走进航天研学基地,首先学习航天飞船相关的知识,探索其中的奥秘。

1. 航天研学基地有18台飞行模拟体验设备。下列关于“18”的说法错误的是()。

①由1个十和8个一组成 ②由18个十组成 ③再加上2个一就是20

2. 航天研学基地的航天飞船理论知识讲解员每周二到周五进行集中学习,他们每周共集中学习()天。

①2

②3

③4

3. 墙上陈列了部分神舟系列飞船的展示图,它们的编号分别是1、2、3……,与编号10相邻的分别是编号()。

①9和11

②11和12

③12和13

4. 下面的数中,()的差是10。


①8和2

②7和3

③15和5

5.  接下来要摆的是()。

① 

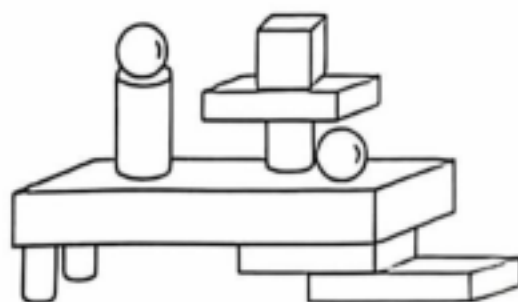
② 



③ 



wǒ huì zuò

四、我会做。(12分)

1. 数一数,填一填。(4分)




 有()个; 有()个;

 有()个; 有()个。

2. 用自己喜欢的方式表示下列算式的意义,并计算。(8分)


$$8-5=()$$

$$6+7=()$$



wǒ huì kàn tú liè shì jì suàn

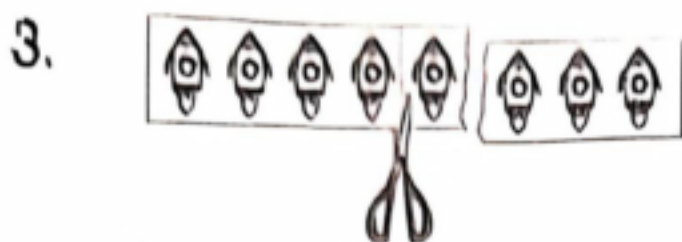
五、我会看图列式计算。(12分)

1. 
? 个

$$\square \bigcirc \square = \square (\text{个})$$

2. 
15 本

$$\square \bigcirc \square = \square (\text{本})$$



$$\square \bigcirc \square \bigcirc \square = \square (\text{个})$$



$$\square \bigcirc \square \bigcirc \square = \square (\text{架})$$




wò huì jiě jué wèn tí
六、我会解决问题。(20分)

接着他们去了解火箭发射的相关知识,体会人类探索太空的历程,感受航天技术的快速发展。

1. 火箭模拟升空视频一共有8分钟,已经播放了4分钟,还剩多少分钟没有播放?(分钟是一种时间单位)(4分)

$$\square \bigcirc \square = \square (\text{分钟})$$

2. 同学们体验制作火箭模型,他们准备把做好的模型送给15位带队老师。下面是3盒火箭模型,选哪两盒刚好?



选择()盒和()盒刚好。(填序号)(5分)

$$\square \bigcirc \square = \square (\text{个})$$

3. 在体验宇航员抗眩晕训练时,明明转了6圈,晶晶转了4圈,乐乐转了8圈,他们三人一共转了多少圈?(5分)

$$\square \bigcirc \square \bigcirc \square = \square (\text{圈})$$

4. 参观结束后,同学们排队离开,思思排在第8,佳佳排在第18,她们两人之间一共有多少人?(6分)

数一数的方法:9,10, _____,两人之间一共有()人。

画一画的方法:

两人之间一共有()人。

参考答案

期末摸底测试卷

一、1. 9 9 12 1 2 20 2

2. 1 7 3 3 20 9 3

4. (1) 2 3 (2) 正方体 长方体

5. 8 6. (1) 10 (2) 多 > 少 <

7. (1) 14 (2) 10

8. (1) 9 11 12

(2) 18 14 10

9. 5

10. (1) 9 (2) 5 (3) 圈小洁 二

11. 5 7 4

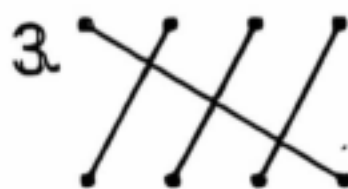
二、1. ③ 2. ③ 3. ① 4. ① 5. ①

三、1. 2 11 6 6 13 4 3 3

2. 11 12 2(答案不唯一) 15

15 2(答案不唯一)

四、1. □□□ 2. ○○○○○○

3.  4. 7 13 7

五、1. $7+5=12$ (座)

2. $8-3=5$ (只)

3. $6+4+5=15$ (个)

4. $16-2-3=11$ (个)

六、1. $6+10=16$ (个) $5+11=16$ (个)

2. (1) $6+8=14$ (个)

(2) $6+4=10$ (个)



参考答案 期末学情调研卷

一、1. 7 20 17 2. 1 6

3. 12 17 13 15 10 11 16 19 20

4. - + + - 5. < > > =

6. 3 3

7. (1)  (2) 涂  (3) 4 4

8. 6 7 8

9. 8 [提示] 排队等的人数 = 明

二、1. ② 2. ③ 3. ① 4. ② 5. ③




三、16 6 15 11 0 8 9 17

6 1 12 9 7 0 12 10

18 8 10 13 10 12 7

四、1. (1) 

(2) 

2. (1)  (2)  (3) 

五、1. $7+5=12$ (个) $4+8=12$ (个)

2. $4+3+3=10$ (个)

3. 6

..... 
第8 第15

4. $12+3-1=14$ (本)

5. $3+4+3=10$ (瓶)

$14-10=4$ (瓶)

6. (1) $8+6=14$ (分)

(2) $10+10=20$ (分)

7. $10+5=15$ (本)

参考答案

期末绝密押题卷

一、12 7 3 9 1 8 13 18
10 13 19 14 14 9 12 17
10 13 15 4

二、1. (1)十三 13 (2)5 7 (3)9

2. 15

3. 14 13 15

4. 8 9 15 4 7 7

(横线上方的答案不唯一)

5. 四

6. 4

7. 1 2 3 4

三、1. ① 2. ③ 3. ② 4. ③ 5. ③

四、1. 上 前 后 下

2. 4 3 2 2

五、1. $18-6=12$ (个)

2. $9+6=15$ (支)[或 $6+9=15$ (支)]

3. $7+3+4=14$ (个)

4. $19-3-4=12$ (本)

六、1. $17-4=13$ (人)

2. $6+8=14$ (桶)

3. (1)送给松鼠奶奶后还剩多少个松果

(2) $10-4=6$ (个)

4. 方法一: $6+6=12$ (个)

方法二: $5+7=12$ (个)

参考答案

期末名校真题卷

一、1. 7 14 18 20

2. 十六 1 6

3. 8 14 16

(1) 12 2

(2) 12 18

4. $> = <$

$= > >$

5. 6 6 10 15

6. 10

7. (1) 8 2

(2) 4 7

(3) 2 1

二、1. ② 2. ② 3. ① 4. ②

5. ② 6. ③

三、1. 8 10 17 17 11 4 13 19

18 6 14 10

2. $10+3$ $5+8$ $6+7$ $10-4$ $8-2$

$7-1$ (答案不唯一)

四、1. (1) □□□□□□

(2) △△△△(答案不唯一)

2. 5 5 10

五、1. $11+2=13$ (块)[或 $2+11=13$ (块)]

2. $5+9=14$ (个)[或 $9+5=14$ (个)]

3. 方法一: $5+8=13$ (只)

方法二: $6+7=13$ (只)

六、1. $8-5=3$ (个)

2. $10+6=16$ (个)

3. $7+5=12$ (人) $5<12<13<18$

乘坐13座的车最合适。

4. (1) 7 9 5

(2) 最少: $3+5=8$ (画)

最多: $9+8=17$ (画)

5. 方法一: 画一画, 数一数。

⊗○○○○○○○○○○⊗

4号

14号

张叔叔前面还有9人等待办理业务

方法二: 数一数, 5, 6, 7, 8, 9, 10, 11, 12, 13。

张叔叔前面还有9人等待办理业务

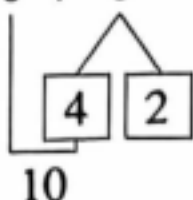
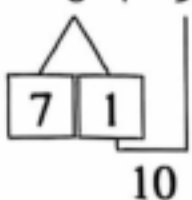
(方法不唯一)

参考答案

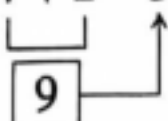
期末素养情境卷

一、1. 9 16 5 11 10 12 3 7 11
10 13 10 15 16 7 15

2. $6 + 6 = \boxed{12}$ $8 + 9 = \boxed{17}$

$7 + 2 - 5 = \boxed{4}$



二、1. (1) 十五 十四

(2) 1 4

(3) 16

2. (1) 11 20 1

(2) 11 13

3. ②④ ①⑥

4. 4 3 8 15 10 4

5. = < >

6. 12 10

7. 10

三、1. ② 2. ③ 3. ① 4. ③ 5. ②

四、1. 4 1 4 2

2. 3 ○○○~~○○○○~~

13 ○○○○○○○ ○○○○○○○○

(表示方法不唯一)

五、1. $5 + 8 = 13$ (个)[或 $8 + 5 = 13$ (个)]

2. $15 - 4 = 11$ (本)

3. $8 - 3 - 1 = 4$ (个)

4. $6 - 2 + 3 = 7$ (架)

六、1. $8 - 4 = 4$ (分钟)

2. ① ③

$6 + 9 = 15$ (个)

3. $6 + 4 + 8 = 18$ (圈)

4. 11, 12, 13, 14, 15, 16, 17 9

~~○~~○○○○○○○○○○~~○~~ 9
第8 第18

VV99.net

免费文档下载