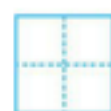
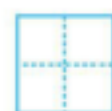
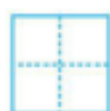
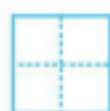
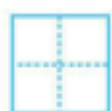


# 第一单元测试卷

## 一、数一数,写一写。



## 二、连一连。

$$5-5$$

$$3-1$$

$$3+0$$

$$5-0$$

$$5$$

$$3$$

$$0$$

$$2$$

$$4-4$$

$$2+1$$

$$1+4$$

$$4-2$$

## 三、找规律,填一填。

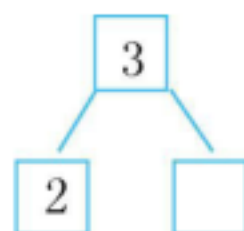
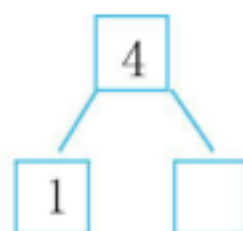
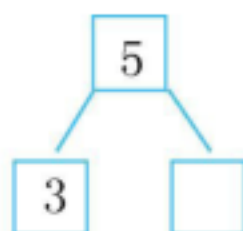
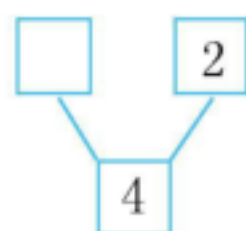
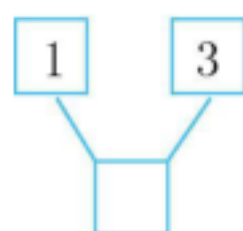
1. (1)

|   |  |   |  |   |  |
|---|--|---|--|---|--|
| 5 |  | 3 |  | 1 |  |
|---|--|---|--|---|--|

(2)

|  |   |  |   |  |
|--|---|--|---|--|
|  | 1 |  | 3 |  |
|--|---|--|---|--|

2.



## 四、直接写出得数。

$$1+3=$$

$$5+0=$$

$$2+2=$$

$$0+5=$$

$$4-2=$$

$$4-3=$$

$$5-0=$$

$$4-1=$$

$$5-5=$$

$$2+3=$$

## 五、比一比,写一写。

1.  $\square \square \square \square \square$

$\bigcirc \bigcirc \bigcirc \bigcirc$

$\square$ 比 $\bigcirc$ 多( )个

$\bigcirc$ 比 $\square$ 少( )个

2.  $\triangle \triangle \triangle$

$\square \square \square \square \square$

$\triangle$ 比 $\square$ 少( )个

$\square$ 比 $\triangle$ 多( )个

$$\bigcirc > \bigcirc \quad \bigcirc < \bigcirc \quad \bigcirc > \bigcirc \quad \bigcirc < \bigcirc$$

六、在  $\bigcirc$  里填上 “>” “<” 或 “=”。

$$5-3 \bigcirc 2+0$$

$$3+1 \bigcirc 5-4$$

$$1+3 \bigcirc 2+3$$

$$4+0 \bigcirc 2+2$$

$$5-0 \bigcirc 3-3$$


$$2+1 \bigcirc 1+2$$

$$5-1 \bigcirc 3+1$$

$$4-2 \bigcirc 2+1$$

七、看图列式计算。

1.   $\square + \square = \square$

2.   $\square - \square = \square$

3.   $\square + \square = \square$

4.   $\square - \square = \square$

八、猜一猜。

$$\bigcirc + \square = 5$$

$$\bigcirc + \bigcirc = 4$$

$$\square - \triangle = 3$$

$$\square = ( \quad )$$

$$\bigcirc = ( \quad )$$

$$\triangle = ( \quad )$$

九、一共有多少只小鸟？

$$\square + \square = \square$$



### 参考答案

一、0 3 5 4 1

二、得数分别是 0、2、3、5、0、3、5、2, 连线略

三、1. (1)4 2 0 (2)0 2 4

2.4 2 2 3 1

四、4 5 4 5 2 1 5 3 0 5

五、1.1 1 5>4 4<5

2.2 2 5>3 3<5

六、= > < = > = = <

七、1.  $4+1=5$  2.  $4-4=0$  3.  $3+0=3$  4.  $5-5=0$

八、3 2 0

九、 $2+3=5$

# VV99.net

免费文档下载