

# 第一学期期末质量检测

## 八年级地理试卷

(闭卷考试, 地理满分 100 分, 与生物合堂分卷, 答题时间共 100 分钟)

一、单项选择题 (各题的四个选项中, 只有一项符合题目要求, 请将正确答案涂在答题卡上, 每小题 2 分, 30 小题, 共 60 分)

1、关于我国地理位置的叙述, 正确的是

- A. 大部分在中纬度, 小部分在高纬度
- B. 全都属于北温带
- C. 位于亚欧大陆的东部, 太平洋的西岸
- D. 位于西半球和北半球

2、2012 年我国宣布批准撤销海南省西沙群岛、南沙群岛、中沙群岛办事处, 设立地级市三沙市。三沙市所在省级行政区的简称是

- A. 粤
- B. 琼
- C. 桂
- D. 闽

3、下列说法正确的是

- A. 我国领土最南端在曾母暗沙
- B. 我国是世界上为数不多的内陆大国之一
- C. 我国的陆上邻国包括韩国
- D. 我国陆地面积约 960 万平方千米, 居世界第二位

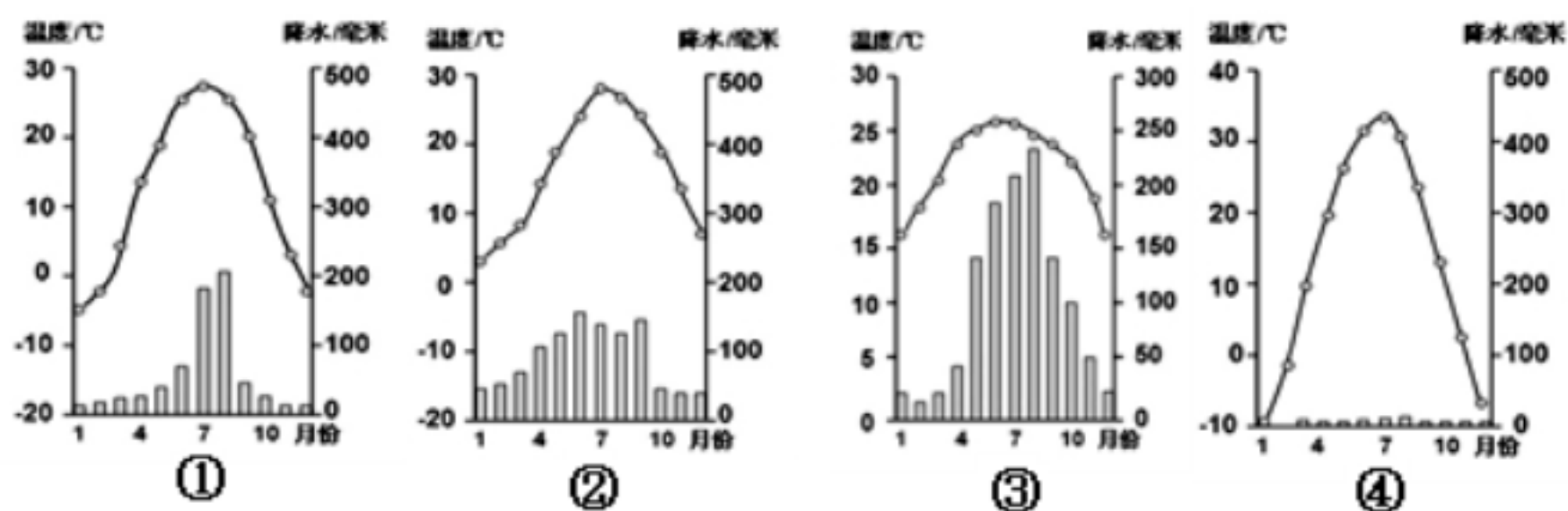
4、有关我国民族的叙述, 正确的是

- A. 我国共有 56 个少数民族
- B. 少数民族中人口最多的是藏族
- C. 各民族无论大小, 一律平等
- D. 汉族主要分布在西北、西南、东北地区

5、关于“珠峰”的叙述, 正确的是

- A. 位于我国
- B. 是喜马拉雅山的主峰
- C. 位于尼泊尔
- D. 是世界第二高峰

读下列气温曲线和降水量柱状图, 回答 6、7 题。



6、季风气候的特点是雨热同期, 图中表示非季风区的气候特征的图是

- A. ①
- B. ②
- C. ③
- D. ④

7、根据气温曲线和各月降水量分布情况判断, 与鞍山气候状况最接近的是

- A. ①
- B. ②
- C. ③
- D. ④

8、我国冬季最冷的地方位于

- A. 黑龙江省漠河县的北极村
- B. 青藏高原上的拉萨
- C. 新疆维吾尔自治区的乌鲁木齐
- D. 云贵高原上的昆明

- 9、我国降水最少的地方位于  
A. 火烧寮      B. 贵阳      C. 托克逊      D. 三亚
- 10、影响我国东部大部分地区降水的是  
A. 东北季风      B. 西北季风      C. 东南季风      D. 冬季风
- 11、山区常见的地质灾害除滑坡外，还包括  
A. 台风和泥石流      B. 沙尘暴和崩塌      C. 泥石流和崩塌      D. 寒潮和地震
- 12、下列组合均属于非可再生资源的是①水 ②煤炭③土地 ④森林 ⑤石油 ⑥钢铁  
A. ①②      B. ③④      C. ⑤⑥      D. ②⑤
- 13、下列关于我国自然资源的叙述正确的是  
A. 自然资源总量丰富，种类不全      B. 对自然资源的开发利用十分合理  
C. 自然资源总量丰富，人均不足      D. 对自然资源的需求量会不断减少
- 14、为了保护和节约自然资源，我们要做到  
A. 洗碗时尽量使用洗涤剂      B. 垃圾分类放置和回收，废弃物再利用  
C. 经常使用一次性消费品      D. 经常使用贺卡和购买过度包装的商品
- 15、我国山区面积广大，但山区也有发展经济的优势  
A. 在旅游业和运输业方面      B. 在商业和采矿业方面  
C. 在旅游业和采矿业方面      D. 在林业和种植业方面
- 16、我国林地主要分布在  
A. 东北、西北、华北地区      B. 东北、西南的天然林区 and 东南部的人工林  
C. 华北、西北和东南地区      D. 东北、青藏地区和西北地区大面积人工林
- 17、关于我国土地资源构成的说法，正确的是  
A. 土地资源类型少      B. 难利用的土地比重小  
C. 耕地、林地比重小      D. 后备耕地资源充足
- 18、额尔齐斯河向北流入  
A. 太平洋      B. 印度洋      C. 北冰洋      D. 大西洋
- 19、我国流域面积最广、也是我国水量最大的河流是  
A. 长江      B. 黄河      C. 珠江      D. 辽河
- 20、解决我国水资源地区分布不均的有效措施之一是  
A. 西气东输      B. 南水北调      C. 西电东送      D. 修建水库
- 21、有两箱急救药品从北京运往四川省灾区，最佳的运输方式是  
A. 铁路运输      B. 公路运输      C. 航空运输      D. 水路运输
- 22、我国目前建成通车的海拔最高的一条铁路是  
A. 成昆铁路      B. 南疆铁路      C. 青藏铁路      D. 贵昆铁路
- 23、本着因地制宜发展农业的原则，我们应该  
A. 在千山山地丘陵地区发展种植业      B. 在内蒙古高原上大力发展林业  
C. 在辽河平原地区大力发展畜牧业      D. 在大连沿海地区发展海洋渔业



24、东北地区播种面积最大的糖料作物和油料作物是

- A. 甘蔗和花生      B. 甘蔗和芝麻      C. 甜菜和油菜      D. 甜菜和大豆

25、我国缺水最严重的地区是

- A. 北方地区      B. 青藏地区      C. 南方地区      D. 华北地区和西北地区

读某地区图，完成 26、27、28 题。

26、右图所示工业区是

- A. 京津唐工业基地      B. 沪宁杭工业基地  
C. 珠三角工业基地      D. 辽中南工业基地

27、右图中 A 港口的名称是

- A. 大连      B. 上海      C. 天津      D. 广州

28、该地区所含的省会城市是

- A. 大连      B. 沈阳      C. 鞍山      D. 北京



29、下列不属于高新技术产业的是

- A. 电子信息      B. 生物工程      C. 钢铁产业      D. 新能和新材料

30、我国首个国家级高新技术产业开发区是

- A. 长江三角洲地区      B. 珠江三角洲      C. 环渤海地区      D. 位于北京城区西北的中关村

## 二、综合题（请将正确答案填写在答题卡上，每空 1 分，共 40 分）

31、读中国地形图示意图，回答（11 分）

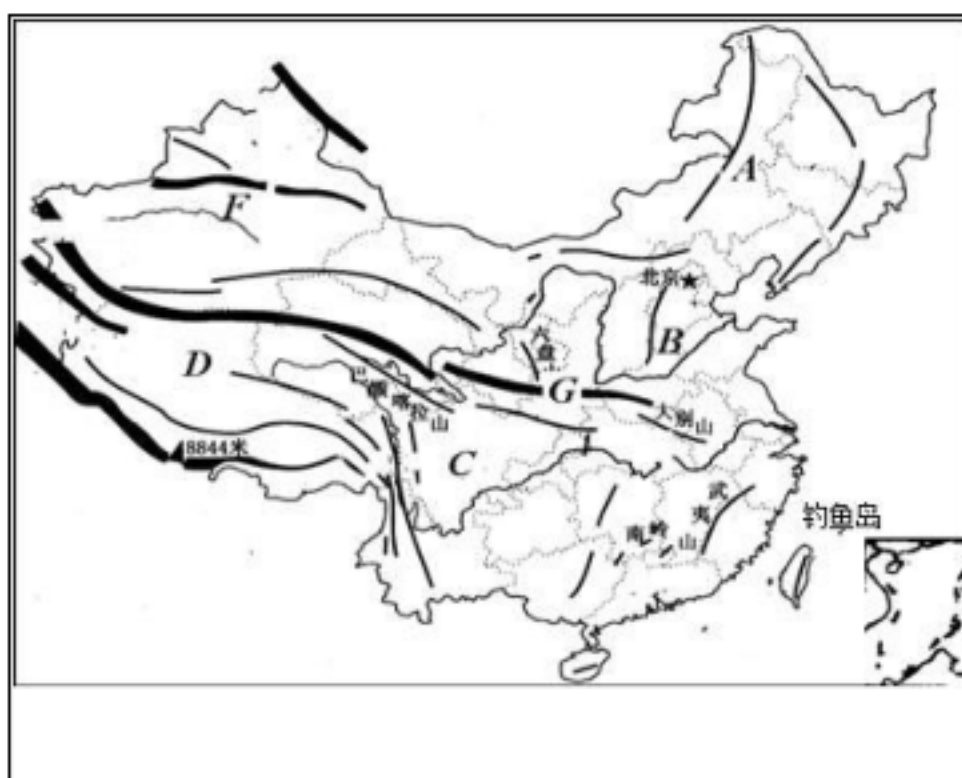
（1）我国地势特征是\_\_\_\_\_，呈三级阶梯布，鞍山位于我国地势的第\_\_\_\_级阶梯上。

（2）字母 D 代表的是世界上海拔最高的\_\_\_\_\_高原；字母 C 代表我国四大盆地中湿润的\_\_\_\_\_盆地。

（3）字母 A、B 所示山脉是我国地势第二、梯的分界线。其中，山脉 A 大致的走向是\_\_\_\_\_；山脉 B 的名称是\_\_\_\_\_。

（4）钓鱼岛自古以就是我国的神圣领土，的海域是\_\_\_\_\_海。我国的内海是\_\_\_\_\_海和琼州海峡。

（5）山脉 G 名称是\_\_\_\_\_，它和淮河组成了我国重要的地理分界线，这一界线是我国 1 月份\_\_\_\_\_℃等温线和 \_\_\_\_\_毫米年等降水量线大致通过的地方。



状 分

气候最

三级阶

它所在

32、阅读材料，回答（9 分）

材料一：2010 年第六次全国人口普查数据（包括港、澳、台），我国人口总数 13.70 亿，约占世界人口的五分之一。

材料二：如果不实行计划生育，2010 年我国的人口总数可能是 17.5 亿。

材料三：

	不实行计划生育(2010年)	实行计划生育(2010年)
人均粮食产量(千克/人)	312.29	407.84
人均教育经费(元/人)	1117.83	1459.85

依据上述材料，回答：

- (1) 2010年，我国人口总数\_\_\_\_\_，我国是世界上人口\_\_\_\_\_的国家。
- (2) 实行计划生育，2010年我国大约少出生\_\_\_\_\_人口。实行计划生育，2010年人均粮食产量了，人均教育经费\_\_\_\_\_了。
- (3) 2010年，世界平均人口密度为47人/平方千米，请你计算：我国平均人口密度约为\_\_\_\_\_。
- (4) 我国人口分布\_\_\_\_\_。从黑龙江省黑河到至云南省腾冲画一条直线，此线\_\_\_\_\_人口稠密，\_\_\_\_\_人口稀



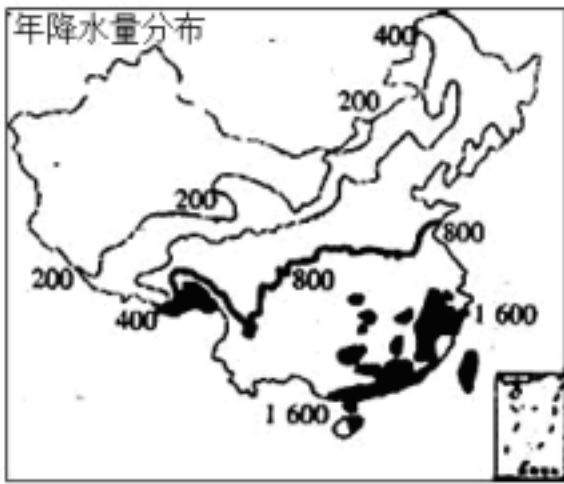
33、读某地区简图，回答（12分）

- (1) 图中的铁路干线名称是\_\_\_\_\_，它沿线经过了\_\_\_\_\_市、\_\_\_\_\_市、\_\_\_\_\_省、\_\_\_\_\_省、\_\_\_\_\_省、\_\_\_\_\_省和\_\_\_\_\_市。
- (2) 该铁路南北连接的我国两大工业基地是\_\_\_\_\_、\_\_\_\_\_。
- (3) 该铁路途经我国\_\_\_\_\_平原和\_\_\_\_\_平原。

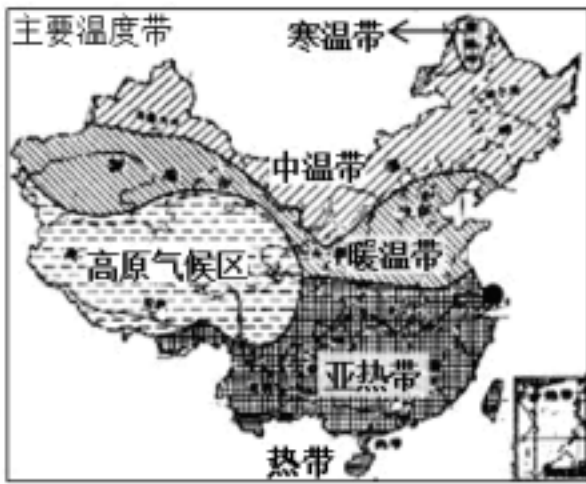
34、读下图，回答（8分）



A



B



C

(1) 图 A 中①所示耕地类型是\_\_\_\_\_

\_\_\_\_，②所示土地利用类型是\_\_\_\_\_。

(2) 土地利用类型④适合发展的农业部门是\_\_\_\_\_。

(3) 图 B 反映了我国年降水量分布的总趋势是由\_\_\_\_\_向\_\_\_\_\_递减。

(4) 根据图 C 判断，鞍山地区所属的温度带处于\_\_\_\_\_带向\_\_\_\_\_带的过渡地带，大部分地区的作物熟制是\_\_\_\_\_。



# 第一学期期末考试

## 八年级地理试卷答案

一、单项选择题：各题的四个选项中，只有一项符合题目要求，请将正确答案涂在答题卡上，每小题 2 分，30 小题，共 60 分

- 1、C    2、B    3、A    4、C    5、B  
6、D    7、A    8、A    9、C    10、C  
11、C    12、D    13、C    14、B    15、C  
16、B    17、C    18、C    19、A    20、B  
21、C    22、C    23、D    24、D    25、D  
26、D    27、A    28、B    29、C    30、D

二、综合题：请将正确的答案填写在答题卡上，每小空 1 分，共 40 分

### 31、每空 1 分，计 11 分

- (1) 西高东低                      三  
(2) 青藏                          四川  
(3) 东北—西南（走向）      太行山(脉)  
(4) 东                              渤  
(5) 秦岭                          0                  800

### 32、每空 1 分，计 9 分

- (1) 13.70 亿                  最多  
(2) 3.8 亿                      提高                  提高  
(3) 143 人/平方千米                  很不均匀  
(4) 东南部                  西北部

### 33、每空 1 分，计 12 分

- (1) 京沪线（铁路）          北京                  天津    河北    山东    江苏    安徽    上海  
(2) 京津唐工业基地          沪宁杭工业基地  
(3) 华北                          长江中下游

### 34、每空 1 分，计 8 分

- (1) 以水田为主的耕地          以旱地为主的耕地  
(2) 畜牧业  
(3) 东南沿海                  西北内陆  
(4) 暖温带                      中温带                  一年一熟

# VV99.net

免费文档下载