

# 中图版七年级地理下册期中试卷（中图版）

（时间：60 分钟 分数：100 分）

班级：\_\_\_\_\_ 姓名：\_\_\_\_\_ 分数：\_\_\_\_\_

## 一、选择题（共 25 个小题，每题 2 分，共 50 分）

1、纵贯美洲西部的著名山系是（ ）

A. 喜马拉雅山系 B. 阿尔卑斯山系 C. 科迪勒拉山系 D. 阿特拉斯山系

2、下图漫画《手下留情》，给我们的启示是（ ）



A. 我国自然资源总量丰富，人均不足 B. 禁止采伐森林，杜绝使用木材

C. 减少一次性筷子的使用，保护森林资源 D. 退耕还草，加快国土绿化

3、跨经度最广的大洋是（ ）

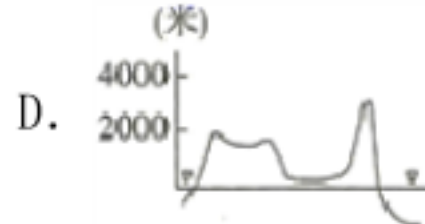
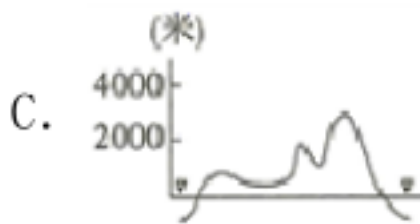
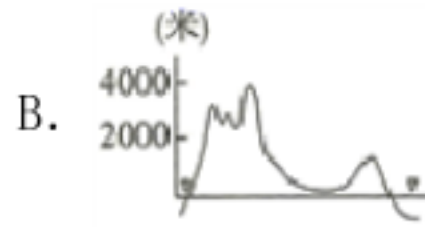
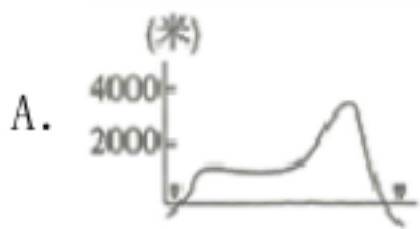
A. 北冰洋 B. 印度洋 C. 大西洋 D. 太平洋

4、下列语句中，描述北方地区的是（ ）

A. 旱地麦浪泛金黄，大地笼罩青纱帐 B. 黄梅时节家家雨，青草池塘处处蛙

C. 大漠孤烟直，长河落日圆 D. 天苍苍，野茫茫，风吹草低见牛羊

5、下图中能正确反映美国中部自西向东地势起伏的剖面图是（ ）



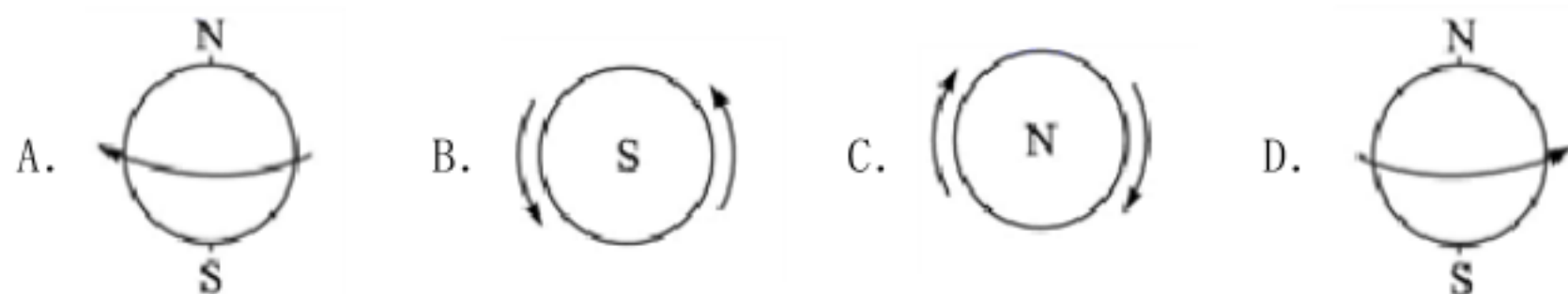
6、撒哈拉以南非洲的主要人种是（ ）

A. 白种人 B. 黄种人 C. 黑种人 D. 混血种人

7、被欧洲西部人们称为“绿色金子”的是（ ）

A. 花卉 B. 牧草 C. 森林 D. 绿宝石

8、下面四幅图中，地球自转方向正确的是（ ）



9、我国面积最大的省级行政区是（ ）

A. 内蒙古自治区 B. 西藏自治区 C. 新疆维吾尔自治区 D. 青海省

10、亚洲唯一的发达国家是（ ）

A. 印度 B. 中国 C. 日本 D. 新加坡

11、日本东京正值樱花盛开的季节，应到哪个旅游胜地观赏（ ）

A. 泰山 B. 富士山 C. 黄山 D. 金刚山

12、世界上季风气候分布最广、最典型的大洲是（ ）

A. 亚洲 B. 欧洲 C. 非洲 D. 北美洲

13、既有“热带大陆”和“高原大陆”的称号，又有“富饶大陆”美誉的大洲是（ ）

A. 北美洲 B. 亚洲 C. 非洲 D. 南美洲

14、房屋建筑与当地自然条件密切相关，“高脚屋”主要适应的自然条件是（ ）

A. 多火山、地震 B. 气候严寒 C. 气候湿热 D. 热带干旱草原

15、地球上最冷的地区是（ ）

A. 高原地区 B. 沙漠地区 C. 北极地区 D. 南极地区

16、我国近海中，四大临海自南向北依次为（ ）

A. 渤海、黄海、东海、南海 B. 黄海、东海、南海、渤海

C. 东海、南海、渤海、黄海 D. 南海、东海、黄海、渤海

17、能缓解华北平原春旱用水紧张状况且符合可持续发展原则的措施是（ ）

A. 增加地下水的开采量 B. 缩减农田面积以降低农业用水量

C. 直接利用工业和生活污水灌溉 D. 推广喷灌、滴灌发展节水农业

18、西亚地区处在印度洋和大西洋的重要国际航线上，沟通这两大洋的咽喉是（ ）

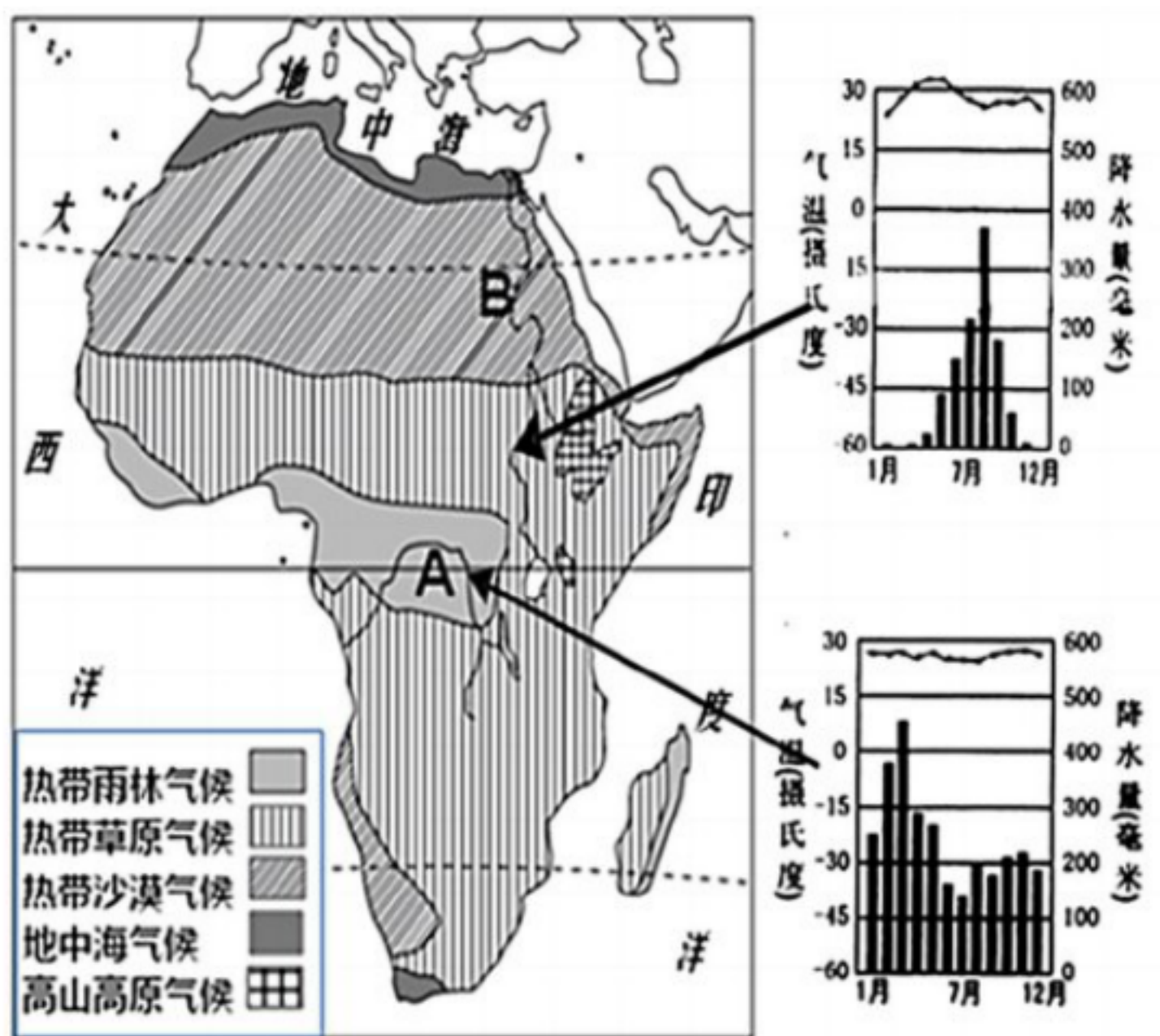
A. 苏伊士运河、直布罗陀海峡 B. 苏伊士运河、马六甲海峡

- C. 巴拿马运河、土耳其海峡                      D. 巴拿马运河、白令海峡
- 19、苏联宇航员加加林说：地球看上去更像个水球，这是因为（     ）
- A. 海洋是蓝的    B. 天是蓝的
- C. 海洋占陆地面积的 90%                          D. 地球表面 71%是海洋
- 20、下列东南亚国家中，属于内陆国的是（     ）
- A. 缅甸                      B. 新加坡                      C. 老挝                      D. 泰国
- 21、我国陆地领土面积约（     ）
- A. 960 平方千米                      B. 997 万平方千米
- C. 960 万平方千米                      D. 1707 万平方千米
- 22、去东南亚马来群岛旅游，下列物品中没有必要携是（     ）
- A. 雨伞、药品                      B. 御寒衣物                      C. 摄像机                      D. 地图
- 23、下列自然资源，全部属于可再生资源的是（     ）
- A. 石油、森林、煤炭、太阳能                      B. 铁矿、天然气、铀矿、阳光
- C. 阳光、土地、水、草原                              D. 森林、水、天然气、铁矿
- 24、四大洋中，亚洲没有濒临的是（     ）
- A. 大西洋                      B. 太平洋                      C. 印度洋                      D. 北冰洋
- 25、世界上最大的棕榈油生产国是（     ）
- A. 巴西                      B. 泰国                      C. 印度尼西亚                      D. 马来西亚

二、综合题（第 1 题 12 分, 第 2 题 10 分, 第 3 题 15 分, 第 4 题 13 分, 共 50 分）

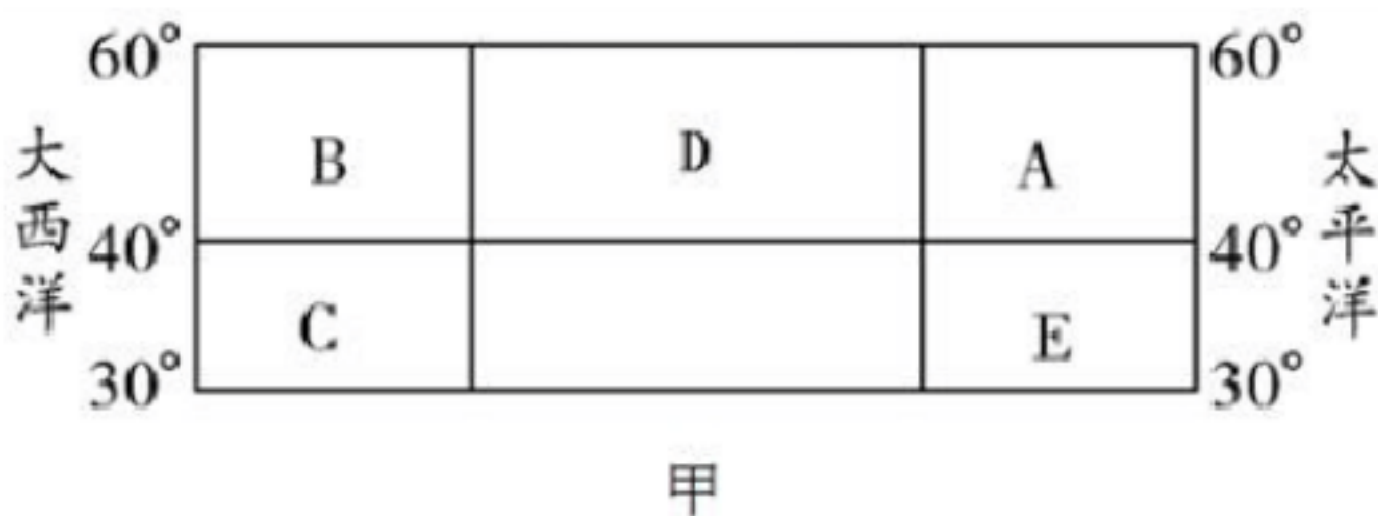
1、读图“非洲气候类型分布图”，回答下列问题。

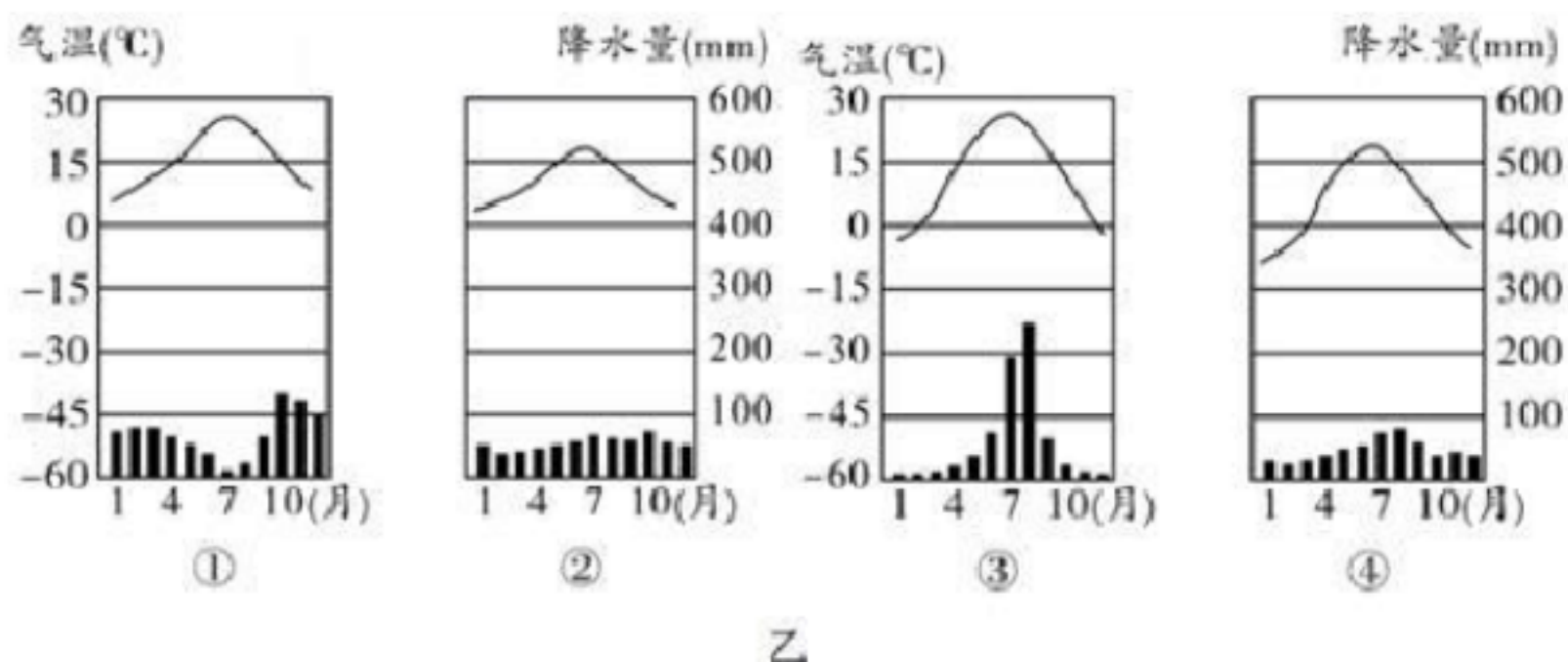




- (1) 非洲主要位于\_\_\_\_\_带（五带），东临\_\_\_\_\_洋、西临\_\_\_\_\_洋，隔\_\_\_\_\_海与欧洲相望。
- (2) 非洲大陆地跨南北半球，气候类型分布的特征：\_\_\_\_\_为中心，呈\_\_\_\_\_对称分布。
- (3) AB 两河流中，流量更大的是\_\_\_\_\_（字母），结合两条河流流经地区的气候资料，请说出你的判断理由\_\_\_\_\_。
- (4) B 是世界上最长的河流\_\_\_\_\_河（名称），它的流向是\_\_\_\_\_。

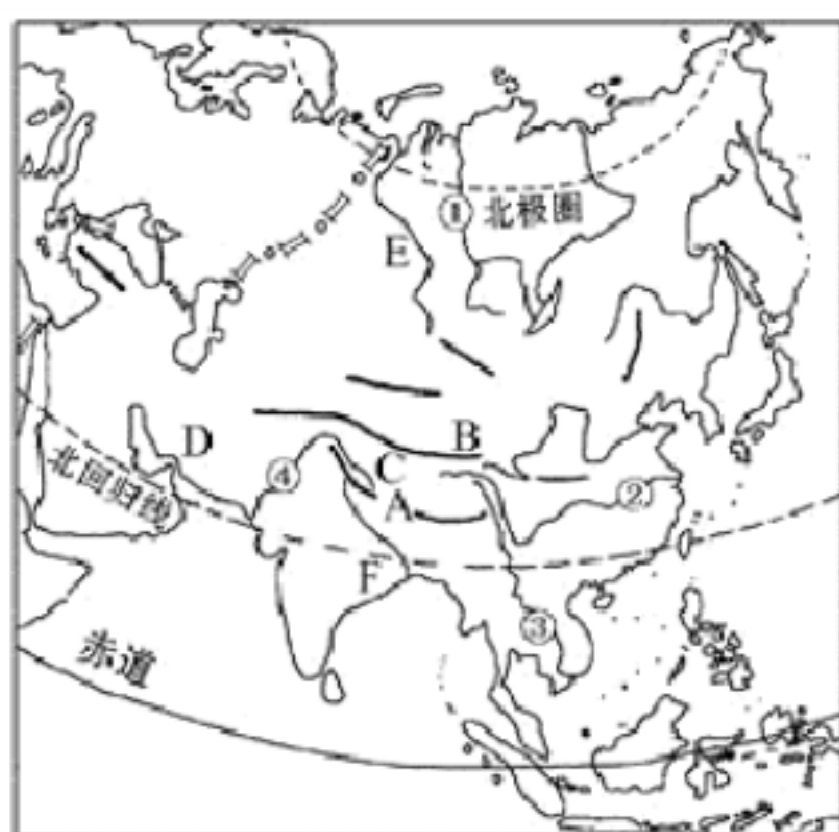
2、下面图甲表示位于北纬  $30^{\circ}$  至  $60^{\circ}$  的大陆部分，图乙表示四种气候类型，读图回答下列问题。





- (1) 图乙中①②③气候主要分布在图甲中的\_\_\_\_\_、\_\_\_\_\_、\_\_\_\_\_ (填图甲中的字母)。
- (2) B、C两地中，属于地中海气候的是\_\_\_\_\_，该气候类型的特点是\_\_\_\_\_。
- (3) 图甲 A、B、C、D、E 五地的气候类型，分布面积最广的是\_\_\_\_\_气候，它的气候名称是：\_\_\_\_\_。
- (4) A、B 两地的年降水量都比 D 地\_\_\_\_\_ (大、小)，主要影响因素是：\_\_\_\_\_。

3、读下图，完成下列问题。



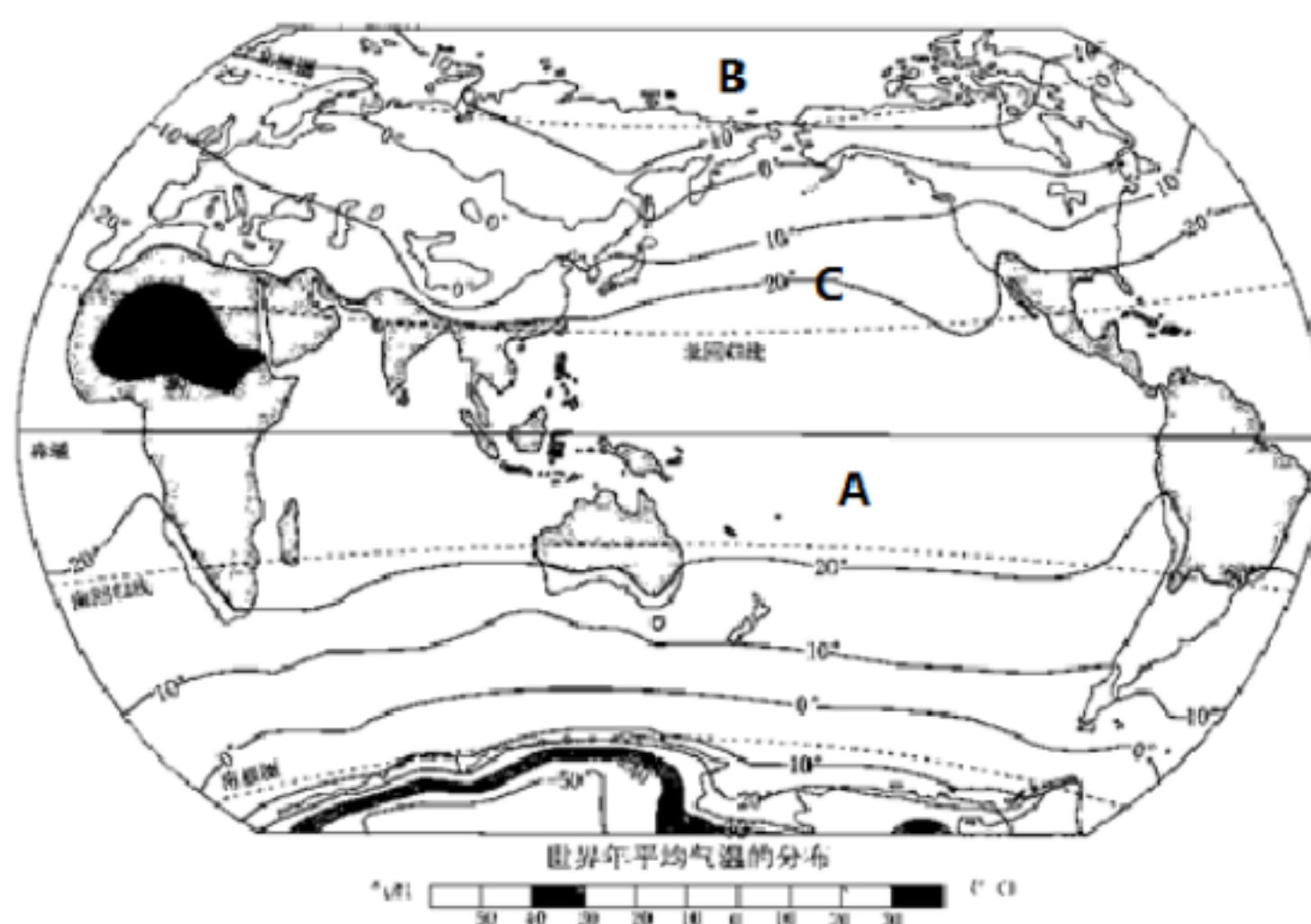
- (1) 写出图中字母代表的地形区的名称：山脉：A\_\_\_\_\_，B\_\_\_\_\_；高原：C\_\_\_\_\_ D\_\_\_\_\_；平原：E\_\_\_\_\_，F\_\_\_\_\_。
- (2) 写出图中数字所代表的河流名称：①\_\_\_\_\_，②\_\_\_\_\_，③\_\_\_\_\_，④\_\_\_\_\_。

(3) 图中亚洲北部的三条长河的共同特征：被\_\_\_\_\_（纬线）穿过，流向为\_\_\_\_\_，注入\_\_\_\_\_洋。

(4) 据图分析亚洲河流流向的特点是\_\_\_\_\_。

(5) 河流②主要流经\_\_\_\_\_气候区，平原F处气候为\_\_\_\_\_，C地形区气候为\_\_\_\_\_，世界最大半岛上气候为\_\_\_\_\_，世界最大群岛主要气候为\_\_\_\_\_。

4、读图，完成下列小题。



(1) 世界气温的分布的一般规律是：\_\_\_\_\_。

(2) 图中 ABC 三个地区中，气温最高的是\_\_\_\_\_，最低的\_\_\_\_\_。C 地区的气温大约为\_\_\_\_\_度，属五带中的\_\_\_\_\_带。

(3) 赤道附近地区终年高温，易成云致雨，是世界年降水\_\_\_\_\_地区，而两极地区终年寒冷，是世界降水量\_\_\_\_\_地区，亚洲、北美洲和澳大利亚等地的中纬度，\_\_\_\_\_地区受海洋的影响，年降水量\_\_\_\_\_，而\_\_\_\_\_地区距离海洋远，年降水量较少。山地的\_\_\_\_\_坡比背风坡降水\_\_\_\_\_（多或少）。

## 参考答案

### 一、选择题（共 25 个小题，每题 2 分，共 50 分）

- 1、C
- 2、C
- 3、A
- 4、A
- 5、B
- 6、C
- 7、B
- 8、D
- 9、C
- 10、C
- 11、B
- 12、A
- 13、C
- 14、C
- 15、D
- 16、D
- 17、D
- 18、A
- 19、D
- 20、C
- 21、C
- 22、B
- 23、C
- 24、A
- 25、D

### 二、综合题（第 1 题 12 分, 第 2 题 10 分, 第 3 题 15 分, 第 4 题 13



分，共 50 分)

1、热 印度洋 大西洋 地中海 赤道 南北 A A 河流流  
经气候区降水更丰富（言之有理即可） 尼罗 自南向北流

2、(1) C B A

(2) C 夏季炎热干燥，冬季温和多雨

(3) D 温带大陆性气候

(4) 大 海陆因素

3、(1) 喜马拉雅山脉 昆仑山脉 青藏高原 伊朗高原 西西伯利  
亚平原 恒河平原

(2) 叶尼塞河 长江 湄公河 印度河

(3) 北极圈 自南向北 北冰

(4) 呈放射状流向周边的海洋

(5) 亚热带季风 热带季风气候 高原山地气候 热带沙漠气候 热  
带雨林气候

4、(1) 略

(2) A B 20℃ 北温带

(3) 最多 最少 沿海 多 内陆 迎风 多



# VV99.net

免费文档下载