

# 苏教版四年级上册数学期中测试

姓名:\_\_\_\_\_ 班级:\_\_\_\_\_ 成绩:\_\_\_\_\_



同学们,经过一段时间的学习,你一定长进不少,让我们好好检验一下自己吧!

## 一、 填空 (共 5 题; 共 17 分)

1. (2 分) 在横线上填上适当的体积或容积单位。



一个集装箱的体积约是 20\_\_\_\_\_;



一个针管可装药水约 5\_\_\_\_\_.

2. (5 分) 有同样大小的红、白、黑三种珠子,共 180 个.按 3 个红的、2 个白的、1 个黑的这样的顺序排列,想一想,填一填.

红珠子共有\_\_\_\_\_个.

白珠子共有\_\_\_\_\_个.

第 80 个珠子是\_\_\_\_\_色.

第 132 个珠子是\_\_\_\_\_色.

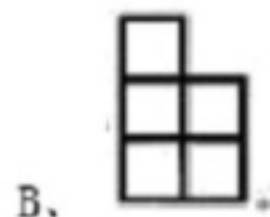
第 172 个珠子是\_\_\_\_\_色.

3. (6 分) 估算下面各题

$403 \div 81 \approx$ _____	$79 \times 62 \approx$ _____	$419 \div 69 \approx$ _____
$349 \div 49 \approx$ _____	$396 \times 19 \approx$ _____	$401 \times 38 \approx$ _____

4. (2 分)  $16 \div 2$  的商\_\_\_\_\_被除数,  $16 \div \frac{1}{2}$  的商\_\_\_\_\_被除数。(填“大于”“小于”或“等于”。)

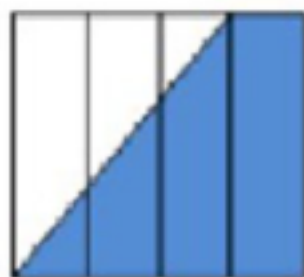
5. (2 分) 摆一摆,看一看.



右侧面看到的形状是\_\_\_\_\_；左侧面看到的形状是\_\_\_\_\_。

## 二、选择题（共 5 题；共 10 分）

6. （2 分）（2019 六上·睢宁月考）下面阴影部分的面积用分数表示是（ ）。



A.  $\frac{1}{2}$

B.  $\frac{5}{8}$

C.  $\frac{3}{4}$

7. （2 分）“（ ） $\div 21=20\cdots\cdots$ （ ）”要使余数最大，被除数、余数各应填几，正确的是（ ）

A. 被除数 450，余数 21.

B. 被除数 440，余数 20.




C. 被除数 450，余数 18.

D. 被除数 440，余数 19.

8. （2 分）摆一摆，看一看，连一连.



从右侧面看到的形状是（ ）。



9. (2分) 循环小数  $0.406406\cdots$  的小数部分第 54 位是（ ）。

A. 0

B. 4

C. 6

D. 无法确定

10. (2分) (2019 四上·兴化期中) 把 2 升的水倒入容量为 250 毫升的杯中，可倒（ ）杯。

A. 4

B. 8

C. 10

### 三、判断 (共 5 题; 共 18 分)

11. (2分) (2019 五下·仲恺期中) 一个橘子的体积约是 500 立方分米。( )

12. (2分) 只根据一个方向看到的形状，不能确定是什么立体图形。

13. (10分) 根据小朋友说的话，判断下面各题的说法是否正确。

我们二年级一班第二组同学的平均体重是24千克。



- (1) 第二组同学的体重一定都是 24 千克.
- (2) 第二组同学的体重有可能都不是 24 千克.
- (3) 第二组同学的体重都不可能超过 24 千克.
- (4) 第二组杨娟的体重最轻, 可能只有 20 千克.
- (5) 第二组黄军的体重最重, 可能只有 24 千克.

14. (2 分) (2019 四下·竹山期末) 条形统计图能清晰地看出各种数量的多少。( )

15. (2 分) (2018 四上·德江月考)  $408 \div 68$  的商是一位数。( )

#### 四、 计算 (共 2 题; 共 9 分)

16. (4 分) (2018·梁平)  $52.06$  公顷=\_\_\_\_\_平方千米

40 吨 50 千克=\_\_\_\_\_千克

4.25 升=\_\_\_\_\_升\_\_\_\_\_毫升



17. (5 分)

$$\begin{array}{r} 3 \\ 28 \overline{) 845} \\ \underline{84} \phantom{5} \\ 5 \end{array}$$

\_\_\_\_\_

五、解答题（共 5 题；共 25 分）

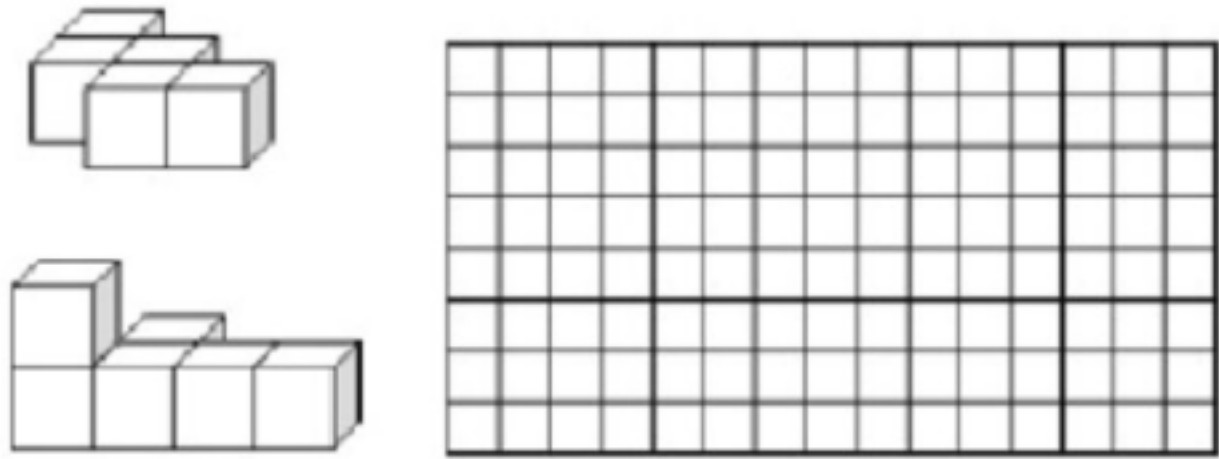
18. （5 分） 蔬菜店运来黄瓜和西红柿一共 240 千克，其中运来黄瓜的重量是西红柿的 3 倍，商店运来西红柿多少千克？

19. （5 分） 有一堆棋子，按三白二黑的顺序排列，第 24 颗棋子是什么颜色的？



20. （5 分） 每只燕子每天吃 70 只害虫，照这样计算，8 只燕子 5 天可以吃多少只害虫？（用两种方法解答）

21. （5 分） 分别画出从正面、上面、左面看到的立体图形的形状。



22. （5 分） 下列是关于高二年级英语听力成绩的统计图，请回答下列问题：



图 1




图 2

(1)已知全班有 70 人，英语听力成绩在 15—19 分的有多少人？(2)根据图 2，在哪个分数段的人数最多？哪个分数段的人数最少？

## 参考答案

### 一、 填空题（共 5 题；共 17 分）

【第1空】 立方米

1-1、【第2空】 毫升

【第1空】 90

【第2空】 60

【第3空】 红

【第4空】 黑

2-1、【第5空】 白

【第1空】 5

【第2空】 4800

【第3空】 6

【第4空】 7

【第5空】 8000

3-1、【第6空】 16000

【第1空】 小于

4-1、【第2空】 大于

【第1空】 B

5-1、【第2空】 A

### 二、 选择题（共 5 题；共 10 分）

6-1、 B

7-1、 B

8-1、 C

9-1、 C

10-1、 B



### 三、判断（共 5 题；共 18 分）

11-1、错误

12-1、正确

13-1、答案：略

13-2、答案：略

13-3、答案：略

13-4、答案：略

13-5、答案：略

14-1、正确

15-1、正确

### 四、计算（共 2 题；共 9 分）

【第1空】 0.5206

【第2空】 40050

【第3空】 4

16-1、【第4空】 250

商位数不够，改正如下：

$$\begin{array}{r} 30 \\ 28 \overline{) 845} \\ \underline{84} \phantom{0} \\ 5 \phantom{0} \end{array}$$

17-1、

### 五、解答题（共 5 题；共 25 分）

解：240÷(3+1)

=240÷4

=60(千克)

18-1、答：商店运来西红柿60千克。

$$24 \div 5 = 4(\text{组}) \dots 4(\text{颗})$$

19-1、答：第24颗棋子是黑色的。

$$\text{解：} 70 \times 8 \times 5,$$

$$= 560 \times 5,$$

$$= 2800 (\text{只}).$$

答：8只燕子5天可以吃2800只害虫。


$$70 \times 5 \times 8,$$

$$= 350 \times 8,$$

$$= 2800 (\text{只}).$$

20-1、答：8只燕子5天可以吃2800只害虫

解：如图：



21-1、正面 上面 左面

$$\text{解：} (1) 70 \times 21.40\% \approx 15 (\text{人})$$

答：英语听力成绩在15—19分的有15人。

(2) 20-24分数段的人数最多，15分以下分数段的人数最少。

22-1、答：20-24分数段的人数最多，15分以下分数段的人数最少。



# VV99.net

免费文档下载