

美国 同步练习 (三)

一、单项选择题

1. 一般情况下把加拿大和美国所在的地区叫做: ()

- A. 北美洲
- B. 北美
- C. 美洲
- D. 拉丁美洲

2. 美国是一个移民国家, 移民大多来自: ()

- A. 非洲
- B. 欧洲
- C. 亚洲
- D. 南美洲

3. “五大湖”中, 完全位于美国境内的是: ()

- A. 苏必利尔湖
- B. 休伦湖
- C. 密歇根湖
- D. 安大略湖

4. 美国农业根据各地的自然条件和市场需求实现了地区生产的: ()

- A. 电气化
- B. 专业化
- C. 机械化
- D. 自动化

5. 美国首任总统华盛顿的祖先是: ()

- A. 美国人

B. 英国人

C. 法国人

D. 德国人

6. 美国下列各组工业品产量均居世界首位的是：()

A. 水泥、合成橡胶

B. 载重汽车、发电量

C. 小汽车、轮胎

D. 煤炭、新闻纸

二、双项选择题

1. 关于苏必利尔湖的叙述，正确的有：()

A. 世界最大淡水湖

B. 世界最大咸水湖

C. 位于美国境内

D. 位于美国、加拿大交界处

2. 美国的下列农作物中，产量位居世界各国首位的有：()

A. 玉米

B. 大豆

C. 小麦

D. 水稻

3. 美国是世界上最大的：()

A. 能源消耗国

B. 粮食消耗国

C. 废物排放国

D. 原料进口国

4. 关于美国工业生产的叙述, 正确的有: ()

A. 本国资源丰富, 工业原料、燃料不需进口

B. 拥有完整的工业部门体系

C. 工业产品种类齐全、产量大、技术先进

D. 注意大气环境保护, 二氧化碳排放量少

三、填空题

1. 各国移民移入美国后, 经过长时期的融合, 形成统一的_____民族。

2. 美国著名科学家爱因斯坦是_____国出生的犹太人。

3. 美国国土的_____部分为太平洋和大西洋之间。

4. 绵延于南、北美洲西部的山系是_____, 它是世界最大的山系。

5. _____是世界上最发达的工业国家。

6. 美国的棉花带由于_____下降等原因, 植棉业已经衰落, 现已成为以畜牧业为主的多种作物种植区。

7. 美国的首都是_____。

四、综合题

1. 读 “美国地形图”, 完成下列要求:



(1)完成图上方各方框内的内容。

(2)填写图中字母代表的地理事物名称。

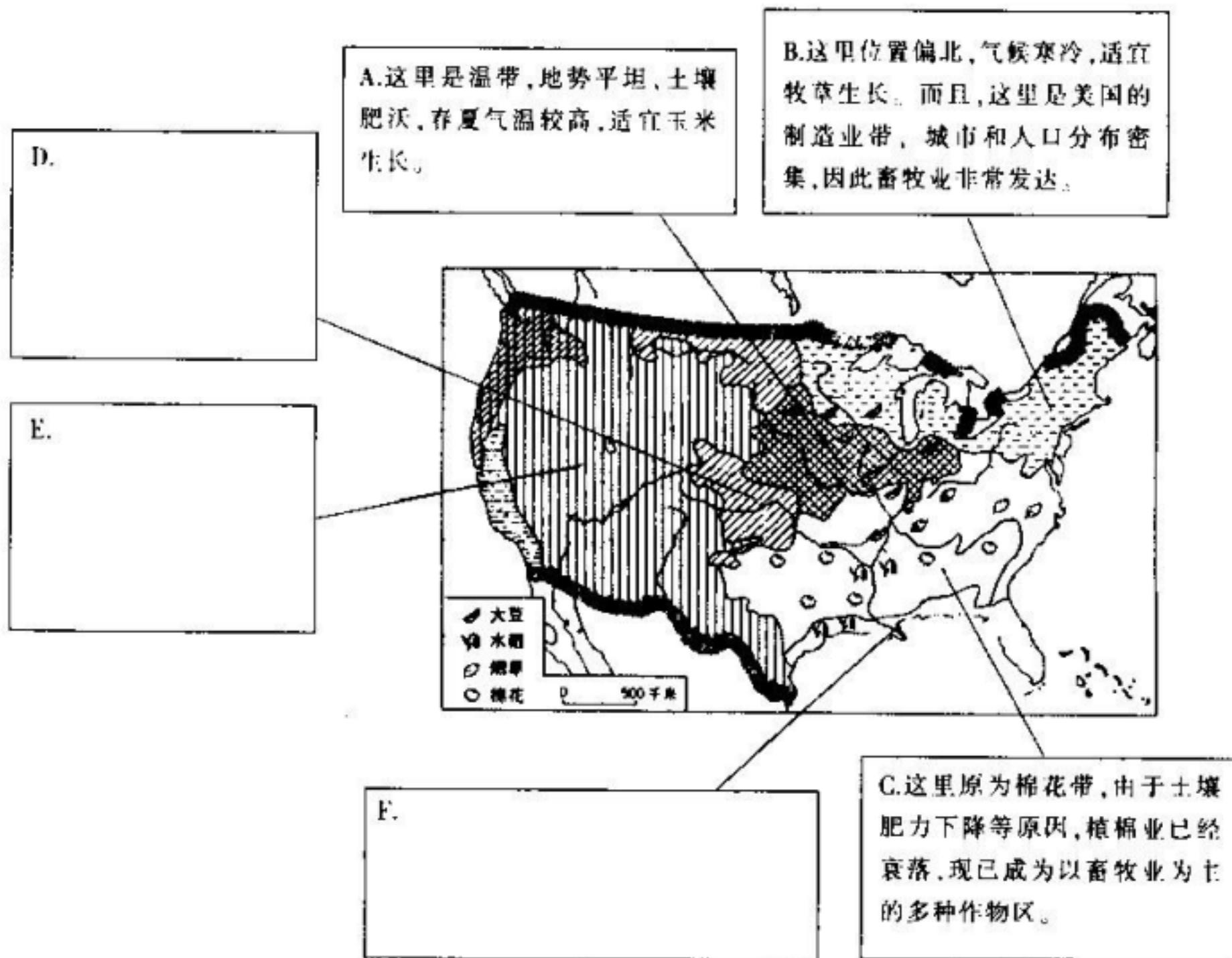
A. 洋 B. 洋 C. 湾

D. 山脉 E. 山脉 F. 平原

(3)填写图中数码代表的湖泊名称。

① 湖 ② 湖 ③ 湖 ④ 湖 ⑤ 湖

2. 读“美国农业带的分布图”,完成下列要求:



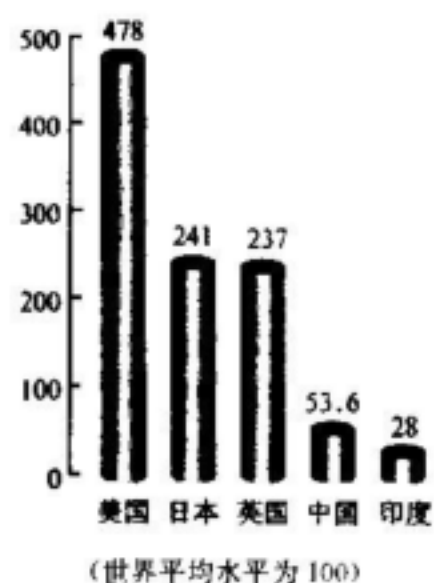
(1)填写图中部分字母代表的农业带名称。

D. _____ E. _____ F. _____

(2)由图外方框中的描述可知,影响 A、B 两个农业带的主要因素是_____和_____。

(3)参照 A、B、C 三个带的描述,在三个空白框内完成对 D、E、F 三个农业带的描述。

3. 美国人口 2.78 亿(2000 年),占世界人口的 4.6%,但是能源消费量却占世界总量的 23%。读“一些国家的人均能源消费图”,完成下列要求:



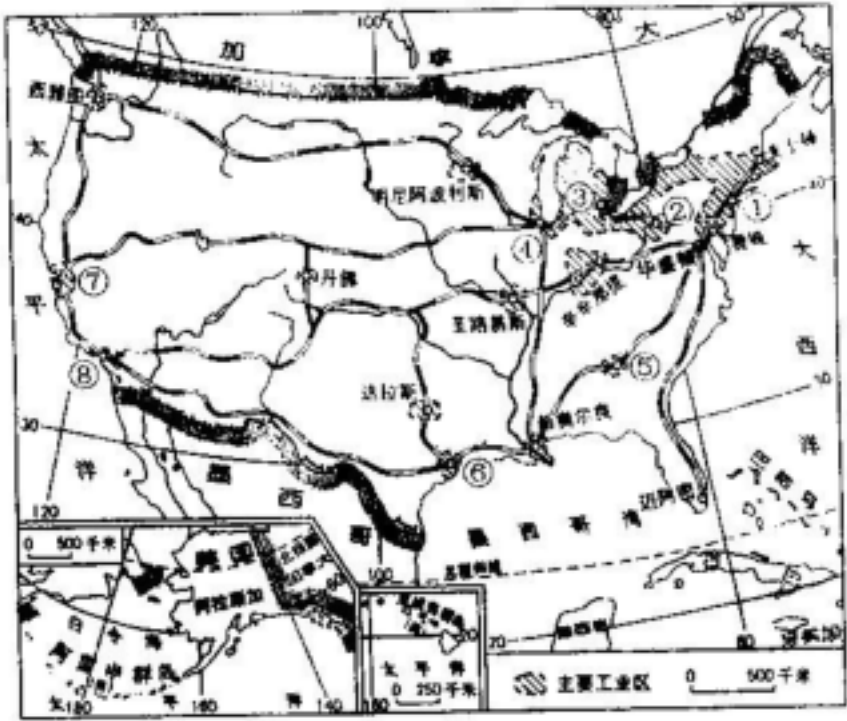
(1)图中所列国家,属发达国家的有美国、_____,属发展中国家的有____、_____。

(2)计算图中所列的国家的人均消费分别是世界平均水平的多少倍，将计算的结果填入下表。

国家	人均能源消费	是世界平均水平的倍数
美国		
日本		
英国		
中国		
印度		

(3)说说以美国为首的发达国家对世界能源可持续利用的影响：

4．读“美国主要的工业区和工业城市图”，完成下列要求：



(1)填写图中数码代表的工业城市名称。

①_____ ②_____ ③_____ ④_____ ⑤_____ ⑥_____ ⑦_____ ⑧_____

(2)以上各工业城市中，_____是美国最大的汽车工业中心，_____附近的“硅谷”是美国最大的电子工业中心，_____附近的“好莱坞”是美国的电影工业中心，_____是联合国总部所在的城市。(填数码)

(3)美国工业分布最集中的区域是_____。

参考答案

一、1. B 2. B 3. C 4. B 5. B 6. B

二、1. AD 2. AB 3. AC 4. BC

三、1. 美利坚 2. 德 3. 本土(主体) 4. 科迪勒拉山系

5. 美国 6. 土壤肥力 7. 华盛顿

四、1. (1)左框：科迪勒拉 南、北美洲

中框：密西西比 尼罗 亚马孙 长江

右框：淡水 圣劳伦斯 苏必利尔

(2)太平 大西 墨西哥 落基 阿巴拉契亚 中央

(3)苏必利尔 密歇根 休伦 伊利 安大略

2. (1)D 小麦区 E 畜牧和灌溉农业区 F 亚热带作物带

(2) 自然条件 市场需求 (3) D. 这里位于太平原，地势较高，降水较少，适宜旱粮作物小麦的生产；由于这里地势平坦，实行机械耕作。E. 这里位于西部山地，多山间谷地，地形闭塞，气候干旱，可以发展畜牧业生产，发展种植业需要灌溉。F 这里是美国纬度最低的区域，也是热量、水分条件最好的区域，可以种植多种亚热带作物。(本小题答案不要求完全一致，只要说出各农业带的主要自然条件、种植的主要农作物即可)

(1) 日本 英国 中国 印度 (2)见下表

国家	人均能源消费	是世界平均水平的倍数
美国	478	4.78
日本	241	2.41
英国	237	2.37
中国	53.6	0.54
印度	28	0.28

(3)略

4. (1)①纽约 ②匹兹堡 ③底特律 ④芝加哥 ⑤亚特兰大 ⑥休斯敦 ⑦圣弗朗西斯科(旧金山) ⑧洛杉矶

(2)③ ⑦ ⑧ ①

(3)东北部地区(或五大湖附近)

VV99.net

免费文档下载