

考试试卷

考试范围：全部知识点；考试时间：120 分钟

学校：\_\_\_\_\_ 姓名：\_\_\_\_\_ 班级：\_\_\_\_\_ 考号：\_\_\_\_\_

总分栏

题号	一	二	三	四	五	总分
得分						

评卷人	得分

一、选择题(共 9 题，共 18 分)

1、在比例尺为 1：25000000 的地图上，1 厘米代表的实地距离是

- A. 25 千米
- B. 2.5 千米
- C. 250 千米
- D. 2500 千米

2、【题文】撒哈拉以南非洲的国家需要从国外大量进口 ( )

- A. 工业制成品
- B. 经济作物
- C. 原材料
- D. 工业半成品

3、一般来说，在人口稀少的地区，村落：

- A. 分布密集
- B. 分布稀疏
- C. 规模较大
- D. 建筑物高大

4、  
北回归线附近分布面积最广的气候类型是 ( )

- A. 热带沙漠气候
- B. 地中海气候
- C. 亚热带季风气候
- D. 热带季风气候

5、世界上面积最大和最小的洲是（ ）

- A. 亚洲、非洲
- B. 亚洲、南极洲
- C. 非洲、南极洲
- D. 亚洲、大洋洲

6、大洋中最深的地方在（ ）

- A. ①
- B. ②
- C. ③
- D. ④

7、东南亚享誉世界的农产品是（ ）

- A. 水稻；茶叶、蚕丝。
- B. 小麦；棉、黄麻。
- C. 水稻；天然橡胶、油棕。
- D. 小麦；棉花、椰子。

8、下列地点中；既位于北半球，又位于东半球是（ ）

- A. 40°N； 25°W
- B. 20°S； 120°
- C. 30°N； 40°E
- D. 30°S； 60°E

9、自西向东拨动地球仪，从北极上空看，地球仪按（ ）转动

- A. 逆时针方向
- B. 顺时针方向
- C. 自西向东
- D. 自东向西

评卷人	得分

二、多选题(共 6 题，共 12 分)

10、由季风气候带来的灾害性天气有（ ）

- A. 寒潮。
- B. 旱涝灾害。
- C. 滑坡。
- D. 泥石流。


11、关于地球表面海陆分布特点的叙述，正确的是（ ）

- A. 陆地主要集中在北半球
- B. 陆地主要集中在南半球
- C. 北极周围是一块陆地
- D. 南极周围是一块陆地

12、在分层设色地形图中，海拔在 500 米以下的陆地地形代表的颜色是（ ）

- A. 褐色
- B. 棕色
- C. 蓝色
- D. 绿色

13、  
如图所示四个国家中；领土独占一个大陆的国家是（ ）



- A. ①
- B. ②
- C. ③
- D. ④

14、  
下列对平原和高原的描述，表述正确的是（ ）

- A. 平原的海拔高度一般在 500 米以上
- B. 高原的海拔高度较高

- C. 平原和高原都是地表起伏小
- D. 平原四周多被山地环绕，中部相对低平

15、  
对生活和生产影响深刻，我们最为关注的气候要素是（     ）

- A. 气温
- B. 降水
- C. 地形
- D. 洋流

评卷人	得分

三、填空题(共 9 题，共 18 分)

16、读欧洲西部图；回答下列问题：



- (1) 欧洲西部国家众多，从经济发展水平看，大部分属于\_\_\_\_\_国家。
- (2) 图中伦敦的气候特点是全年\_\_\_\_，气候类型属于\_\_\_\_气候。这种气候适合于多汁牧草的生长，适宜发展的农业类型是\_\_\_\_\_。
- (3) 罗马一年中降水主要集中在\_\_\_\_（“夏”或“冬”）季。罗马是\_\_\_\_\_（国家）的首都。
- (4) 为了进一步加强联系，本区形成的区域性的国际组织是\_\_\_\_\_。

17、世界遗产可分为\_\_\_\_\_、\_\_\_\_\_以及\_\_\_\_\_三大类。

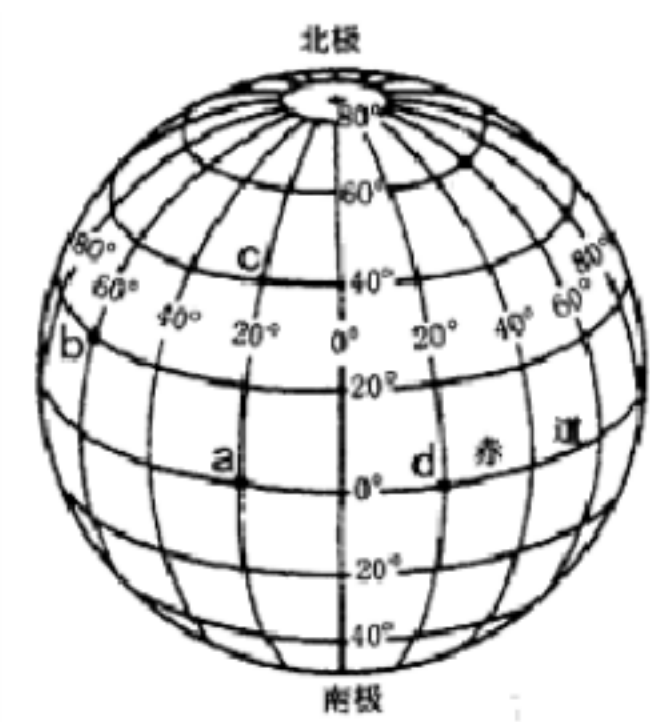
18、  
【题文】同纬度地区，位置偏东的地点要比偏西的地点\_\_\_\_\_看到日出。

19、面对地图，通常是“\_\_\_\_，\_\_\_\_”。在这个基础上，还可以再确定出东北、西北、东南和西南的方向。在有

指向标的地图上，要按照\_\_\_\_\_判断方向。在有经纬网的地图上，要根据\_\_\_\_\_确定方向。

20、为了加强联系，欧洲形成了一个区域性的国际组织，叫做\_\_\_\_\_。

21、读经纬网示意图， 回答下列问题。（共 6 分）



- (1) 写出图中 c 点的经纬度：  
经度： ； 纬度： 。
- (2) 图中 A.B.C.d 四个地点中，没有阳光直射的是 ； 位于中纬度的是 ； 位于西半球的是 ；
- (3) 图中 c 点在 a 点的 方向。

22、  
【题文】地轴与地球表面的交点是\_\_\_\_\_和\_\_\_\_\_。

23、人们在书写经纬度时，为了书写方便快捷，不写经度、纬度，旨在数字后面写几个字母就行了，表示北纬的字母是\_\_\_\_\_， 表示西经的字母是\_\_\_\_\_。

24、  
亚洲的地形以高原、山地为主， 占总面积的四分之三。 \_\_\_\_\_。（判断对错）

评卷人	得分


四、判断题(共 3 题，共 15 分)

- 25、地球上不同经度的地方，时间也有差异。（ ）（判断对错）
- 26、世界第一高峰珠穆朗玛峰。（ ）。（判断对错）
- 27、地球公转产生了昼夜更替。（ ）

评卷人	得分

五、连线题(共 1 题，共 6 分)

28、  
【题文】区域空间定位是看图解题的关键；根据图文信息进行区域定位是学习地理的重要方法之一。请根据提供的地理信息对号入座。



- ①黑种人的故乡 ②世界活化石博物馆 ③美丽富饶的宝岛 ④中华水塔。  
( )-----甲-----(  
( )-----乙-----(  
( )-----丙-----(  
( )-----丁-----(

参考答案

一、选择题(共 9 题，共 18 分)

1、 C

【分析】

试题分析：

比例尺是图上距离比实地距离缩小的程度。其计算公式为：比例尺=图上距离/实际距离，该地图比例尺为 1：25000000，则 1 厘米代表的实地距离是 1÷1：25000000=250 千米，故本题选 C。

考点：本题主要考查地图。

【解析】

【答案】

---

C

2、A

【分析】

【解析】长期的殖民统治；使非洲成为世界上经济发展水平最低的一个洲。撒哈拉以南非洲的国家，片面发展一种或几种面向出口的农矿初级产品，供出口的经济作物主要有咖啡；可可、花生、棉花、油棕和剑麻等。工业制成品和粮食需要大量进口，成为发达国家的原料供应地和工业品市场。所以本题选择 A 选项。

考点：本题考查非洲经济概况。

【解析】

【答案】A

3、B

【分析】

【分析】聚落是人类的聚居地；人口稀少的地区，村落分布稀疏，B 符合题意。人口稀少，村落必定稀疏，村落的规模不会很大，建筑物也不会高大，A；C、D 描述有误。

本题难度一般，通过考查人口稀少地区聚落的特点，掌握人口分布与聚落发展之间的关系。

4、A

【分析】

本题考查撒哈拉以南非洲的气候，结合地图理解记忆非洲的气候分布是解答本题的关键，难度一般。北回归线穿过北非、西亚、南亚、东亚和北美洲东南部，其中广阔的北非、西亚地区大面积地区为热带沙漠气候；南亚、东亚分别为热带、亚热带季风气候；北美东南部为亚热带季风性湿润气候。这些地区中，分布面积最广的气候类型是热带沙漠气候。A 正确，BCD 错误。故选 A。

【解析】

A

---

5、D

【分析】

解：亚洲地域十分辽阔，北部深入北极圈内，南部延伸到赤道以南，亚洲面积约 4400 万平方千米，是世界第一大洲。大洋洲位于太平洋西南部和南部的赤道南北广大海域中，面积 897 万 Km<sup>2</sup>；是世界上最小的一个洲。

故选：D。

地球上的陆地被海洋分割成六个大块和许多小块；面积较大的陆地叫大陆，面积较小的陆地叫岛屿，大陆和它附近的岛屿合称大洲。全世界共有七大洲，按面积由大到小排列分别为：亚洲；非洲、北美洲、南美洲、南极洲、欧洲和大洋洲。

本题考查了世界上面积最大和最小的大洲，要牢记。

【解析】

D

6、C

【分析】

解：读图可知；图中①是大陆架，②是大陆坡，③是海沟，④是大洋中脊；大洋中最深的地方是海沟即③，世界上最深的海沟是太平洋中的马里亚纳海沟。

故选：C。

现代探测技术揭开了海底地形的神秘面纱；海底地形有大陆架；大陆坡、海沟、洋盆、大洋中脊等。陆地向海洋自然延伸的部分，坡度较缓，为大陆架，大陆架向外倾斜的陡坡，为大陆坡，海洋底部最深的地方，为海沟，大洋中新海底诞生的地方，为大洋中脊。

本题考查海底地形的名称及特点，读图解答即可。

【解析】

C

7、C

【分析】

湿热的气候有利于热带农作物的生长。东南亚是世界上橡胶；油棕、椰子和蕉麻的最大产地；主要种植的粮食作物是水稻。故选项 A、B、D 不符合题意；选项 C 符合题意。



---

故选：C.

【解析】

【答案】湿热的气候条件；使东南亚成为世界上重要的热带作物生产基地之一，是世界上橡胶、油棕、椰子和蕉麻的最大产地。高温多雨的气候，适合水稻的生长，水稻成为东南亚主要的粮食作物，并有着悠久的种植历史。

8、C

【分析】

分析题干中的四个选项可得：A点位于北半球；西半球；B点位于南半球，C点位于北半球、东半球，D点位于南半球、东半球。

故选：C.

【解析】

【答案】划分东西半球的分界线是  $20^{\circ}\text{W}$  和  $160^{\circ}\text{E}$  两条经线组成的经线圈， $20^{\circ}\text{W}$  经线以东是东半球；以西是西半球， $160^{\circ}\text{E}$  经线以东是西半球，以西是东半球。南北半球的分界线是赤道。

9、A

【分析】

【分析】自西向东拨动地球仪；从北极上空看，地球仪按逆时针方向转动，从南极上空看呈顺时针运动。

【点评】本题还可以考查自转、公转的基本知识。北半球的春季是3~5月，夏季是6~8月，秋季是9~11月，冬季是12~2月。南半球月份不变，季节相反。地球上的五带。地球运动产生的地理现象：昼夜交替、时刻的早迟、昼夜长短及变化、正午太阳高度的变化与影子。

## 二、多选题(共6题，共12分)

---

10、AB

【分析】

我国的季风气候显著；夏季吹的是偏南风，冬季是偏北风。夏季风带来的水汽过多容易引起洪涝灾害，冬季风容易引起寒潮。

故选：AB。

【解析】

【答案】我国的季风气候显著；夏季吹的是偏南风，冬季是偏北风。夏季风带来的水汽过多容易引起洪涝灾害，冬季风容易引起寒潮。

11、AD

【分析】

试题分析：世界上的海陆分布，就南北半球来说，陆地主要分布在北半球，海洋主要分布在南半球，北极周围是北冰洋，南极周围是南极洲，故选 AD。

考点：本题主要考查了海陆分布。

【解析】

【答案】

AD

12、AD

【分析】

解：丘陵海拔在 500 米以下；相对高度一般不超 200 米，坡度和缓，在分层设色地形图上，丘陵代表的颜色是褐色；平原的地面起伏小，海拔较低，一般在 200 米以下，因此在分层设色地形图上，平原代表的颜色是绿色。

故选：AD。

人们通常把陆地地形分为平原；高原、山地、丘陵和盆地五种基本类型。平原和高原的共同特

---

点是地面起伏小；不同点是平原海拔较低，一般在 200 米以下，而高原海拔较高，边缘比较陡峭。

本题考查各种陆地地形的特征及在分层设色地形图上的颜色表示。

**【解析】**

**【答案】** AD

13、AD

**【分析】**

解：澳大利亚位于南半球；经济发达，是世界上唯一拥有整个大陆的国家。

故选：A。

读图可得；①是澳大利亚，②是加拿大，③是俄罗斯，④是巴西。

本题考查世界不同国家的轮廓及特点，读图解答即可。

**【解析】**

AD

14、BC

**【分析】**

解：平原海拔较低；一般在 200 米以下，地面平坦辽阔；高原海拔较高，一般在 500 米以上，地面坦荡，边缘比较陡峻；平原和高原的共同点是地表起伏小。

故选：BC。

人们通常把陆地地形分为平原；高原、山地、丘陵和盆地五种基本类型。丘陵海拔较低；地面有起伏，坡度和缓，相对高度一般不超过 200 米。平原海拔较低，一般在 200 米以下，地面平坦辽阔。山地海拔较高，一般在 500 米以上，坡度陡峻，沟谷较深。高原海拔较高，一般在 500 米以上，地面坦荡，边缘比较陡峻。盆地四周高中间低。

本题考查陆地地形的特点，比较记忆即可。

**【解析】**

BC

15、AB

**【分析】**

---

解：气候的两大要素是气温和降水；其中气温的单位是℃，降水的单位是毫米。

故选：AB.

气候的两大要素是气温和降水.

本题考查气候的要素，牢记即可.

【解析】

AB

### 三、填空题(共 9 题，共 18 分)

16、略

【分析】

(1) 欧洲西部大多数国家属于发达国家；

(2) 欧洲西部由于受大西洋的影响；气候的海洋性特征显著，特点是终年温和湿润，很适合牧草的生长，适宜发展畜牧业；

(3) 罗马是意大利的首都；属于地中海气候，降水主要集中在冬季；

(4) 欧洲西部形成了一个区域性的国际组织叫欧洲联盟；是一个集政治实体和经济实体于一身，在世界上具有重要影响的区域一体化组织.

故答案为：(1) 发达；(2) 温和湿润；温带海洋；畜牧业；(3) 冬；意大利；(4) 欧洲联盟.

【解析】

【答案】欧洲是资本主义经济发展最早的大洲；经济发展水平目前仍居各大洲首位.

欧洲西部多为经济发达国家；这里集中了很多工业大国如德国；法国、英国和意大利，它们的生产规模大，工业部门较齐全，综合实力雄厚. 其余国家则根据本国的具体条件，因地制宜的发展有特色的工业部门.

地形以平原为主；气候类型为温带海洋性气候，适合牧草生长，所以适合牧业，所以他们通常以牛羊肉为食.

---

17、略

**【分析】**

**【解析】**

试题分析：世界遗产可分为文化遗产、自然遗产以及自然与文化遗产三大类。文化遗产是指具有历史学、美学、考古学、科学、民族学或人类学价值的纪念地、建筑群和遗址，是人类的无价之宝。

考点：此题考查的是世界遗产的分类

**【解析】**

**【答案】**

文化遗产 自然遗产 自然与文化遗产

18、略

**【分析】**

**【解析】**

试题分析：在同纬度地区；相对位置偏东的地点，要比位置偏西的地点先看到日出，这样时刻就有了早晚之分，故位置偏东的地点要比偏西的地点早看到日出。

考点：本题主要考查了时间的差异。

**【解析】**

**【答案】**早

19、上北下南左西右东指向标经纬网

**【分析】**

**【分析】**主要考查方向的判定；一般“上北下南，左西右东”，在有指向标的地图上，要按照指向标判断方向。在有经纬网的地图上，要根据经纬网确定方向。

**【点评】**本题主要考查地图的阅读这节的基本知识，较为简单，需要学生稍加记忆。

---

20、略

【分析】

为了加强联系；欧洲形成了一个区域性的国际组织，叫做欧洲联盟简称欧盟（EU）。  
故答案为：欧洲联盟。

【解析】

【答案】欧洲联盟：简称欧盟（EU）；总部设在比利时首都布鲁塞尔，是由欧洲共同体（又称欧洲共同市场）发展而来的，1957年创立欧盟的核心成员有6个国家，其他国家是先后加入的，到2007年为止，欧盟共有27个成员国。

21、略

【分析】

试题分析：

（1）纬度向北变大为北纬度，向南变大为南纬度，故C点的纬度是 $40^{\circ}\text{N}$ ，经度向东变大为东经度，向西变大为西经度，C点的经度是 $20^{\circ}\text{W}$ 。

（2）热带地区有太阳直射现象，纬度为 $0^{\circ}$ — $23.5^{\circ}$ ，温带四季分明，纬度为 $23.5^{\circ}$ — $66.5^{\circ}$ ，寒带有极昼极夜现象，纬度为 $66.5^{\circ}$ — $90^{\circ}$ ，纬度 $0^{\circ}$ — $30^{\circ}$ 为低纬度， $30^{\circ}$ — $60^{\circ}$ 为中纬度， $60^{\circ}$ — $90^{\circ}$ 为高纬度， $20^{\circ}\text{W}$ 和 $160^{\circ}\text{E}$ 为东西半球的分界线，从 $20^{\circ}\text{W}$ 向东到 $160^{\circ}\text{E}$ 为东半球，故没有阳光直射的是C，位于中纬度的是C，位于西半球的是b。

（3）经线指示南北方向，同一条经线上只有南北之分，故c位于a的正北方向。

考点：本题主要考查了经纬度的判断。

【解析】

【答案】

（1） $20^{\circ}\text{W}$   $40^{\circ}\text{N}$

---

(2) C. C. b

(3) 正北

22、略

**【分析】**

**【解析】**

本题考查地球公转及其轨道形状、方向和周期。地轴与地球表面的两个交点，叫极点。其中，北极表示地球的最北端。与北极对应的点叫南极，它表示地球的最南端。考查南极点和北极点的概念。较为简单。

**【解析】**

**【答案】** 南极；北极

23、NW

**【分析】**

**【分析】** 在经纬网上；经线的度数叫做经度，若相邻两条经线的经度向东增大，就是东经，用符号 E 表示，若相邻两条经线的经度向西增大，就是西经，用符号 W 表示；纬线的度数叫纬度，若相邻两条纬线的纬度向北增大，就是北纬，用符号 N 表示，若相邻两条纬线的纬度向南增大，就是南纬，用符号 S 表示。

故答案为：N；W。

**【点评】** 由经线和纬线相互交织所构成的网络叫做经纬网，利用经纬网可以确定地球表面任何一个地点的位置。在经纬网上，经线的度数叫做经度，若相邻两条经线的经度向东增大，就是东经，用符号 E 表示，若相邻两条经线的经度向西增大，就是西经，用符号 W 表示；纬线的度数叫纬度，若相邻两条纬线的纬度向北增大，就是北纬，用符号 N 表示，若相邻两条纬线的纬度向南增大，就是南纬，用符号 S 表示。

24、略

**【分析】**

---

解：亚洲地形复杂多样；主要以高原；山地为主，占总面积的四分之三；地面起伏大，高低悬殊；亚洲的地势特点是中部高、四周低；亚洲是世界上除南极洲以外平均海拔最高的大洲。

故答案为：√.

亚洲地形复杂多样；主要以高原；山地为主，地面起伏大，高低悬殊，亚洲的地势特点是中部高、四周低.

本题考查亚洲的主要地形类型，属于基础题目.

**【解析】**

√

#### 四、判断题(共 3 题，共 15 分)

25、√

**【分析】**

**【分析】**地球上每隔  $15^{\circ}$  划分一个时区；相邻时区相差 1 个小时，所以地球上不同经度的地方，时间也有差异.

故答案为：正确.

**【点评】**在地球仪上，能画出无数条经线，为了区分各条经线，人们给它们标了不同的度数，叫经度. 经度的划分是以本初子午线为界，向东向西各分了  $180^{\circ}$ ，向东的  $180^{\circ}$  称东经，用符号“E”表示，向西的  $180^{\circ}$  称西经，用符号“W”表示.

26、√

**【分析】**

**【分析】**位于中尼边境的珠穆朗玛峰；海拔 8844.43 米，是世界第一高峰。

故答案为：正确。

**【点评】**世界第一高峰是亚洲的珠穆朗玛峰。此题考查世界之最的知识点，牢记即可。

27、×

**【分析】**

试题分析：地球绕着太阳不停的旋转，叫做地球的公转，公转的周期是一年，产生的现象有四季变化和五带划分，昼夜更替是地球自转产生的现象。



---

考点：本题主要考查了地球公转。

【解析】

【答案】

错误

## 五、连线题(共 1 题，共 6 分)

28、略

【分析】

【解析】

试题分析：读图可知：甲为印度；乙为澳大利亚、丙为巴西、丁为美国；澳大利亚热带草原气候面积广大，畜牧业发达，被称为骑在羊背上的国家，又因长期孤立于南半球的汪洋之中，使得动物的演化十分缓慢，被称为世界活化石博物馆，①--乙--C，巴西的热带雨林气候分布最广大，热带雨林遭破坏十分严重，是发展中的工农业大国，②--丙--B，美国的唐人街是华人居住的地区，它是世界最发达的国家，③--丁--D，印度服务外包产业发达，被称为世界办公室，④--甲--A。

考点：该题考查世界上的国家和地区。

【解析】

【答案】

(A)—甲—(④) (B)—乙—(③) (C)—丙—(②) (D)—丁—(①)

# VV99.net

免费文档下载