

考试试卷

考试范围：全部知识点；考试时间：120 分钟

学校：_____ 姓名：_____ 班级：_____ 考号：_____

总分栏

题号	一	二	三	四	五	六	总分
得分							

评卷人	得分

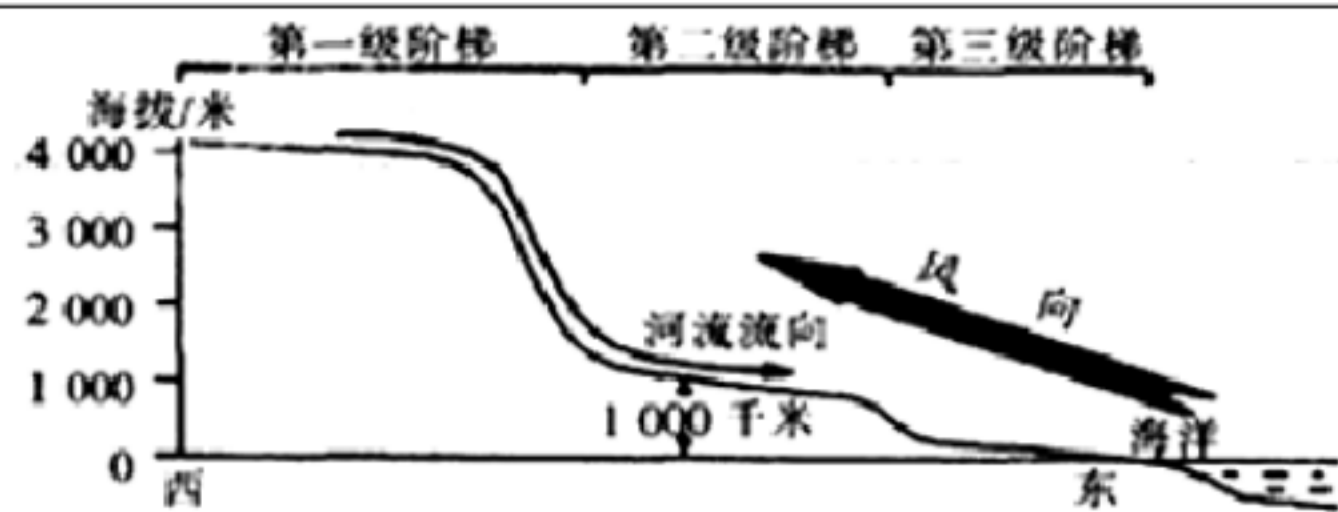
一、选择题(共 8 题，共 16 分)

- 1、【题文】我国三级行政区划指的是（ ）
A. 省、县、乡
B. 省、自治区、直辖市
C. 省、地、市
D. 国家、首都、省
- 2、世界七个大洲中，相对高度最大的洲的是（ ）
A. 南极洲
B. 南美洲
C. 亚洲
D. 大洋洲
- 3、
20 元人民币上景观所在地区的主要少数民族是（ ）



- A. 壮族
- B. 高山族
- C. 苗族
- D. 蒙古族

- 4、
读图；完成 12--14 题.



图中反映了我国的（ ）

- A. 地势分布特点
- B. 河流分布特点
- C. 气温分布特点
- D. 地形分布特点

5、如图的山脉是秦岭；下列说法错误的是（ ）

- A. 山脉与我国 1 月份 0℃等温线分布大致一致。
- B. 山脉与我国 400mm 等降水量线分布大致一致。
- C. 山脉以南是亚热带；以北是暖温带。
- D. 山脉以南是湿润地区；以北是半湿润地区。

6、关于中国所在半球的叙述正确的是

- A. 北半球、西半球
- B. 北半球、东半球
- C. 南半球、西半球
- D. 南半球、东半球

7、粤菜、鲁菜、湘菜都是我国著名的菜系，其正宗来源地分别是（ ）

- A. 广东省、山东省、湖南省
- B. 四川省、广东省、山东省
- C. 广东省、河北省、湖南省
- D. 广东省、山东省、湖北省

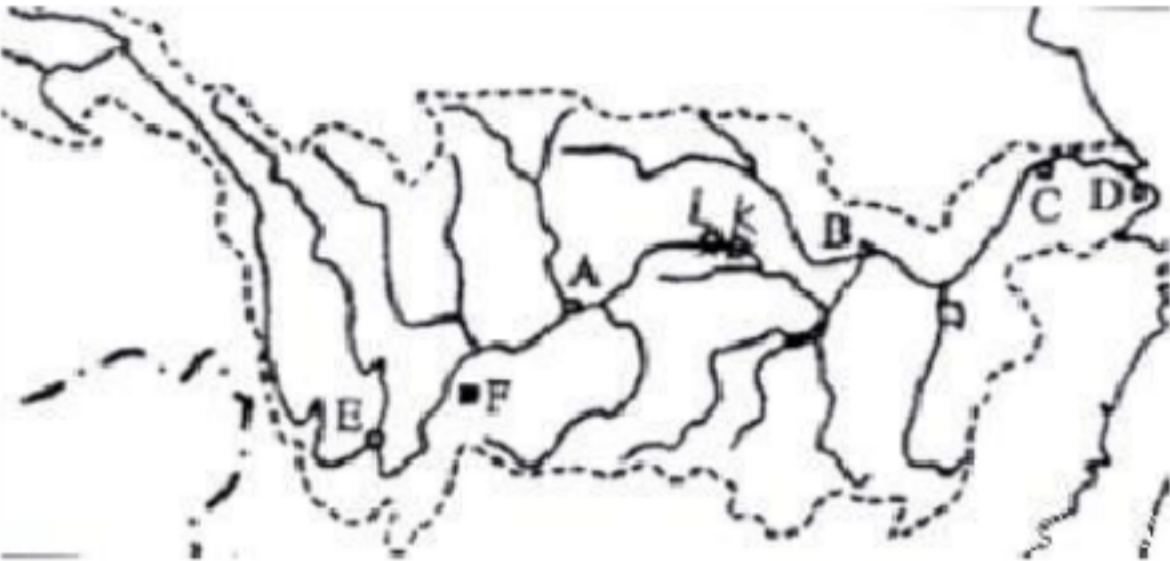
8、
关于我国地理位置的叙述正确的是（ ）

- A. 北回归线穿过我国南部，北极圈穿过我国北部
- B. 位于北半球，在亚洲的东部，西临太平洋
- C. 我国领土的最北端和最东端位于黑龙江省境内
- D. 从经度来看，我国全属东经度，从纬度来看，我国大部分属于低纬度

评卷人	得分

二、填空题(共 7 题，共 14 分)

9、(22 分)：读长江流域地区图回答下列问题。



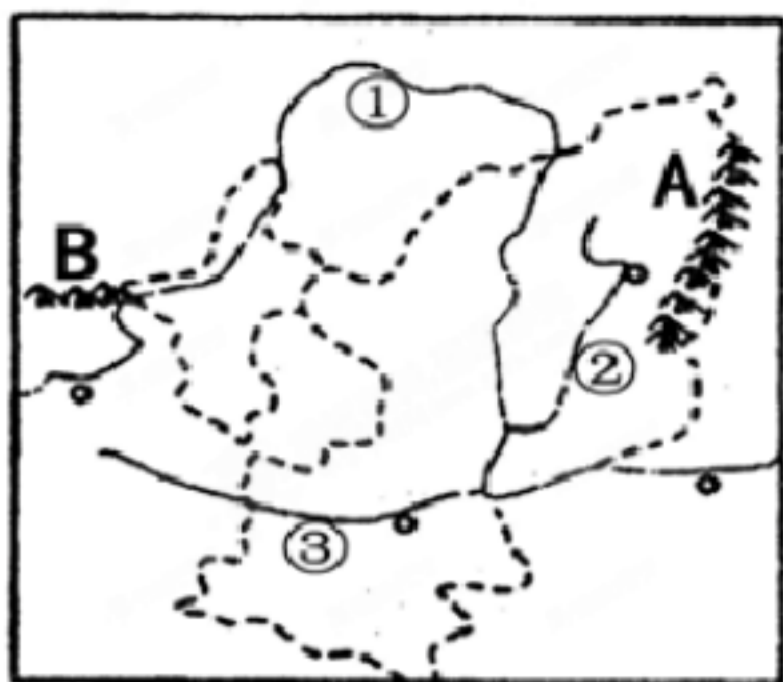
- (1)长江被称为我国的“”，长江流域是我国经济发展的“”。该区域的主要工业中心城市分别是 A、B、南京、D 和 E。该区域有我国最大的水利枢纽（填代号和名称）。
- (2)B、C 所在地形区是，有“”的美称。
- (3)长江三角洲发展经济的优势条件有、等（列举两点）。

10、
【题文】 与我国陆上相邻的国家中，面积最大的国家是____； 与我国隔海相望的国家中，经济最发达的国家是____。

11、
人们常用“山环水绕”、“沃野千里”来形容 _____ 三省的山河大势。

12、在我国各少数民族中人口最多的是_____。

13、读黄土高原地区图；回答下列问题。



- (1) 黄土高原东起 A____，此山是黄土高原和____平原的分界线；西至乌鞘岭。
- (2) 黄土高原地区跨山西、____；宁夏、甘肃等省区。
- (3) 支流③是____。
- (4) 目前，黄土高原地区面临的突出的生态问题是水土流失严重，试分自然原因是：____。（写出一条即可）

14、人们通常将____以南的美洲部分称为拉丁美洲。中南半岛因在____以南而得

名。

15、
从空间分布上看，我国水资源总体上呈现出从____向____递减的特点。解决水资源季节分布不均的方法是____，解决水资源地区分布不均的方法是____。

评卷人	得分

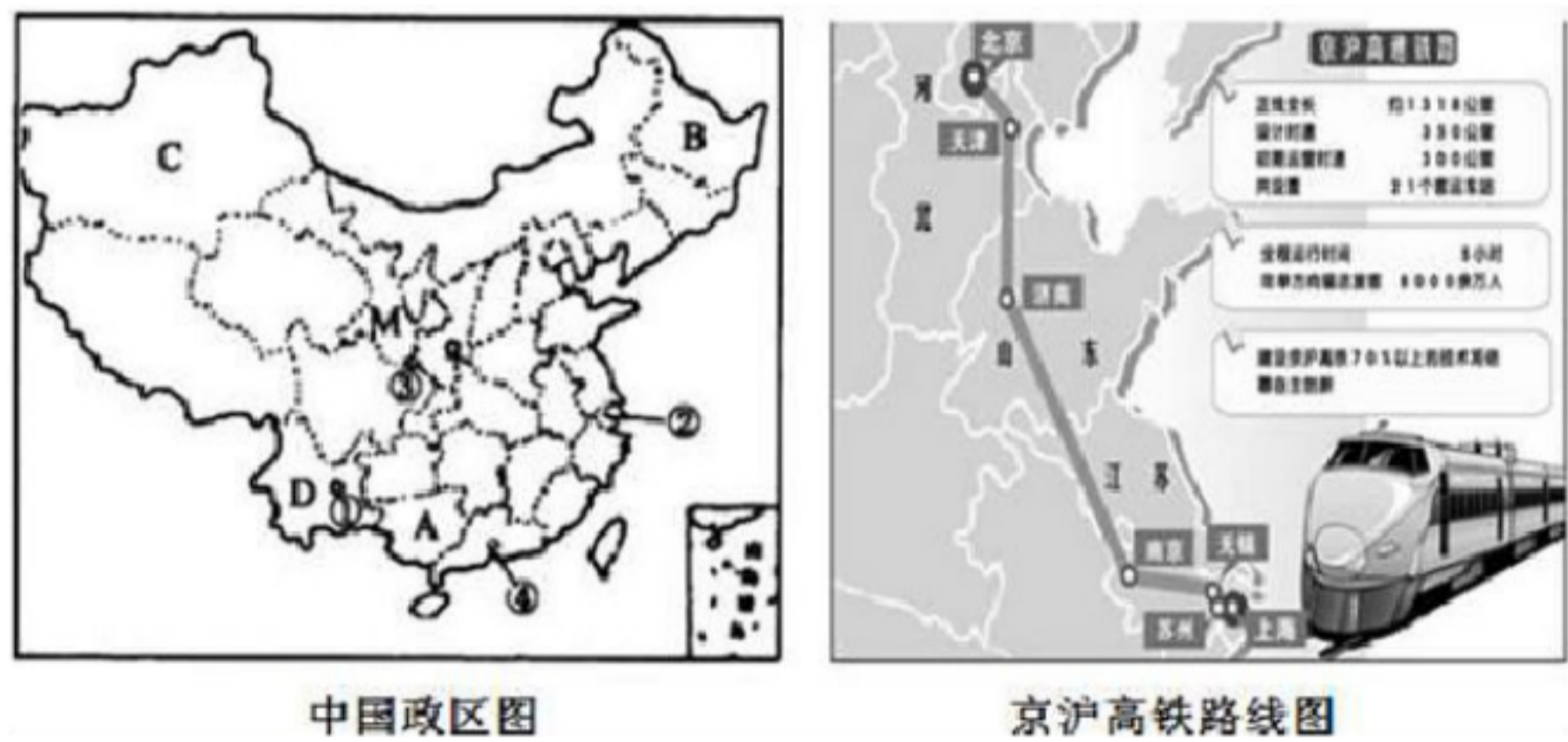
三、判断题(共 5 题，共 10 分)

- 16、内蒙古自治区是我国面积最大的省级行政区。
- 17、在与香港的经济合作中，珠江三角洲扮演“店”的角色。
- 18、内蒙古高原地表坦荡（ ）（判断对错）
- 19、“地上河”是指黄河的上游河段。
- 20、苏州位于长江三角洲地区，是著名的“鱼米之乡”。（ ）（判断对错）

评卷人	得分

四、材料题(共 2 题，共 6 分)

- 21、材料一：2010 年以来，西南地区持续干旱，受旱面积占到全国的 83%，这是西南五省市百年一遇的特大旱灾。截至 3 月 30 日，中国耕地受旱面积 1.16 亿亩，有 2425 万人、1584 万头大牲畜因旱饮水困难。
- 材料二：2008 年中国第一条具有世界先进水平的高速铁路—京沪高速铁路正式开工建设。
- 材料三：第十六届亚运会于 2010 年 11 月 12 日至 27 日在我国广州市成功举办。
- 材料四：中国政区图和京沪高铁路线图



(1) 2010 年西南地

- 区旱灾发生的省区主要有川、滇、黔、渝、桂等省区。其中____省（填全称）少数民族最多，在图中的字母是____。
- (2)____族是我国人口最多的少数民族，主要分布在_省区(填字母)。
- (3) 在中国政区图上的①②③④四个城市中, 2010 年举办亚运会城市____（填数字）
- (4) 张敏想去我国日出最早的地方旅游，最好到 ABCD 四省中的____省区(填字母)。
- (5) 京沪高速铁路沿途经过的直辖市有____个，既临渤海又临黄海的是____省。

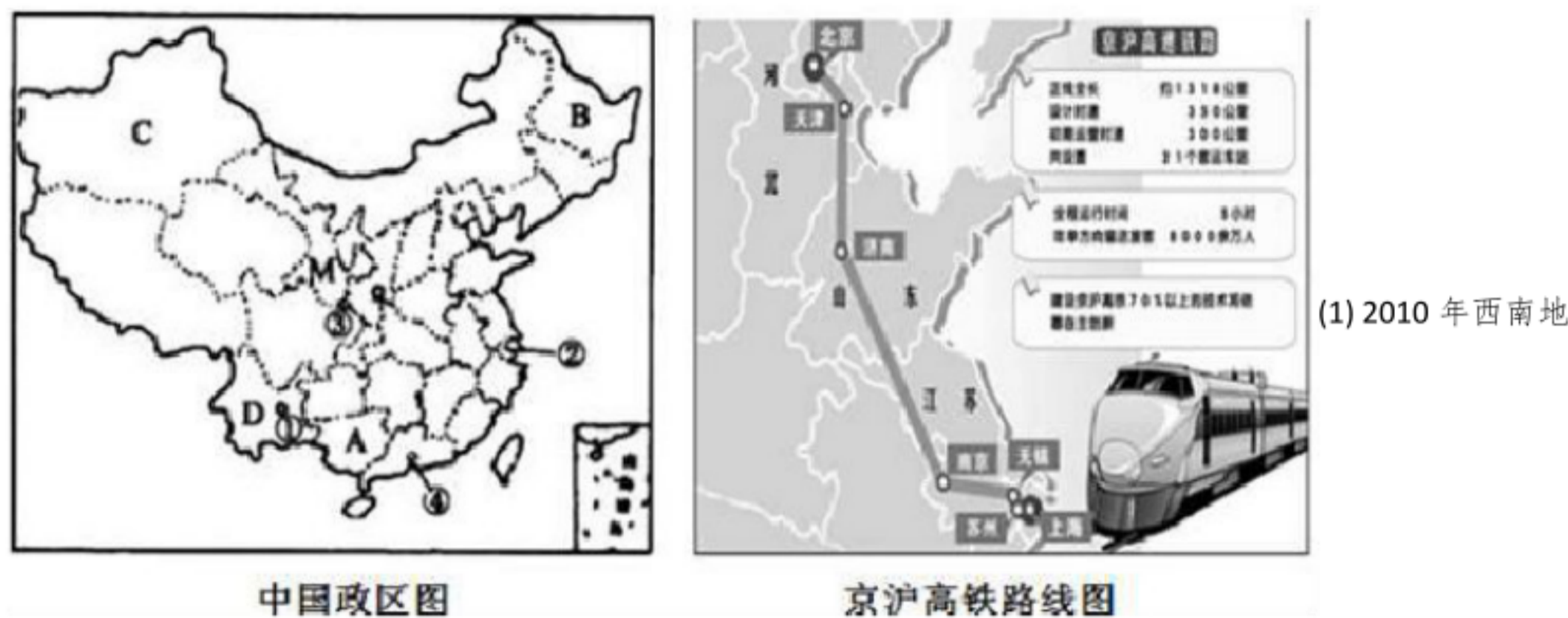
- 22、材料一：2010 年以来，西南地区持续干旱，受旱面积占到全国的 83%，这是西南五省市百年一遇的特大旱

灾。截至 3 月 30 日，中国耕地受旱面积 1.16 亿亩，有 2425 万人、1584 万头大牲畜因旱饮水困难。

材料二：2008 年中国第一条具有世界先进水平的高速铁路—京沪高速铁路正式开工建设。

材料三：第十六届亚运会于 2010 年 11 月 12 日至 27 日在我国广州市成功举办。

材料四：中国政区图和京沪高铁路线图



区旱灾发生的省区主要有川、滇、黔、渝、桂等省区。其中_____省（填全称）少数民族最多，在图中的字母是_____。

- (2)_____族是我国人口最多的少数民族，主要分布在_____省区(填字母)。
- (3) 在中国政区图上的①②③④四个城市中,2010 年举办亚运会城市_____（填数字）
- (4) 张敏想去我国日出最早的地方旅游，最好到 ABCD 四省中的_____省区(填字母)。
- (5) 京沪高速铁路沿途经过的直辖市有_____个，既临渤海又临黄海的是_____省。

评卷人	得分

五、连线题(共 2 题，共 12 分)

23、将下列地区与其耕作制度用直线连接起来。

- a. 东北平原 ①两年三熟
- b. 华北平原 ②一年一熟
- c. 长江中下游平原 ③一年三熟
- d. 海南岛 ④一年二熟

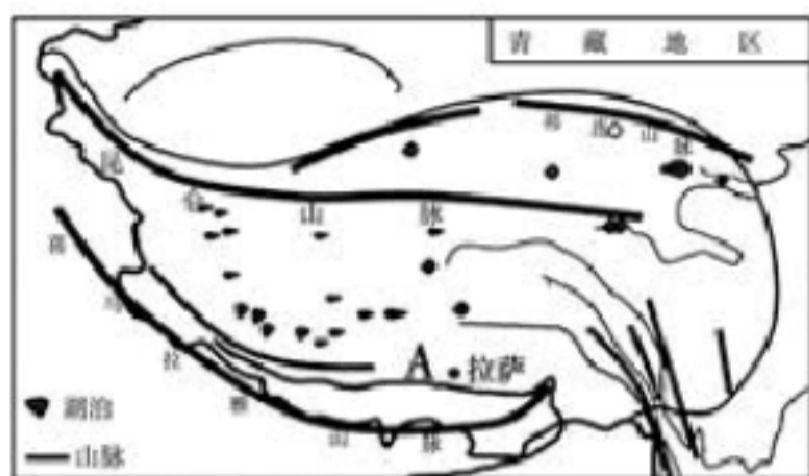
24、
在下列地区与其主要的气候之间连线：

北京 亚热带季风气候 杭州 温带季风气候 拉萨 温带大陆性气候 乌鲁木齐 高山高原气候

评卷人	得分

六、综合题(共 4 题，共 32 分)

25、
【题文】神奇的雪域高原；独特的民族风情，令人神往。读图回答下列问题。（8 分）



甲



乙

图23

- (1) 青藏地区最显著的自然特征是_____
- (2) 图中河流 A 是_____, 该河流谷地发展农业的有利条件是_____
- (3) 甲图中的动物是本地区代表畜种_____, 善于爬山负重, 被誉为“高原之舟”。乙图中的景观是本地区著名的宗教建筑_____
- (4) 小玲在青藏旅游时拍摄了藏族同胞在一天中不同时间的三张照片, 仔细观察这三张照片中藏袍穿戴方式

的不同, 简要分析原因 _____

26、

我国纵横交错的山脉和复杂多样的地形, 为我们提供了丰富多彩的自然景观, 又使祖国各地的生产活动和生活

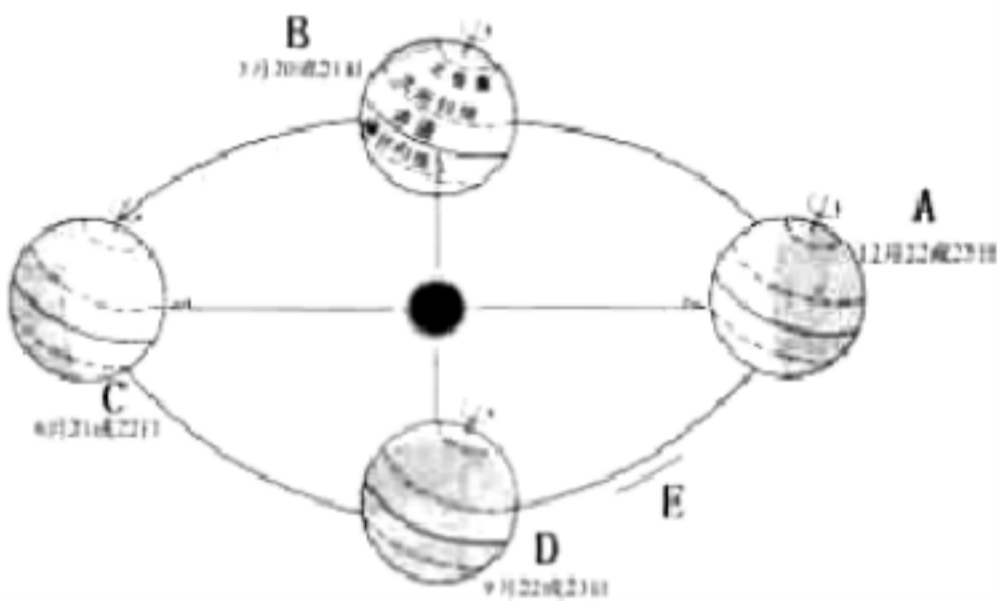
方式各有不同。读图, 回答下列问题:

- (1) 图中序号代表的山脉:
① _____ ② _____ ④ _____ ⑤ _____
- (2) 山脉③以东的土地利用类型主要是 _____; 以西的土地利用类型主要是 _____。
- (3) 图中甲; 乙、丙三大高原; 地面崎不平, 岩溶地形广布的是 _____, 该区域易发生的山地灾害有 _____等。
- (4) 如图是我国东部某地等高线图。从因地制宜的角度考虑; 下列土地资源的开发利用合理的是 _____ (双选)
A. A 地开垦耕地; 发展种植业 B. B 地种植花卉蔬菜, 方便供应城区。

- C. C地围湖造田；扩大耕地面积 D. D地发展海水养殖。
- (5) 根据聚落的形成与发展因素，简要分析E地发展成为城镇的优势。_____。

- 27、读图回答问题：
- (1) ①省区的简称为_____。
- (2) 邻国⑤为_____。
- (3) 邻国⑧为_____。
- (4) 海峡④为_____。

- 28、
- 读“地球公转示意图”；完成下列问题。



- (1) 当地球运动到C位置时；地球北半球获得的太阳光照最多，这一天为北半球的_____日，大约是_____月_____日。
- (2) 9月23日前后；地球运动到_____位置（填字母），此时太阳光直射在_____度纬线上。
- (3) 当地球从B位置运动到C位置时，北半球由_____季过渡到_____季。在C位置时，北半球的昼夜长短情况是_____，并且北极圈出现_____（填极昼或极夜）现象。

参考答案

一、选择题(共8题，共16分)

1、A

【分析】

【解析】

试题分析：我国的三级行政区划为省（自治区；直辖市）、县（自治县、县级市）、镇（乡）；故本题选A。

考点：本题主要考查辽阔的疆域相关知识。

【解析】

【答案】A

2、C

【分析】

【分析】解：世界上海拔最高的山脉是喜马拉雅山脉；位于亚洲．世界上陆地最低点位于亚洲的死海．因此世界七个大洲中，相对高度最大的洲应是亚洲．根据题意．故选：C．

【点评】世界上共有七大洲，其中亚洲的地势特点是中部高，四周低，地形以高原山地为主，平均海拔高，地面起伏大．

3、A

【分析】

解：图中所示的是广西壮族自治区的桂林山水；该省区主要的少数民族是壮族．

故选：A．

我国各民族分布的特点是“大杂居；小聚居”，相互交错居住．汉族分布最广，主要集中在东部和中部．少数民族则主要分布在西南；西北和东北部地区．汉族地区有少数民族聚居，少数民族地区也有汉族居住．民族间的交错分布促进了民族交往与合作，为各民族共同繁荣提供了有利条件．

本题考查我国的民族分布特点，牢记即可．

【解析】

A

4、A

【分析】

解：读图可得：图示反映我国的地势特点；我国地势西高东低，呈三级阶梯状分布；该地势对我国气候所产生的影响是有利于海洋上的暖湿气流深入我国内陆，形成丰沛的降水；对河流的影响是使大部分河流滚滚东流，沟通了东西交通，方便了沿海与内地的联系．

故选：A．

我国地势西高东低；呈三级阶梯状分布，该地势对我国气候所产生的影响是有利于海洋上的暖湿气流深入我国内陆，形成丰沛的降水；对河流的影响是使大部分河流滚滚东流，沟通了东西交

通，方便了沿海与内地的联系，在阶梯与阶梯的交界处，河流落差大，水能丰富。

本题考查我国的地势特点，理解解答即可。

【解析】

A

5、B

【分析】

秦岭；淮河一线是我国东部地区重要的地理界线；在它的南北两侧，自然环境、地理景观和居民的生产生活习惯有明显的差异。秦岭淮河主要是：四大区域中，南方与北方地区的分界线；一月份 0°C 等温线通过的地方；800mm 等降水线通过的地方；温度带中，暖温带与亚热带分界线；干湿地区中，湿润区与半湿润区分界线；温带季风气候与亚热带季风气候分界线；长江流域与黄河流域分界线；水田与旱地的分界线；河流有冰期与无冰期的分界线；两年三熟与一年两熟的分界线；水稻、小麦杂粮的分界线；亚热带常绿阔叶林与温带落叶阔叶林的分界线等；可见不符合秦岭、淮河地理分界线的只有 400mm 等降水量线。

故选：B。

【解析】

【答案】依据秦岭；淮河的地理区域和地理界线；来解答此题。

6、B

【分析】

【分析】中国东部临世界上最大的洋-太平洋，地处世界上最大的大陆-亚欧大陆。东西半球以 20°W 、 160°E 为分界线，南北半球以赤道为分界线，中国的经纬度范围在 4°N - 53°E ， 73°E - 135°E 之间。所以中国是东半球、北半球。

7、A

【分析】

【分析】广东省用历史名称作简称，简称粤，山东省用历史名称作简称，简称鲁，湖南省用本省主要河流名称作简称，简称湘。故选项 B 符合题意；故选 A。

8、C

【分析】

解：我国最北端在漠河以北黑龙江主航道中心（53°N）；最南端在曾母暗沙（4°N）；故 A 错误；我国从东西半球来看；位于东半球；从南北半球来看，位于北半球，位于亚洲东部，东临太平洋；故 B 错误；

我国最北端在漠河以北黑龙江主航道中心；最东端在黑龙江与乌苏里江的汇合处；都在黑龙江境内，故 C 正确；

我国领土南北跨纬度很广；大部分位于中纬度地区，故 D 错误；

故选：C

我国疆域辽阔最北端在漠河以北黑龙江主航道中心；最南端在曾母暗沙；最西端在帕米尔高原；最东端在黑龙江与乌苏里江的汇合处；我国位于东半球；亚洲东部，太平洋的西岸；从纬度位置看--我国领土南北跨纬度很广，大部分位于中纬度地区，属北温带，南部少数地区位于北回归线以南的热带，没有寒带，只有在高山地区才有终年冰雪带；从海陆位置看--我国位于世界最大的大陆-亚欧大陆的东部，西部深入亚欧大陆内部，与许多国家接壤；东部濒临世界上面积最大的大洋-太平洋，有众多的岛屿和港湾，是一个海陆兼备的国家。

本题主要考查我国地理位置的特点以及疆域的四至点，掌握我国位置特点是解题的关键，学生应牢记基础知识，并结合地图识记所学知识，提高答题的效率。

【解析】

C

二、填空题(共 7 题，共 14 分)

9、略

【分析】

试题分析：

(1) 长江被称为我国的“黄金水道”，长江流域是我国经济发展的“黄金腰带”对南北两岸经济发展起到带动作用，该区域的主要工业中心城市分别是 A 重庆，位于嘉陵江与长江交汇处；B 是武汉，位于汉江与长江交汇处；D 上长江入海口的上海，是长江上最大的城市；E 是位于金工沙江与雅砻江交汇处的攀枝花。

(2) 由图可知，B、C 位于长江中下游地区，属于长江中下游平原，这里降水丰富，淡水渔业发达，有“鱼米之乡”的美称。

(3) 长江三角洲发展经济的优势条件有“黄金水道”和“黄金海岸”作用，三角洲地区河面宽阔，水位高，航运发达；同时这里又是位于我国沿海地区的中部，位于南北海运的交汇处。

考点：本题考查我国长江流域的有关知识。

【解析】

【答案】

(1) 黄金水道、黄金腰带、重庆、武汉、上海、攀枝花、L 三峡

(2) 长江中下游平原、鱼米之乡

(3) 水运便利、能源丰富

10、略

【分析】

【解析】 本题主要考查的是我国疆域的相关知识。与我国陆上相邻的国家中，面积最大的国家是俄罗斯；与我国隔海相望的国家中，经济最发达的国家是日本。

【解析】

【答案】 俄罗斯 日本

11、略

【分析】

解：东北三省的地形以平原；丘陵和山地为主；地表结构大致呈半环状的三带：外围是黑龙江、乌苏里江、图们江和鸭绿江等流域低地，中间是山地和丘陵，内部则是广阔的平原，所以人们常用“山环水绕、沃野千里”来形容东北三省的地形特点。

故答案为：东北。

东北地区位于中国东北部；地处东北亚的核心位置，东；北两面与朝鲜及俄罗斯为邻；西接内蒙古自治区；南连河北省，与山东半岛隔海相望，战略地位十分重要。

本题考查东北三省的概况，理解解答即可。

【解析】

东北

12、略

【分析】

【解析】

试题分析：在我国各少数民族中人口最多的是壮族。

考点：本题考查我国民族的知识。

【解析】

【答案】

壮族

13、太行山华北陕西省渭河①地面破碎，多沟谷、斜坡 ②植被缺少，地表光秃 ③土质疏松 ④降水集中，多暴雨

【分析】

【分析】（1）黄土高原东起太行山；西到乌鞘岭，南连秦岭，北抵长城。太行山是黄土高原和华北平原的分界线；（2）黄土高原地区跨山西；陕西省、宁夏、甘肃等省区。（3）支流③是渭河。

（4）目前，黄土高原地区面临的突出的生态问题是水土流失严重，自然原因是①地面破碎，多沟谷、斜坡，②植被缺少，地表光秃，③土质疏松，④降水集中，多暴雨。

【点评】本题还可以考查黄土高原是世界上最大的黄土堆积区——黄土高原。呈现多种多样的黄土地形景观：黄土塬、黄土梁、黄土峁。黄土高原的形成——风成说；水土流失危害：①水土流

失带走地表肥沃的土壤，使农作物产量下降；②使地表沟壑纵横，导致耕地面积减少；③向黄河下游输送大量泥沙，给河道整治和防洪带来巨大困难。

14、略

【分析】

试题分析：拉丁美洲是指美国以南包括南美洲所有国家和北美洲的墨西哥。中南半岛因在中国以南而得名。中南半岛北部地势高峻；与我国山水相连，高山和大河由北向南延伸，形成山河相间；纵列分布的地表形态。中南半岛河流的上游奔腾在崇山峻岭之中，蕴藏着丰富的水力资源。

拉丁美洲是指美国以南的美洲国家和地区。中南半岛因在中国以南而得名；其地形特点是山河相间；纵列分布。

故答案为：美国；中国。

【解析】

美国;中国

15、略

【分析】

解：从空间分布上看；我国水资源总体上呈现出从东南沿海向西北内陆递减的特点。我国水资源在时间分配上具有夏秋多；冬春少和年际变化大的特点。一般来说，夏半年连续4个月的径流量要占年径流量的60%~80%。解决水资源季节分布不均的方法是修建水库，解决水资源地区分布不均的方法是跨流域调水。

故答案为：东南沿海；西北内陆；修建水库；跨流域调水。

中国水资源的状况不容乐观。虽然中国淡水资源总量多达28000亿米³，居世界前列，但人均只有2100米³；仅相当于世界平均水平的1/4，居世界第120位。水资源的时空分布也不够理想，加之一部分水资源受到污染和破坏，能够有效利用的水资源就更少。有些地区因地下水过度开采，造成地下水位下降，进而加剧了用水的困难程度。

本题考查我国水资源的分布特点及解决水资源分布不均的办法，要理解记忆。

【解析】

东南沿海；西北内陆；修建水库；跨流域调水

三、判断题(共 5 题，共 10 分)

16、×

【分析】

我国面积最大的省级行政区是新疆维吾尔自治区，而不是内蒙古自治区。

【解析】

【答案】

错

17、×

【分析】

【分析】珠江三角洲在与香港的合作中；主要扮演厂的角色，扮演“店”的角色。

故答案为：错误。

【点评】珠江三角洲和港澳地区的关系非常密切，其合作形式以“前店后厂”为基本模式。港澳地区为珠江三角洲提供丰富的资金、技术和管理经验，控制产品的质量，进行市场推广和对外营销，扮演“店”的角色，而珠江三角洲为港澳地区提供土地、自然资源和劳动力，进行产品的加工、制造和装配，扮演“厂”的角色。

18、√

【分析】

【分析】内蒙古高原是我国第二大高原；该高原地表坦荡。

故答案为：正确。

【点评】青藏高原的地表景观是雪山连绵，冰川广布，黄土高原的地表特征是“千沟万壑，支离破碎”，云贵高原的地表景观是地形崎岖，内蒙古高原的地表景观是地面坦荡。

19、×

【分析】

【分析】黄河在中游流经黄土高原；大量泥沙入河，到了下游，河道变宽；流速减慢、泥沙淤积、河床抬高，形成“地上河”，我们推断“地上河”是出现在黄河的下游，而不是上游，所以题目中的叙述是错误的。故答案为：×。

【点评】依据黄河各河段出现的特征来解答此题。

20、√

【分析】

【分析】苏州位于长江三角洲地区；长江三角洲地区河湖众多，水源丰富，且热量充足，主要农作物为水稻，长江三角洲地区有“鱼米之乡”之称；故叙述正确。

故答案为：正确。

【点评】长江中下游平原为中国第三大平原，主要由长江及其支流所夹带的泥沙冲积而成，地势低平，大部分海拔在 50 米以下。平原上河汉纵横交错，是重要的粮、棉、油生产基地，著名的“鱼米之乡”。

四、材料题(共 2 题，共 6 分)

21、略

【分析】

(1) 云南省的少数民族最多，全国 56 个民族中，云南就有 25 个，云南省在图中为 D；(2) 壮族人口最多，有 1500 多万人，主要分布于广西位图中的 A；(3) 2010 年亚运会在广东省广州，由图可知为④；(4) 我国日出最早的地区在我国的黑龙江与乌苏里江主航道中心线汇合处，在我国的黑龙江省位图中的 B；(5) 从图中可知京沪高铁经过的直辖市有：北京、天津、上海共三个；山东省既临渤海又临黄海。

【解析】

【答案】

(1) 云南 D (2) 壮 A (3) ④ (4) B (5) 3 山东

22、略

【分析】

(1) 云南省的少数民族最多，全国 56 个民族中，云南就有 25 个，云南省在图中为 D；(2) 壮族人口最多，有 1500 多万人，主要分布于广西位图中的 A；(3) 2010 年亚运会在广东省广州，由图可知为④；(4) 我国日出最早的地区在我国的黑龙江与乌苏里江主航道中心线汇合处，在我国的黑龙江省位图中的 B；(5) 从图中可知京沪高铁经过的直辖市有：北京、天津、上海共三个；山东省既临渤海又临黄海。

【解析】

【答案】

(1) 云南 D (2) 壮 A (3) ④ (4) B (5) 3 山东

五、连线题(共 2 题，共 12 分)

23、略

【分析】

【解析】

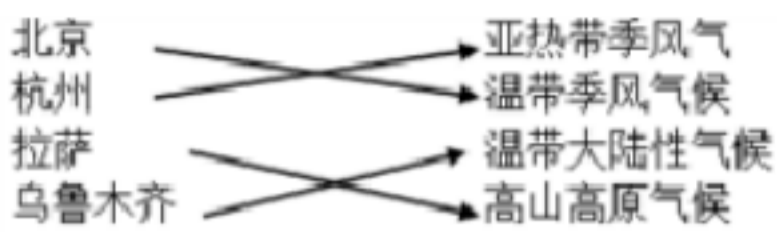
【答案】

a. — ② b. — ① c. — ④ d. — ③

24、略

【分析】

本题考查我国的城市的气候。我国是世界上气候类型最多的国家之一。我国东半部有大范围的季风气候，自南而北有热带季风气候、亚热带季风气候、温带季风气候，西北地区大多为温带大陆性气候，青藏高原区是独特的高原气候。北京位于北方地区，是温带季风气候；杭州位于南方地区，是亚热带季风气候；拉萨位于青藏地区，是高原山地气候；乌鲁木齐位于西北地区，属于温带大陆性气候。故如图所连；



【解析】

六、综合题(共 4 题，共 32 分)

25、略

【分析】

【解析】

试题分析：

(1) 根据各地的地理位置；自然和人文地理特点不同；可以将我国划分为四大区域，其中青藏地区 由于海拔高，气候寒冷，“高”和“寒”成为本区最突出的区域地理特征。

(2) 青藏高原气候高寒；只有河谷地带由于地势较低，气温较高，无霜期长，降水条件较好，土壤比较肥沃，又有河水作为灌溉水源，因而适宜耕作，成为农业发达地带，被称为河谷农业，以青海的湟水谷地；西藏的雅鲁藏布江谷地也就是藏南谷地最典型。

(3) 牦牛是青藏地区代表性的畜种；它的毛厚而长，耐寒力强，体矮身健，善于爬山负重，被称为“高原之舟”。

(4) 藏族人穿藏袍只穿一只袖；而且是穿左袖，右袖空着，从后面拉到前面搭在右肩上，天热时，左袖也不穿，将两袖褪下来拉到前面，围系在腰间，这样穿法既有悠久历史，又有独特的原因，藏族人民居住在青藏高原，海拔高，昼夜温差大，就在一天里，也经常有风雨雪晴的变化，藏区人民常用“一山有四季，十里不同天”来形容气候变化，藏袍的衣料好，有较强的防寒作用，袍袖宽敞，在气温升高时，可以方便地褪去一只袖子，调节气温，同时有利于起居旅行，藏袍腰襟大，白天当衣穿，保温防寒，晚上当铺盖，和衣而眠，另外，它也有利于劳动生产，藏人放牧；干活、耕作、遇天气多变，需要调温时，褪下袖子就行了，把袖子褪下系在腰间，弯腰干活也十分方便，由此慢慢形成了习惯，即在气温正常时，藏族人穿藏袍一般也只穿一只袖，因此在一天中，藏族同胞穿藏袍的方式是有变化的，这主要是因为当地日较差大。

考点：该题考查青藏地区的自然地理特征。

【解析】

【答案】

(1) 高寒。

(2) 雅鲁藏布江 河谷地带地势较低；气温较高，土质较肥沃（回答两点即可）

(3) 牦牛 布达拉宫。

(4) （由于高原上日照强烈），气温日较差大

26、略

【分析】

解：读图分析可知：

(1) 我国山脉纵横交错；构成地形的骨架，平原；盆地、高原、丘陵镶嵌其中。依据位置，图中序号代表的山脉为：①太行山，②喜马拉雅山，④祁连山，⑤横断山。

(2) 山脉③为大兴安岭；以东为东北平原，土地利用类型主要是耕地，以西为内蒙古高原，土地利用类型主要是草地。

(3) 图中甲为青藏高原；乙为云贵高原，丙为黄土高原，三大高原中地面崎不平，岩溶地形广布的是云贵高原，该区域易发生的山地灾害有滑坡；泥石流等。

(4) 如图是我国东部某地等高线图；从图中看出 A 地海拔较高，坡度大，可植树造林，发展林业；B 地海拔低，在河流附近，可种植花卉蔬菜，方便供应城区；C 地围湖造田，扩大耕地面积，会破坏生态环境；D 地在沿海附近，可发展海水养殖。

(5) 从图中可以看出；E地发展成为城镇的优势是地形平坦；交通便利、水源充足。

故答案为：

(1) 太行山；喜马拉雅山；祁连山；横断山；

(2) 耕地；草地；

(3) 云贵高原；滑坡；泥石流；

(4) BD；

(5) 地形平坦；交通便利、水源充足。

我国地势西高东低；呈三级阶梯分布。位于第一阶梯上的地形区主要有青藏高原和柴达木盆地，位于第二阶梯上的地形区主要有黄土高原；内蒙古高原、云贵高原、塔里木盆地、准噶尔盆地、四川盆地，位于第三阶梯上地形区主要有东北平原、华北平原、长江中下游平原、山东丘陵、辽东丘陵、东南丘陵。

本题考查我国不同山脉及地形区的位置及特点，读图解答即可。

【解析】

太行山；喜马拉雅山；祁连山；横断山；耕地；草地；云贵高原；滑坡、泥石流；BD；地形平坦、交通便利、水源充足

27、内蒙古 哈萨克斯坦 菲律宾 台湾海峡

【分析】

解：（1）①是内蒙古自治区；其简称为内蒙古。

（2）邻国⑤为哈萨克斯坦；⑥是印度，⑦是韩国。

（3）邻国⑧为菲律宾。

（4）海峡④为台湾海峡。

故答案为：（1）内蒙古；（2）哈萨克斯坦；（3）菲律宾；（4）台湾海峡。

与我国陆地相邻的国家有 14 个；分别是：朝鲜；蒙古、俄罗斯、哈萨克斯坦、吉尔吉斯斯坦、塔吉克斯坦、阿富汗、巴基斯坦、印度、尼泊尔、不丹、缅甸、老挝、越南。与我国隔海相望的国家有日本、韩国、菲律宾、马来西亚、文莱、印度尼西亚等。

本题考查我国不同地理事物的分布，读图解答即可。

【解析】

内蒙古 哈萨克斯坦 菲律宾 台湾海峡

【分析】

解：（1）从地球公转示意图可以看出；当地球运动到 C 位置时，太阳直射在北回归线，为北半球的夏至日，日期是 6 月 22 日前后，此时，北半球的太阳高度角最大，获得的太阳光照最多。

（2）9 月 23 日前后是北半球的秋分日；此时地球运动到图中 D 位置，太阳光直射的纬线是赤道，纬度是 0° 。

（3）从地球公转示意图可以看出；当地球运动到 B 位置时，太阳光直射的纬线是赤道，为北半球的春分日；当地球运动到 C 位置时，太阳直射在北回归线，为北半球的夏至日，此时北半球的昼夜长短情况是昼长夜短，北极圈出现极昼现象；当地球从 B 位置运动到 C 位置时，太阳直射点由赤道向北回归线移动，北半球由春季过渡到夏季。

故答案为：（1）夏至；6；22；（2）D；0；（3）春；夏；昼长夜短；极昼。

地球围绕太阳公转时；地轴与地球公转轨道的平面约成 66.5° 的固定夹角。这就使得一年内，太阳光线的直射点有规律地在南北回归线之间移动，各地正午的太阳高度也随之发生有规律的变化。除了赤道，地球其他地方一年中都有昼夜长短的变化。在南北极圈以内，甚至会出现“极昼”和“极夜”现象。

地球在公转轨道的不同位置；受太阳照射的情况也不完全相同，形成了春；夏、秋、冬四季。在中纬度地区，四季更替表现明显。

本题考查了地球公转示意图的判读，读图解答即可。

【解析】

夏至；6；22；D；0；春；夏；昼长夜短；极昼

VV99.net

免费文档下载