

## 第二单元测试卷

### 一、算一算。

$10-9=$

$9-7=$

$3+6=$

$4+3=$

$7-0=$

$5+4=$

$8-8=$

$6-2=$

$2+1+7=$

$6+4-5=$

$8-4+3=$

$2+2+6=$

$7-2-3=$

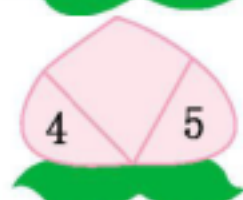
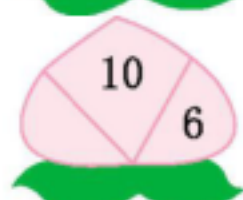
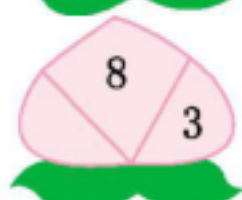
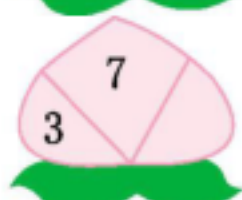
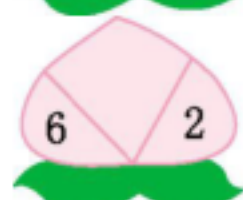
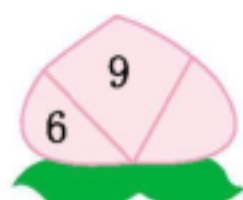
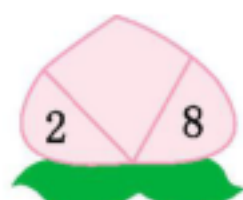
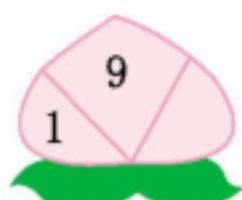
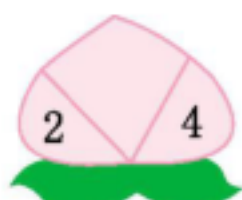
$9-7-0=$

$4+5-3=$

$8-6+7=$

### 二、想一想,填一填。

1. 照样子,填数。



2. 在( )里填上合适的数。

$6-( )=4$

$7+( )=10$

$9-( )=6$

$4+( )=10$

$4+( )=9$

$( )-( )=3$

### 三、比一比,填一填。



$4+2 \bigcirc 7$

$3+7 \bigcirc 10$

$9-6 \bigcirc 4$

$6+1 \bigcirc 4+4$

$7-0 \bigcirc 0+7$

$7-5 \bigcirc 8-6$

$4+3 \bigcirc 10-2$

$10-3-3 \bigcirc 3$

$2+7-3 \bigcirc 5$

### 四、看图填空。

1. 数一数,填一填。



(1) 有( )只, 有( )只, 和 一共有( )只, 比 多( )只。


(2) 从第一行移( )个到第二行,两行的只数就一样多了。



只小动物。

(3) 圈出从前往后数第 6 只小动物。

### 五、看图列式计算。



$$\square \bigcirc \square = \square$$



$$\square \bigcirc \square = \square$$



$$\square \bigcirc \square = \square \quad \square \bigcirc \square = \square$$

$$\square \bigcirc \square = \square \quad \square \bigcirc \square = \square$$

### 六、解决问题。

1. 一共有多少只熊猫?



$$\square \bigcirc \square = \square$$

2. 还剩几个气球?



$$\square \bigcirc \square = \square$$

3. 妞妞家的羊圈里有 10 只小羊, 第一次跑出了 3 只, 第二次跑出了 1 只。羊圈里还剩几只小羊?

$$\square \bigcirc \square \bigcirc \square = \square$$

4. 小红的右边有 3 人, 左边有 4 人, 这一排一共有多少人?



$$\square \bigcirc \square \bigcirc \square = \square$$

参考答案

一、1 2 9 7 7 9 0 4 10 5 7 10 2 2 6 9

二、1. 6 8 10 3 8 4 5 4 9

2. 2 3 3 6 5 答案不唯一,如:8 5

三、 $< = < < = = < > >$

四、1. (1)8 2 10 6 (2)3

2. (1)5 8 (2)3 4 8 (3)略

五、1.  $3+4=7$  或  $4+3=7$  2.  $9-3=6$

3.  $6+2=8$   $2+6=8$   $8-2=6$   $8-6=2$

六、1.  $3+2=5$  2.  $5-1=4$  3.  $10-3-1=6$

4.  $3+4+1=8$

# VV99.net

免费文档下载