

中图版七年级地理下册期末考点复习

(时间：60 分钟 分数：100 分)

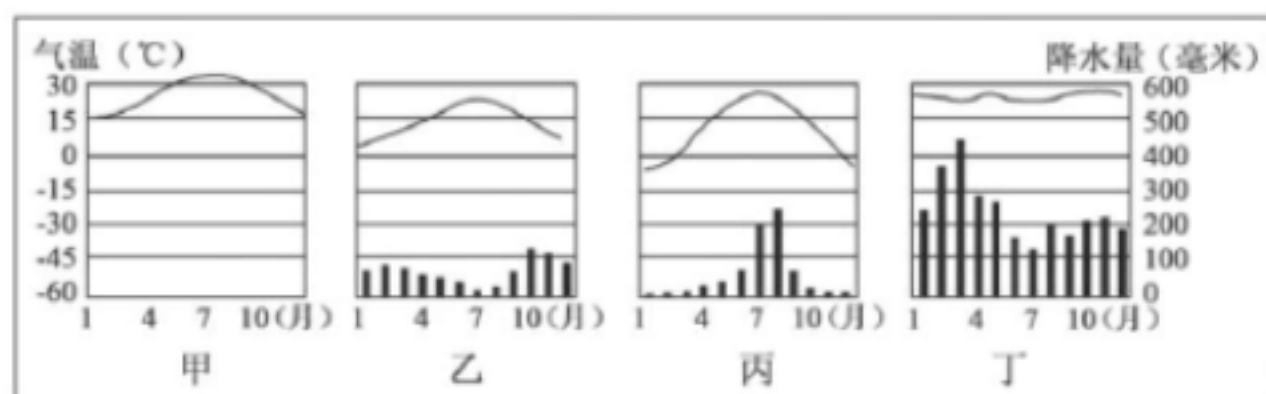
班级：_____ 姓名：_____ 分数：_____

一、选择题（共 25 个小题，每题 2 分，共 50 分）

1、下列有关经线和纬线的叙述，正确的是（ ）

- A. 所有经线长度都相等
- B. 所有经线都是一个圆圈
- C. 纬线指示南北方向
- D. 地球仪上可画 180 条纬线

2、读四地气候资料图，结合所学知识，判断下列叙述正确的是（ ）



- A. 甲地位于亚欧大陆中部，丁地位于赤道附近
- B. 甲地全年少雨，丙地夏季多雨，丁地冬季多雨
- C. 甲地和丁地位于热带地区，乙地和丙地位于亚热带地区
- D. 乙地适宜种植油橄榄、柑橘，丙地雨热同期利于农作物生长

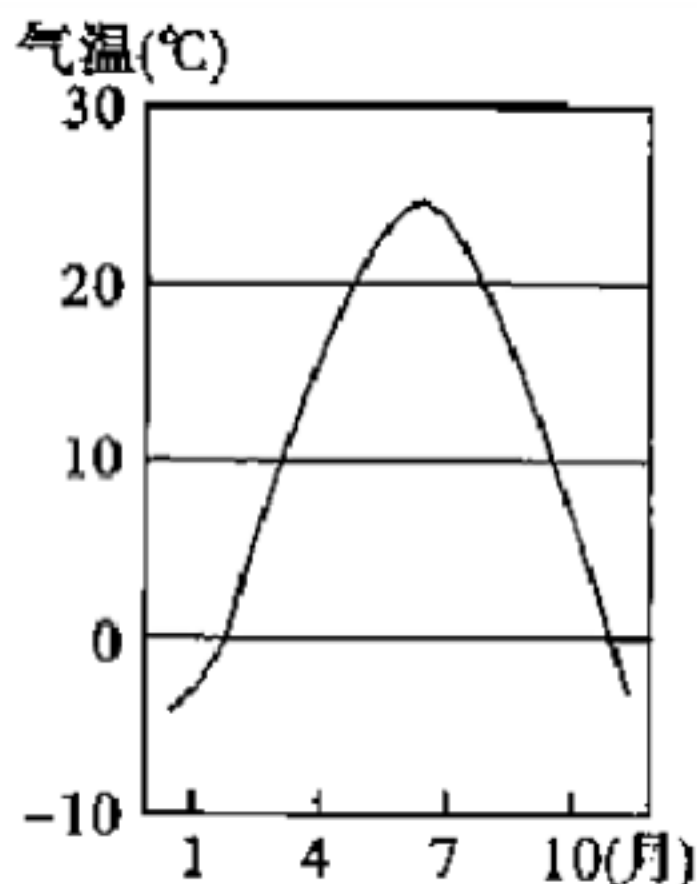
3、位于北冰洋和北太平洋、亚洲和北美洲之间的唯一通道是（ ）

- A. 乌拉尔河
- B. 白令海峡
- C. 土耳其海峡
- D. 里海

4、我国少数民族主要分布在（ ）

- A. 东南、西南、西北
- B. 东北、西南、东南
- C. 东北、西南、西北
- D. 东北、东南、西北

5、下图是某地气温年变化曲线图，据此判断该地位于（ ）



- A. 热带 B. 北温带 C. 南温带 D. 寒带

6、撒哈拉以南的非洲存在着严重的人口、粮食与环境方面的问题。下列措施中对解决上述三种问题都能起到显著作用的是（ ）

- A. 保护森林和草场，严禁乱伐和滥牧 B. 控制人口增长，提高人口素质
C. 发展农业科技，提高粮食产量 D. 大量垦荒，增加耕地面积

7、关于我国首都北京（40° N, 116° E）位置的叙述正确的是（ ）。

- A. 位于北半球，中纬度 B. 位于东半球，高纬度
C. 位于西半球，中纬度 D. 位于南半球，高纬度

8、撒哈拉以南非洲的主要人种是（ ）

- A. 白种人 B. 黄种人 C. 黑种人 D. 混血种人

9、假如你有机会去埃及看金字塔，你所听到的当地语言是（ ）

- A. 西班牙语 B. 英语 C. 阿拉伯语 D. 汉语

10、日本面积最大的岛屿和纬度最高的岛屿分别是（ ）

- A. 北海道岛、四国岛 B. 本州岛、四国岛
C. 本州岛、北海道岛 D. 九州岛、北海道岛

11、“一山有四季，十里不同天”的说法，是指气候（ ）

- A. 随地形呈现的垂直变化 B. 随海陆位置呈现的水平差异
C. 随纬度呈现的空间差异 D. 随季节产生的变化

12、下列人种与其主要分布地区连接正确的是（ ）

- A. 黑色人种—欧洲 B. 白色人种—非洲中部

- C. 黄色人种—亚洲西部 D. 混血人种—拉丁美洲


13、地球上最冷的地区是（ ）

- A. 高原地区 B. 沙漠地区 C. 北极地区 D. 南极地区

14、俄罗斯河流众多，被称为“母亲河”的是：（ ）

- A. 鄂毕河 B. 叶尼塞河 C. 伏尔加河 D. 勒拿河

15、读“地形雨示意图”（如图），下列说法正确的是（ ）



- A. 南坡是迎风坡，降水多 B. 北坡是迎风坡，降水多
C. 迎风坡和背风坡植被没有差异 D. B地比A地气温低，主要原因是降水多

16、被称为世界“加油站”的国家是（ ）

- A. 俄罗斯 B. 日本 C. 伊朗 D. 伊拉克

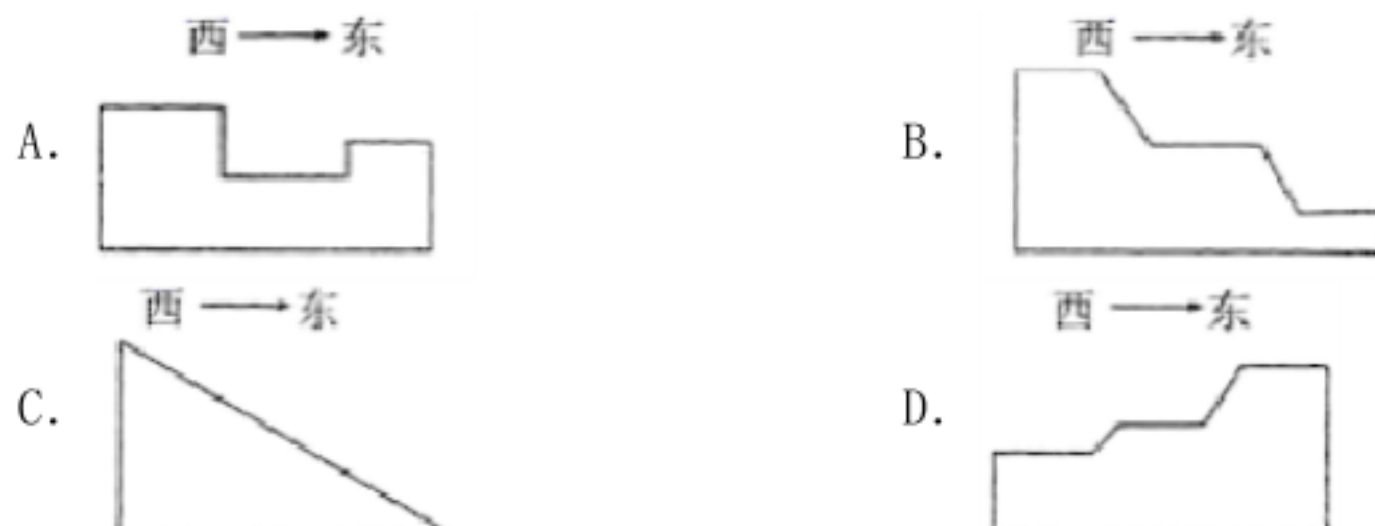
17、我国近海中，四大临海自南向北依次为（ ）

- A. 渤海、黄海、东海、南海 B. 黄海、东海、南海、渤海
C. 东海、南海、渤海、黄海 D. 南海、东海、黄海、渤海

18、下列有关亚洲气候特点的描述，错误的是（ ）

- A. 气候复杂多样 B. 季风气候显著
C. 海洋性特征显著 D. 大陆性气候广泛

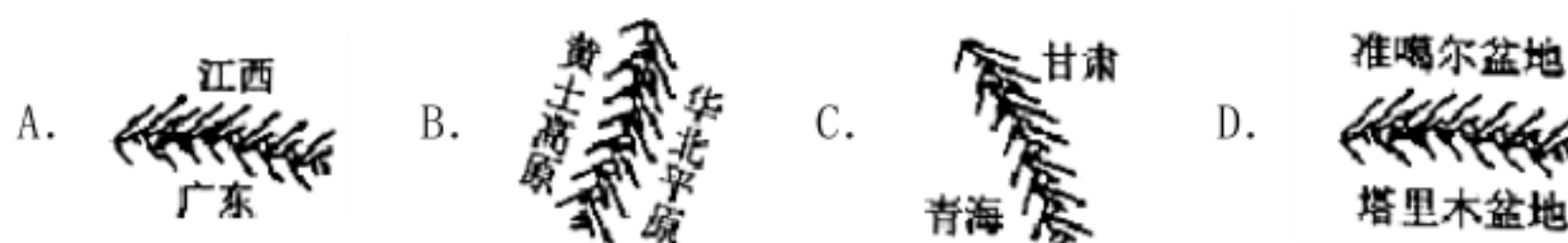
19、下列四幅地形剖面示意图，能正确表示我国地势变化的是（ ）



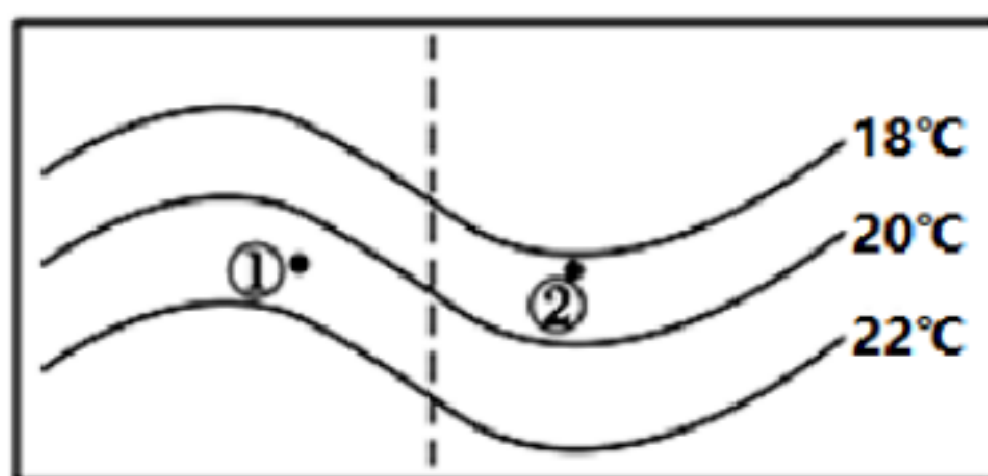
20、我国水资源“东多西少，南多北少”，解决这一问题的主要途径是（ ）

- A. 植树造林 B. 跨流域调水 C. 修建水库 D. 提高水价

21、下列山脉是太行山脉的是()



22、下图是中纬度地区某月平均气温分布略图，（①②两地纬度相同，①为陆地，②为海洋），从图中获取的信息正确的是（ ）



- A. 属于7月份，位于北半球 B. 属于7月份，位于南半球
C. 属于1月份，位于北半球 D. 属于1月份，位于南半球

23、下列商品中，最不可能从俄罗斯进口的是（ ）

- A. 石油、天然气 B. 服装、玩具 C. 木材 D. 铁矿

24、下列岛屿不属于亚洲的是（ ）

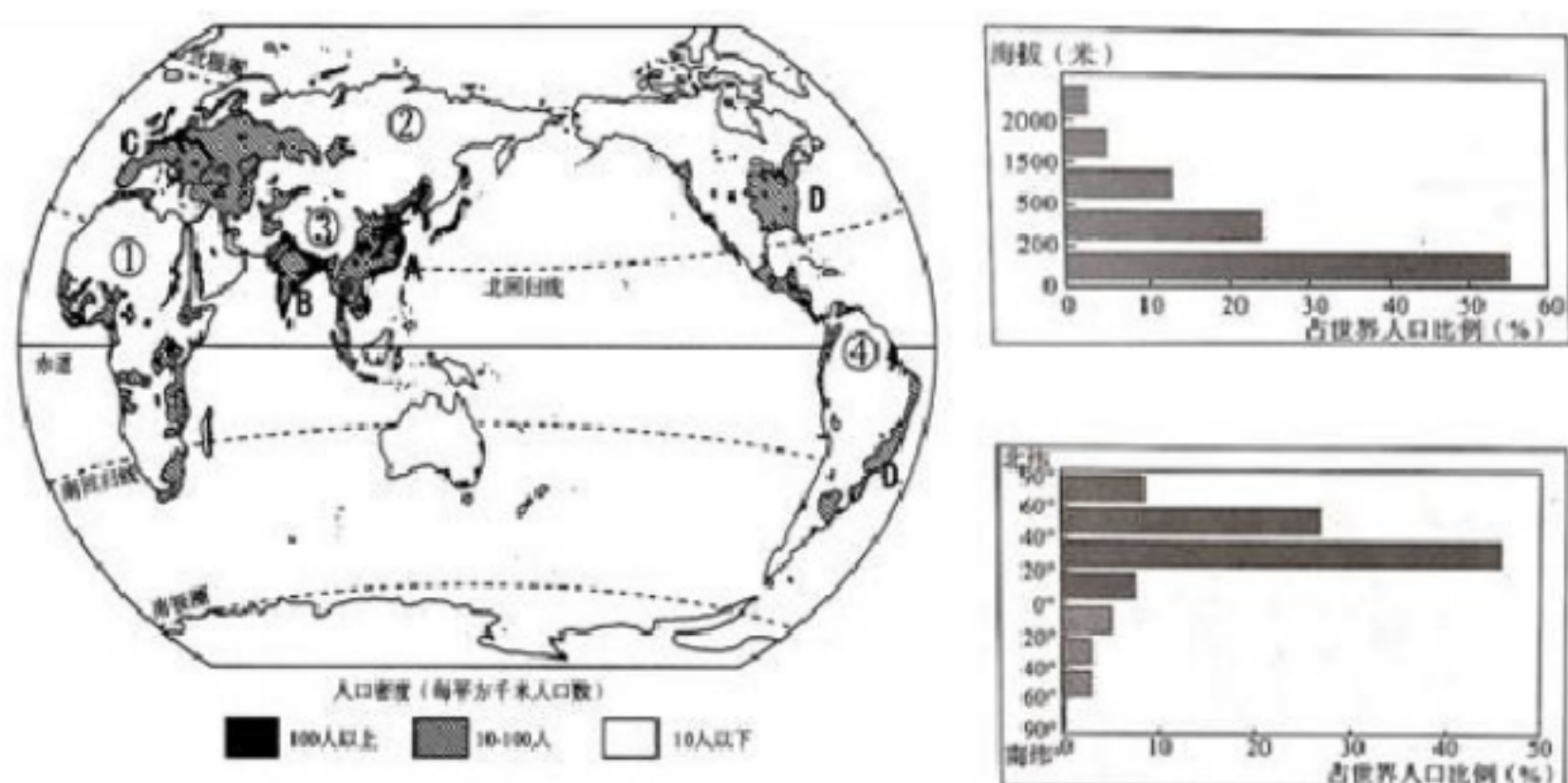
- A. 苏门答腊岛 B. 台湾岛 C. 菲律宾群岛 D. 大不列颠岛

25、旅游业是一个新的经济增长点,被人们称为（ ）

- A. 综合服务业 B. 信息服务业 C. 无烟工业 D. 无地农业

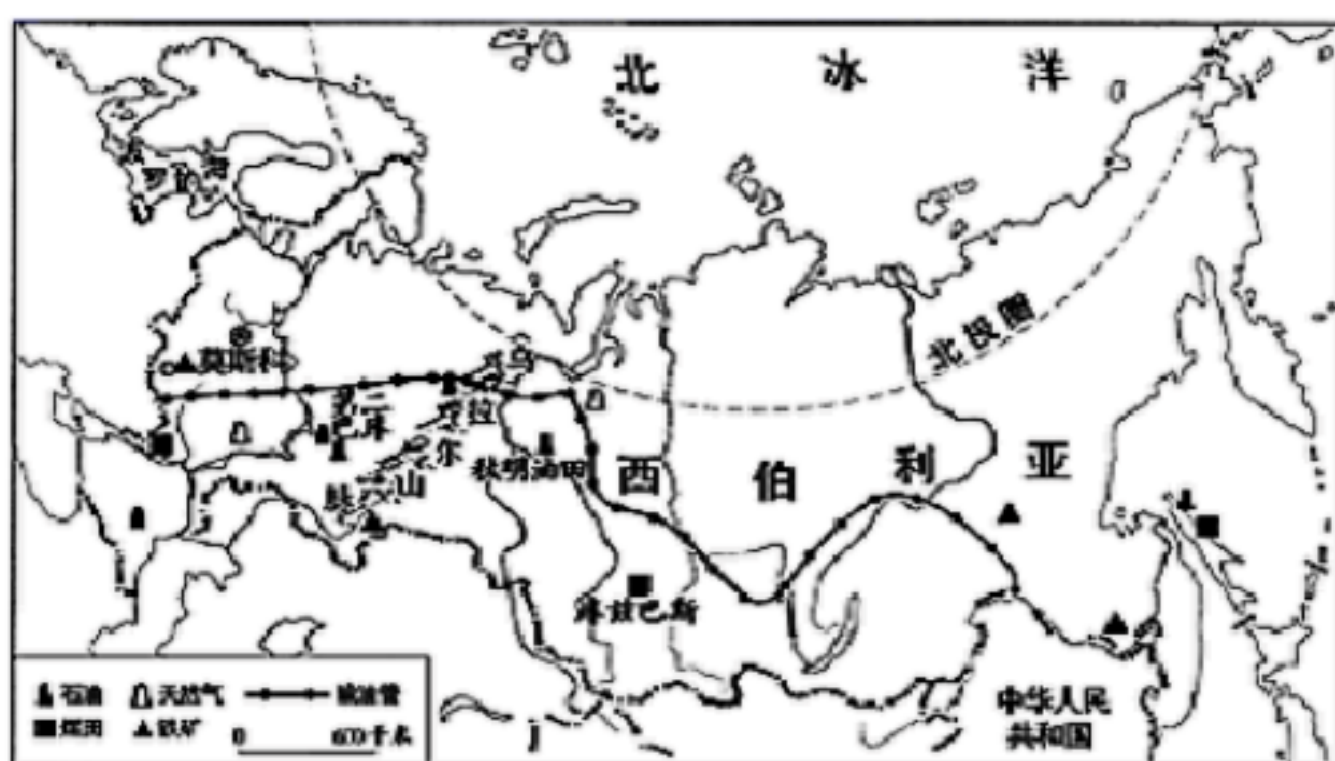
二、综合题（第1题12分,第2题10分,第3题15分,第4题13分,共50分）

1、世界人口分布不均匀,但又有一定的规律。根据下图,回答问题。



- (1) 读右上图，从地形类型来看，世界 56% 左右的人口分布在海拔 200 米以下的_____地区。
- (2) 读右下图，世界人口主要分布在_____（南/北）半球的_____（中低/中高）纬度。
- (3) 读左图，ABCD 地区为世界人口_____（稠密/稀疏）区，A 地区主要是_____人种，而 C 地区主要是_____人种。
- (4) 读左图，①②③④均为世界人口稀疏区，但人口稀少的原因不同；其中，①地区主要是因为该地区气候过于_____（干旱/湿热）；而④地区是因为该地区气候过于_____（干旱/湿热）。

2、近年来，中国加强与俄罗斯之间的经贸互补合作。2014 年 5 月，中俄签署天然气合作项目。读图，回答问题。



- (1) 俄罗斯被称为“世界加油站”，位于乌拉尔山脉以东的著名油田是_____油田。俄罗斯石油、天然气主要以_____运输方式输送至我国。

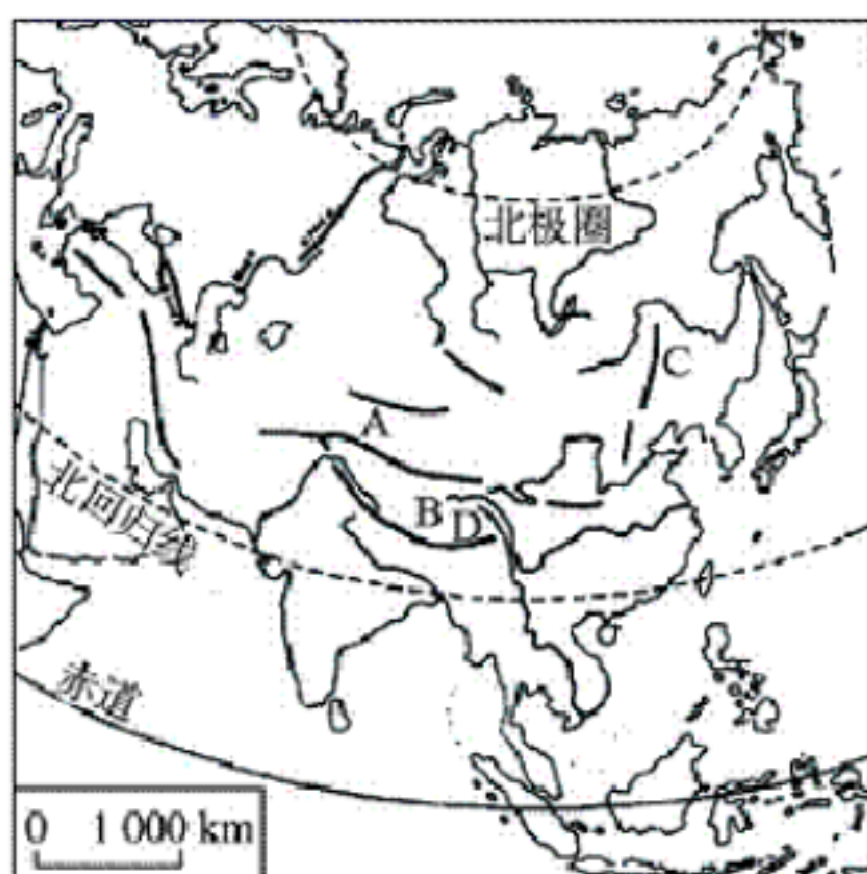
(2) 俄罗斯资源丰富，主要分布于_____（亚洲部分、欧洲部分），但工业主要分布于_____（亚洲部分/欧洲部分）。

(3) 俄罗斯_____（轻/重）工业发达。试列举一种在俄罗斯市场上备受青睐的中国商品：_____。

(4) 从自然条件方面分析，在西伯利亚地区修建输气工程需要克服的困难有：_____。

(5) 俄罗斯的农业（种植业）不发达，请利用所学知识分析俄罗斯农业（种植业）不发达的原因。_____。

3、读下图，完成下列问题。



(1) 写出下列字母所代表的地理事物名称：A_____高原，B_____高原，C_____平原。

(2) D是_____山脉，主峰是_____，是世界上最_____的山峰，号称“地球之巅”。

(3) 亚洲的山脉以_____高原为中心，向四周延伸，平原多分布在_____。

(4) 亚洲地形的三大特征：一是以_____为主，平均海拔高度居各大洲第_____位；二是_____，既有世界最高峰，也有世界陆地表面最低点_____海；三是地势_____。

4、读法国图，完成下列要求。



(1) 写出图中字母所代表的地理事物名称.

水域: A____, B____, C____; 河流: D____; 城市: E____, F____.

(2) 读图分析法国的地势特征是: ____高, ____低.

(3) 法国小麦产区主要分布在____地区, 这里属于____气候; 葡萄的主产区是____, 那里主要属____气候.

七、 跨经度最多的大洲是 ()

A. 亚洲 B. 北美洲 C. 南极洲 D. 大洋洲

参考答案

一、选择题（共 25 个小题，每题 2 分，共 50 分）

- 1、A
- 2、D
- 3、B
- 4、C
- 5、B
- 6、B
- 7、A
- 8、C
- 9、C
- 10、C
- 11、A
- 12、D
- 13、D
- 14、C
- 15、A
- 16、A
- 17、D
- 18、C
- 19、B
- 20、B
- 21、B
- 22、A
- 23、B
- 24、D
- 25、C

二、综合题（第 1 题 12 分, 第 2 题 10 分, 第 3 题 15 分, 第 4 题 13

分，共 50 分)

- 1、平原 北 中低 稠密 黄色 白色 干旱 湿热
- 2、秋明 管道 亚洲部分 欧洲部分 重 服装、鞋类、玩具、家具等生活用品 气候寒冷、冻土/缺氧等 俄罗斯纬度高，气温低，热量不足，容易发生冻害
- 3、帕米尔 青藏 东北 喜马拉雅 珠穆朗玛峰 高 帕米尔大陆周围 高原、山地 二 地面起伏大，高低悬殊 死 中部高，四周低
- 4、英吉利海峡 比斯开湾 地中海 塞纳河 马赛 巴黎 东南西北 巴黎盆地 温带海洋性 地中海沿岸 地中海
- 七、 跨经度最多的大洲是（ ）

1、C

VV99.net

免费文档下载