


题号	一	二	三	四	五	总分
得分						

一、在正确答案下面画“√”。(8分)

1、草莓60个, 苹果比它多得多, 苹果可能有多少个?

20个	65个	90个


2、  的价钱比30元少一些。一个书包多少元?

10元	29元	32元

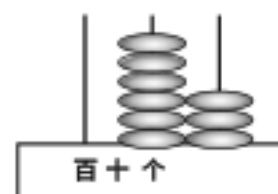
人教版一年级数学下册期中试卷及答案

二、填空。(32分)

1、看图填数。



()个十和()个一合起来是(), 读作()。



这个数是(), 里面有()个十和()个一。

2、观察下图回答问题。

★○●☆▲△□■

(1) ▲在☆的()边, ●在☆的()边。

(2) 从左往右数, ●是第()个, ▲是第()个

3、看图列式。

△△△△ ▲▲▲▲▲

△△△ ▲▲▲▲

□+□=□ □+□=□

□-□=□ □-□=□

4、在○里填上“>”、“<”或“=”。

98○89 1元2角○12角

6+8○13 16-9○6

60+8○86 8+4○16-6

5、一张50元的人民币可以换()

张10元的人民币;一张一元的人民币可以换()张2角的人民币。

6、数一数。



$$60+9= \quad 17-9= \quad 77-7=$$

$$7+9= \quad 9-7= \quad 12-7=$$

$$9+6= \quad 9+4= \quad 18-8=$$

$$16-7= \quad 8+6= \quad 17-6=$$

$$5+9-7= \quad 18-9+9= \quad 16-9-6=$$

$$8+4+6= \quad 80+4-4= \quad 93-3+9=$$

$$9元+8元= \quad 2元-5角= \quad 1元3角+7角=$$

四、看图列式。(12分)

1、 ?个



$$\square \circ \square = \square ()$$

30个

2、



$$\square \circ \square = \square ()$$

五、解决问题。(21分)

1、



3元



40元

妈妈买了一把尺子和一盏台灯, 应付多少元?

$$\square \circ \square = \square ()$$

三、计算。(27分)

$$4+70= \quad 12-9= \quad 90+5=$$

$$74-4= \quad 48-8= \quad 9+7=$$

答:应付()元

2、



还要栽多少棵树才栽完?

$\square \square \square = \square ()$

答:还要栽()棵树才栽完。

3、小亮看一本书,已经看了64页,还有8页没看完,这本书共有多少页?

$\square \square \square = \square ()$

答:这本书共有()页。

一年级数学下册期中测试试卷答案

一、在正确答案下面画“√”。

1、90; 2、29;

二、填空。

1、3, 4, 34, 三十四; 63, 6, 3; 2、(1)右, 左, (2)3, 5;

3、 $4+3=7$, $7-3=4$, $5+4=9$, $9-4=5$; 4、 $>$, $=$, $>$, $>$, $<$, $>$;

5、5, 5; 6、9, 8, 6;

三、计算。

74, 3, 95, 70, 40, 16, 69, 8, 70, 16, 2, 5, 15, 13, 10, 9, 14, 11, 7, 18

, 1, 18, 80, 99, 17元, 1元5角, 2元

四、看图列式。

1、 $11-2=9$ (个); 2、 $30+5=35$ (个);

五、解决问题。

1、 $3+40=43$ (元); 2、 $18-9=9$ (棵); 3、 $64+8=72$ (页)

VV99.net

免费文档下载