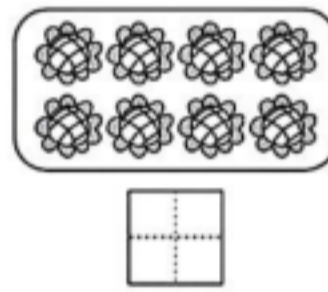


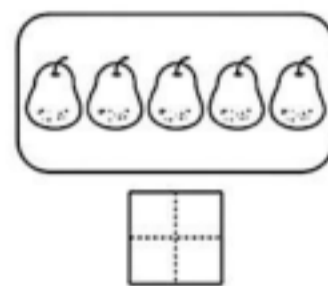
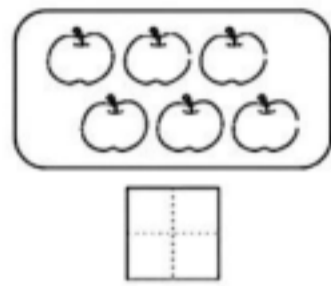
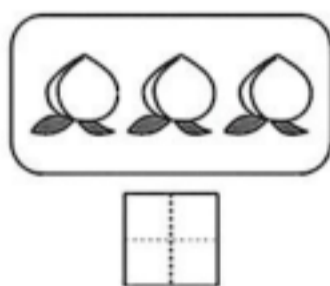


一年级上册数学期中质量达标检测卷

时间:60 分钟 总分:100 分

题号	二	三	四	五	六	七	总分
得分							

一、看图写数。(共6分)



二、填一填。(共28分)

1. 按顺序写数。

		2		4
--	--	---	--	---

	9	8		
--	---	---	--	--

2.



- 图中一共有()只小动物。
- 小猴后面有()只小动物,从右数,小兔排在第()。
- 从左数,小兔排第(),小鸭排第(),排在第3的是()。
- 把右边的3只小动物圈起来,在从左数第2只小动物的下面标上“△”。

3. 在()里填上“+”或“-”。(6分)

$7()1=6$

$3()2=1$

$2()2=4$

$6()2=4$

$5()4=1$

$4()1=3$

4. 在括号里填上合适的数。(4分)

$()-3=1$

$5-()=4$

$()+4=7$

$6+()=6$

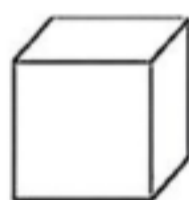

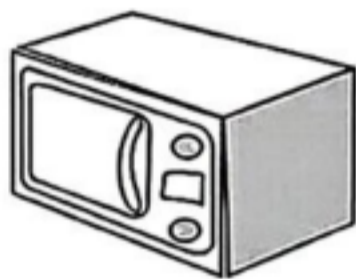
5. 在()里填上“>”“<”或“=”。(6分)

$5+0()5-0$

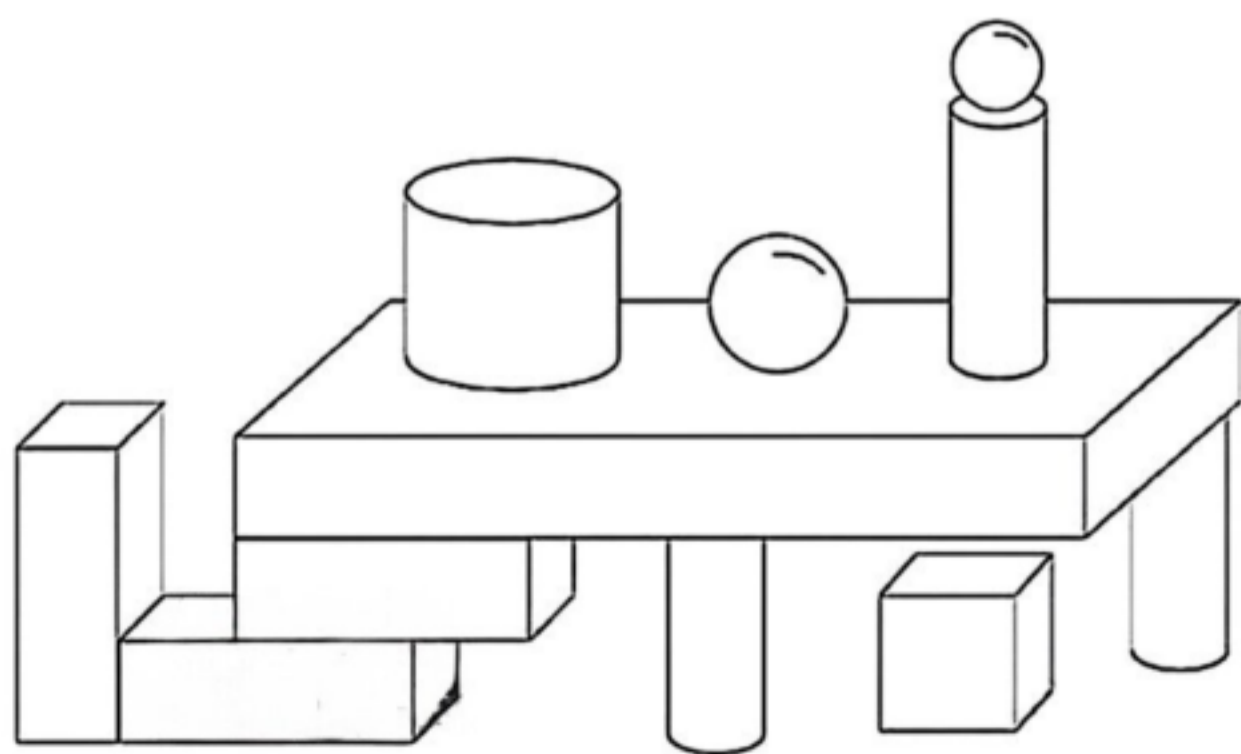
$2+3()4+3$

$4-3()4$

sān lián yì lián gòng fēn
三、连一连。(共6分)



sì shù yì shù gòng fēn
四、数一数。(共8分)



长方体()个;

正方体()个;

圆()个;

圆柱()个。

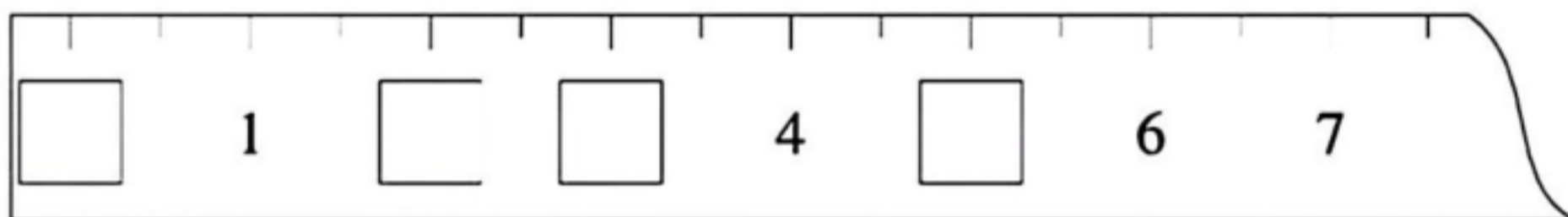
五、算一算。(共14分)

$$\begin{array}{ccccc}
 2+5= & 5+1= & 5+0= & 3+7= & 7-7= \\
 7-2= & 6-4= & 10-2= & 9-6+3= & 6+4-3= \\
 9-4+5= & 4+3+2= & 5+5+0= & 10-5-3= &
 \end{array}$$

六、画一画。(共4分)

- 画○和△同样多: △△△△△_____
- 画□比○多2个: ○○○○_____

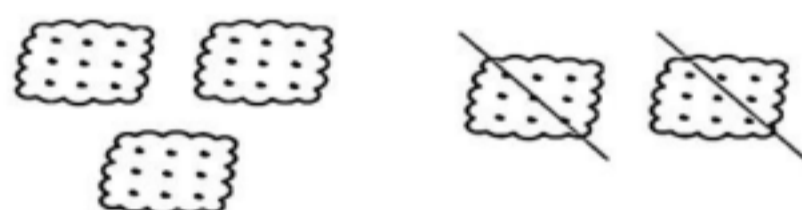
七、按顺序写数。(共4分)



八、看图列式计算。(共20分)



$$\square \bigcirc \square = \square$$



$$\square \bigcirc \square = \square$$



$$\square \bigcirc \square = \square$$



$$\square \bigcirc \square = \square$$



6 只


$$\square \bigcirc \square = \square$$



7 粒


$$\square \bigcirc \square = \square$$

3. 写出两道加法算式和两道减法算式。



$$\square \bigcirc \square = \square$$

$$\square \bigcirc \square = \square$$



$$\square \bigcirc \square = \square$$

$$\square \bigcirc \square = \square$$

jiǔ jiě jué wèn tí gòng fēn
九、解决问题。(共10分)

1. 小华要做 10 个 \triangle , 今天上午做了 3 个, 下午又做了 4 个, 他明天还要做多少个 \triangle ?

$$\square \bigcirc \square \bigcirc \square = \square (\text{个})$$

2. 车上原有 10 人, 现在车上有多少人?(5 分)



$$\square \bigcirc \square \bigcirc \square = \square (\text{人})$$

fù jiā tí gòng fēn
附加题。(共10分)

下面每一种玩具都是力力喜欢的, 可是妈妈只给了力力 10 元钱, 力力想买两种玩具。圈出力力能买哪两种玩具, 算一算还剩多少钱。



9 元



5 元



8 元



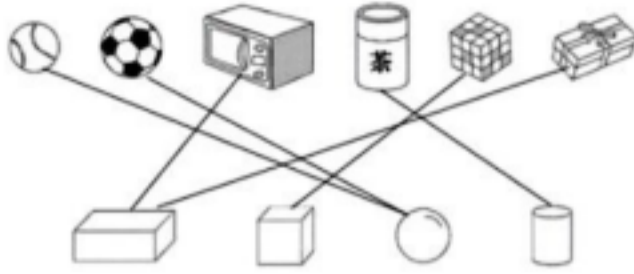
3 元

参考答案

一、3 6 5 2 7 8

二、1. 0 1 3, 10 7 6; 2. (1) 7; (2) 5 7; (3) 1 5 小马; 略;

3. - - + - - -; 4. 4 1 3 0; 5. = < <



三、

四、4 1 2 3

五、7 6 5 10 0 5 2 8 6 7 10 10 2

六、1. ○○○○○○; 2. □□□□□□

七、0 2 3 5

八、1. $4+1=5$, $5-2=3$, $3+1=4$, $5-1=4$; 2. $6-3=3$, $7-5=2$; 3. $4+3=7$, $3+4=7$, $7-3=4$, $7-4=3$

九、1. $10-3-4=3$; 2. $10-3+2=9$

附加题、圈出：羽毛球和跳绳， $10-5-3=2$

VV99.net

免费文档下载