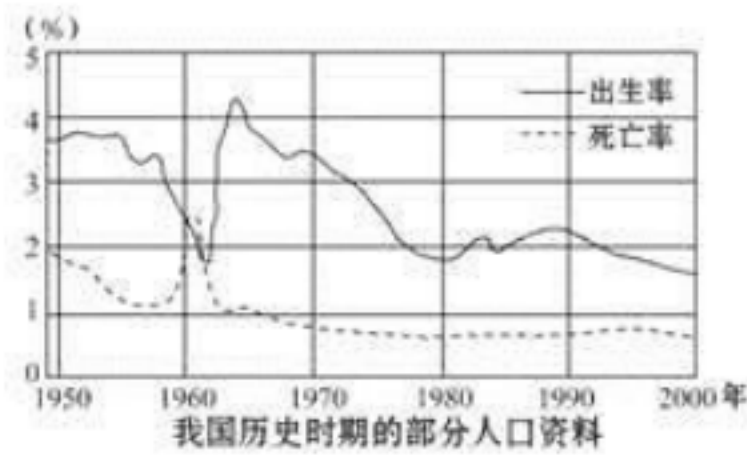


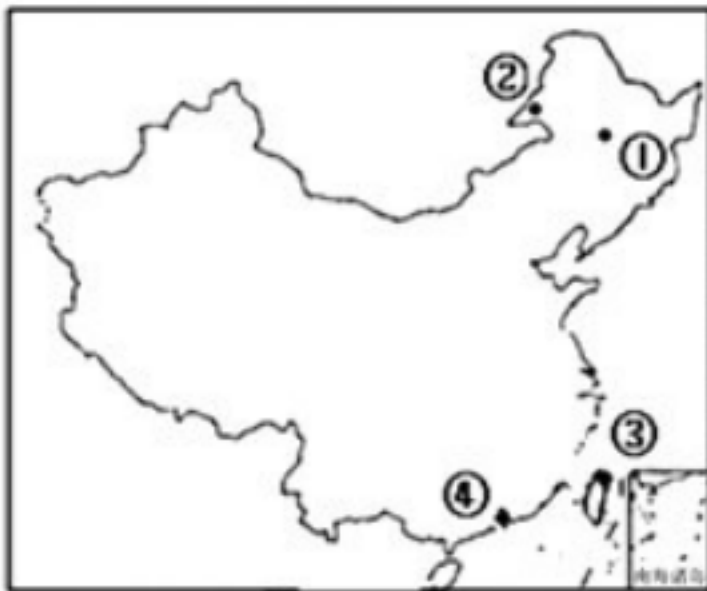
期中测试

一、单选题（共 19 小题；共 38 分）

1. 世界上最高的珠穆朗玛峰海拔 8 844 米，最低处死海的海拔为 -400 米，两地相对高度是（ ）
A. 8 444 米 B. 9 244 米 C. 12 844 米 D. 2 208 米
2. 下图是我国历史时期的部分人口资料，据图判断下列年份中自然增长率最高的是（ ）



- A. 1952 年 B. 1963 年 C. 1982 年 D. 1995 年
3. 以下海洋中属于我国内海的是（ ）
A. 东海、台湾海峡 B. 东海、琼州海峡 C. 渤海、台湾海峡 D. 渤海、琼州海峡
4. 世界上人口最多的国家是（ ）
A. 中国 B. 印度 C. 美国 D. 巴西
5. 下列地形区中人口最稀疏的是（ ）
A. 内蒙古高原 B. 华北平原 C. 四川盆地 D. 长江中下游平原
6. 据图及表格分析，关于①②③④四地的说法错误的是（ ）



地点	①	②	③	④
海拔高度/米	171	437	60.8	58.9
年均温/℃	3.6	-2.2	22.3	21.8
年均降水量/毫米	610.8	339.8	2047.5	1680

- A. ①地的年平均降水量高于②地的主要原因是靠近海洋，受地形影响较小
B. ②地的年平均气温最低与纬度高、地势高、靠近冬季风发源地有关
C. ①地的年平均降水量小于④地的主要原因是深居内陆，降水少

D. ③处在山地迎风坡，多地形雨，故年平均降水量比④多一些

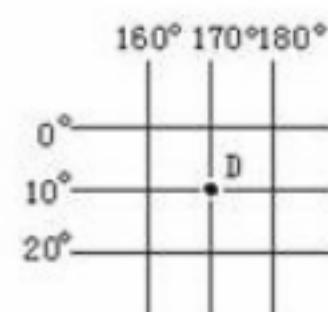
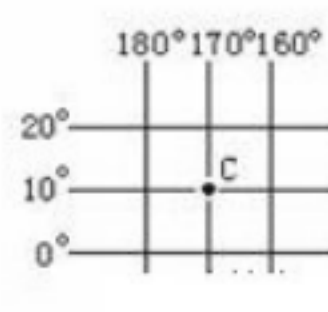
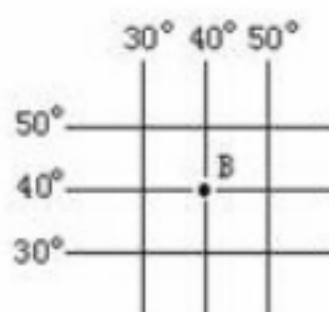
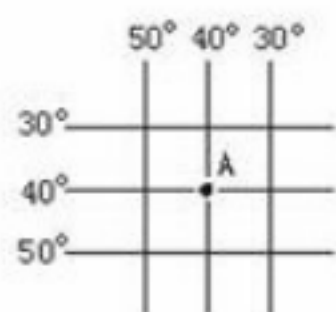
7. 在分层设色地形图中，蓝色表示的是（ ）

- A. 海洋 B. 高原 C. 山地 D. 平原

8. 想了解农作物的长势，森林火灾、台风前进路线等，适合运用（ ）

- A. 地形图 B. 地势剖面图 C. 卫星影像图 D. 交通图

9. 根据下列经纬网图，选择（ ）



- A. A 点在北半球 B. B 点是低纬度 C. C 点在西半球 D. D 点在东半球

10. 下列事例，不能证明地球是球体的是（ ）

- A. 月食的形状 B. 麦哲伦的环球航行
C. 在海边观看向远方驶去的船逐渐消失 D. 昼夜交替现象

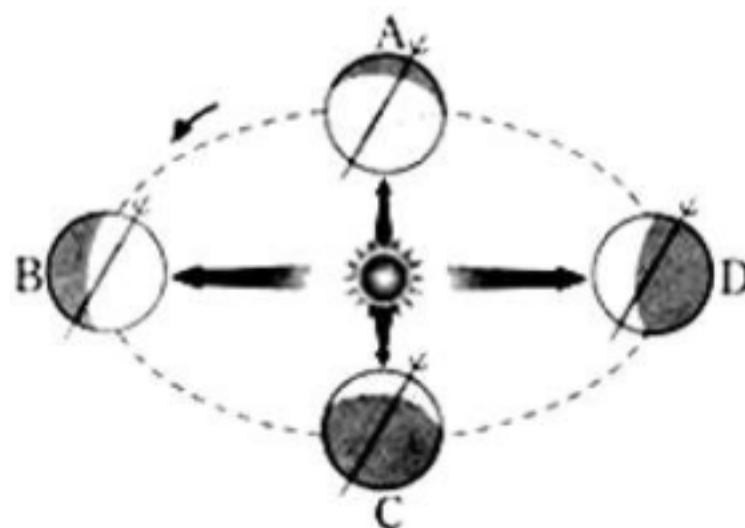
11. 绘制学校平面示意图，适合采用的比例尺是（ ）

- A. 1:1 000 B. 1:250 000 C. 1:100 000 D. 1:30

12. 最能直观的表示地势高低起伏的地图是（ ）

- A. 等高线地图 B. 地形剖面图 C. 分层设色地形图 D. 平面示意图

13. 读“地球公转示意图”回答下列问题：



地球公转示意图

当球公转到（ ）置时北半球获得太阳光最，这一为北半球的（ ）日。

地球公转 D 置时，南半球悉尼正处在（ ）季。

14. 下列有关图例的说法，正确的是（ ）

- A. 图例是地图上用来说明地理事物的文字 B. 图例是地图上表示地理事物的符号
C. 图例是地图上用来表示地理事物的数字 D. 图例是地球上地理事物的缩影

15. 与我国隔海相望的国家有（ ）

- A. 印度、文莱、菲律宾 B. 马来西亚、朝鲜、韩国
C. 日本、朝鲜、印度尼西亚 D. 文莱、菲律宾、日本

17. 北京时间 2014 年 2 月 8 日凌晨，第 22 届冬季奥运会开幕式在俄罗斯索契的菲施特奥林匹克体育场举行，并于 23 日晚在俄罗斯索契的菲施特奥林匹克体育场盛装闭幕。读俄罗斯气候分布图（如图）降水量/毫米和莫斯科与雅库茨克的气候类型图。



下列关于莫斯科和雅库茨克的气候类型的比较正确的是（ ）

- A. 莫斯科比雅库茨克的气温年较差大
- B. 雅库茨克比莫斯科的年降水量多
- C. 莫斯科比雅库茨克的气候海洋性突出
- D. 莫斯科与雅库茨克气候差异的主要影响因素是纬度位置

18. 地球上既位于西半球、又属于东经度的范围是（ ）

- A. 0° 经线向东至 160°E
- B. 0° 经线向东至 180°
- C. 160°E 向东至 180° 经线
- D. 20°W 向东至 160°E

19. 地理课上，老师经常引导我们发现一些诗句背后的地理科学道理。下列诗句能反映地球是球体的是（ ）

- A. 随风潜入夜，润物细无声
- B. 欲穷千里目，更上一层楼
- C. 黄河之水天上来，本流入海不复还
- D. 人间四月芳菲尽，三月桃花始盛开

20. 我国位于（ ）

- A. 亚洲东部
- B. 亚洲西部
- C. 亚洲南部
- D. 太平洋东岸

二、多选题（共 4 小题；共 8 分）

21. 下列图例中，表示正确的有（ ）



22. 我国人口最多和最少的省级行政区域单位是（ ）

- A. 河南
- B. 青海
- C. 广东
- D. 澳门

23. 党的十八届三中全会以来，许多省市陆续实施“单独二胎”政策。实施“单独二胎”的主要目的是（ ）

- A. 可以迅速提高人口素质
- B. 可以解决人口增长过快的问题
- C. 有利于缓解劳动力短缺的矛盾
- D. 有利于缓解人口老龄化带来的问题

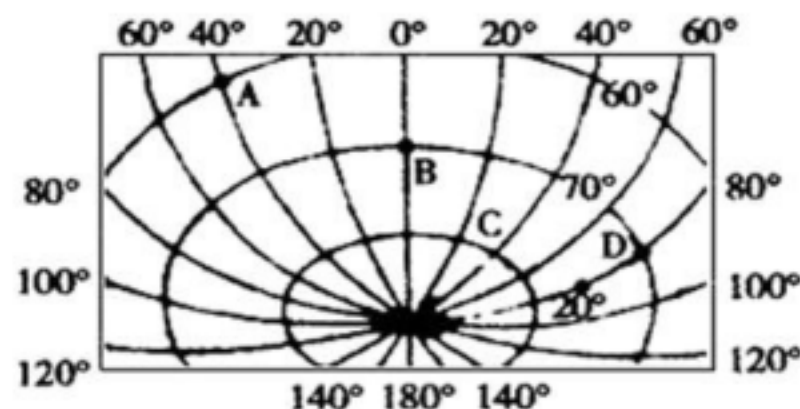
24. 有关我国领土四端点的组合中，正确的是（ ）

- A. 最北端——黑龙江与乌苏里江主航道中心线的相交处
- B. 最南端——南海南沙群岛中的曾母暗沙
- C. 最西端——新疆帕米尔高原

D. 最东端——黑龙江省漠河以北的黑龙江主航道中心线上

三、填空题（共 6 小题；共 12 分）

25. 读经纬网图，回答下列问题。



- (1) A 点的经纬度是_____；D 点的经纬度是_____。
 - (2) B 点属于东、西半球的_____半球，位于 A 点的_____方向。
 - (3) D 点位于 B 点的_____方向，A、B、C、D 位于 S 极的_____方向。
 - (4) A、B、C、D 四个点中，太阳光终年能够斜射的点有_____，有极昼和极夜的点是_____。
 - (5) A、B、C、D 四点中，春分日最先见到太阳的是_____，日落时间最晚是_____。
26. 我国的两个内海是_____、_____。三大岛屿：_____、_____、_____，三大半岛：_____、_____、_____。

27. 画出下列地理事物的图例。

长城：_____；山峰：_____；未定国界：_____；铁路：_____；首都：_____；主要城市：_____；运河：_____；水库：_____；


28. 地形剖面图可以直观地表示地面上沿某一方向地形的_____。

29. 我国是世界上海洋大国，大陆海岸线长约_____万多千米。

30. (2011·兰州) 在地球仪表面，连接南北两极并垂直于纬线的弧线，叫_____，它指示_____方向。

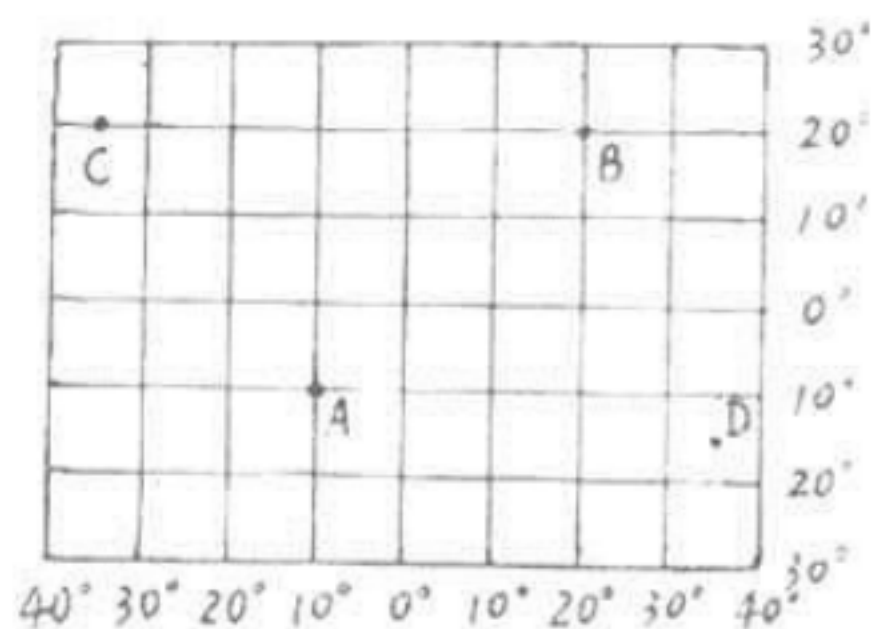
四、复合题（共 4 小题；共 40 分）

31. 第六次全国人口普查主要数据于 2011 年 4 月 28 日发布。读图“近三次人口普查总人口数”，回答下列各题。



- (1) 第六次人口普查登记的全国总人口数约为 ()
 A. 14 亿 B. 13.4 亿 C. 12.8 亿 D. 12 亿
- (2) 从 1990 年到 2010 年，我国人口增幅是 ()
 A. 快速上升 B. 逐渐上升 C. 逐渐下降 D. 基本持平

32. 阅读经纬线图，回答：



(1) 写出图中下列各点的经纬度:

A _____, _____; B _____, _____; C _____, _____。

(2) A 点在 C 点的 _____ 方向、B 点在 A 点的 _____ 方向。

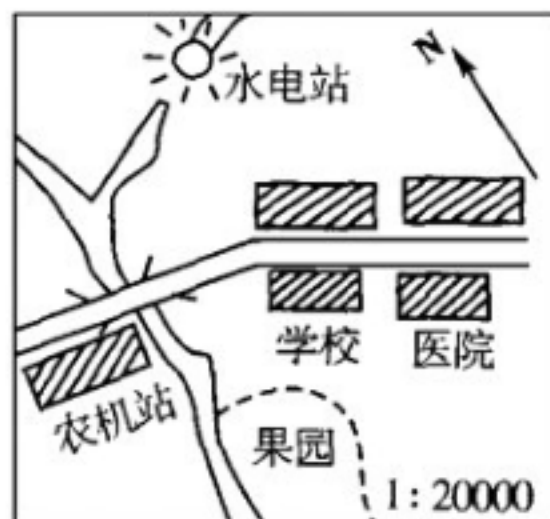
(3) B 点在 _____ (低、中、高) 纬度、B 点在 (南、北) _____ 半球、C 点在 _____ (东、西) 半球。

(4) 一个人从 B 点出发, 向正东方向行走, 在不改变方向的前提下, (能、否) _____ 回到原点。

(5) 一个人从 A 点出发、经过北极点到达 B 点, 这个人前进的方向应该是先向 _____ 后向 _____。

(6) 图中属于西半球、北半球是 _____ 点 (填图中字母)。

33. 读某区平面图, 按要求回答下列问题。



(1) 图中小河水流, 从北向南流, 请你用箭头在图上表示小河流向。

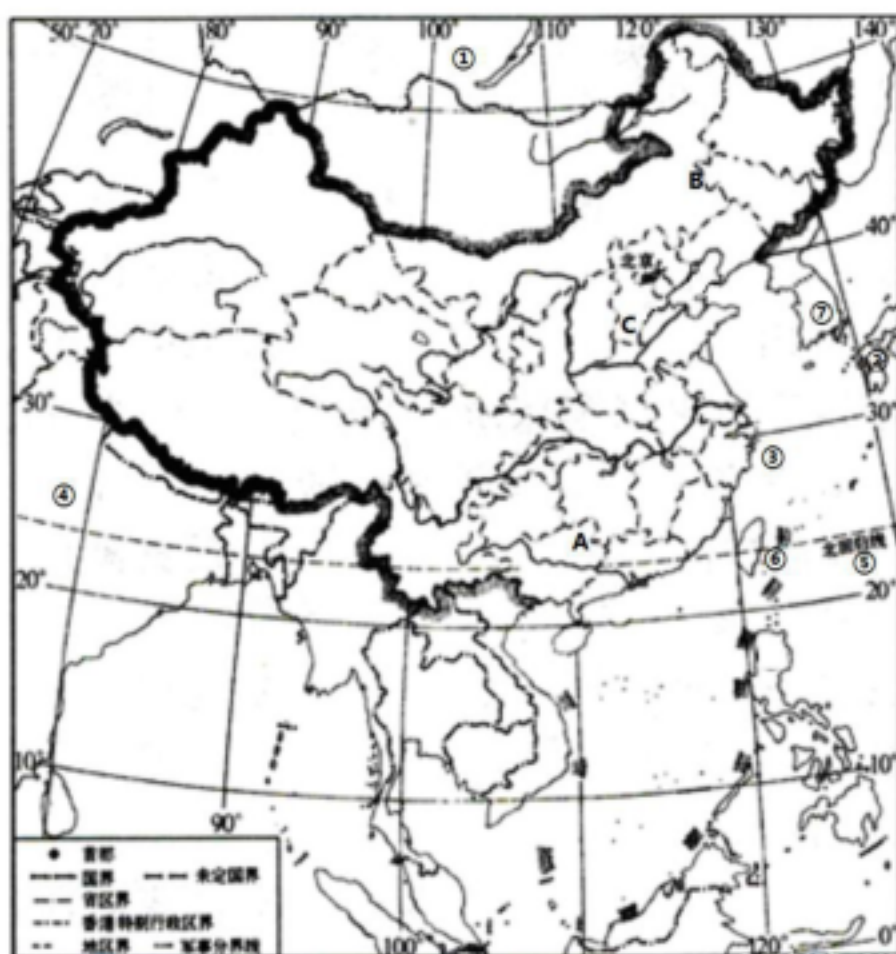
(2) 学校在水电站的 _____ 方向。

(3) 图中公路左段的方向是 _____。

(4) 如果农机站到学校的图上距离是 2.2 厘米, 则两地间的实地距离是 _____ 米。

(5) 打算在小河与公路交界处的稍靠东北方向建一小村庄, 请用 画出该村的位置。

34. 读我国的疆域及邻国图, 回答下列问题。



填出图中数码所代表的地理事物名称：

- (1) 陆上邻国：①_____④_____；
- (2) 隔海相望的国家：②_____⑦_____；
- (3) 海域：③_____；
- (4) 大洋：⑤_____；
- (5) 岛屿：⑥_____；
- (6) B 地区的气候类型是_____；C 地区属_____（干湿状况）；A 地区属_____（温度带）。

期中测试

答案解析

一、

1. 【答案】B

【解析】根据题意可知，世界上最高的珠穆朗玛峰海拔 8844 米，最低处死海的海拔为 -400 米，两地相对高度是 $8844 - (-400) = 8844 + 400 = 9244$ 米。故 B 正确。

故答案为：B。

【考点】相对高度的计算

2. 【答案】B

【解析】人口自然增长率 = 人口出生率 - 人口死亡率，通过读图分析，自然增长率最高的年份出现在 1960~1970 年，即 1963。

【考查能力】读图分析及计算

3. 【答案】D

【解析】我国是世界上重要的海洋大国，大陆海岸线长达 18 000 多千米，是世界上海岸线最长的国家之一。我国所濒临的海洋，从北到南，依次是渤海、黄海、东海和南海，它们都是太平洋的边缘部分，而台湾岛东海岸更是直接面向太平洋；我国的内海有两个：渤海和琼州海峡，故本题选 D。

4. 【答案】A

【解析】世界上人口最多的国家是中国，约占世界总人口的 1/5。故 A 符合题意。

【考点】世界上人口最多的国家

5. 【答案】A

【解析】中华人民共和国成立后，由于人民生活水平的提高和医疗卫生条件的改善，人口死亡率大幅度下降，中国人口快速增长。根据 2010 年全国第六次人口普查结果，中国总人口为 13.7 亿，约占世界人口总数的 1/5，是世界上人口最多的国家。

解：中国人口地区分布不均。一般来说，以黑龙江省的黑河—云南省的腾冲线为界，东部地区人口多（稠密），西部地区人口少（稀疏）；华北平原、长江中下游平原及四川盆地都是我国的人口稠密区，而内蒙古高原人烟稀少。

故选：A。

【考点】我国的人口分布特点

6. 【答案】C

【解析】影响降水的因素有纬度因素、地形因素和海陆因素等。

解：①地的年平均降水量小于④地的主要原因是纬度高，受夏季风的影响较小，选项 C 叙述错误，符合题意，选项 ABD 叙述正确，不符合题意。

故选：C。

【考点】影响降水的因素

7. 【答案】A

【解析】在等高线和等深线地图上，按照不同的高度和深度，着上深浅不同的褐色、黄色、绿色、蓝色、白色等颜色，以鲜明的表示地面和海底起伏的形态，这种地图叫分层设色地形图。

解：在等高线分层设色地形图上，蓝色表示海洋，绿色表示平原，黄色（橙色）表示高原，

棕褐色表示高山，白色表示雪山。在不同的等深线之间，着上深浅不同的蓝色，可以用来表示海底的深度。在不同的等高线之间，绿色越浓，表示地势越低；棕褐色越深，表示地势越高。根据题意。

故选：A。

8. 【答案】C

【解析】本题主要考查的是地图的相关知识。想了解农作物的长势，森林火灾、台风前进路线等，适合运用卫星影像图。

9. 【答案】C

【解析】由经线和纬线相互交织所构成的网络叫做经纬网，利用经纬网可以确定地球表面任何一个地点的位置。在经纬网上，经线的度数叫做经度，若相邻两条经线的经度向东增大，就是东经，用符号E表示，若相邻两条经线的经度向西增大，就是西经，用符号W表示；纬线的度数叫纬度，若相邻两条纬线的纬度向北增大，就是北纬，用符号N表示，若相邻两条纬线的纬度向南增大，就是南纬，用符号S表示。

解：读图分析可知，A点的经纬度是 40°W 、 40°S ；B点的经纬度是 40°E 、 40°N ；C点的经纬度是 170°W 、 10°N ；D点的经纬度是 170°E 、 10°S 。东西半球分界线是 20°W 和 160°E 组成的经线圈， 20°W 以东、 160°E 以西为东半球， 20°W 以西、 160°E 以东为西半球。南北半球的划分是以 0° 纬线即赤道为界，赤道以北为北半球，以南为南半球。纬度划分， $0^{\circ}\sim 30^{\circ}$ 为低纬度地区， $30^{\circ}\sim 60^{\circ}$ 为中纬度地区， $60^{\circ}\sim 90^{\circ}$ 为高纬度地区。可判定，A点在南半球，B点在中纬度，C点在西半球，D点在西半球。

故选：C。

【考点】经纬网的判读

10. 【答案】D

【解析】能证明地球形状是球体的例子很多，如离岸的船总是船身先消失，桅杆后消失、站得高，才能看得远、麦哲伦环球航行、月食、人造卫星拍摄的地球照片。

解：昼夜交替现象是地球自转造成的，选项ABC能够证明地球是一个球体。

故选：D。

【考点】证明地球是球体的依据

11. 【答案】A

【解析】比例尺是图上距离比实地距离缩小的程度；比例尺大的表示实地范围小，比例尺小的表示实地范围大；比较比例尺的大小时，先把比例尺的文字式和线段式写成统一的数字式，再进行比较，分母越大，比例尺就越小，反之比例尺越大。

解：在图幅相同的条件下，大比例尺表示的范围小，内容详细；小比例尺表示的范围大，内容简略。学校范围较小，应选择较大比例尺。比较选项中的比例尺，选项中的比例尺D太大，需较大的图幅，只有比例尺A最合适。

故选：A。

【考点】比例尺的应用

12. 【答案】B

【解析】为了更直观地表示地面上沿某一方向地势的起伏和坡度的陡缓，还得用到地形剖面图。地形剖面图是以等高线地形图为基础转绘成的，它沿等高线地形图某条线下切而显露出来的地形垂直剖面，从地形剖面图上可以直观地看出地面高底起伏。

【考点】地形剖面图的特点

13. 【答案】C

【解析】地球公转的方是西，转的周期是一年，公转产生的地理现象是：昼长短的化；季的形状。

解：从图中出，当地球公转到 B 位置时，太阳直射北归线，北半球得太阳热多，为北半球的夏至日。图中看出，当地公转到 A 位置，太阳直射赤道，为北半球的春分，时间为 3 月 21 日；当地公转到 D 位置，太阳直射南回归线，为北半球的冬至日，时间为 12 月 22 日，所以今天（3 月 12 日）地球应公转到 D 位置与 A 位置中间。

故为：B；夏至；D；A 春。

【考点】地球公转概况

14. 【答案】B

【解析】图例是地图上表示各种地理事物的符号。阅读地图要先看地图上的图例，看看各种地理事物在地图上是用哪些符号表示的。所以本题选择 B 选项。在庞大的地图家族中，各种地图所表示的内容不同，起到的作用也不同，但是都具备方向、比例尺、图例和注记等要素。

15. 【答案】D

【解析】我国的陆上国界漫长，达 2 万多千米，其中与我国隔海相望的国家有日本、韩国、菲律宾、马来西亚、文莱、印度尼西亚等国家。

解：与我国隔海相望的国家有日本、韩国、菲律宾、马来西亚、文莱、印度尼西亚等国家，故排除 A、B、C。

故选：D。

【考点】与我国隔海相望的国家

17. 【答案】C

【解析】A、从气温曲线图中可以看出：莫斯科比雅库茨克的气温年较差小，故 A 不符合题意；

B、从降水柱状图中可以看出：雅库茨克比莫斯科的年降水量少，故 B 不符合题意；

C、如图，莫斯科与雅库茨克纬度相同，而温差小、降水多，说明气候海洋性比较强，故 C 符合题意；

D、莫斯科与雅库茨克气候差异的主要影响因素是海陆因素，故 D 不符合题意。

故选：C

【考点】俄罗斯的气候特点及成因

18. 【答案】C

【解析】西半球的经度范围为 $160^{\circ}\text{E} \leftarrow 180^{\circ} \leftarrow 20^{\circ}\text{W}$ ，所以地球上既位于西半球、又属于东经度的范围是 180° 向西至 160°E ，故选 C。

19. 【答案】B

【解析】随风潜入夜，润物细无声说的是多变的天气，A 不符合题意；

欲穷千里目，更上一层楼反映了地球是球体，B 符合题意；

黄河之水天上来，奔流到海不复还说的是我国的地势特点，C 不符合题意；

人间四月芳菲尽，三月桃花始盛开反映的是山地气温的变化规律，D 不符合题意。

故答案为：B

【考点】本能反映地球是球体的现象

20. 【答案】A

【解析】我国位于东半球，亚洲东部，太平洋的西岸，故选：A。

【考点】我国的地理位置

二、

21. 【答案】AC

【解析】读图可知，A 表示河流、湖泊，B 表示等高线，C 表示长城，D 表示运河。故 AC 正确。

故答案为：AC

【考点】常用图例的识记

22. 【答案】CD

【解析】我国人口最多的省级行政区域单位是广东，最少的省级行政区域单位是澳门。故 CD 正确。

故答案为：CD

【考点】我国人口最多和最少的省级行政区域单位

23. 【答案】CD

【解析】《中共中央关于全面深化改革若干重大问题的决定》提出，坚持计划生育的基本国策，启动实施“单独二胎”政策说明我人口老龄化问题及劳动力短缺的现象已经开始凸显。只有逐步调整完善生育政策，才能促进人口长期均衡发展。根据题意，故选：CD。

【考点】我国面临的人口问题

24. 【答案】BC

【解析】我国疆域辽阔最北端在漠河以北黑龙江主航道中心（ 53°N ）；最南端在曾母暗沙（ 4°N ）；最西端在帕米尔高原（ 73°E ）；最东端在黑龙江与乌苏里江的汇合处（ 135°E ）。解：我国疆域辽阔最北端在漠河以北黑龙江主航道中心，最东端在黑龙江与乌苏里江的汇合处。

故选：BC。

【考点】我国的四至点

三、

25. 【答案】（1） 40°W ， 60°S 80°E ， 70°S

（2）东 东南

（3）正东 正北

（4）A BCD

（5）D A。

【解析】由经线和纬线相互交织所构成的网络叫做经纬网，利用经纬网可以确定地球表面任何一个地点的位置。

解：（1）在经纬网上，经线的度数叫做经度，若相邻两条经线的经度向东增大，就是东经，用符号 E 表示，若相邻由经线和纬线相互交织所构成的网络叫做经纬网，利用经纬网可以确定地球表面任何一个地点的位置。两条经线的经度向西增大，就是西经，用符号 W 表示；纬线的度数叫纬度，若相邻两条纬线的纬度向北增大，就是北纬，用符号 N 表示，若相邻两条纬线的纬度向南增大，就是南纬，用符号 S 表示，故 A 点的经纬度是（ 40°W ， 60°S ）；D 点的经纬度是（ 80°E ， 70°S ）；

（2）东西半球分界线是 20°W 和 160°E 组成的经线圈， 20°W 以东、 160°E 以西为东半球， 20°W 以西、 160°E 以东为西半球，纬线指示东西方向，经线指示南北方向，故 B 点属于东半球，位于 A 点的东南方向；

（3）D 点位于 B 点的正东方向，A、B、C、D 位于 S 极的正北方向；

（4）人们根据太阳热量在地表的分布状况，把地球表面划分为热带、北温带、南温带、北寒带和南寒带五个温度带。热带的纬度范围是 23.5°N — 23.5°S ，北温带的纬度范围是 23.5°N — 66.5°N ，北寒带的纬度范围是 66.5°N — 90°N ，南温带的纬度范围是 23.5°S — 66.5°S ，南寒带的纬度范围是 66.5°S — 90°S ；热带有阳光直射现象，寒带有极昼极夜现象，温带既无阳光直射也无极昼极夜现象，故 A、B、C、D 四个点中，太阳光终年能够斜射的点有 A，有极昼和极夜的点是 BCD；

（5）根据地球自转方向，可知 A、B、C、D 四点中，春分日最先见到太阳的是 D，日落时间最晚是 A。

26. 【答案】渤海 琼州海峡 台湾岛 海南岛 崇明岛 辽东半岛 山东半岛 雷州半岛

【解析】我国是世界上重要的海洋大国，大陆海岸线长达 1.8 万多千米，从北到南，濒临的海洋依次是渤海、黄海、东海和南海；我国岛屿众多，其中面积居前三位的依次是台湾岛、海南岛、崇明岛；我国的三大半岛是指辽东半岛、山东半岛和雷州半岛。

解：我国大陆海岸线漫长，从北到南依次濒临渤海、黄海、东海和南海，我国的两个内海是渤海和琼州海峡；我国岛屿众多，面积最大的三个岛屿是台湾岛、海南岛、崇明岛，我国的三大半岛是辽东半岛、山东半岛、雷州半岛。

故答案为：渤海；琼州海峡；台湾岛；海南岛；崇明岛；辽东半岛；山东半岛；雷州半岛。

【考点】我国的内海、岛屿、半岛名称



【解析】在庞大的地图家族中，有自然地图和社会经济地图。打开各种地图，尽管它们所表示的内容不同，却都具备方向、比例尺、图例和注记等要素。图例是集中于地图一角或一侧的地上各种符号和颜色所代表内容与指标的说明，有助于更好的认地区。

【考点】图例的认知

28. 【答案】高低、起伏和坡度的陡缓

【解析】地形剖面图是沿地表某一直线方向上的垂直剖面图，以显示剖面线上断面地势起伏状况。

解：利用地形剖面图可以更直观地表示地面上沿某一方向地形的高低、起伏和坡度的陡缓。

故答案为：高低、起伏和坡度的陡缓。

【考点】地形剖面图的特点

29. 【答案】1.8

【解析】我国大陆海岸线长达 18 000 多千米，是世界上海岸线最长的国家之一。我国疆域辽阔最北端在漠河以北黑龙江主航道中心（ 53°N ）；最南端在曾母暗沙（ 4°N ）；最西端在帕米尔高原（ 73°E ）；最东端在黑龙江与乌苏里江的汇合处（ 135°E ）。

解：我国既有辽阔的陆地国土，又有广袤的海洋国土。我国陆地面积约 960 万平方千米，大陆海岸线长 1.8 万多千米，管辖的海域面积约 300 万平方千米，是世界上的海洋大国。

故答案为：1.8。

【考点】我国的疆域

30. 【答案】经线 南北

【解析】在地球仪表面，连接南北两极并垂直于纬线的弧线叫经线，因连接南北两极，所以指示南北方向，且各条经线长度相等故答案为：经线：南北。

四、

31. 【答案】（1）B

（2）C

32. 【答案】（1） 10°W 10°S 20°E 20°N 35°W 20°N

（2）东南 东北

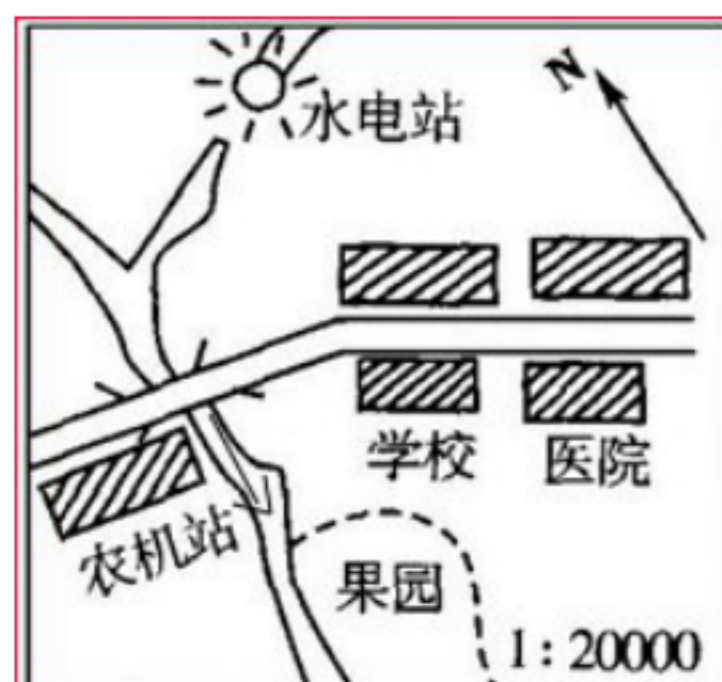
（3）低 北 西

（4）能

（5）正北 正南

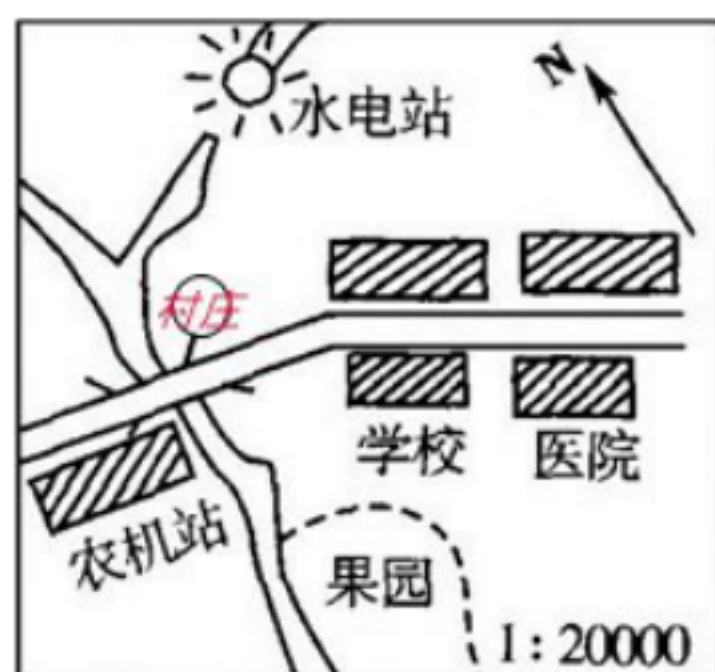
（6）C

33. 【答案】 (1)



- (2) 西南
- (3) 东南—西北
- (4) 440

(5)



34. 【答案】 (1) 俄罗斯 印度
- (2) 日本 韩国
 - (3) 东海
 - (4) 太平洋
 - (5) 台湾岛
 - (6) 温带季风气候 半湿润区 亚热带

VV99.net

免费文档下载