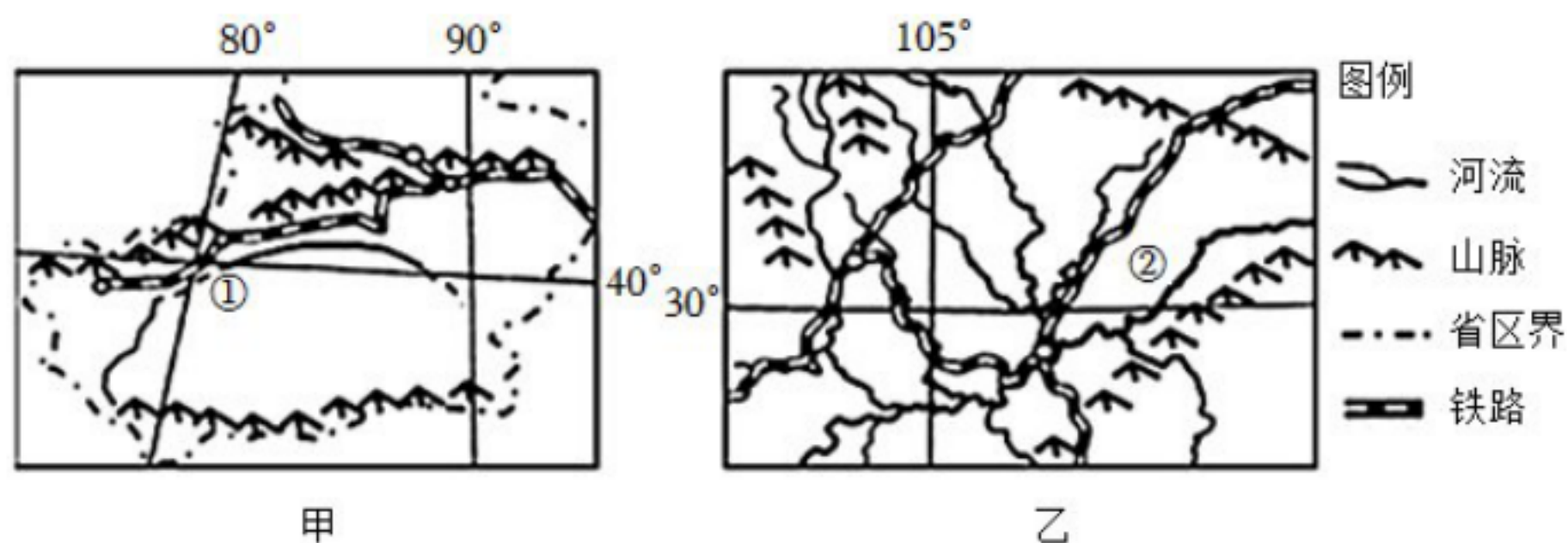


晋教版初中地理八年级下册期中测试卷

一、单选题。

1. 下面甲、乙分别为我国塔里木盆地和四川盆地。读图回答问题。关于甲、乙两盆地中河流的叙述，正确的是（ ）



- A. ①河水源主要来自高山冰雪融水
- B. ①河是我国含沙量最大的河流
- C. ②河初春有凌汛现象出现
- D. ②河的汛期短于①河的汛期
2. 黄土高原是我国水土流失严重的地区，在改善本区生态环境的同时，发展本区经济是一个重大课题下列有关黄土高原自然环境及区域发展的叙述，正确的是（ ）
- A. 黄土结构紧密，裂隙较少
- B. 年降水量大，河网密布
- C. 控制人口增长，减轻土地压力
- D. 大力发展粮、林、牧等多种经营
3. 确定南方地区和北方地区界线的主要因素是（ ）
- A. 维度因素
- B. 地势因素
- C. 季风因素

D.气候因素

4. 有学者按照自然地理特征，将中国四大地理区域即北方、南方、西北和青藏地区，分别命名为“黄色中国”、“绿色中国”、“金色中国”和“银色中国”，下列说法正确的是（ ）

- A. “黄色中国”-地势高耸，冰川广布
- B. “绿色中国”-草原广袤，牛羊成群
- C. “金色中国”-茫茫戈壁，黄沙漫漫
- D. “银色中国”-沃野千里，绿树成荫

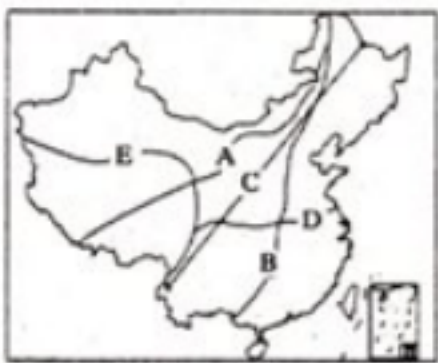
5. 下列关于如图中各地农业生产的做法，符合因地制宜和可持续发展的是（ ）



- A. ①地平原利用肥沃的黑土地种植甘蔗
- B. ②地沿海利用滩涂发展海水养殖业
- C. ③地围湖造田，扩大耕地面积
- D. ④地开垦草原，发展种植业

6. 关于如图中地理分界线的说法，正确的是（ ）

- ①A线是季风区与非季风区的分界线
- ②B线是农耕区与牧区的分界线
- ③C线是我国人口地理分界线（黑河-腾冲线）
- ④D线是河流有无结冰期的分界线
- ⑤E线是内流区域与外流区域分界线.



- A. ②③④
- B. ①③④
- C. ②③⑤
- D. ①②⑤

7. 关于四大地理区域优势能源的描述，正确的是（ ）

- A.西北地区主要是石油和水能
- B.青藏地区主要是地热能和核能
- C.北方地区主要是煤炭和石油
- D.南方地区主要是水能和太阳能


8. 下面有关我国四大地理区域人类活动的描述，正确的是（ ）

- A.南方民居屋顶坡度较小，墙体较厚
- B.西北地区水资源丰富，居民传统的交通运输方式以水运为主
- C.北方地区居民的主食以面食为主
- D.青藏地区居民四季着单薄的服装

9. 上山不见山，入村不见村，院落地下藏，窑洞土中生的景观会出现在（ ）

- A.青藏高原
- B.黄土高原
- C.南方山地
- D.蒙古高原

10. 图中山脉和河流是我国一条重要的地理分界线。有关此界线描述正确的是（ ）



- A.热带和亚热带的分界线
- B.半湿润地区与半干旱地区的分界线
- C.400mm年等降水量线经过的地方
- D.1月0℃等温线经过的地方

11. “蜀犬吠日”所反映四川盆地的自然现象是（ ）

- A.蜀道难行，有“剑门之险”
- B.温暖湿润，有“巴山夜雨”
- C.气候炎热，类似“火炉”
- D.地形封闭，“雾日”很多

12. 关于东北三省的描述不正确的是（ ）

- A.山环水绕，沃野千里
- B.地形以山地和高原为主
- C.冬季漫长严寒，夏季温暖短促，降水集中在夏季，冬季降雪较多
- D.传统民居具有墙体厚、窗户小的特点

13. 关于东北平原农业生产的叙述，正确的是（ ）

- A.农作物一年两熟
- B.机械化程度高
- C.盛产水稻、油菜、棉花等
- D.这里是“红土地”，土壤肥沃

14. 东北平原是我国著名的商品粮基地，有利的自然条件有（ ）

- ①地形平坦，黑土肥沃
- ②地多人少，商品率高
- ③机械化程度高生产效率高
- ④雨热同期，灌溉水源充足
- ⑤冬季寒冷降雪多，病虫害少，利于春季播种

- A.①③④⑤
- B.①④⑤
- C.②④⑤
- D.②③④

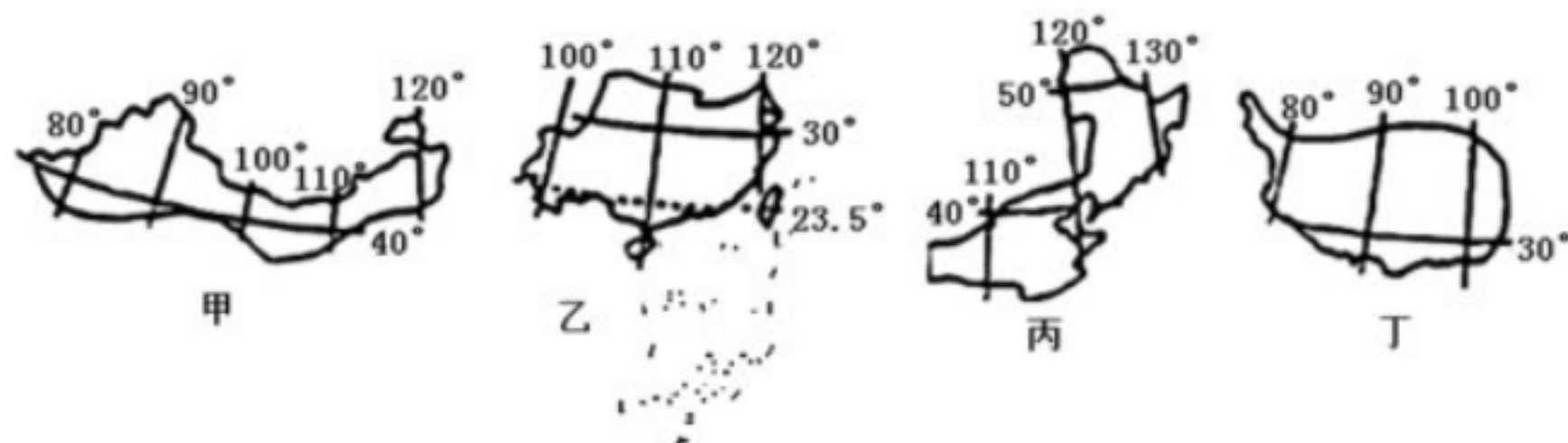
15. “蜀道难，难于上青天”。下列关于四川盆地的说法不正确的是（ ）

- A.宝成铁路是我国第一条电气化铁路
- B.成都双流国际机场是我国第四大航空港口
- C.宝成—成昆线上的枢纽城市是重庆
- D.重庆市是长江上游最大的港口

16. 受地形和气候影响，长江沿江地带自然条件表现为（ ）

- A.沟壑纵横，气候湿润
- B.河网稠密，湖泊众多，水资源丰富
- C.有大面积热带雨林，动植物物种丰富
- D.平原东西排列，各段宽窄不一，水运不便

17. 我国四大地理区域特征叙述正确的是（ ）



- A.甲是西北地区，“远看是山，近看是川”是其显著特征，牧区多见蒙古包
- B.乙是南方地区，深居内陆，气候干旱，民居屋顶坡度较小、墙体较厚
- C.丙是北方地区，以平原、高原为主，民居屋顶坡度较大、墙体较高
- D.丁是青藏地区，地势高耸，形成独特的高寒气候，城镇多见平顶碉房

18. 上海是长江三角洲城市群的核心城市，对上海的描述错误的是（ ）

- A.对长江流域乃至全国有辐射带动作用
- B.与杭州、昆山等地可以实现“同城效应”
- C.我国最大的城市

D.有“东方之珠”的美誉

19. 长江三角地区经济发展的优势条件是（ ）

- ①地处江海交汇之地
- ②联系广大的内陆地区
- ③是南北海上航运的中枢
- ④长江为其经济发展作出了重大贡献

A.①②③

B.②③

C.②③④

D.①②③④

20. 关于长江三角洲地区文化特色与旅游的叙述，正确的是（ ）

- ①长江三角洲地区旖旎的水乡风光和深厚的历史积淀，形成了独具特色的文化
- ②苏州园林是我国园林艺术的典范，其中规模最大、最著名的是拙政园
- ③长江三角洲地区的传统文化有戏曲文化、茶文化、丝绸文化和饮食文化等
- ④丰富的自然旅游资源，便捷的交通和较为完善的服务设施，促进了长江三角洲地区旅游业的发展

A.①②③

B.①②④

C.①③④

D.②③④

VV99.net

免费文档下载