

2.6 练习七

一、选一选。

1. 下列第（ ）幅图是旋转现象。



A



B



C



D

2. 生活中的旋转随处可见，下列现象属于旋转的是（ ）。

A. 苹果从树上落下

B. 坐电梯从 1 楼到 18 楼

C. 拧开自来水龙头

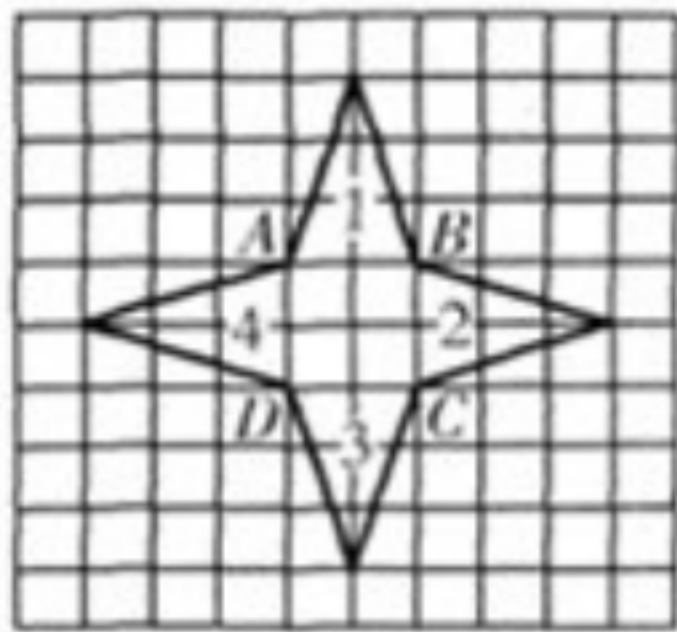
D. 在海里行驶的轮船

二、看图填空。

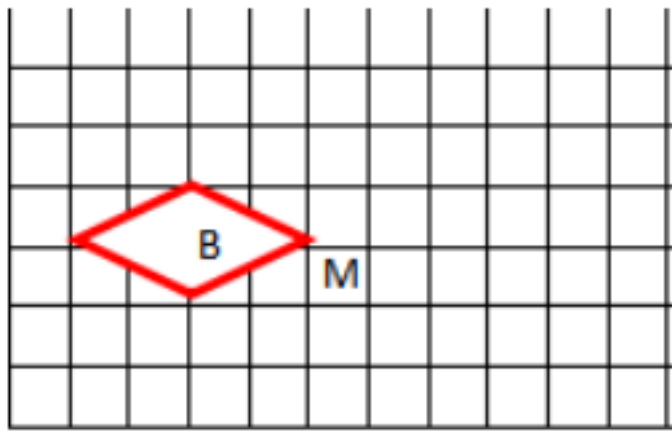
1. 图形 2 可以看作图形 1 绕点（ ）顺时针旋转（ ）°，又向（ ）平移（ ）格得到的。

2. 图形 3 可以看作图形 2 绕点（ ）顺时针旋转（ ）°，又向（ ）平移（ ）格得到的。

3. 图形 4 可以看作图形 1 绕点（ ），（ ）时针旋转（ ）°，又向（ ）平移（ ）格得到的。



三、将图 B 绕点 M 顺时针旋转 90°。

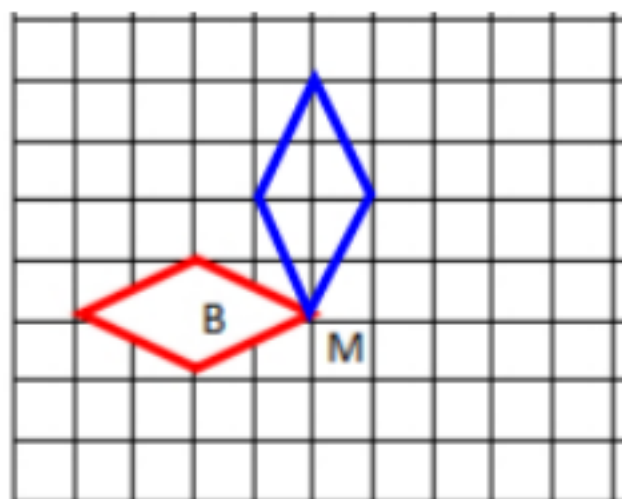


答案提示：

一、1.B 2.C

二、1.B 90° 下 2 2. C 顺时针 90° 左 2 3.A 逆
时针 90° 下 2

三、



VV99.net

免费文档下载