

一、本题共 20 个空，每空 1 分。

1. 亚洲的气候具有复杂多样、\_\_\_\_\_气候显著和\_\_\_\_\_气候分布广的特点。
2. 亚洲不同地区的不同民族，分别创造了各自的文化。有\_\_\_\_\_文化，印度河流域文化和恒河文化、\_\_\_\_\_文化，等等。
3. 东南亚地处亚洲与大洋洲、太平洋与印度洋之间的“\_\_\_\_\_”。位于马来半岛和苏门答腊岛之间的\_\_\_\_\_海峡，是连接太平洋与印度洋的重要海上通道。
4. 印度主要的粮食作物是\_\_\_\_\_和\_\_\_\_\_，二者的产量均居世界前列。
5. 俄罗斯最大的城市是\_\_\_\_\_，第二大城市和重要港口是\_\_\_\_\_。
6. 中东\_\_\_\_\_资源丰富，对世界经济的发展具有重要影响。中东\_\_\_\_\_资源匮乏，对各国的生产以至人们的生活带来很大的影响。
7. 欧洲西部的区域性组织叫做\_\_\_\_\_，国家众多。按其经济发展水平绝大部分属于\_\_\_\_\_国家。
8. 撒哈拉以南的非洲，赤道附近有著名的\_\_\_\_\_盆地、\_\_\_\_\_山。
9. 撒哈拉以南的非洲 90% 以上的居民是\_\_\_\_\_人种，所以这里有“\_\_\_\_\_”之称。
10. \_\_\_\_\_（动物）是南极的象征，\_\_\_\_\_（动物）有资格代表北极。

二、下列各题的四个选项中只有一个是正确的，请把正确答案的代号填在题后括号内。每题选对得 2 分，

11. 关于亚洲地形的叙述，正确的是……………（ ）  
A. 多高原、山地，是世界上海拔最高的大洲      B. 平原面积广大，是世界上海拔最低的大洲  
C. 中部地势高耸，四周地势较为低下      D. 高原、平原、山地自西向东纵列分布
12. 东南亚成为世界重要的热带作物生产基地之一，最主要的条件是……………（ ）  
A. 气候湿热      B. 平原广大      C. 劳动力充足      D. 土壤肥沃
13. 印度最大的麻纺织中心是……………（ ）  
A. 新德里      B. 乞拉朋齐      C. 加尔各答      D. 孟买
14. 俄罗斯最主要的气候类型是……………（ ）  
A. 温带海洋性气候      B. 温带大陆性气候      C. 温带季风气候      D. 地中海气候
15. 伊斯兰教、基督教和犹太教都看作圣城的地方是……………（ ）  
A. 耶路撒冷      B. 麦加      C. 麦地那      D. 德黑兰
16. 在撒哈拉以南的非洲，各国普遍遇到的问题是……………（ ）  
A. 能源供应不足      B. 粮食供应不足      C. 油料供应不足      D. 肉类供应不足

17. 目前, 澳大利亚的经济支柱是…………… ( )
- A. 农牧业                  B. 工矿业                  C. 服务业                  D. 交通运输业
18. 澳大利亚的人口和城市主要分布在…………… ( )
- A. 东南沿海地区      B. 西南沿海地区      C. 中部大平原地区      D. 东北沿海地区
19. 世界上面积最大的淡水湖是…………… ( )
- A. 贝加尔湖                  B. 里海                  C. 密歇根湖                  D. 苏必利尔湖
20. 20 世纪 90 年代以来, 美国的经济增长主要得益于…………… ( )
- A. 交通运输业的蓬勃发展                  B. 高新技术产业的蓬勃发展
- C. 煤炭资源的大量开采                  D. 石油资源的大量开采

三、下列各题的四个选项中只有两个是正确的, 请把正确答案的代号填在题后括号内。

21. 下列叙述正确的是…………… ( )
- A. 世界上面积最大的大洲是亚洲      B. 世界上跨纬度最广的大洲是南极洲
- C. 亚洲与北美洲的界线是白令海峡      D. 亚洲南部濒临太平洋
22. 关于亚洲人文环境的叙述, 正确的是…………… ( )
- A. 亚洲没有发达国家                  B. 亚洲经济发展不平衡
- C. 亚洲有 6 个国家人口超过 1 亿      D. 亚洲各国工业基础一般比较好
23. 关于水稻和水稻生产的叙述, 正确的是…………… ( )
- A. 水稻的单位面积产量低                  B. 水稻生产需要劳动力少
- C. 水稻生产需要投入大量的劳动力      D. 水稻生产需要高温多雨的气候
24. 下列东南亚旅游胜地与其所在国组合, 正确的是…………… ( )
- A. 水上市场—越南                  B. 吴哥窟—柬埔寨
- C. 婆罗浮屠—印度尼西亚                  D. 下龙湾—缅甸
25. 关于印度的叙述, 正确的是…………… ( )
- A. 印度以热带季风气候为主                  B. 印度是亚洲面积最大的国家
- C. 印度年降水量极不稳定                  D. 目前, 印度的粮食不能自给
26. 关于俄罗斯的叙述, 正确的是…………… ( )
- A. 大部分地区地形比较崎岖                  B. 冬季长而寒冷, 夏季短而温暖
- C. 资源不能自给                  D. 自然资源种类齐全, 储量丰富
27. 关于欧洲西部的叙述, 正确的是…………… ( )
- A. 大量出口原料、燃料                  B. 工业以制造业为主

- C. 旅游资源丰富

D. 英国种植业产值高于畜牧业
28. 澳大利亚特有的动物有..... ( )
 

A. 树懒、犰狳

B. 袋鼠、鸸鹋

C. 巨嘴鸟、大食蚁兽

D. 鸭嘴兽、考拉
29. 关于美国的叙述，正确的是..... ( )
 

A. 是世界热带作物的最大生产国

B. 是世界上最大的资源消耗国

C. 种植业发展迅速

D. 是世界最大的废物排放国
30. 关于北极地区和南极地区的比较，正确的是..... ( )
 

A. 南极地区比北极地区寒冷

B. 南极地区比北极地区降水多

C. 北极地区比南极地区降水多

D. 北极地区比南极地区风速大

四、31. 读“日本主要工业区的分布”图，回答问题。

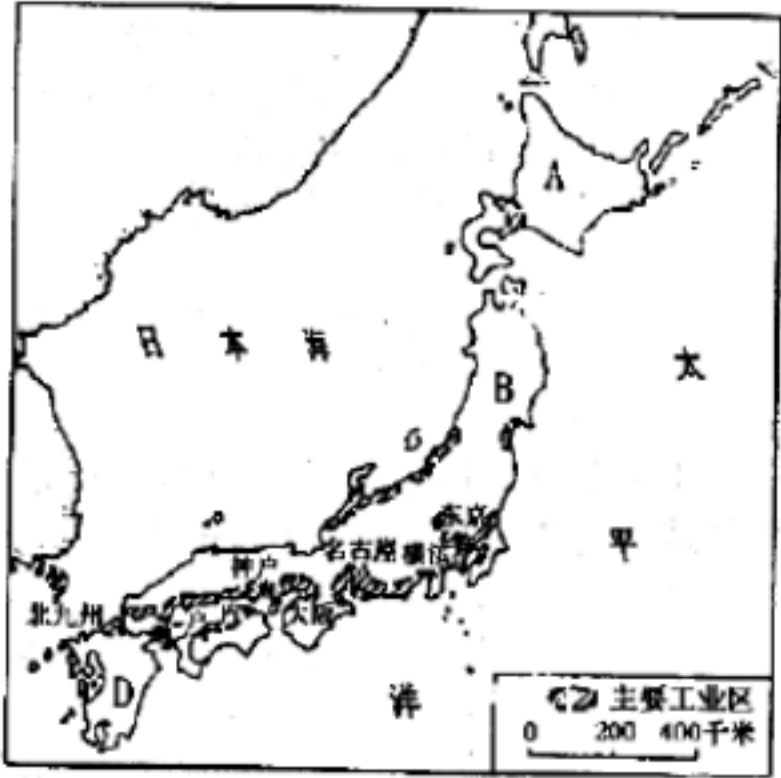
(10 分)

(1) 填出图中字母代表的岛屿名称：

A \_\_\_\_\_ 岛    B \_\_\_\_\_ 岛  
C \_\_\_\_\_ 岛    D \_\_\_\_\_ 岛

(2) 日本工业主要分布在\_\_\_\_\_沿岸和  
沿岸的狭长地带。

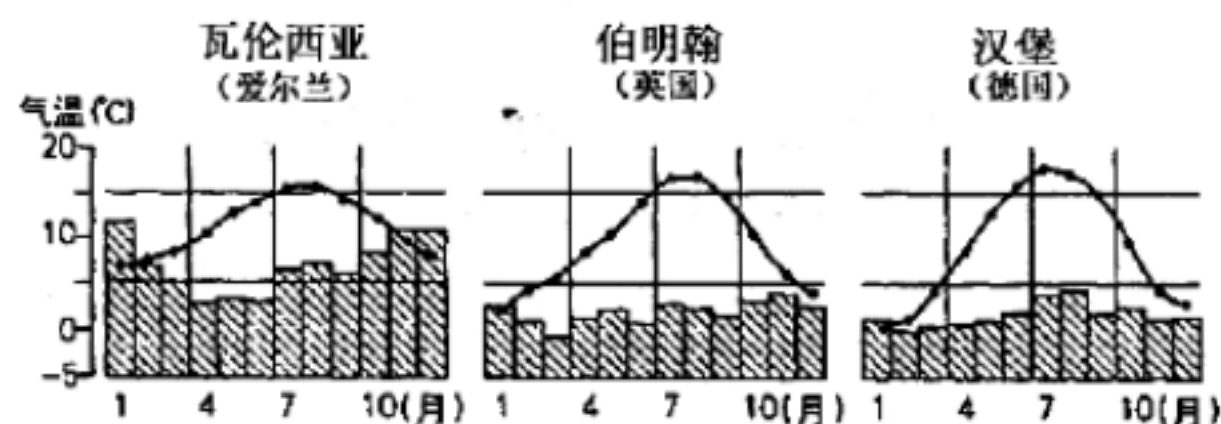
(3) 日本依靠\_\_\_\_\_和充足的\_\_\_\_\_资源，对  
进口\_\_\_\_\_进行加工，制成工业品大量出口，形成了以\_\_\_\_\_为主的经济。



32. 填出下列首都城市邻近大河的名称和所在国家的名称。(10 分)

首都	邻近河流名称	所在国家
①河内		
②金边		
③万象		
④曼谷		
⑤仰光		

33. 读欧洲西部三地各月气温与降水量分配图，回答问题。(10)



- (1) 三地所属气候类型是\_\_\_\_\_气候，这种气候分布在温带大陆\_\_\_\_\_ (西部、中部、东部)。
- (2) 这种气候类型的特点是\_\_\_\_\_。
- (3) 三地年降水量由多到少排列依次是\_\_\_\_\_，气温年较差由大到小的排列次序依次是\_\_\_\_\_。这些气候差异产生的原因是\_\_\_\_\_。
- (4) 这种气候类型对畜牧业的影响是\_\_\_\_\_。

34. 读巴西略图，回答问题。(10 分)

(1) 填出图中字母代表的地形区名称：

A \_\_\_\_\_ 平原

B \_\_\_\_\_ 高原

(2) 填出图中序号代表的城市名称：

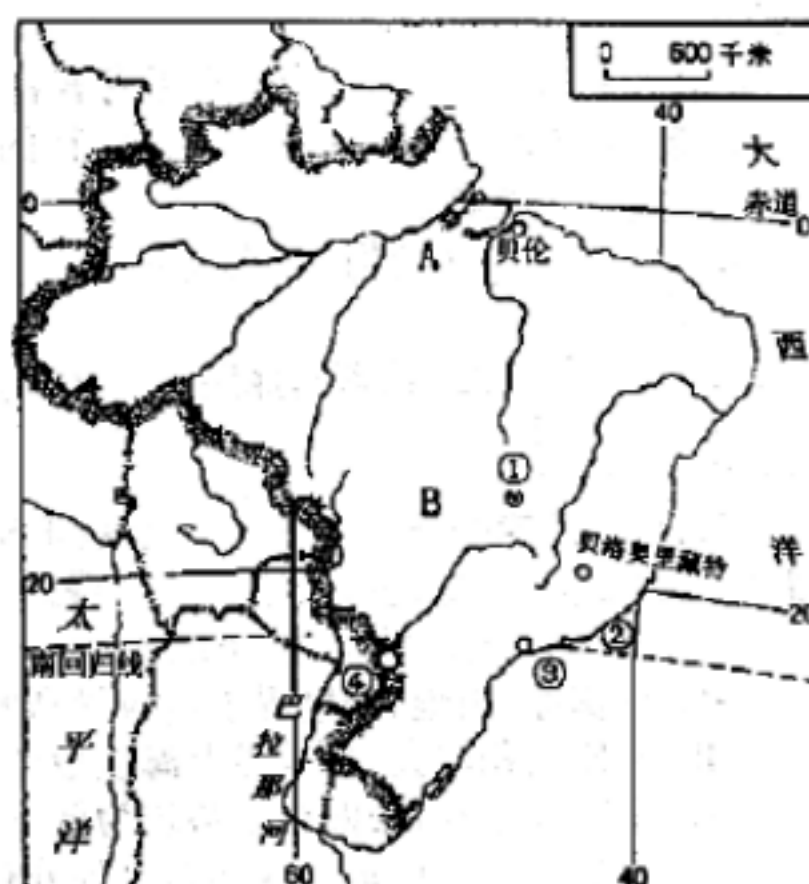
① \_\_\_\_\_

② \_\_\_\_\_

③ \_\_\_\_\_

(3) 序号代表的水电站是\_\_\_\_\_水电站，该水电站位于\_\_\_\_\_河上，是巴西和\_\_\_\_\_ (国家) 合资建设的。

(4) 巴西的铁矿石主要分布在\_\_\_\_\_部，其中\_\_\_\_\_露天矿是其最大的铁矿山。



---

答案:

一、填空题(共 20 分) 本题共 20 个空, 每空 1 分。

1、季风 大陆性 2、华夏 阿拉伯 3、十字路口 马六甲 4、水稻 小麦 5、莫斯科 圣彼德堡  
6、石油 水 7、欧盟 发达 8、刚果 乞力马扎罗 9、黑色 黑非洲 10、企鹅 北极熊

二、单项选择题(20 分)

本题共 10 个小题, 每题选对给 2 分, 不选、多选、错选均不给分。

11——15 CACBA 16——20 BCADB

三、双项选择题(20 分)

本题共 10 个小题, 每题选对给 2 分, 不选、少选、多选、错选均不给分

21——25 AC BC CD BC AC

26——30 BD BC BD BD AC

四、读图、填图题(40 分)

31、(10 分)

(1)北海道 本州 四国 九州 (4 分) (2)太平洋 濑户内海 (2 分) (3)科学技术 劳动力 原料 加工  
贸易 (4 分)

32、(10 分)

①红河 越南 ②湄公河 柬埔寨 ③湄公河 老挝 ④湄南河 泰国 ⑤伊洛瓦底江缅甸

33、(10 分)

(1)温带海洋性 西部 (2) 冬季温和, 夏季凉爽, 全年降水均匀 (3 分) (3)瓦伦西亚 伯明翰 汉堡 (1  
分) 汉堡 伯明翰 瓦伦西亚 (1 分) 距海远近不同 (1 分) (4)有利于牧草生长, 为牲畜提供丰富的食  
物 (2 分)

34、(10 分)

(1)亚马孙 巴西 (2)巴西利亚 里约热内卢 圣保罗 (3)伊泰普 巴拉那 巴拉圭  
(4)东南 伊塔比拉

# VV99.net

免费文档下载