

25年秋新版一年级上册数学人教版综合素养评价 (第三单元测试卷)

时间: 40分钟 满分: 100分

wǒ huì xuǎn

一、我会选。(把正确答案的序号填在括号里)(每题2分,共12分)

1. [新情境·传统文化](如右图)竹笛是我国

最古老的乐器之一,它的形状是()。

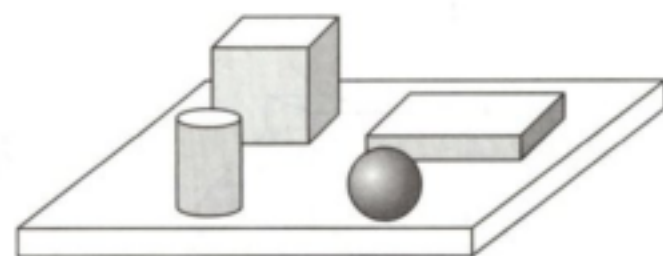


①圆柱

②球

③长方体

2. 最容易滚下来的图形是()。



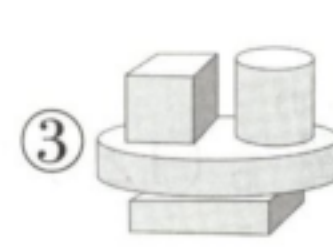
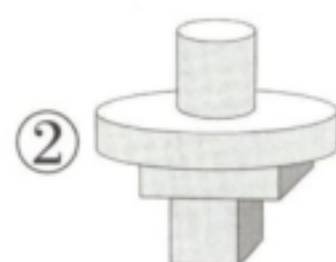
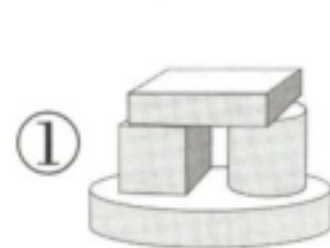
3. 给 的每个面都涂上不同的颜色,至少需要()种不同的颜色。

①3

②4

③6

4. 下面图形中,搭得最高的是()。



5. 至少要再放()个 才能拼成一个大正方体。

①3

②4

③5

6. 用4个相同的 可以拼成一个()。

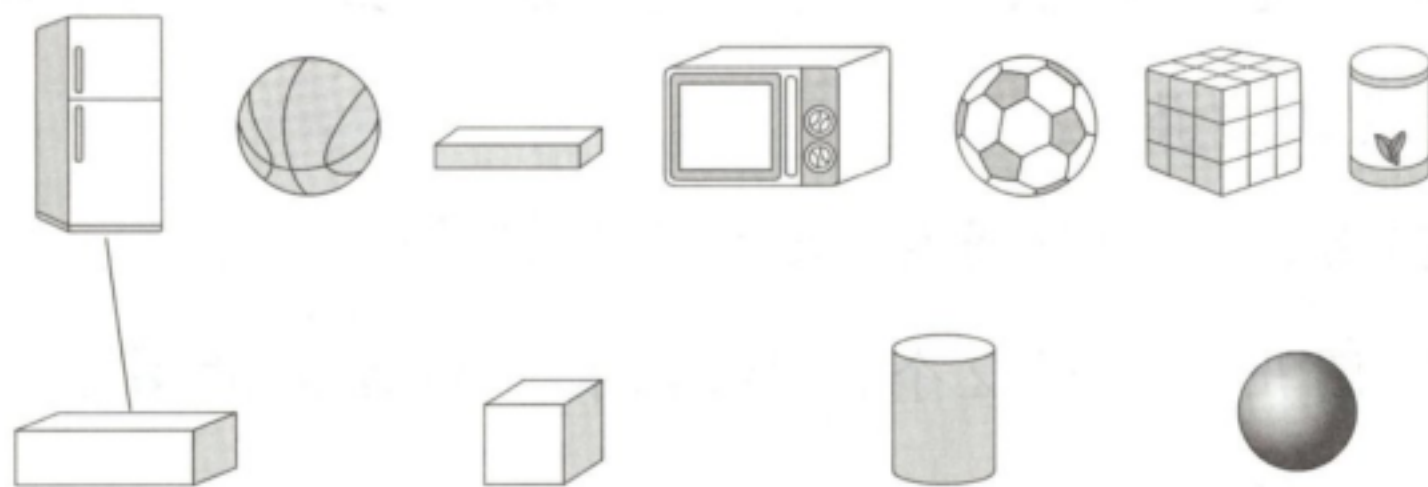
①正方体

②长方体

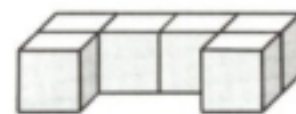
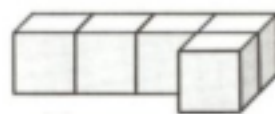
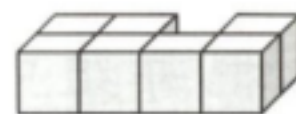
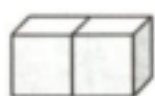
③圆柱

二、我会连。(共20分)

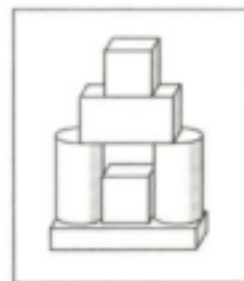
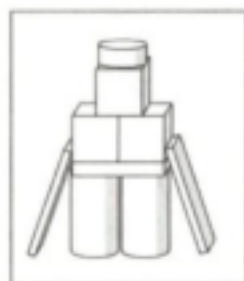
1. 照样子连一连。(6分)



2. [教材改编]哪两堆可以拼成 ? 连一连。(8分)



3. [新趋势·乐考活动]“我会搭”需要学生抽组合图形来拼搭，他们分别要选哪一组材料呢?(连一连)(6分)



三、认图形，数一数，填一填。(除标示外，每空2分，共20分)

1.



正方体有()个,圆柱有()个,

长方体有()个,球有()个。

2.



(1) 从左边数,第()个是长方体,第()个和第()个是正方体。

(2) 有()个圆柱,长方体在球的()边。

(3) 圈出右边的2个图形,在长方体左边的第2个图形下面画△。(2分)

cāo zuò tí

四、操作题。(共20分)

1. 把每组中形状不同的物体圈起来。(2分)




2. 能搭稳的画“√”。(4分)



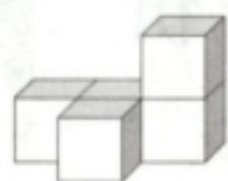
3. [新趋势·乐考活动]“箱中探宝”需要按照老师的要求依次从箱子里取出立体图形并进行拼搭。谁能通关?画“√”。(2分)



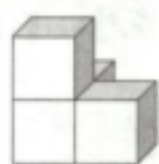
先取出一个长方体,接着取出一个正方体放到长方体的左边,接着取出一个圆柱,把圆柱摆在长方体的上面。



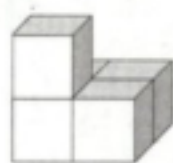
4. 数一数下面的图形各由几个正方体组成。(12分)



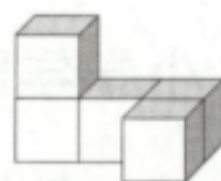
()个



()个




()个



()个

五、下图是小超用彩泥做的小熊模型，请看图填一

填。(每空2分，共16分)



1. 有()个, 有()个, 有

()个, 有()个。

2. “小熊”的头部由()个球组成, “小

熊”的脚的形状是()。

3. 和 一共有()个。

4. 比 少()个。

六、[新趋势·思维探究] 横线上应该摆哪个图形? 圈

一圈。(12分)

1. ① ②

①()

②()

2. ① ②

①()

②()

第三单元综合素养评价

一、1. ① 2. ③ 3. ③ 4. ②

5. ②

6. ②

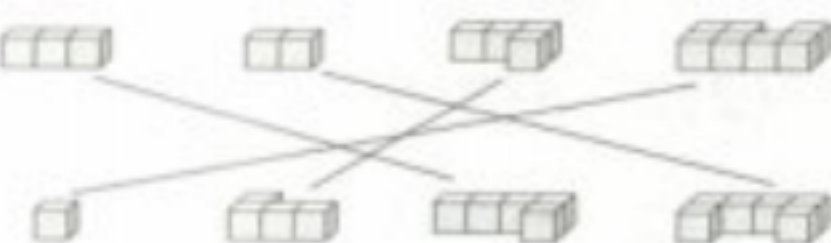
解析:可以用4个相同的小正方体拼一拼,发现只能拼出下面两种不同的长方体。



二、1.



2.



3.



三、1. 2 6 3 4

2. (1) 4 1 5

(2) 3 右



四、1. (1)

(2)

2. (√)()()(√)

3. ()(√)()()

4. 5 4 5 5

五、1. 3 2 3 5

2. 3 正方体 3. 5 4. 2

六、1. ① ②

2. ① ②

VV99.net

免费文档下载