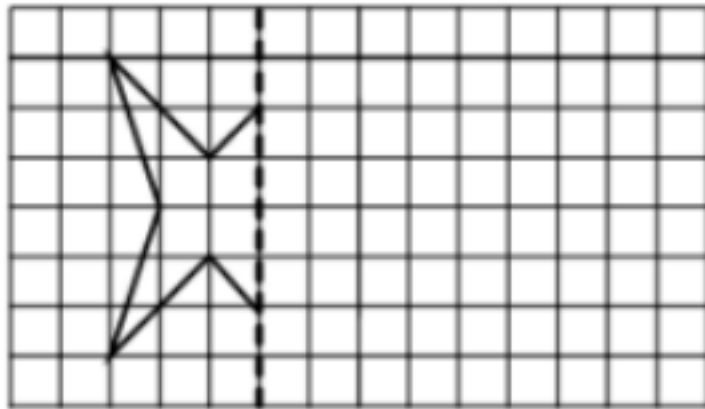


2.9 练习八

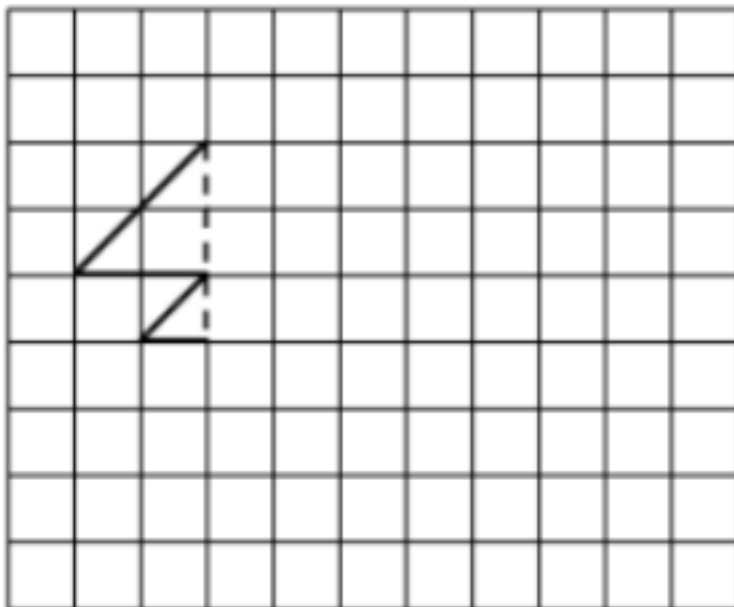
一、填空。

- 1.圆的对称轴有（ ）条，半圆的对称轴有（ ）条。
- 2.在轴对称图形中，对称轴两侧的相对的点到对称轴的距离（ ）。
- 3.（ ）三角形有三条对称轴，（ ）三角形有一条对称轴。

二、按对称轴画出下面图形的另一半。



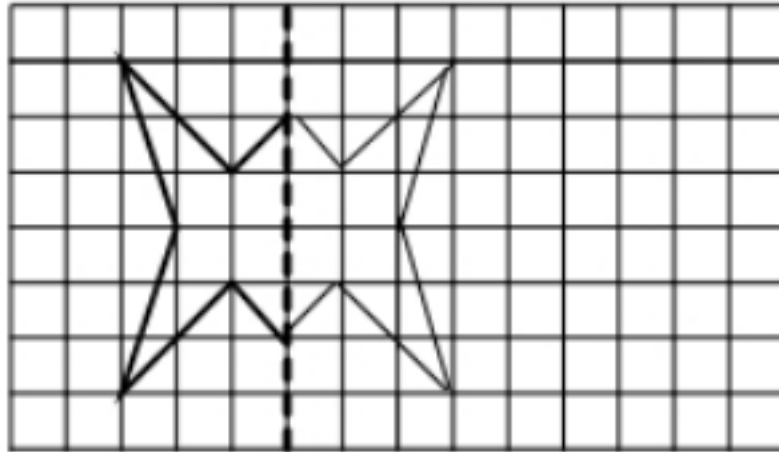
三、画出下面图形的另一半，使之成为轴对称图形，然后将得到的图形向右平移 5 格。



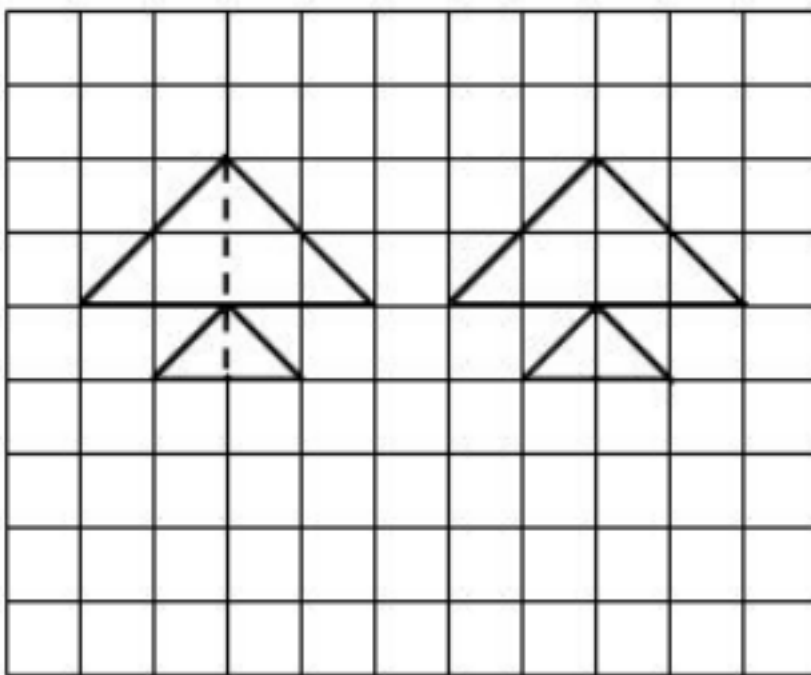
答案提示：

一、1.无数 1 2. 相等 3.等边 等腰

二、



三、



VV99.net

免费文档下载