

2021学年一年级上册数学期末试卷

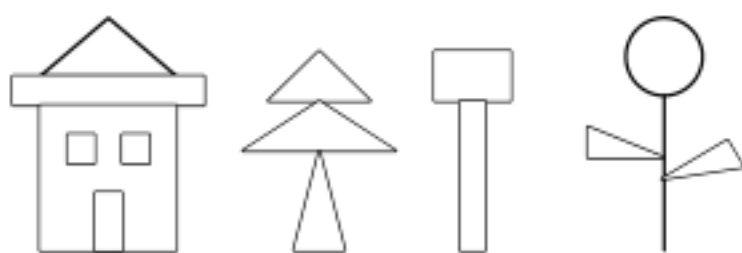
时间：90 分钟 满分：100 分

题号	一	二	三	四	五	六	总分
得分							

一、 填空：(每空 2 分，共 46 分)

- 20 个一是 (), 2 个十是 ()。
- 1 个十和 7 个一组成的数是 ()。
- 19 里面有 1 个 () 和 9 个 ()。
- () (19) () () (16) ();
() () (9) () () (0)。
- 下图中长方形有 () 个; 正方形有 () 个; 三角形有 ()

个; 圆形有 () 个。

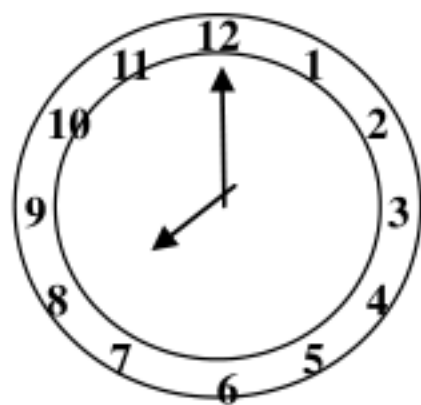


6、

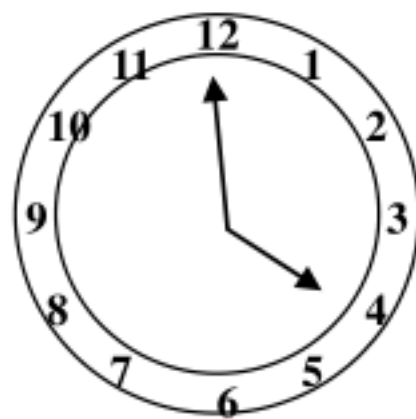


从左数起, 是第 () 个珠子。

7、



(:)



(:)

二、 计算：(24 分)

8+7= 8-6= 6+10= 9+4= 7+5= 8+5=

$$\begin{array}{cccccc}
 2+8= & 9+6= & 7-3= & 9+9= & 4+8= & 10+5= \\
 10-6= & 9-7= & 5+8= & 9-4= & 11-10= & 4+5= \\
 7-7= & 6+9= & 9+3= & 14-4= & 9+8= & 2+8=
 \end{array}$$

三、我是小画家：(每空 2 分，共 10 分)

1、

十位	个位	十位	个位	十位	个位

1 8
2 0
9

2、画△比○多 5 个。

○○○○○○

_____。

3、画☆比♡少 3 个。

♡♡♡♡♡♡♡

_____。

四、在○里填上“>”，“<”或“=”。(6 分)

$5+9 \bigcirc 14 \quad 9 \bigcirc 18-10 \quad 7+8 \bigcirc 16$

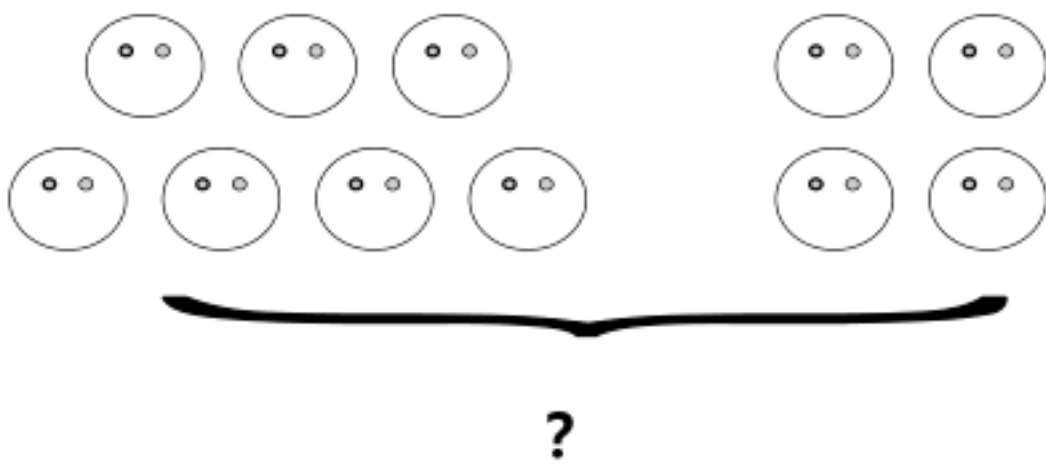
$10-8 \bigcirc 7 \quad 12 \bigcirc 3+8 \quad 9+6 \bigcirc 15$

五、看图列式 (6 分)

△	△	△	△		△	△	△
△	△	△			△	△	

?

$$\square \quad \circ \quad \square \quad = \quad \square$$

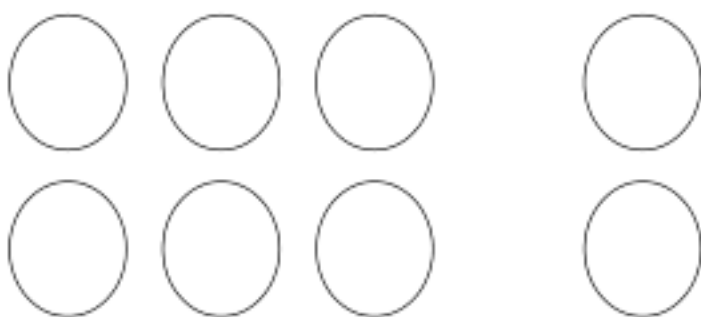


$$\square \quad \circ \quad \square \quad = \quad \square$$



$$8 \quad - \quad \square \quad = \quad \square$$

$$8 \quad - \quad \square \quad = \quad \square$$



$$6 \quad + \quad \square \quad = \quad \square$$

$$2 \quad + \quad \square \quad = \quad \square$$

六、 动脑筋：(8 分)

分别把每一横行、竖行、斜行三个数加起来。

4	9	2	()
3	5	7	()
8	1	6	()

() () () () () () () ()

() () () () () () () ()

参考答案

一、1、(20) (20)

2、(17)

3、(十) (一)

4、(20) (18) (17) (15) (15) (12) (6) (3)

5、(5) (2) (6) (1)

6、(3) 略

7、(8: 00) (1: 30) (4: 00) (7: 30)

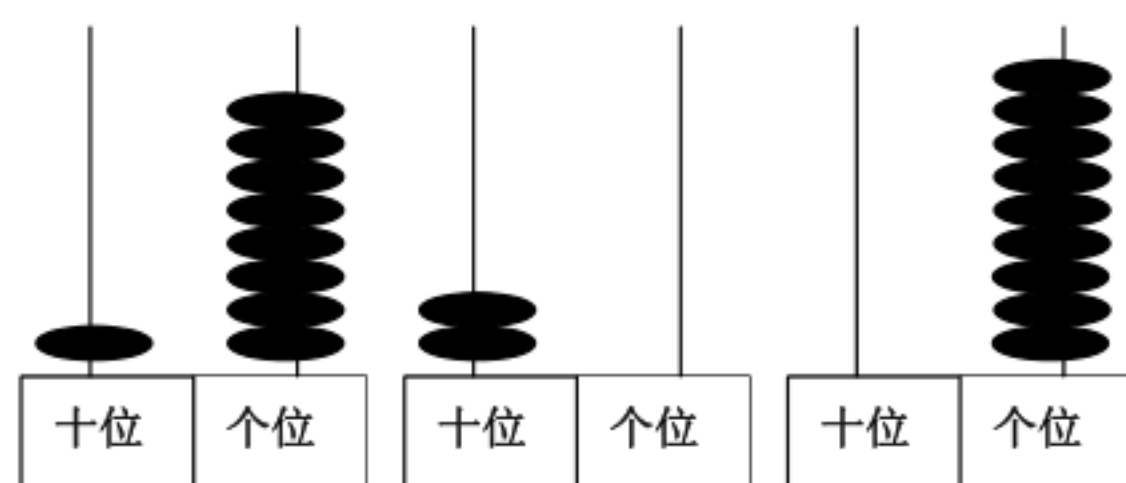
二、 $8+7=15$ $8-6=2$ $6+10=16$ $9+4=13$ $7+5=12$ $8+5=13$

$2+8=10$ $9+6=15$ $7-3=4$ $9+9=18$ $4+8=12$ $10+5=15$

$10-6=4$ $9-7=2$ $5+8=13$ $9-4=5$ $11-10=1$ $4+5=9$

$7-7=0$ $6+9=15$ $9+3=12$ $14-4=10$ $9+8=17$ $2+8=10$

三、1、



2、

3、

四、 $= > < < > =$

五、 $7+5=12$

$7+4=11$

$$8-5=3 \quad 8-3=5$$

$$6+2=8 \quad 2+6=8$$

六、 (15) (15) (15) (15) (15) (15) (15) (15)

VV99.net

免费文档下载