

七年级（下册）地理：知识点默写

第六章 我们生活的大洲—亚洲

第一节 位置和范围

1. 雄踞东方的大洲

(1) 半球位置：绝大部分位于—__半球和__半球。

(2) 海陆位置：占据了__的大部分，被__、__、__包围。

(3) 纬度位置：地跨__、__、__三个温度带。

2. 世界第一大洲：亚洲是世界上面积最__的大洲，也是世界上跨__最广，__最长的大洲。

3. 亚洲分为__个分区，分别是：__、__、__、__、__、__
填写示意图：



4. 西亚沙特阿拉伯__人； 北亚东西伯利亚的__人；
南亚__人； 东南亚印度尼西亚的__人。

5. 北美洲位于__半球__半球。

6. 北美洲北临__洋；东临：__；西临：__南隔__运河与__相望。

7. 北美洲地跨__带、__带、__带。

第二节 自然环境

1. 地势起伏大，长河众多

(1) 亚洲地势特征：__。

亚洲：沿北纬 30°由西向东地势呈现__。

(2) 河流：

受地形的影响，亚洲的大河多发源于__部山地、高原，呈__流向周边的海洋。

(3) 亚洲之最：

①世界最高的高原：__。

②世界最高大的山脉：__。

③世界最高峰：__。

④世界最大半岛：__。

⑤世界最大群岛：__。

⑥世界最大的湖泊：_____。

⑦世界陆地最低点：_____。

⑧世界最深和蓄水量最大的淡水湖：_____。

⑨亚洲最大的平原：_____。

2. 复杂的气候

(1) 亚洲气候具有_____、_____分布广和_____显著的特点。

(2) 影响亚洲气候的主要因素有_____、_____、_____。

(3) 亚洲分布最广的是_____气候。

(4) 亚洲最典型的是_____气候，冬季盛行_____风，降水较少；夏季盛行_____风，降水丰沛，因气候_____有利于农业生产，但降水很不稳定，容易发生_____。

(5) 北冰洋沿岸是_____；东南部马来群岛是_____气候，西南阿拉伯半岛是_____气候，西部地中海沿岸是_____气候，中部青藏高原是世界上面积最大的_____气候区。

(6) 亚洲没有的气候类型是_____气候和_____气候。

(7) 北美地形分三部分，西部_____中部_____东部_____。

3. 北美密西西比河自__向__流入_____。

第七章 我们邻近的地区和国家

第一节 日本

1. 多火山、地震的岛国

(1) 地理位置：日本位于亚洲__部，是太平洋_____部的岛国。

(2) 领土组成：由_____、_____、_____、_____四个大岛及附近一些小岛组成。最北部的岛是_____岛，最大的岛是_____岛，最南端的岛是_____岛；首都_____位于_____岛。

(3) 国土特点：日本国土南北_____，海岸线_____，多优良_____。

(4) 地形特点：_____、_____广布，_____狭小。最大的平原_____。

(5) 日本火山多，分布广。_____山是其中一座最著名的火山，先后多次喷发。日本也是_____频繁发生的国家，其原因是日本位于_____板块和_____板块的交界处，地壳运动活跃。

(6) 日本气候以_____和_____为主。

2. 与世界联系密切的工业

(1) 传统模式：日本工业高度发达；日本大量进口_____和_____，依靠科学技术和劳动力资源的优势，加工进口原料，大量出口_____。

(2) 日本投资建厂的主要对象是_____、_____和_____等国家和地区。

(3) 工业地带分布：集中分布在_____沿岸和_____沿岸。

(4) 日本的工业区本州岛上有_____、_____、_____、_____、九州岛上有_____。

3. 东西方兼容的文化

民族构成：单一，_____民族占绝对优势。

第二节 东南亚

1. “十字路口”的位置

(1) 范围：包括_____半岛和_____群岛两大部分。

(2) 位置：东南亚地处_____洲与_____洲、_____洋与_____洋之间的“_____”。

(3) _____海峡，位于_____半岛和_____岛之间，被称为“_____”
是连接_____洋与_____洋的重要海上通道。

2. 热带气候与农业生产

(1) 东南亚绝大部分位于_____带，主要_____气候和_____气候。

(2) 主要农作物：

①稻米的主要出口国：_____

②世界最大的天然橡胶生产国：_____

③世界最大的棕榈油生产国：_____

④世界最大的椰子生产国：_____

⑤世界最大的椰子出口国：_____

⑥世界最大的蕉麻生产国：_____

3. 山河相间与城市分布

(1) 中南半岛地形特征：_____、_____。

(2) 中南半岛的大城市主要分布在_____及_____。

4. 热带旅游胜地

①花园城市是_____

②吴哥窟位于_____

③大金塔位于_____

④水上市场是_____的特色之一

⑤下龙湾位于_____

⑥巴厘岛位于_____

第三节 印度

1. 世界第二人口国

(1) 印度是南亚面积_____的国家，也是人口最多、经济实力最强的国家。

(2) 印度是一个人口众多的国家，仅次于_____，居世界第_____位。

(3) 印度主要位于亚洲_____半岛，东临_____、西临_____南临_____；绝大部分位于_____带。

2. 热带季风气候与粮食生产

(1) 气候：印度气候类型主要是_____，气候，_____季（10月至次年5月）盛行东北季风，降水_____；_____季（6月至9月）盛行西南季风，降水_____，因季风不稳定，_____灾害频繁。

(2) 农业：_____和_____是印度的主要粮食作物。

3. 迅速发展的服务外包产业

(1) 印度发展服务外包业的有利条件：_____发展较早。

(2) 印度每年承接全球_____外包市场近 1/2 的业务，其中，承接的_____业务约占全球市场的 2/3，印度被形象地称为 “_____”。

(3) _____是印度软件外包产业的发源地。

4. 印度的三大地形区是，北部的_____山脉，中部是_____平原，南部_____高原；

5. 印度的母亲河是_____，该河形成的平原恒河平原主要生产粮食作物是_____，德干高原北部盛产的粮食作物是_____；

6. 印度的首都是_____，最大的城市_____是港口城市。印度东北部的世界雨极是_____；

第四节 俄罗斯

1. 横跨亚欧大陆北部

(1) 俄罗斯横跨_____大陆北部，是世界上面积_____的国家。

(2) 地形特点：

西←  →东						
_____	乌拉尔山	_____	叶尼塞河	_____	勒拿河	_____

(3) 气候：俄罗斯纬度较高，以_____气候为主，大部分地区_____

2. 自然资源_____工业发达

(1) 主要的工业区：_____工业区，_____工业区，_____工业区，_____工业区。

(2) _____工业和_____工业在世界上占有重要地位。但是__工业发展相对滞后。

(3) 俄罗斯是世界上最大的能源出口国之一，被称为 “_____”。

3. 发达的交通

(1) 俄罗斯地域辽阔，客运主要以_____和_____运输为主，货运以_____和_____运输为主，管道主要运输_____和_____。

(2) 俄罗斯欧洲部分铁路非常密集，形成以_____为中心的_____铁路网，__洲部分铁路比较稀疏。

(3) _____横跨亚欧大陆，被称为 “亚欧大陆桥”。

4. 主要城市

首都_____；第二大城市（波罗的海沿岸重要的港口）_____；北冰洋沿岸的港口（不冻港）_____；太平洋沿岸的港口_____。

第八章 东半球其他的地区和国家

第一节 中东

1. “三洲五海之地”

(1) 范围：包括__亚的大部分和非洲的__。

(2) 地理位置：联系____三大洲，沟通____洋和、____洋。

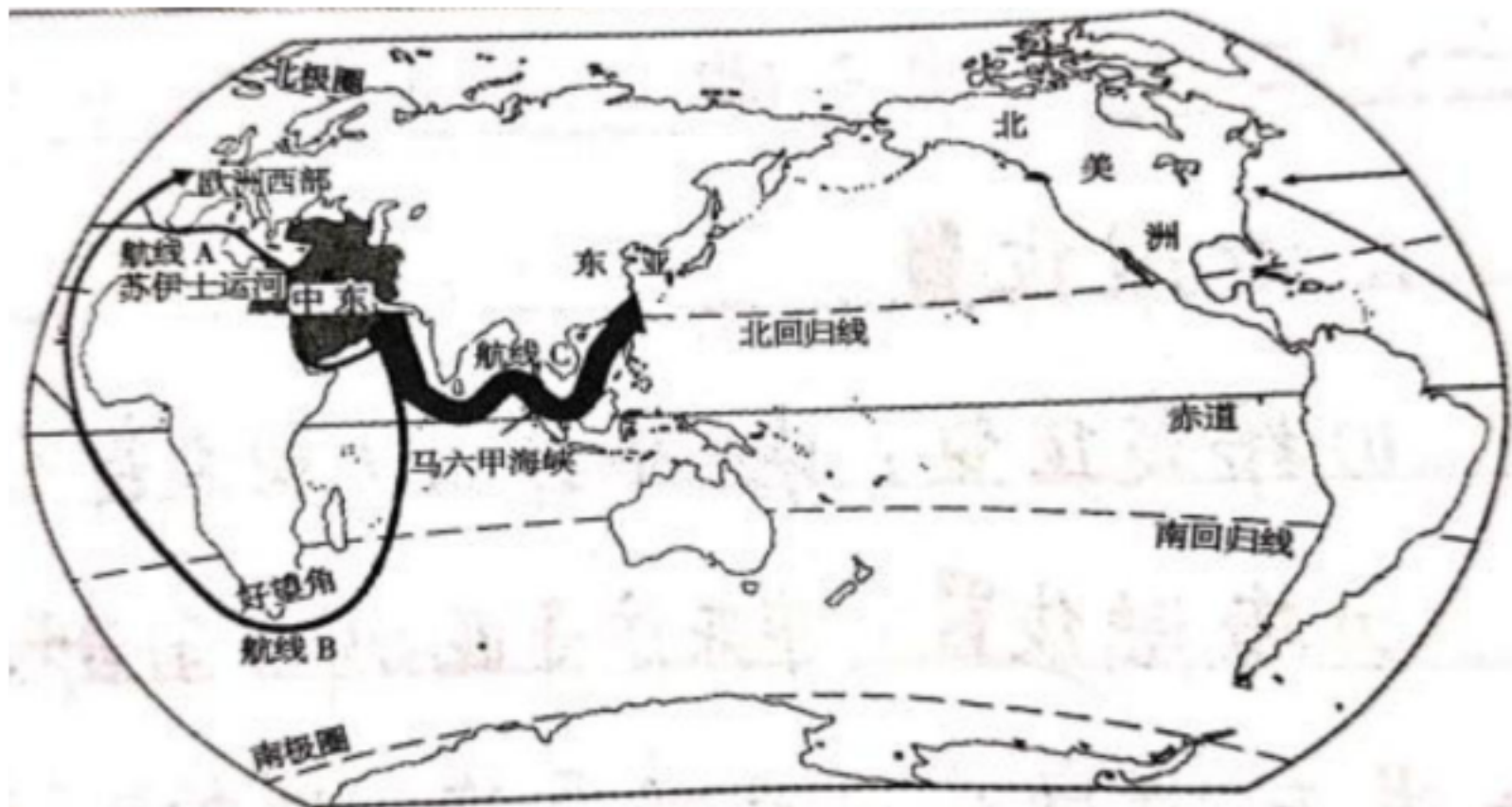
2. 世界石油宝库

(1) 地位：目前世界上石油____最大，生产和输出石油最__的地区。

(2) 分布：中东的石油主要分布在____地区。

(3) 主要产油国：____等。

(4) 主要输出地区：



①航线 A：波斯湾、____海峡____海、____海、____运河、____海、直布罗陀海峡、____洋、欧洲西部和北美洲

②航线 B：波斯湾、____海峡、____海、____洋、____角、____洋、欧洲西部和北美洲

③航线 C：波斯湾、____海峡、____海、____湾、____海峡、____海、____海峡、____海、____洋、东亚

3. 匮乏的水资源

中东以____气候为主，气候____，河流____，____广布，__资源匮乏严重。

4. 多元的文化

(1) 中东是____教、____教以及____教的发源地，目前大多数居民信奉____教。

(2) _____是伊斯兰教、基督教和犹太教的圣城。

(3) 沙特阿拉伯的____，是伊斯兰教创始人默罕默德的诞生地，被伊斯兰教尊为圣城。

第二节 欧洲西部

1. 工业密集，____国家集中

(1) 欧洲西部北临____洋、西临____洋、南临____海、大部分位于五带中的____带，全部位于__半球，大部分位于__半球。

(2) 欧洲西部人口____，是____最集中的地区，____业体系完善，成为国民经济的支柱。

(3) 国家首都：英国____，法国____，德国____，西班牙____，意大利____。

2. 现代化的畜牧业

(1) 气候：欧洲西部的气候类是____气候；特点是：____；这种气候有利于____的生长；牧草被称为“____”，欧洲的____业发达，主要以牛排、羊腿、奶油、和乳制品为主。

(2) 欧洲西部主要的地形是____和____；主要的平原是____平原和____平原，北部有东北西南走向的____山脉，南部是____山脉。欧洲流经国家最多河____，它注入____海。

(3) 欧洲西部劳动力短缺，农业生产高度____化、____化。

3. 繁荣的旅游业：____的峡湾风光，____的白金汉宫；____的风车，____的肖邦雕塑；____的卢浮宫博物馆，____的阿尔卑斯山滑雪场滑雪；____的古斗兽场，____的地中海沿岸沙滩；____的奥林匹克遗址公园，都颇负盛名。

第三节 撒哈拉以南非洲

1. 黑种人的故乡

(1) 撒哈拉以南非洲绝大部分地处____带，因此被称为“____”。地形以____为主，因此被称为“____”。

(2) 撒哈拉以南非洲以____气候为主。其特点是____，分____两季。

(3) 撒哈拉以南非洲北部是世界最大的沙漠____；西临____洋，东临____洋，东北临____，赤道穿过非洲____部，南端是著名的____。

(4) 该区有代表性动物有狮子、斑马、长颈鹿等；由于赤道从非洲中部穿过，因此非洲地跨南北半球，季节相反，因此非洲动物逐水草发生大规模迁徙。刚果盆地是____气候，特点是____，因此刚果河水量丰富。

(5) 撒哈拉以南非洲东部和南部有三大高原：由北向南是：____高原，____高原；南部是____高原，整体地势____高____低；最大的岛屿是____。

(6) 撒哈拉以南非洲有世界最长的河流____，注入____海，该河流沿岸孕育了四大文明古国的____。

2. 快速发展的经济

(1) 矿产资源____，其中____、____的储量和产量均居世界首位。

(2) 生物资源丰富，____和____的原产地。

(3) 撒哈拉以南非洲许多国家出口____产品，进口____，在国际贸易中处于____地位。

(4) 非洲人口自然增长率____。

(5) 人口增长过快, _____供应不足, 过度____、过度____, 导致土地肥力____和草原____, 加剧了_____和土地_____, 使生态环境逐步恶化。

(6) 非洲最大的鲜花出口国和著名的旅游国家是_____. 非洲人擅长的乐器是_____, 典型的民居是_____。

(7) 撒哈拉以南非洲有世界最长的裂谷_____, 它是由_____板块和_____板块张裂形成的。

(8) 非洲之最: 非洲最大的湖_____, 非洲最高的山_____, 非洲最大岛_____。

第四节 澳大利亚

1. _____博物馆——特有动物众多。

(1) 国徽上的两种特有动物分别是_____和_____

(2) 澳大利亚动物古老独特的原因是

①_____

②_____

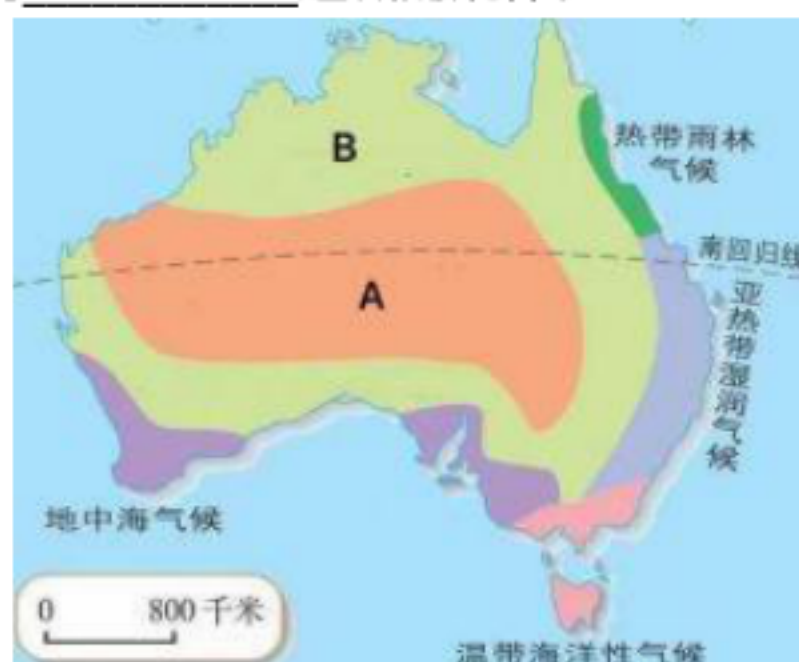
③_____

④_____

(3) 澳大利亚东临: _____洋, 西临_____洋; 东南部有岛屿_____岛。

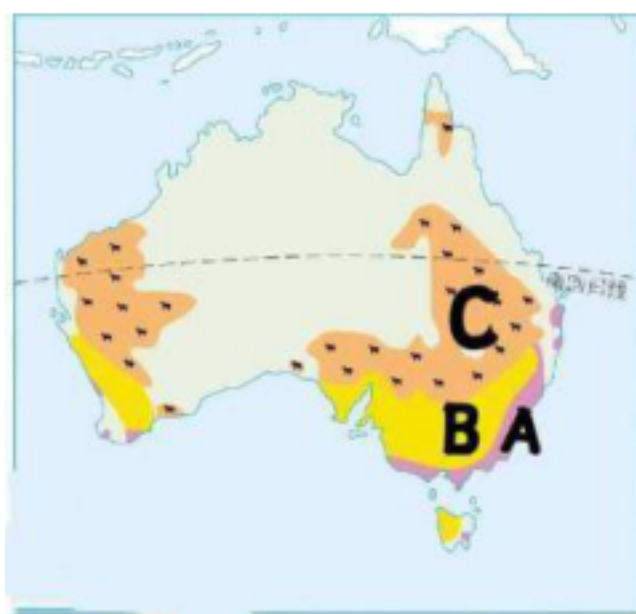
(4) 澳大利亚从东向西三大地形区是_____, _____, _____. 其中, 中部平原分布有_____盆地。地势特点_____高, _____低。主要河流_____注入_____洋。

(5) 澳大利亚气候呈_____状, 其中, A 为_____气候, B 为_____气候。降水则呈现出从_____向_____递减的规律。



2. “_____的国家”——畜牧业发达

(1) 澳大利亚是放养_____数量和_____最多的国家, 因地制宜形成了三大牧羊带。



A 为_____

B 为_____

C 为_____

(2) 澳大利亚养羊业产业化、_____化程度高，耗用劳动力_____，_____高。

3. “_____” 的国家”——矿产资源丰富

(1) 矿产资源品种多，_____、_____、_____；很多矿产储量居世界前列。

(2) 澳大利亚的_____发展迅速，成为澳大利亚的经济支柱。

4. 澳大利亚首都_____；澳大利亚面积最大、人口最多的城市_____；第二大城市是_____。

澳大利亚人口集中分布在_____。

第九章 西半球的国家

第一节 美国

1. 民族大熔炉

(1) 人口和人种：美国是_____半球人口最_____的国家，也是世界第三人口大国，_____是美国人口增长较快的主要原因。_____人是美国的原住民。

(2) 领土组成：除本土外，还包括北美洲西北部的_____和太平洋中的_____。

(3) 地理位置：本土位于_____洋和_____洋之间，北、南分别与_____、_____相邻。

2. 农业地区专业化

(1) 地形：呈_____纵列分布，_____面积占全国总面积一半以上，耕地面积广大。

(2) _____山系是世界最大的山系；_____河是世界第四长河，自_____向_____流入_____；_____是世界最大的淡水湖群；其中，_____湖是世界上面积最大的淡水湖。

(3) 美国农业生产的各个过程和环节都实现了_____化和_____化，效率高，产量大。

(4) 农业带有：畜牧和灌溉农业区、_____区、_____带、_____带、混合农业区、_____带、亚热带作物带等。



3. 世界最发达的工业国家

- (1) 美国_____工业区历史悠久，是美国也是世界最大的工业区。
- (2) 美国最大的高新技术产业基地中心是位于旧金山东南的“_____”。
- (3) 美国首都_____，第一大城市_____。

第二节 巴西

1. 大量混血种人的社会

- (1) 巴西人口众多，最显著的人口特征是_____种人数量多。
- (2) 巴西人口中，_____种人占一半多，_____种人约占 40%。
- (3) 文化的多元性：_____节；_____舞。他们喜爱的运动是_____。

2. 发展中的工农业

(1) 巴西位于南美洲_____部，东、南临_____洋，是拉丁美洲面积_____、人口_____的国家，领土大部分位于_____带，_____（纬线）穿过国土北部，气候_____，地形_____，巴西的地形主要以_____和_____为主，北部是_____，约占国土面积的 1/3，南部是_____，约占国土面积的 2/3。

(2) 巴西美称：“_____” “_____”。

(3) 农业：_____、_____、_____、_____等农产品的产量居世界首位，_____、_____、_____是重要的出口创汇产品。

(4) 工业：铁在_____分布较广，石油主要分布在巴西_____地区，煤主要分布在_____。

(5) 工业：跻身于世界重要的生产国行列。_____是巴西最大的城市和工业中心，_____是巴西第二大城市和最大的商港。巴西的首都是_____。

3. 热带雨林的开发与保护

(1) 热带雨林具有巨大的_____效益，为全球提供新鲜空气、_____，_____，维护_____，具有_____效益提供木材，药材，食品等功能。

(2) 巴西有世界最大的平原_____，也是最大的热带雨林气候区，亚马孙热带雨林被称为“_____”；有水量最大、流域面积最广的_____河。

(3) 热带雨林面临的问题：水土流失加剧、生物多样性_____，而且影响全球的气候。

(4) 雨林保护措施：_____，_____，_____

第十章 极地地区

1. 独特的自然环境

(1) 南极地区主要位于_____以南，包括_____洲及其周边的海域。

(2) 北极地区主要位于_____以北，包括_____洋大部分及其周边的____、____、____三洲部分地区。在南极点往任何方向都是____，在北极点往任何方向都是____。

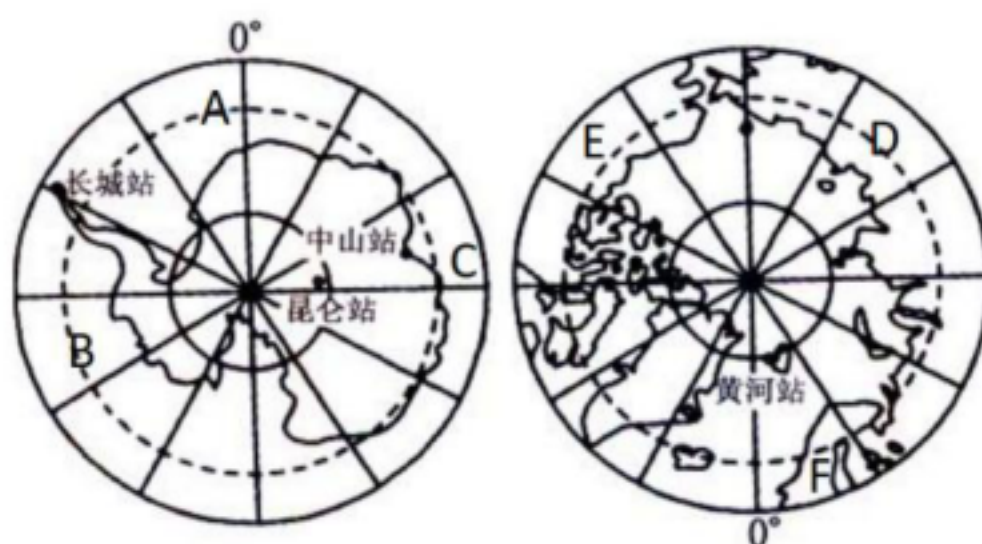
(3) 南极地区气候特点：____、____、____，____地区是地球上最冷的地区。南极大陆被称为“____”“____”“____”。北极地区：终年冰封，但气温比南极____，降水比南极____，风力比南极____。

(4) 南极地区代表性动物是____；北极地区代表性动物是____。

2. 极地地区的环境保护

极地地区面临的环境问题：____、____开采和____泄漏。

3. 结合极地地区地图填空。



A____洋 B____洋 C____洋 D____洲 E____洲 F____洲

【人教版】七年级（下册）地理：知识点默写（答案版）

第六章 我们生活的大洲—亚洲

第一节 位置和范围

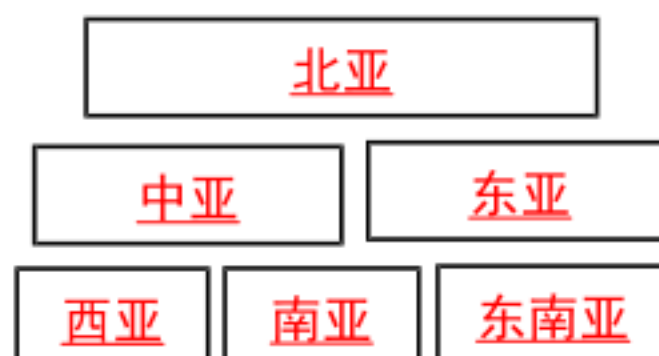
1. 雄踞东方的大洲

- (1) 半球位置：绝大部分位于北半球和东半球。
- (2) 海陆位置：占据了亚欧大陆的大部分，被太平洋、北冰洋、印度洋包围。
- (3) 纬度位置：地跨北寒带、热带、北温带三个温度带。

2. 世界第一大洲：亚洲是世界上面积最大的大洲，也是世界上跨纬度最广，东西距离最长的大洲。

3. 亚洲分为六个分区分别是：东亚、东南亚、西亚、北亚、中亚、南亚。

填写示意图：



- 4. 西亚：沙特阿拉伯贝都因人；北亚：东西伯利亚的亚库特人；
南亚：孟加拉人；东南：印度尼西亚的达雅克人。

5. 北美洲位于北半球西半球。

6. 北美洲北临北冰洋；东临：大西洋；西临：太平洋南隔巴拿马运河与南美洲相望。

7. 北美洲地跨热带、北温带、北寒带。

第二节 自然环境

1. 地势起伏大，长河众多

- (1) 亚洲地势特征：中间高，四周低。亚洲：沿北纬 30°由西向东地势呈现低-高-低。
- (2) 河流：受地形的影响，亚洲的大河多发源于中部山地、高原，呈放射状流向周边的海洋。

(3) 亚洲之最：

- ①世界最高的高原：青藏高原。
- ②世界最高大的山脉：喜马拉雅山脉。
- ③世界最高峰：珠穆朗玛峰。
- ④世界最大半岛：阿拉伯半岛。
- ⑤世界最大群岛：马来群岛。
- ⑥世界最大的湖泊：里海。
- ⑦世界陆地最低点：死海。
- ⑧世界最深和蓄水量最大的淡水湖：贝加尔湖。
- ⑨亚洲最大的平原：西西伯利亚平原。

2. 复杂的气候

- (1) 亚洲气候具有复杂多样、大陆性气候分布广和季风气候显著的特点。
- (2) 影响亚洲气候的主要因素有纬度因素、海陆因素、地形因素。
- (3) 亚洲分布最广的是温带大陆性气候。

(4) 亚洲最典型的是季风气候，冬季盛行偏北风，降水较少；夏季盛行偏南风，降水丰沛，因气候雨热同期有利于农业生产，但降水很不稳定，容易发生旱涝灾害。

(5) 北冰洋沿岸是寒带气候；东南部马来群岛是热带雨林气候，西南阿拉伯半岛是热带沙漠气候，西部地中海沿岸是地中海气候，中部青藏高原是世界上面积最大的高原山地气候区。

(6) 亚洲没有的气候类型是温带海洋性气候和热带草原气候。

(7) 北美地形分三部分，西部高大的山系中部广阔的平原东部低缓的高原。

3. 北美密西西比河自北向南流入墨西哥湾。

第七章 我们邻近的地区和国家

第一节 日本

1. 多火山、地震的岛国

(1) 地理位置：日本位于亚洲东部，是太平洋西北部的岛国。

(2) 领土组成：由北海道、本州、四国、九州四个大岛及附近一些小岛组成。最北部的岛是北海道岛，最大的岛是本州岛，最南端的岛是九州岛；首都东京位于本州岛。

(3) 国土特点：日本国土南北狭长，海岸线曲折，多优良港湾。

(4) 地形特点：山地、丘陵广布，沿海平原狭小。最大的平原关东平原。

(5) 日本火山多，分布广。富士山是其中一座最著名的火山，先后多次喷发。日本也是地震频繁发生的国家，其原因是日本位于太平洋板块和亚欧板块的交界处，地壳运动活跃。

(6) 日本气候以亚热带季风和温带季风为主。

2. 与世界联系密切的工业

(1) 传统模式：日本工业高度发达；日本大量进口原料和燃料，依靠科学技术和劳动力资源的优势，加工进口原料，大量出口工业制成品。

(2) 日本投资建厂的主要对象是欧洲、美国、东亚和东南亚等国家和地区。

(3) 工业地带分布：集中分布在太平洋沿岸和濑户内海沿岸。

(4) 日本的工业区本州岛上有京滨、名古屋、阪神、濑户内、九州岛上有北九州工业区。

3. 东西方兼容的文化

民族构成：单一，大和民族占绝对优势。

第二节 东南亚

1. “十字路口”的位置

(1) 范围：包括中南半岛和马来群岛两大部分。

(2) 位置：东南亚地处亚洲与大洋洲、太平洋与印度洋之间的“十字路口”。

(3) 马六甲海峡，位于马来半岛和苏门答腊岛之间，被称为“海上生命线”是连接太平洋与印度洋的重要海上通道。

2. 热带气候与农业生产

(1) 东南亚绝大部分位于热带，主要热带雨林气候和热带季风气候。

(2) 主要农作物:

- ①稻米的主要出口国: 泰国、越南、缅甸。
- ②世界最大的天然橡胶生产国: 泰国。
- ③世界最大的棕榈油生产国: 马来西亚。
- ④世界最大的椰子生产国: 印度尼西亚。
- ⑤世界最大的椰子出口国: 菲律宾。
- ⑥世界最大的蕉麻生产国: 菲律宾。

3. 山河相间与城市分布

- (1) 中南半岛地形特征: 山河相间、纵列分布。
- (2) 中南半岛的大城市主要分布在河流沿岸及河口三角洲。

4. 热带旅游胜地

- ①花园城市是新加坡。
- ②吴哥窟位于柬埔寨。
- ③大金塔位于缅甸。
- ④水上市场是泰国的特色之一。
- ⑤下龙湾位于越南。
- ⑥巴厘岛位于印度尼西亚。

第三节 印度

1. 世界第二大人口国

- (1) 印度是南亚面积最大的国家, 也是人口最多、经济实力最强的国家。
- (2) 印度是一个人口众多的国家, 仅次于中国, 居世界第二位。
- (3) 印度主要位于亚洲南部印度半岛, 东临孟加拉湾、西临阿拉伯海南临印度洋; 绝大部分位于热带。

2. 热带季风气候与粮食生产

- (1) 气候: 印度气候类型主要是热带季风, 气候, 旱季 (10 月至次年 5 月) 盛行东北季风, 降水稀少; 雨季 (6 月至 9 月) 盛行西南季风, 降水丰沛, 因季风不稳定, 水旱灾害频繁。

- (2) 农业: 水稻和小麦是印度的主要粮食作物。

3. 迅速发展的服务外包产业

- (1) 印度发展服务外包业的有利条件: 劳动力丰富、劳动力成本较低、英语普及、信息技术发展较早。
- (2) 印度每年承接全球服务外包市场近 1/2 的业务, 其中, 承接的软件外包业务约占全球市场的 2/3, 印度被形象地称为“世界办公室”。
- (3) 班加罗尔是印度软件外包产业的发源地。

4. 印度的三大地形区是, 北部的喜马拉雅山脉, 中部是恒河平原, 南部德干高原;

5. 印度的母亲河是恒河, 该河形成的平原恒河平原主要生产粮食作物是水稻, 德干高原北部盛产的粮食作物是小麦;

6. 印度的首都是新德里, 最大的城市孟买是港口城市。印度东北部的世界雨极是乞拉朋

齐;

第四节 俄罗斯

1. 横跨亚欧大陆北部

- (1) 俄罗斯横跨亚欧大陆北部，是世界上面积最大的国家。
- (2) 地形特点：

西←  →东						
<u>东欧平原</u>	乌拉尔山	<u>西西伯利亚平原</u>	叶尼塞河	<u>中西伯利亚高原</u>	勒拿河	<u>东西伯利亚山地</u>

(3) 气候：俄罗斯纬度较高，以温带大陆性气候为主，大部分地区冬季寒冷而漫长，夏季温暖而短促。

2. 自然资源丰富，重工业发达

- (1) 主要的工业区：圣彼得堡工业区，莫斯科工业区，乌拉尔工业区，新西伯利亚工业区。
- (2) 核工业和航天工业在世界上占有重要地位。但是轻工业发展相对滞后。
- (3) 俄罗斯是世界上最大的能源出口国之一，被称为“世界加油站”。

3. 发达的交通

- (1) 俄罗斯地域辽阔，客运主要以铁路和公路运输为主，货运以铁路和管道运输为主，管道主要运输石油和天然气。
- (2) 俄罗斯欧洲部分铁路非常密集，形成以莫斯科为中心的放射状铁路网，亚洲部分铁路比较稀疏。
- (3) 西伯利亚大铁路横跨亚欧大陆，被称为“亚欧大陆桥”。

4. 主要城市

首都莫斯科；第二大城市（波罗的海沿岸重要的港口）圣彼得堡；北冰洋沿岸的港口（不冻港）摩尔曼斯克；太平洋沿岸的港口符拉迪沃斯托克。

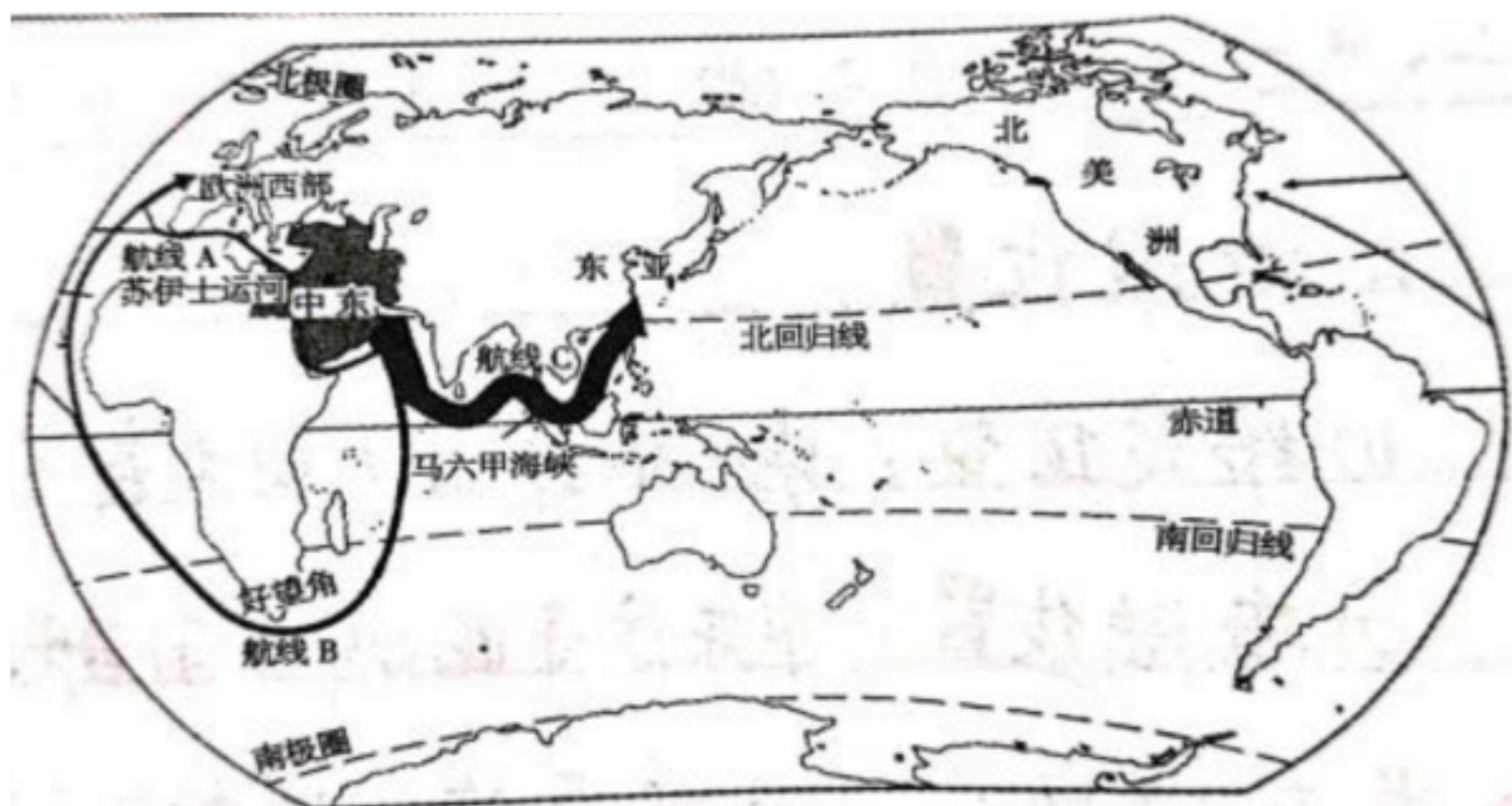
第八章 东半球其他的地区和国家
第一节 中东

1. “三洲五海之地”

- (1) 范围：包括西亚的大部分和非洲的埃及。
- (2) 地理位置：联系亚、欧、非三大洲，沟通大西洋和、印度洋。

2. 世界石油宝库

- (1) 地位：目前世界上石油储量最大，生产和输出石油最多的地区。
- (2) 分布：中东的石油主要分布在波斯湾及其沿岸地区。
- (3) 主要产油国：沙特阿拉伯、伊朗、伊拉克、科威特、阿拉伯联合酋长国等。
- (4) 主要输出地区：



①航线 A：波斯湾、霍尔木兹海峡阿拉伯海、红海、苏伊士运河、地中海、直布罗陀海峡、大西洋、欧洲西部和北美洲

②航线 B：波斯湾、霍尔木兹海峡、阿拉伯海、印度洋、好望角、大西洋、欧洲西部和北美洲

③航线 C：波斯湾、霍尔木兹海峡、阿拉伯海、孟加拉湾、马六甲海峡、南海、台湾海峡、东海、太平洋、东亚

3. 匮乏的水资源

中东以热带沙漠气候为主，气候干燥，河流稀少，沙漠广布，水资源匮乏严重。

4. 多元的文化

(1) 中东是基督教、伊斯兰教以及犹太教的发源地，目前大多数居民信奉伊斯兰教。

(2) 耶路撒冷是伊斯兰教、基督教和犹太教的圣城。

(3) 沙特阿拉伯的麦加，是伊斯兰教创始人默罕默德的诞生地，被伊斯兰教尊为圣城。

第二节 欧洲西部

1. 工业密集，发达国家集中

(1) 欧洲西部北临北冰洋、西临大西洋、南临地中海、大部分位于五带中的北温带，全部位于北半球，大部分位于东半球。

(2) 欧洲西部人口稠密，是发达国家最集中的地区，服务业体系完善，成为国民经济的支柱。

(3) 国家首都：英国伦敦，法国巴黎，德国柏林，西班牙马德里，意大利罗马。

2. 现代化的畜牧业

(1) 气候：欧洲西部的气候类是温带海洋性气候；特点是：终年温和湿润；这种气候有利于多汁牧草的生长；牧草被称为“绿色金子”，欧洲的畜牧业发达，主要以牛排、羊腿、奶油、和乳制品为主。

(2) 欧洲西部主要的地形是平原和山地；主要的平原是西欧平原和波德平原，北部有东北西南走向的斯堪的纳维亚山脉，南部是阿尔卑斯山脉。欧洲流

经国家最多河多瑙河，它注入黑海。

(3) 欧洲西部劳动力短缺，农业生产高度机械化、自动化。

3. 繁荣的旅游业

挪威的峡湾风光，英国伦敦的白金汉宫；荷兰的风车，波兰的肖邦雕塑；法国巴黎的卢浮宫博物馆，瑞士的阿尔卑斯山滑雪场滑雪；意大利罗马的古斗兽场，西班牙的地中海沿岸沙滩；希腊的奥林匹克遗址公园，都颇负盛名。

第三节 撒哈拉以南非洲

1. 黑种人的故乡

(1) 撒哈拉以南非洲绝大部分地处热带，因此被称为“热带大陆”。地形以高原为主，因此被称为“高原大陆”。

(2) 撒哈拉以南非洲以热带草原气候为主。其特点是全年高温，分干湿两季。

(3) 撒哈拉以南非洲北部是世界最大的沙漠撒哈拉沙漠；西临大西洋，东临印度洋，东北临红海，赤道穿过非洲中部，南端是著名的好望角。

(4) 该区有代表性动物有狮子、斑马、长颈鹿等；由于赤道从非洲中部穿过，因此非洲地跨南北半球，季节相反，因此非洲动物逐水草发生大规模迁徙。刚果盆地是热带雨林气候，特点是终年高温多雨，因此刚果河水量丰富。

(5) 撒哈拉以南非洲东部和南部有三大高原：由北向南是：埃塞俄比亚高原，东非高原；南部是南非高原，整体地势东南高西北低；最大的岛屿是马达加斯加岛。

(6) 撒哈拉以南非洲有世界最长的河流尼罗河，注入地中海，该河流沿岸孕育了四大文明古国的古埃及。

2. 快速发展的经济

(1) 矿产资源丰富，其中金刚石、黄金的储量和产量均居世界首位

(2) 生物资源丰富，咖啡树和油棕的原产地。

(3) 撒哈拉以南非洲许多国家出口初级农矿产品，进口工业制成品，在国际贸易中处于不利地位。

(4) 非洲人口自然增长率最高

(5) 人口增长过快，粮食供应不足，过度开垦、过度放牧，导致土地肥力下降和草原退化，加剧了水土流失和土地荒漠化，使生态环境逐步恶化。

(6) 非洲最大的鲜花出口国和著名的旅游国家是肯尼亚。非洲人擅长的乐器是非洲鼓，典型的民居是茅草屋。

(7) 撒哈拉以南非洲有世界最长的裂谷东非大裂谷，它是由非洲板块和印度洋板块张裂形成的。

(8) 非洲之最：非洲最大的湖维多利亚湖，非洲最高的山乞力马扎罗山，非洲最大岛马达加斯加岛。

第四节 澳大利亚

1. 世界活化石博物馆——特有动物众多。

(1) 国徽上的两种特有动物分别是袋鼠和鸸鹋

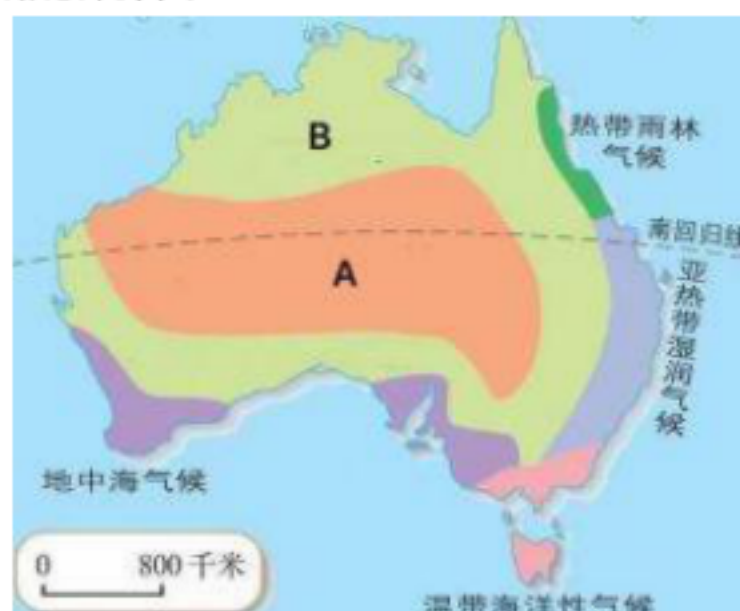
(2) 澳大利亚动物古老独特的原因是

①长期孤立于南半球的海洋中；②自然环境单一；③物种进化缓慢；④没有天敌。

(3) 澳大利亚东临：太平洋，西临印度洋；东南部有岛屿塔斯马尼亚岛。

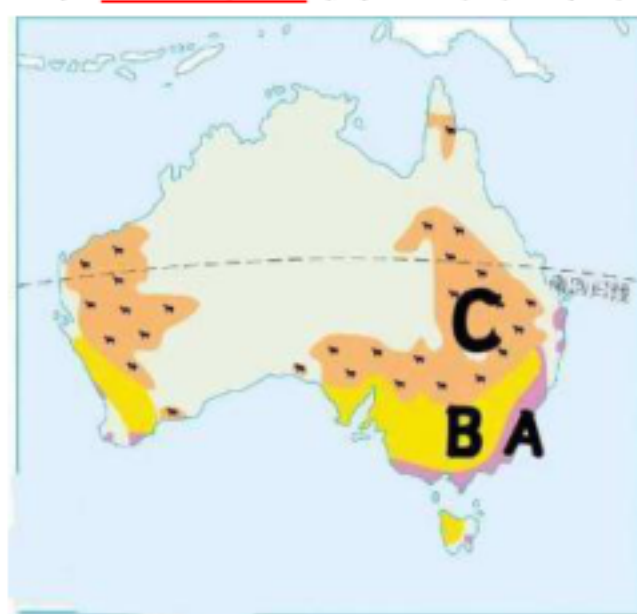
(4) 澳大利亚从东向西三大地形区是大分水岭、中部平原、西部高原。其中，中部平原分布有大自流盆地。地势特点东西高，中部低。主要河流墨累河注入印度洋。

(5) 澳大利亚气候呈半环状，其中，A为热带沙漠气候，B为热带草原气候。降水则呈现出从东南沿海向西北内陆递减的规律。



2. “骑在羊背上的国家”——畜牧业发达

(1) 澳大利亚是放养绵羊数量和出口羊毛最多的国家，因地制宜形成了三大牧羊带。



A为羊、牛与经济作物混合经营带；B为绵羊与小麦混合经营带；C为粗放牧羊带。

(2) 澳大利亚养羊业产业化、机械化程度高，耗用劳动力少，商品率高。

3. “坐在矿车上”的国家——矿产资源丰富

(1) 矿产资源品种多，品质优、埋藏浅、易开采；很多矿产储量居世界前列。

(2) 澳大利亚的服务业发展迅速，成为澳大利亚的经济支柱。

4. 澳大利亚首都堪培拉；澳大利亚面积最大、人口最多的城市悉尼；第二大城市是墨尔本。澳大利亚人口集中分布在东南沿海。

第九章 西半球的国家

第一节 美国

1. 民族大熔炉

(1) 人口和人种：美国是西半球人口最多的国家，也是世界第三人口大国，移民是美国人口增长较快的主要原因。印第安人是美国的原住民。

(2) 领土组成：除本土外，还包括北美洲西北部的阿拉斯加和太平洋中的夏威夷。

(3) 地理位置：本土位于太平洋和大西洋之间，北、南分别与加拿大、墨西哥相邻。

2. 农业地区专业化

(1) 地形：呈南北纵列分布，平原面积占全国总面积一半以上，耕地面积广大。

(2) 科迪勒拉山系是世界最大的山系；密西西比河是世界第四长河，自北向南流入墨西哥湾；五大湖是世界最大的淡水湖群；其中，苏必利尔湖是世界上面积最大的淡水湖。

(3) 美国农业生产的各个过程和环节都实现了机械化和专业化，效率高，产量大。

(4) 农业带有：畜牧和灌溉农业区、小麦区、玉米带、乳畜带、混合农业区、棉花带、亚热带作物带等。



3. 世界最发达的工业国家

(1) 美国东北部工业区历史悠久，是美国也是世界最大的工业区。

(2) 美国最大的高新技术产业基地中心是位于旧金山东南的“硅谷”。

(3) 美国首都华盛顿，第一大城市纽约。

第九章 西半球的国家

第二节 巴西

1. 大量混血种人的社会

(1) 巴西人口众多，最显著的人口特征是混血种人数量多。

(2) 巴西人口中，白种人占一半多，黑白混血种人约占 40%。

(3) 文化的多元性：狂欢节；桑巴舞。他们喜爱的运动是足球。

2. 发展中的工农业

(1) 巴西位于南美洲东部，东、南临大西洋，是拉丁美洲面积最大、人口最多的国家，领土大部分位于热带，赤道（纬线）穿过国土北部，气候湿热，地形平坦，巴西的地形主要以平原和高原为主，北部是亚马孙平原，约占国土面积的 1/3，南部是巴西高原，约占国土面积的 2/3。

(2) 巴西美称：“咖啡王国” “天然橡胶的故乡”。

(3) 农业：咖啡豆、甘蔗、柑橘、大豆等农产品的产量居世界首位，咖啡豆、蔗糖、橘汁、大豆是重要的出口创汇产品。

(4) 工业：铁在全国分布较广，石油主要分布在巴西东南沿海地区，煤主要分布在巴西南部地区。

(5) 工业：跻身于世界重要的生产国行列。圣保罗是巴西最大的城市和工业中心，里约热内卢是巴西第二大城市和最大的商港。巴西的首都是巴西利亚。

3. 热带雨林的开发与保护

(1) 热带雨林具有巨大的环境效益，为全球提供新鲜空气、涵养水源，保持水土，维护生物多样性，具有经济效益提供木材，药材，食品等功能。

(2) 巴西有世界最大的平原亚马孙平原，也是最大的热带雨林气候区，亚马孙热带雨林被称为“地球之肺”；有水量最大、流域面积最广的亚马孙河。

(3) 热带雨林面临的问题：水土流失加剧、生物多样性锐减，而且影响全球的气候。

(4) 雨林保护措施：建立雨林保护区，全球行动计划，新手段控制滥砍滥伐、加强宣传教育。

第十章 极地地区

1. 独特的自然环境

(1) 南极地区主要位于南极圈以南，包括南极洲及其周边的海域。

(2) 北极地区主要位于北极圈以北，包括北冰洋大部分及其周边的亚、欧、北美三洲部分地区。在南极点往任何方向都是北，在北极点往任何方向都是南。

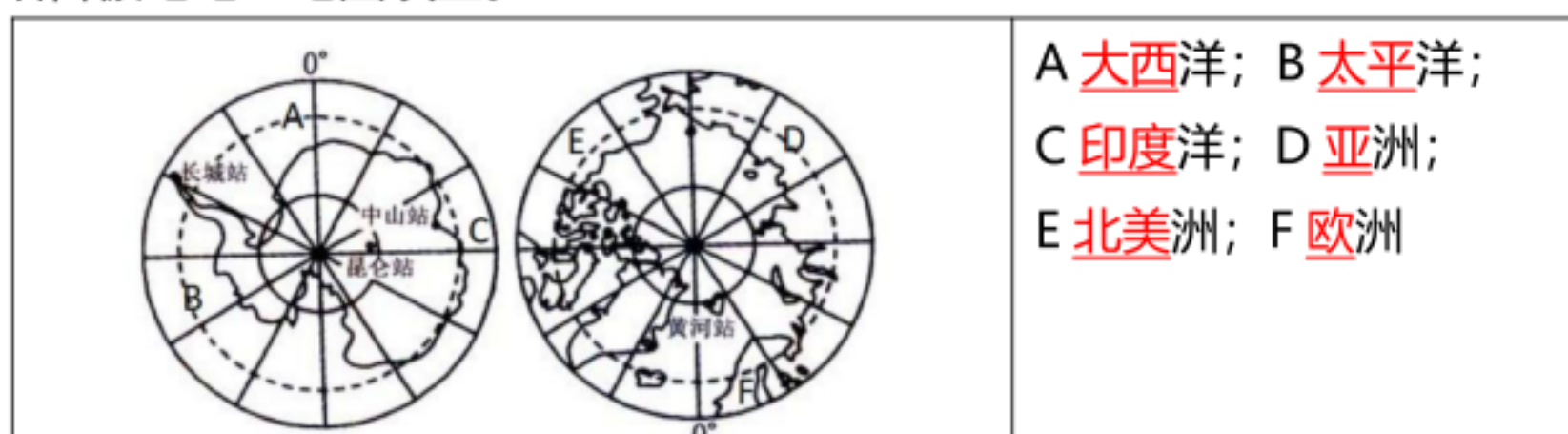
(3) 南极地区气候特点：酷寒、干燥、烈风，南极地区是地球上最冷的地区。南极大陆被称为“冰雪高原”“白色荒漠”“风库”。北极地区：终年冰封，但气温比南极高，降水比南极多，风力比南极弱。

(4) 南极地区代表性动物是企鹅；北极地区代表性动物是北极熊。

2. 极地地区的环境保护

极地地区面临的环境问题：石油、天然气开采和石油泄漏。

3. 结合极地地区地图填空。



VV99.net

免费文档下载