

第一章 中国的疆域与人口

一、疆域

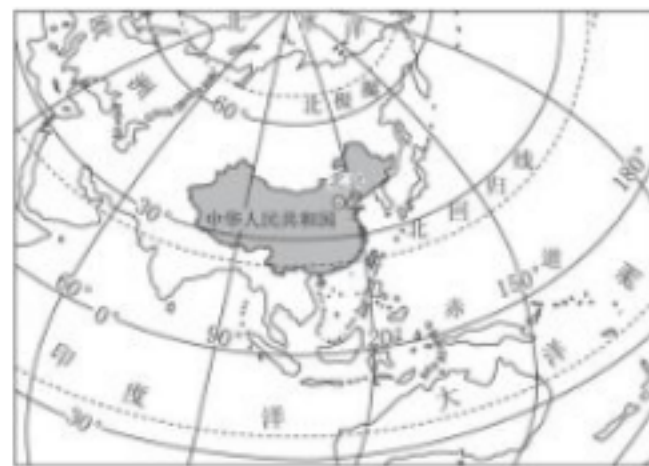
1.地理位置极其优越性

半球位置：_____半球、_____半球

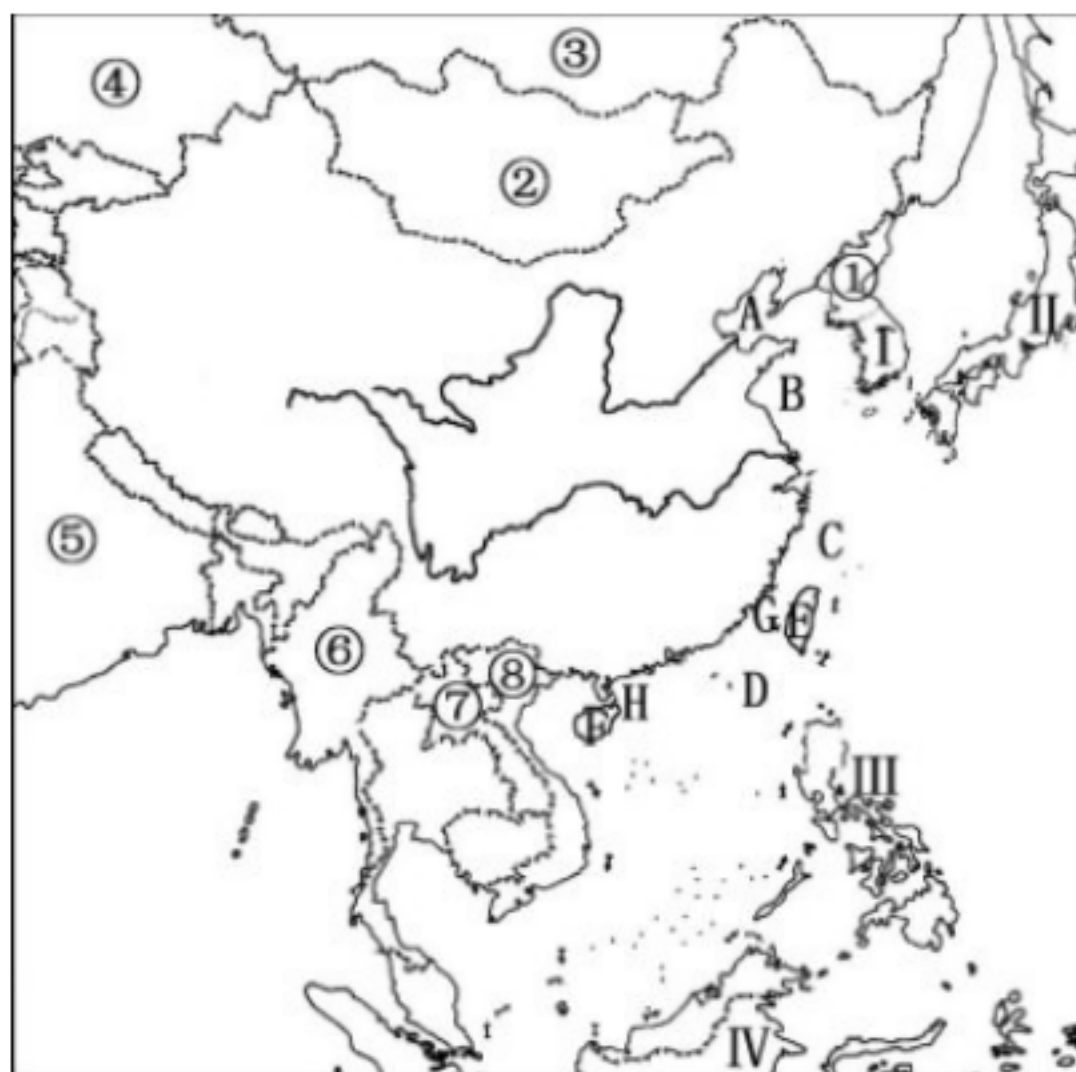
海陆位置：亚欧大陆_____、_____洋西岸，是一个_____的国家。

纬度位置：大部分属_____带，南部少数地区位于_____带，没有_____带。

优越性：纬度优越——光热条件好，南北气候差异大，为发展多种农业经济提供了有利条件；海陆优越——沿海海运便利，西部深入亚欧大陆内部，有利于我国对外交往合作。



2.海陆兼备的大国



(1) 领土四至点

最东：_____；最西：_____；

最南：_____；最北：_____；

(2) 陆地大国

中国陆地面积约_____万平方千米，仅次于_____和_____，居世界第三位。

陆地国界线长_____万多千米，有_____个陆上邻国：①_____②_____③_____④_____⑤_____⑥_____⑦_____⑧_____。其中_____、_____与中国不连续接壤。

(3) 海洋大国

四大临海：A_____B_____C_____D_____

两大岛屿：E_____（我国最大）F_____

海峡：G_____H_____

三大半岛：辽东半岛、山东半岛、雷州半岛

内海：A _____ H _____

主要群岛：舟山群岛

大陆海岸线长 _____ 万多千米，隔海相望的国家有 _____ 个：I _____ II _____ III _____ IV _____

3.行政区划



河北(冀·石家庄)	河南(豫·郑州)	湖北(鄂·武汉)	江西(赣·南昌)
辽宁(辽·沈阳)	青海(青·西宁)	山东(鲁·济南)	山西(晋·太原)
陕西(陕·西安)	安徽(皖·合肥)	福建(闽·福州)	甘肃(甘·兰州)
广东(粤·广州)	贵州(黔·贵阳)	四川(川·成都)	浙江(浙·杭州)
湖南(湘·长沙)	黑龙江(黑·哈尔滨)	吉林(吉·长春)	江苏(苏·南京)
云南(滇·昆明)	海南(琼·海口)	广西(桂·南宁·广西壮族自治区)	
新疆(新·乌鲁木齐·新疆维吾尔自治区)		宁夏(宁·银川·宁夏回族自治区)	
内蒙(蒙·呼和浩特·内蒙古自治区)		西藏(藏·拉萨·西藏自治区)	
北京(京·直辖市)	重庆(渝·直辖市)	上海(沪·直辖市)	天津(津·直辖市)
香港(港·特别行政区)		澳门(澳·特别行政区)	台湾(台·台北)

(1) 三级行政区划:包括省(自治区、直辖市) 县(自治县、县级市) 镇(乡)三级。

(2) 省级行政区域单位共 _____ 个:包括 _____ 个省、 _____ 个自治区、 _____ 个直辖市、 _____ 个特别行政区。

(3) 识记 34 个省级行政区域单位名称、简称、行政中心

【方法技巧】熟记特殊省区

_____——陆地面积最大、位置最西、邻国最多(8 个)。

_____——跨经度最广。

_____——最北端、最东端、最早见到日出。

_____——与三个自治区相邻、跨四类干湿地区。

_____——跨纬度最广、纬度最低、位置最南、全部在热带。

北回归线自西向东穿过的省区——_____。

既临渤海又临黄海的省区——_____。

与山东相邻的省份——_____。

邻省最多的省区——内蒙古自治区、陕西省(8 个)。

既有陆地国界线又有大陆海岸线——_____。

二、众多的人口

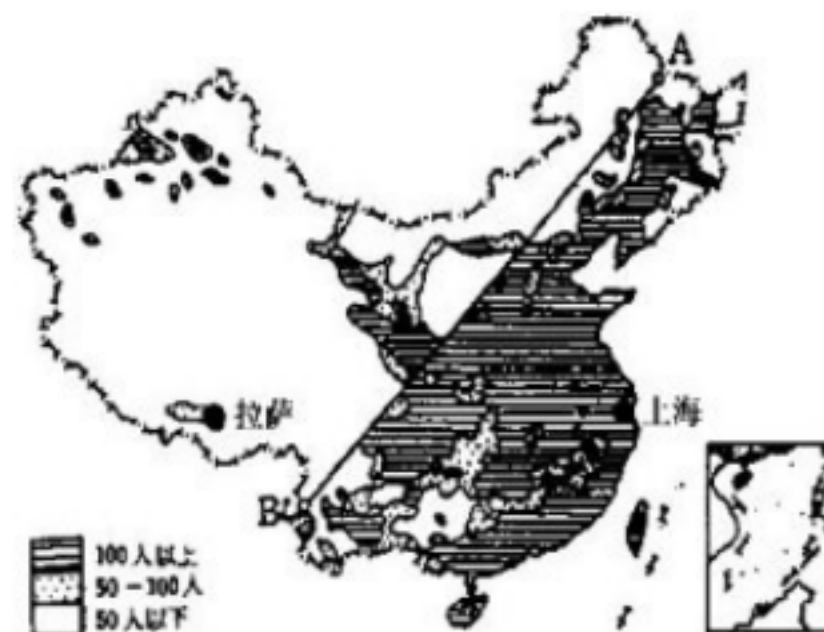
1.数量世界第一:2020年全国第七次人口普查,我国总人口 14.4 亿。

2.人口增长特点:人口基数大,人口增长较快。

3.分布疏密不均:

(1)特点:以 _____ 线为界,东南地区人口 _____,西北地区人口 _____。

(2)原因:东部地区 _____; 西部地区 _____。



(3)状况:城镇人口>农村人口,农村人口向城镇迁移,城镇人口将继续增加。

4.人口基本国策:实行_____。

5.科学的人口观:使人口增长与资源环境相协调,与社会经济发展相适应。

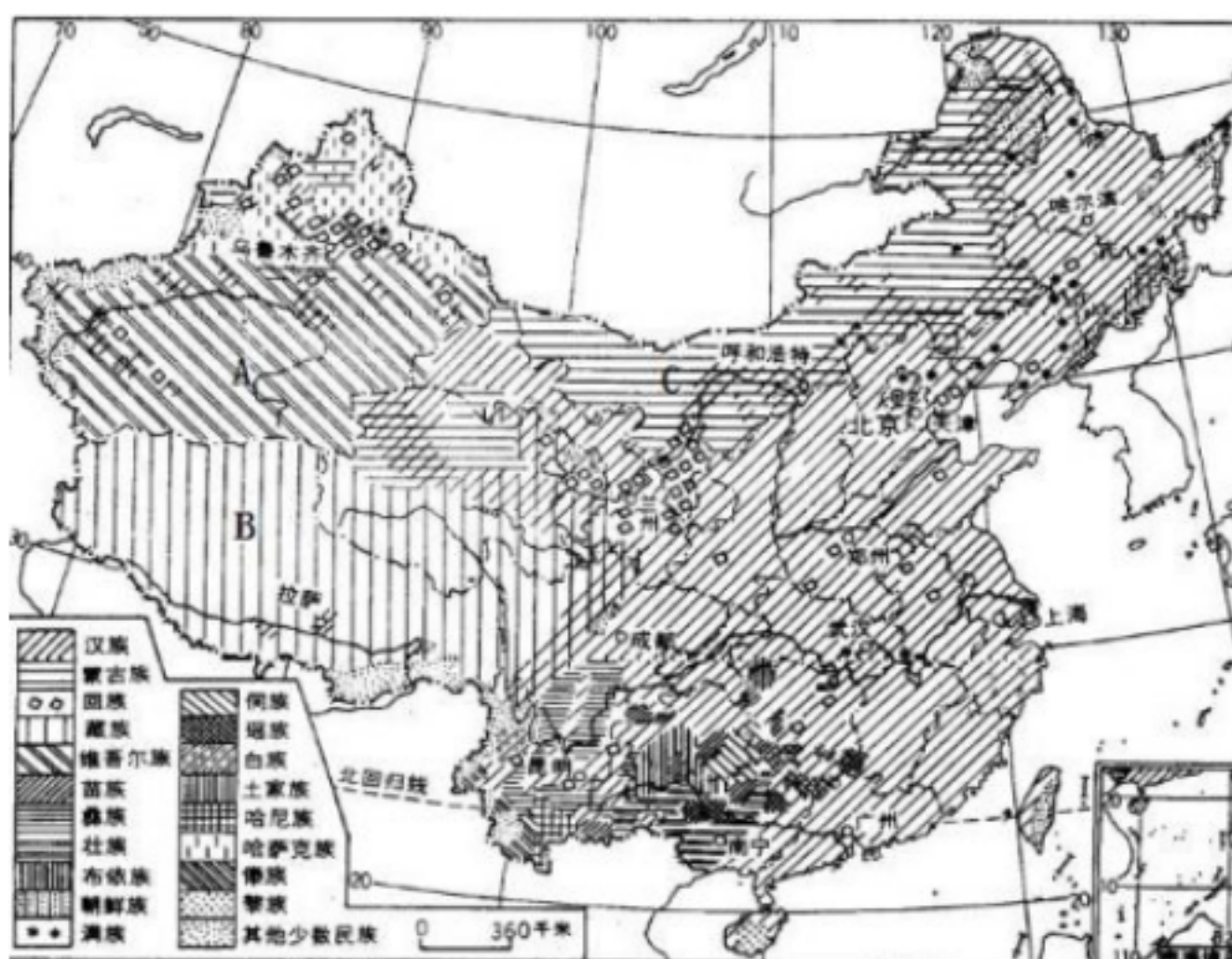
6.2002年“双独二孩”→2013年“单独二孩”→2015年“全面二孩”→2021年“全面三孩”,这些都属于计划生育政策;促使国家调整生育政策的原因是人口老龄化日益严重。

7.人口问题

(1)增长过快:_____

(2)增长过慢:_____

三、多民族的大家庭



1.数量:___个,人数最多的是___族,其他统称为少数民族,其中少数民族中人数最多的是___族。

2.分布:

(1)特点:“_____”。

(2)地区:汉族遍布全国各地,主要集中在_____地区;少数民族主要分布在_____地区。

(3)少数民族种类最多的省区_____。

3.独特的民族风情:

云南傣族_____;彝族_____;

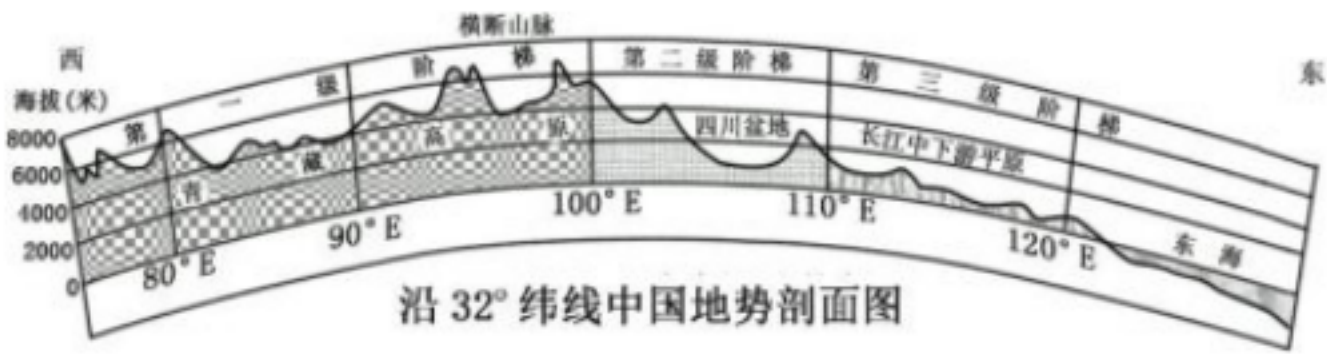
蒙古族_____的布达拉宫。



第二章 中国的自然环境

一、地形和地势

1.地势特征



地势_____高_____低，呈_____级阶梯分布。			
	主要地形类型	海拔范围	分界线
第一级阶梯			
第二级阶梯			
第三级阶梯			
地势影响：①河流——我国大多数河流自西向东流；②气候——有利于海洋的湿润气流深入我国内陆，带来丰沛的降水；③水电开发——阶梯交界处落差大，水流湍急，水能资源丰富。			

2.地形特征



地形类型_____（单一/复杂多样），以_____和_____为主。	
四大高原	①青藏高原（世界屋脊、雪山连绵、远看是山、近看是川） ②内蒙古高原（天苍苍，野茫茫） ③黄土高原（千沟万壑，支离破碎） ④云贵高原（喀斯特地貌）
四大盆地	①准噶尔盆地（纬度最高）

VV99.net

免费文档下载