

八年级上册期中检测

第 I 卷（选择题 共 50 分）

每小题2.5分，共50分。在每小题列出的四个选项中，只有一项是最符合题目要求的。

1. 我国陆地面积在世界各国中，仅次于

- A. 俄罗斯、美国 B. 加拿大、美国 C. 俄罗斯、加拿大 D. 美国、巴西

2. “山无不洞，洞无不奇，彝族和苗族青年男女聚会在石林间、仙洞间，伴着明快的芦笙，联袂把臂翩翩起舞”描绘的是

- A. 准噶尔盆地 B. 青藏高原 C. 四川盆地 D. 云贵高原

3. 下列省区轮廓与其对应的简称，错误的是



4. 藏族主要分布的省级行政区为



读我国近三次人口普查总人口数示意图，完成 5~7 题。

5. 第六次人口普查登记的全国总人口数约为

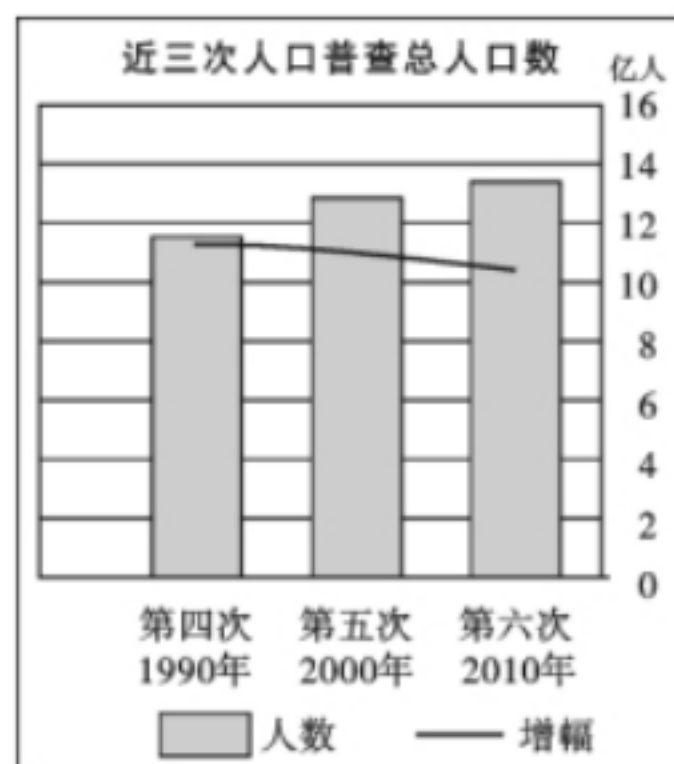
- A. 14 亿 B. 13.4 亿
C. 12.8 亿 D. 12 亿

6. 从 1990 年到 2010 年，我国人口增幅是

- A. 快速上升 B. 逐渐上升
C. 逐渐下降 D. 基本持平

7. 第六次人口普查公布，广东省成为我国第一人口大省。

导致广东取代河南成为第一人口大省的主要原因有



①人口自然增长率高 ②外来人口数量增多 ③工业发达，城镇密集 ④人口素质高，处于低生育水平

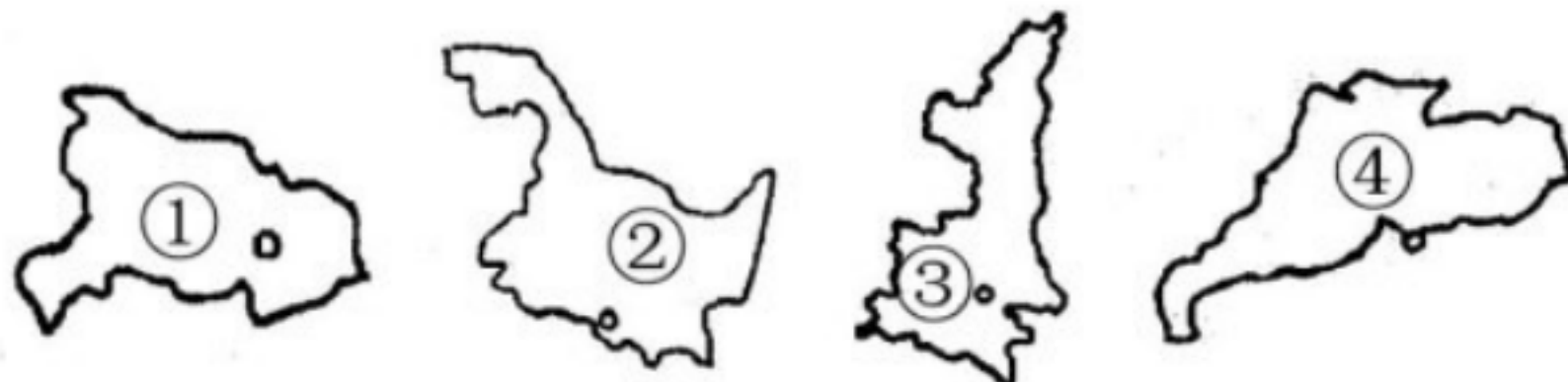
- A. ①③ B. ②③ C. ①④ D. ②④

8. 右图中地理事物的叙述，正确的是

- A. ①②是我国的内海
B. 甲省有三个邻省
C. 图中区域全是平原
D. 甲省的行政中心是济南



9. 下列四个省区的简称分别是



- A. ①鄂 ②黑 ③陕 ④广
B. ①豫 ②辽 ③晋 ④闽
C. ①湖 ②黑 ③晋 ④粤
D. ①鄂 ②黑 ③秦 ④粤

10. 成语“望陇得蜀”中的“陇”和“蜀”分别指的是

- A. 陕西 山西 B. 甘肃 四川 C. 四川 贵州 D. 山西 河南

读我国某自治区部分区域示意图，完成 11~13 题。

11. 该区的行政中心是

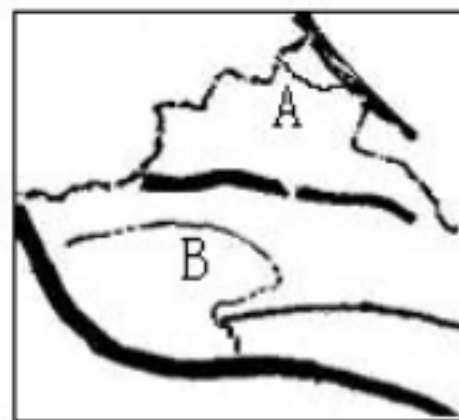
- A. 银川 B. 呼和浩特
C. 乌鲁木齐 D. 拉萨

12. B 地形区的名称是

- A. 准葛尔盆地 B. 柴达木盆地 C. 塔里木盆地 D. 四川盆地

13. 该自治区人口最多的少数民族是

- A. 蒙古族 B. 维吾尔族 C. 哈萨克族 D. 回族



某省区面积 19 万多平方千米，人口约 3700 万，据图完成 14~16 题。

14. 图示的省区是

- A. 湖北省 B. 江西省
C. 安徽省 D. 陕西省



15. 该省区的人口密度约为每平方千米

- A. 235 人 B. 215 人 C. 195 人 D. 165 人

16. 秦岭沿线一月的平均气温约为

- A. 0℃ B. 5℃ C. 10℃ D. 15℃

读长江水系图，完成 17~20 题。

17. 《长江之歌》里有句歌词：“你用健美的臂膀挽起高山大海……”这里的高山和大海分别指的是

- A. 巴颜喀拉山脉 东海 B. 唐古拉山脉 渤海
C. 唐古拉山脉 东海 D. 巴颜喀拉山脉 渤海



18. 在武汉流入长江的 A 河是

- A. 雅砻江 B. 岷江 C. 嘉陵江 D. 汉江

19. 长江干流上最大的水利枢纽 B 是

- A. 三峡水利枢纽 B. 葛洲坝水利枢纽
C. 龙羊峡水利枢纽 D. 小浪底水利枢纽

20. 有关这条大河的叙述，正确的是

- A. 是我国汛期最长的河流 B. 下游江阔水深，素称“黄金水道”
B. 中游水土流失严重，河水含沙量大 D. 受气候影响，结冰期长

第 II 卷（非选择题 共 50 分）

26. 读图，回答下列问题。（12 分）

（1）填出图中数码所代表的地理事物名称：

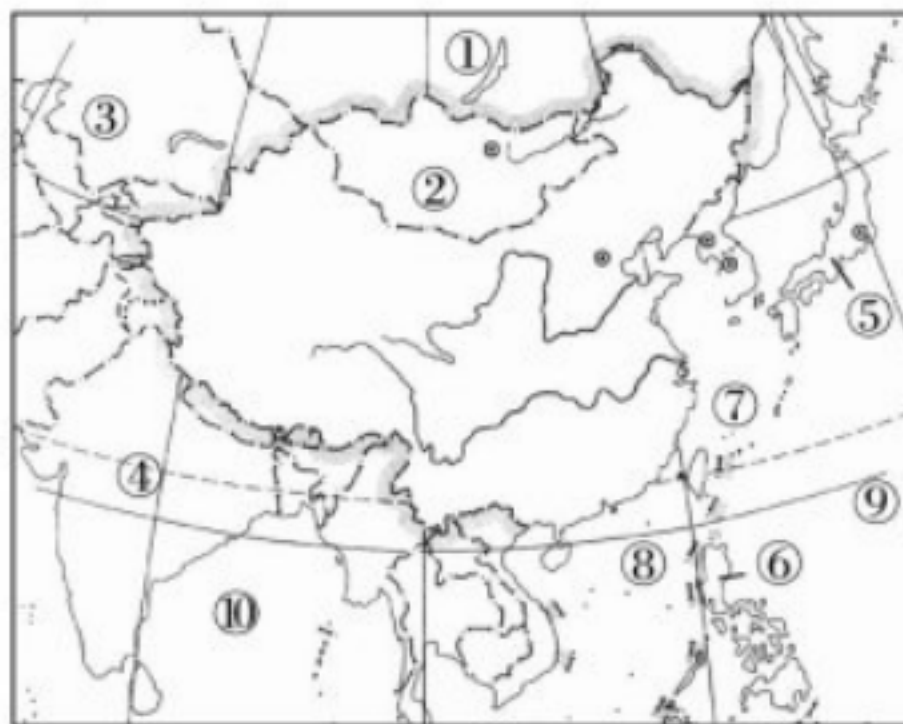
邻国：① _____，④ _____；

隔海相望的国家：

⑤ _____，⑥ _____。

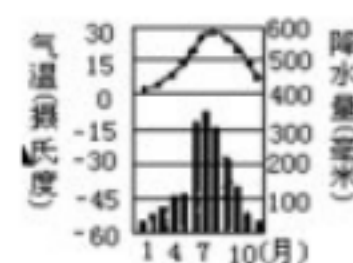
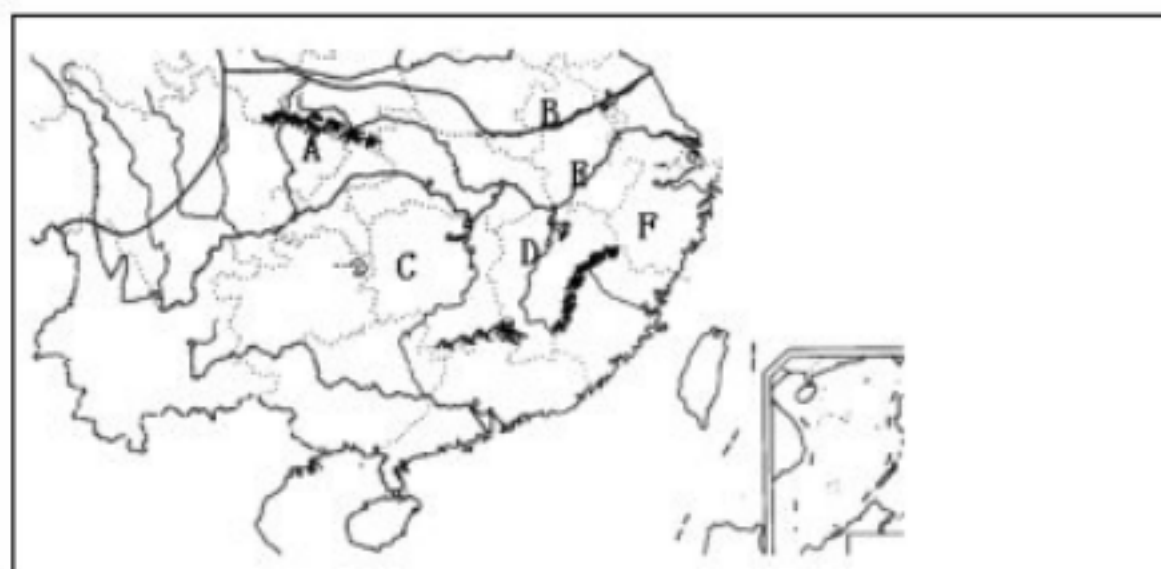
海域：⑦ _____，⑧ _____；

大洋：⑨ _____，⑩ _____。



（2）春节期间，当哈尔滨还是冰天雪地时，海南岛已是春耕大忙了，这是为什么？

27. 2009 年 9 月, 我国南方大部地区高温少雨, 秋旱影响了水上航运、水力发电、生活用水及农业生产。据图回答下列问题。 (18 分)



(1) 受灾地区主要位于秦岭—— B _____ 河一线以南地区, 主要属于 _____ 带 (温度带) 和 _____ 区 (干湿区)。

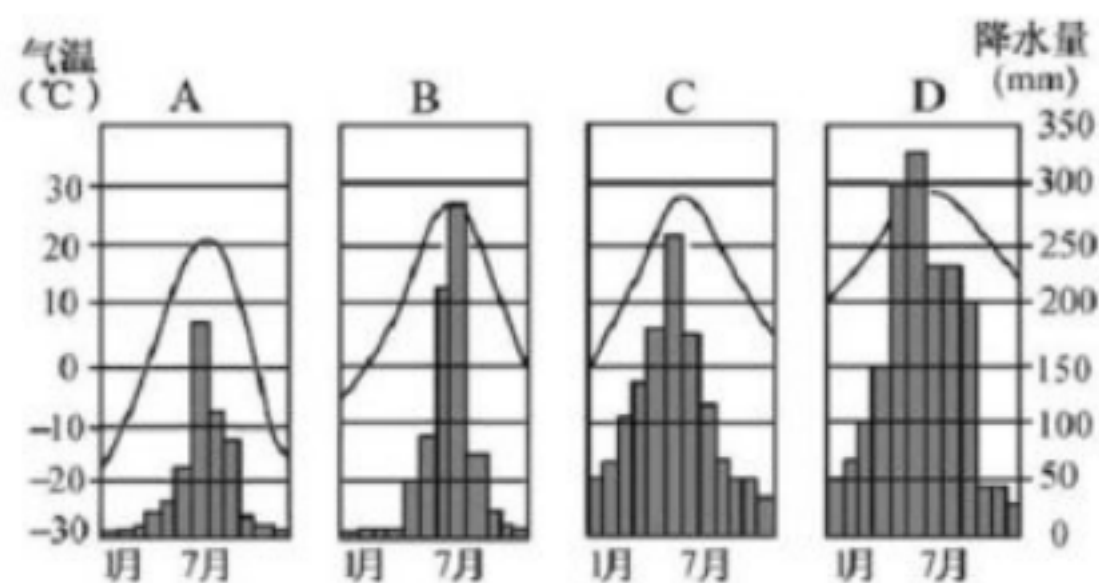
(2) C、D、E、F 为此次受旱较严重的省区, 其中 C 是 _____ 省, D 是 _____ 省, E 省的行政中心是 _____, F 省的简称是 _____。

(3) E 省地处 _____ 平原, 该平原成为“鱼米之乡”主要是受惠于 _____ 气候 (气候类型) 的影响, 据右图可知该气候的主要特征是夏季 _____、冬季 _____。

28. 读北京、武汉、广州和哈尔滨四个城市的气温曲线和降水柱状图, 回答下列问题。 (20 分)

(1) 根据最高月气温, 最低月气温和气温年较差; 降水量的多少和各月的分配情况, 分析判断四城市分别是:

A _____ B _____ C _____
D _____



(2) 根据气温曲线分析, 我国气温分布特点是:

冬季 _____ ; 夏季 _____。

(3) 从时间上看, 我国大多数地方降水季节分配不均, 多集中于 _____ 季节。

(4) 从空间上看, 我国年降水量的分布特点是 _____ ; 分布的总趋势是 _____。

(5) 根据气温和降水情况, A、B 两城市属 _____ 气候; C、D 两城市属 _____ 气候, 反映了我国气候的基本特征之一是 _____。

VV99.net

免费文档下载