

# 八年级期末质量检测地理试卷

1. 下列省区没有被北回归线横穿的是 【电子版下载搜索公粽号：好学熊资料库】

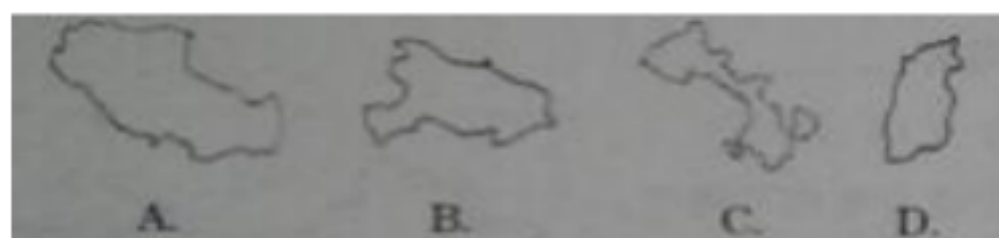
- A. 海南省      B. 台湾省      C. 广西壮族自治区      D. 广东省

2. 小明与小晨在 QQ 上聊起我国各地的风土人情, 其中错误的描述是

- A 天山南北龙舟竞赛真热闹      B. 内蒙古那达慕大会场面宏大  
C. 拉萨藏民敬献哈达迎宾客      D. 云南傣族每年举办泼水节



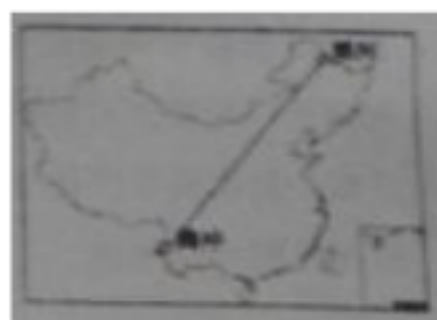
3. 藏族主要分布在以下哪个图示的省级行政区域中?



读下图中甲、乙、丙、丁四条路线所经过的地区, 完成第 4-5 题

4. 能明显经过我国地势三级阶梯的路线是

- A. 甲路线      B. 乙路线  
C. 丙路线      D. 丁路线



5. 能到达我国面积最大的省级行政区域, 也是维吾尔族最大聚居区的路线是

- A. 甲路线      B. 乙路线      C. 丙路线      D. 丁路线

6. 我国东部地区最高峰所在的山脉是

- A 大兴安岭      B. 武当山  
C. 台湾山脉      D. 武夷山

7. 右图中的地理分界线是我国的

- A. 南方地区与北方地区分界线  
B. 季风区与非季风区分界线

- C. 内流区与外流区分界线
- D. 人口稠密区与稀疏区分界线

读图完成第 8-9 题



8. 图中甲山脉是

- A 横断山                      B. 秦岭
- C. 贺兰山                      D. 阴山

9. 地处黄土高原的山西、陕西的许多农村小学生，  
走路上学比坐汽车还要快，主要是因为这里

- A. 地表千沟万壑                      B. 地面崎岖不平
- C. 地面河湖密布                      D. 峰丛洼地广布

10. 缓解我国人均资源不足的办法是

- A 大力减少我国目前对自然资源的开发
- B. 科学合理利用资源, 保护资源, 探索新资源
- C. 使再生资源不断再生, 不可再生资源合理利用
- D. 大力进口我国缺少的各种自然资源

11. 西北地区是我国重要的

- A. 林业基地              B. 畜牧业基地              C. 渔业基地              D. 商品粮基地

12. 春节期间, 小强想去滑雪和看冰雕。下列省级行政区域中, 他最应该去

- A. 广东省              B. 福建省              C. 黑龙江省              D. 四川省

13. 秦岭—淮河是我国一条重要的地理界线, 下列界线与它大体一致的是①暖温带与中

温带分界线②1 月  $0^{\circ}\text{C}$  等温线③800 毫米等降水量线④半湿润区与半干旱区分界线

- A①②                      B. ①④                      C. ②③                      D. ③④

14. 塔里木河汛期出现在夏季, 是因为夏季



- A. 降水丰富                      B. 气温高, 冰雪融水较多  
C. 地下水补给丰富              D. 湖泊水补给丰富

15. 我国自然资源最基本的特征是

- A. 总量丰富, 所以人均占有量多  
B. 总量不多, 所以人均占有量少  
C. 自然资源大国, 人均占有量居世界前列  
D. 总量丰富, 但因人口特别多, 人均占有量就很少

16. 以下做法对保护水资源有利的是

- A. 农业中大量使用农药、化肥              B. 工业污水达标排放  
C. 生活中大量使用洗涤剂                      D. 将垃圾丢进村头的小河里

17. 下列农业发展符合因地制宜原则的是

- A. 新疆大力发展种植业                      B. 华北平原推广水稻种植  
C. 内蒙古高原发展粮食生产                  D. 长江中下游地区发展淡水养殖

18 下列关于高新技术产业的叙述, 不正确的是

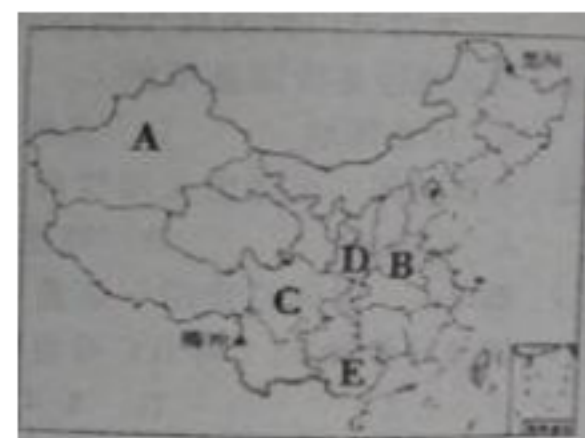
- A. 耗能源、原材料多                      B. 从业人员中, 科技人员所占的比重大  
C. 销售收入中, 用于研究与开发的费用比例大      D 产品更新换代快

19. 郑州有个养猪场要把 1000 头生猪运到香港, 最合理的交通运输方式是

- A 铁路运输                      B. 公路运输                      C. 远洋运输  
D. 航空运输

20. 下列少数民族与其主要民族文化组合, 正确的是

- A 朝鲜族——窑洞                      B. 汉族——赛龙舟  
C. 蒙古族——藏袍                      D. 彝族——竹竿舞



二、读图分析题(3 小题, 21 题 16 分, 22 题 16 分, 23 题 14 分, 24 题 14 分, 共 60 分)

21. 读“中国政区图”, 完成下列问题(16 分)

- (1)我国陆地面积 960 万平方千米,仅次于 \_\_\_\_\_  
和 \_\_\_\_\_居世界第三位。
- (2)我国山东半岛与辽东半岛环抱的内海是\_\_\_\_\_  
临近雷州半岛的内海是
- (3)成语“秦晋之好”中的“秦”“晋”所指省级行政  
区的行政中心分别在\_\_\_\_\_, \_\_\_\_\_。
- (4)我国民族政策是民族区域自治,人口最多的少数民  
族是\_\_\_\_\_。集中居住在天山南北的少数民族是\_\_\_\_\_

22 读下图“中国地形图”,回答下列问题。(16 分) 【电子版下载搜索公粽号: 好  
学熊资料库】



- (1)数码②代表 \_\_\_\_\_ 河,自西向东注入\_\_\_\_\_海
- (2)数码③代表 \_\_\_\_\_山脉,其南侧是有“世界屋脊”之称的 \_\_\_\_\_ 高  
原。
- (3)数码④代表\_\_\_\_\_ 山脉,其东侧主要地形区是 \_\_\_\_\_ 平原
- (4)数码⑤代表\_\_\_\_\_山脉,其主峰 \_\_\_\_\_ 峰是世界第一高峰

23. (14 分)读下列材料,回答下列各题

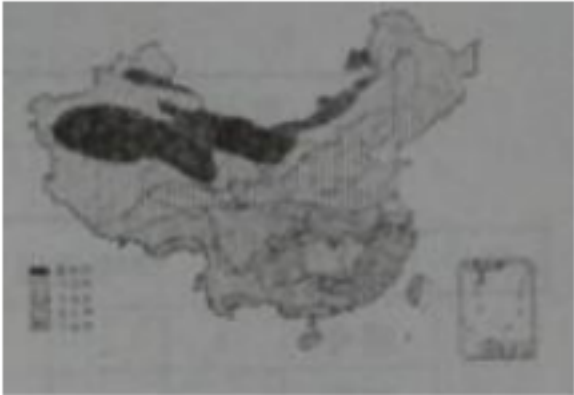
材料一:中国与美国的水资源对比表

	中国	美国
--	----	----

总量(亿/米 <sup>3</sup> )	27000	29700
人均占有量(米 <sup>3</sup> 人)	2500	14000
总量居世界位次	第六位	第四位
人均占有量居世界位次	第 120 位	第 57 位

材料二:我国水资源分布图(右图)

请回答::



(1) 依据材料一,我国水资源总量和位次  
当,但人均占有量更比美国少,主要原因  
与美国大体相

因此,我国是个水资源短缺的国家,每个公民在生活上要合理用水  
和  
水资源



(2) 从图二可以看出,我国水资源的分布规  
律是  
问题,兴建  
代表性工程

(3) 针对我国水资源时间和空间分布不均的  
等蓄洪工程来解决水资源时间分布不平衡,  
有  
;修建

工程来解决水资源空间分布不平衡,代表性工程有

24. 读我国工业分布示意图,回答问题。(14 分)

(1) 从工业分布图上可以看出,我国工业分布很不均匀,  
整体上看,有什么规律?(4 分)



(2) 我国著名的四大工业区, 以沈阳、大连为中心的是 \_\_\_\_\_ 工业基地:  
以香港

广州、深圳为中心的是 \_\_\_\_\_ 工业基地。

(3) 我国高新技术产业起步晚, 发展迅猛。例如 \_\_\_\_\_ 生物工程、航天技术, 医

药制造、新能源和新材料等高新技术产业从无到有, 蓬勃发展

(3) 目前, 高新技术产业分布, 大多依附于大城市与 \_\_\_\_\_ 集聚地, 在全国范围内呈现出 \_\_\_\_\_ 的特点。

八年级期末质量检测地理参考答案

一．单项选择（把正确答案代号填在下面空格内，每题 2 分，共 40 分。）

题号	1	2	3	4	5	6	7	8	9	10
答案	A	A	A	B	C	C	D	B	A	B
题号	11	12	13	14	15	16	17	18	19	20
答案	B	C	C	B	D	B	D	A	A	B

二．非选择题（60 分）

21. （1）俄罗斯 加拿大 （2）渤海 琼州海峡 （3）西安 太原 （4）壮族 维吾尔族 【电子版下载搜索公粽号：好学熊资料库】

22. （1）黄 渤 （2）昆仑 青藏 （3）大兴安岭 东北 （4）喜马拉雅 珠穆朗玛

23. （1）人口过多 节约用水（4 分） （2）从东南沿海向西北内陆逐渐减少（2 分） （3）水库 三峡水利枢纽（答案不唯一）；跨流域调水 南水北调（答案不唯一）（8 分）

24. （1）东部地区工业分布密集，西部地区工业分布稀疏，呈现出沿海、沿江河、沿铁路线分布的特点（4 分）。（2）辽中南 珠江三角洲 （3）电子信息

（4）高校和科研单位 大分散，小集中（4分）



# VV99.net

免费文档下载