

# 中图版七年级地理上册期中试卷（完整）

（时间：60 分钟 分数：100 分）

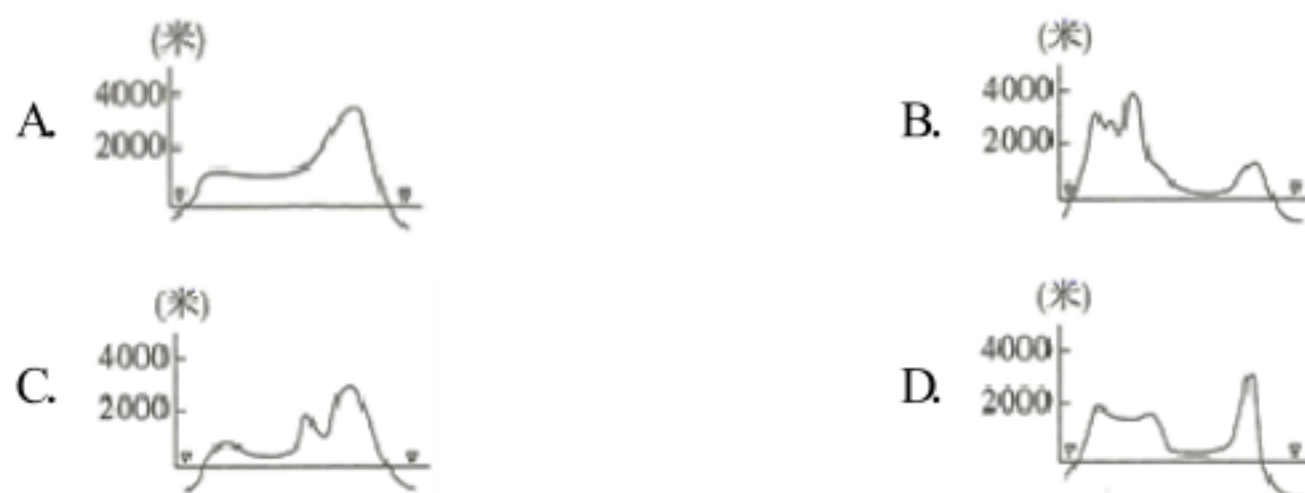
班级：\_\_\_\_\_ 姓名：\_\_\_\_\_ 分数：\_\_\_\_\_

## 一、选择题（共 25 个小题，每题 2 分，共 50 分）

- 1、贝贝和同学一起在学校地理园测量降水量，下列做法或说法正确的是（ ）  
A. 下雨时将雨量器搬到室外，不下雨时搬到室内  
B. 降水过后，直接从雨量器上读取降水量  
C. 降水量的单位为毫升  
D. 将雨量器水平放置于平坦开阔地
- 2、俗话说“找不到北了”。从地理学的角度讲，这个地方应该选择的是（ ）  
A. 赤道                      B. 回归线                      C. 南极点                      D. 北极点
- 3、某地民居为平顶房，由此可以推断出该地区的自然环境特点是（ ）  
A. 风力较大                  B. 气温较高                      C. 日照较强                      D. 降水较少
- 4、亚洲地势的特点是（ ）  
A. 西部高、东部低                                      B. 东部高、西部低  
C. 中部高、四周低                                      D. 中部低、四周高
- 5、四大洋中，亚洲没有濒临的是（ ）  
A. 大西洋                      B. 太平洋                      C. 印度洋                      D. 北冰洋
- 6、日本东京正值樱花盛开的季节，应到哪个旅游胜地观赏（ ）  
A. 泰山                          B. 富士山                          C. 黄山                          D. 金刚山
- 7、日本是个多地震国家的原因是（ ）  
A. 日本是岛国                  B. . 日本被世界上最大的大洋——太平洋包围  
C. 日本的地壳薄弱，易碎      D. . 日本位于板块与板块的交界处
- 8、下列地理景观与其对应地区的搭配，正确的一组是（ ）  
A. 水乡泽国——华北平原                      B. . 千沟万壑——黄土高原  
C. 山青水碧——内蒙古高原                      D. . 林海雪原——柴达木盆地
- 9、我国四大地理区域中，位于地势第一级阶梯的是（ ）

A . 西北地区    B . 北方地区    C . 青藏地区    D . 南方地区

10、下图中能正确反映美国中部自西向东地势起伏的剖面图是（    ）



11、影响亚洲大河流向的最主要的因素是（    ）

A . 气候    B . 海陆位置    C . 地形、地势    D . 纬度位置

12、长江经济带采取“退田还湖”的举措，体现了流域开发“人水和谐”的理念，其根本目的是（    ）

A . 增加灌溉水源    B . 修复生态系统    C . 促进工业发展    D . 发展水产养殖

13、去青藏地区旅游，经常会看到被称为“高原之舟”的畜种是（    ）

A . 牦牛    B . 藏绵羊    C . 藏山羊    D . 骆驼

14、我国少数民族主要分布在（    ）

A . 东南、西南、西北    B . 东北、西南、东南  
C . 东北、西南、西北    D . 东北、东南、西北

15、西安、武汉、长沙等城市出台多项优惠政策，吸引高校毕业生落户，此举对城市发展的益处不包括（    ）

A . 提高城市科技创新力    B . 提升城市人口素质  
C . 加快城市人口老龄化    D . 拉动城市消费增长

16、中国各地的饮食文化独具特色，有多种菜系，下列四种菜系相对应的省区及省会城市正确的是（    ）

A . “粤菜”——广东——福州    B . “湘菜”——湖北——武汉  
C . “鲁菜”——山东——青岛    D . “川菜”——四川——成都

17、我们生活的大洲——亚洲绝大部分位于（    ）

A . 东半球、南半球    B . 东半球、北半球  
C . 西半球、南半球    D . 西半球、北半球

18、假如你有机会去埃及看金字塔，你所听到的当地语言是（    ）

A. 西班牙语      B. 英语      C. 阿拉伯语      D. 汉语

19、位于亚洲、非洲、大洋洲、南极洲之间的大洋是(      )

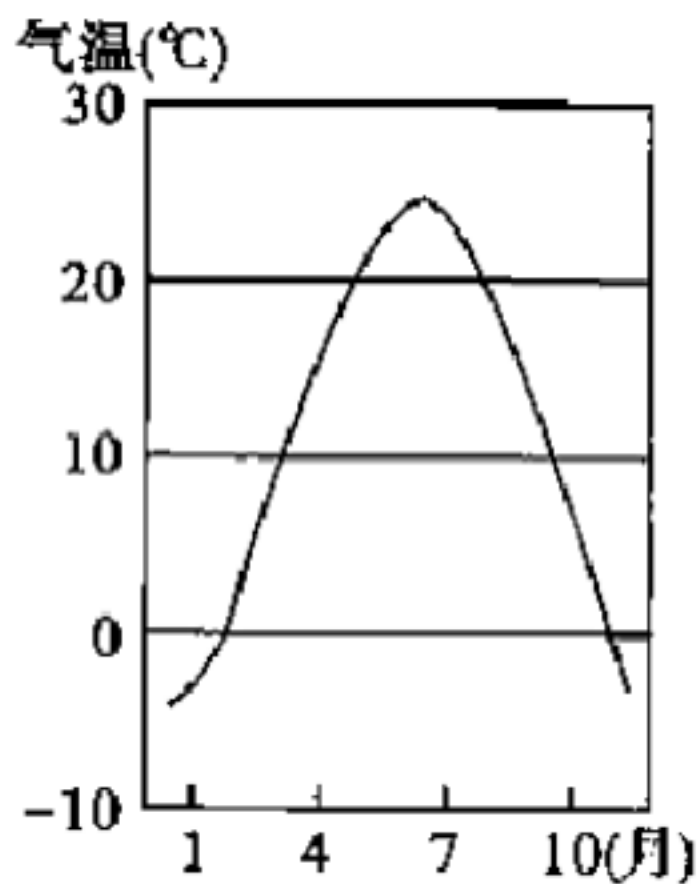
A. 太平洋      B. 印度洋      C. 大西洋      D. 北冰洋

20、下列有关亚洲气候特点的描述，错误的是(      )

A. 气候复杂多样      B. 季风气候显著

C. 海洋性特征显著      D. 大陆性气候广泛

21、下图是某地气温年变化曲线图，据此判断该地位于 (      )



A. 热带      B. 北温带      C. 南温带      D. 寒带

22、下列不属于海陆变迁的原因的是(      )

A. 地壳的变动      B. 海平面的升降      C. 地球公转      D. 人类活动

23、下列地点中，位置符合东半球、北半球、高纬度三个条件的是(      )

A.  $165^{\circ}\text{E}, 20^{\circ}\text{N}$       B.  $21^{\circ}\text{W}, 47^{\circ}\text{N}$

C.  $165^{\circ}\text{W}, 70^{\circ}\text{S}$       D.  $15^{\circ}\text{W}, 65^{\circ}\text{N}$

24、我国地势第二、三级阶梯的分界线是(      )

A. 大兴安岭-阴山-贺兰山-祁连山

B. 大兴安岭-太行山-贺兰山-巴颜喀拉山

C. 大兴安岭-太行山-巫山-云贵高原

D. 大兴安岭-太行山-巫山-雪峰山

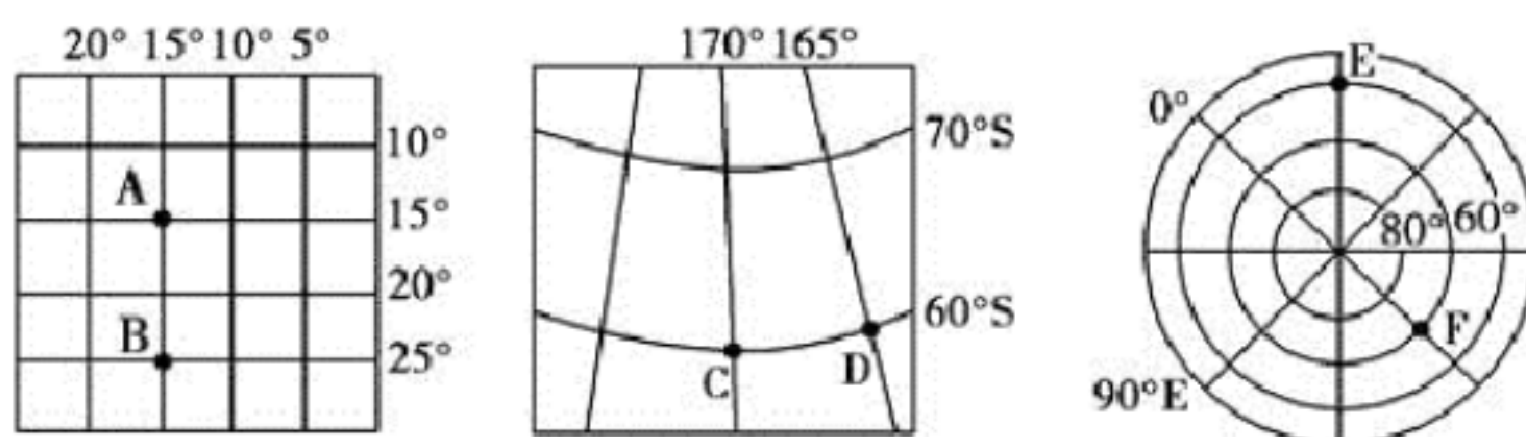
25、“我们亚洲，山是高昂的头；我们亚洲，河像热血流……”听到这首《亚洲雄风》歌曲，我们的脑海中会涌现出一幅壮丽山河的画卷。这里的“山”如

果是世界的“头”那么这座山是指（ ）

A 天山 B ．阿尔卑斯山 C ．青藏高原 D ．珠穆朗玛峰

二、综合题（第 1 题 12 分,第 2 题 10 分,第 3 题 15 分,第 4 题 13 分,共 50 分）

1、读下图，分析回答下列问题。



- (1) 图中 A 点的地理坐标是\_\_\_\_\_，所属的半球是\_\_\_\_\_，所属的纬度地带是\_\_\_\_\_。
- (2) 图中 C 点的地理坐标是\_\_\_\_\_，所属的半球是\_\_\_\_\_。
- (3) 图中 F 点的地理坐标是\_\_\_\_\_，所属的半球是\_\_\_\_\_，所属的纬度地带为\_\_\_\_\_，F 点在 E 点的\_\_\_\_\_方向。
- (4) 图中 A 点在 C 点的\_\_\_\_\_方向，E 点在 C 点的\_\_\_\_\_方向。

2、该图“马六甲海峡航线”示意图，回答问题。



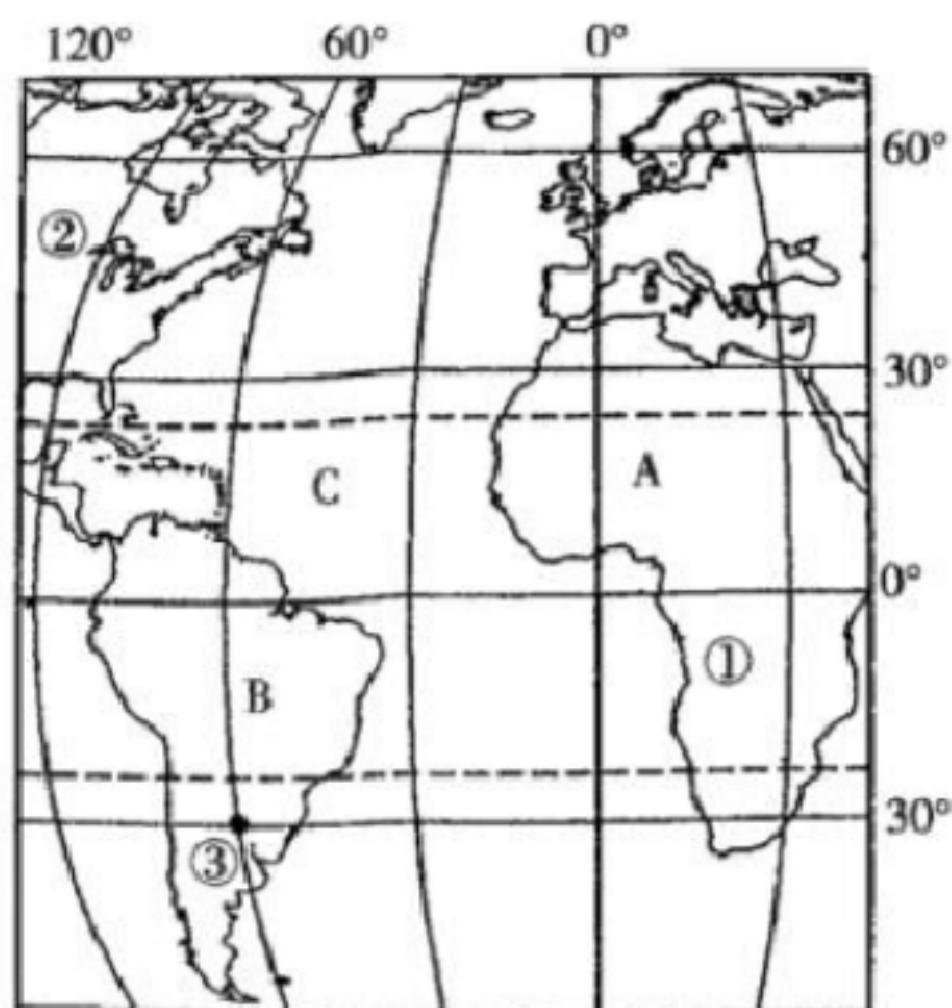
- (1) 马六甲海峡位于\_\_\_\_\_半岛和\_\_\_\_\_岛之间，沟通了\_\_\_\_\_洋和\_\_\_\_\_洋。

(2) 马六甲海峡往西航行,可到达\_\_\_\_\_洲、\_\_\_\_\_洲和亚洲的\_\_\_\_\_地区、  
\_\_\_\_\_地区,往东航行可通往亚洲的\_\_\_\_\_地区和\_\_\_\_\_洲以及  
\_\_\_\_\_洲、\_\_\_\_\_洲。

(3) 马六甲海峡在世界海洋交通中的重要性表现在 \_\_\_\_\_

(4) 对日本来说,马六甲海峡的航线相当重要,其中主要原因是\_\_\_\_\_

3、下图为世界某区域图。读图回答下列问题。



(1) 写出图中字母所在大洲、大洋的名称。

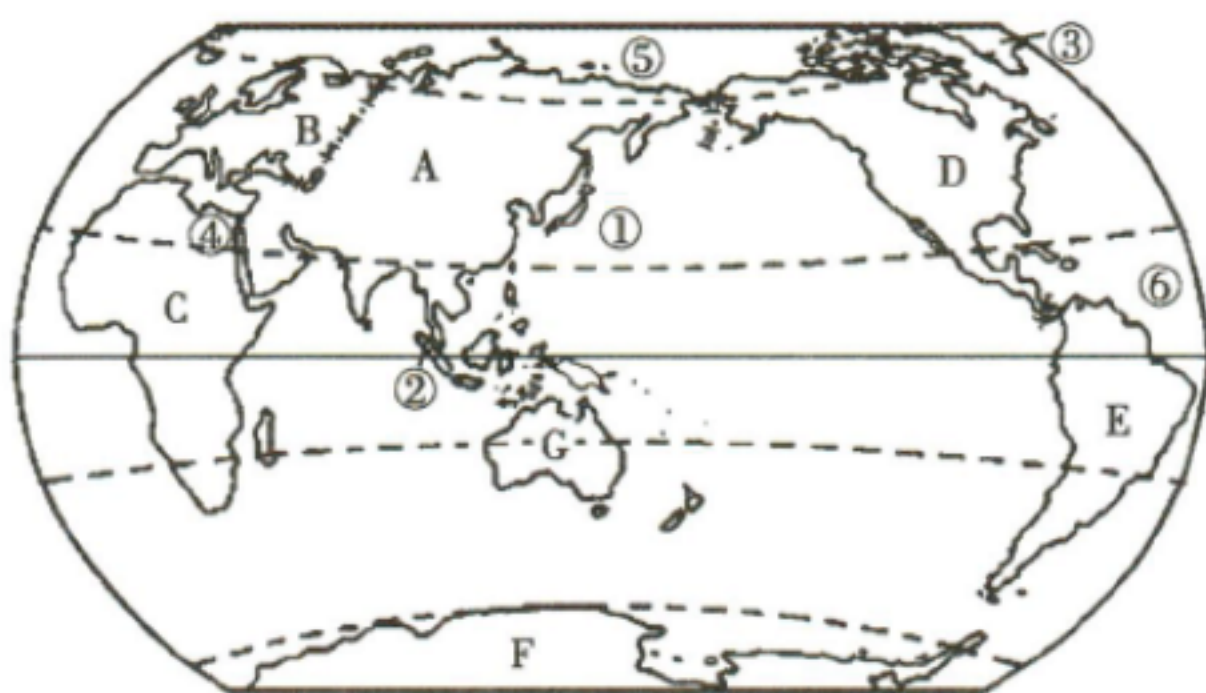
大洲: A\_\_\_\_\_; B\_\_\_\_\_。大洋: C\_\_\_\_\_。

(2) 写出图中①②所属的温度带, ①是\_\_\_\_\_, ②是\_\_\_\_\_。

(3) 图中③地的经度是\_\_\_\_\_。

4、读下面世界海陆分布图, 回答下列问题。





- (1) 世界上发达国家最为集中的大洲是\_\_\_\_\_ (填字母)，世界上面积最大的大洋是\_\_\_\_\_ (填序号)。
- (2) ②是\_\_\_\_\_ 海峡，世界上面积最大的岛屿③是\_\_\_\_\_。
- (3) A大洲与 C大洲的分界线④是\_\_\_\_\_ 运河。

## 参考答案

### 一、选择题（共 25 个小题，每题 2 分，共 50 分）

- 1、D
- 2、D
- 3、D
- 4、C
- 5、A
- 6、B
- 7、D
- 8、B
- 9、C
- 10、B
- 11、C
- 12、B
- 13、A
- 14、C
- 15、C
- 16、D
- 17、B
- 18、C
- 19、B
- 20、C
- 21、B
- 22、C
- 23、D
- 24、D
- 25、D

### 二、综合题（第 1 题 12 分，第 2 题 10 分，第 3 题 15 分，第 4 题 13

分，共 50 分)

1、 $15^{\circ}\text{W}$   $15^{\circ}\text{S}$  东半球、南半球 低纬度  $170^{\circ}\text{E}$ ,  $60^{\circ}\text{S}$  西半球、南半球  $180^{\circ}$  ,  $70^{\circ}\text{N}$  西半球、北半球 高纬度 西北 东北 东北

2、马来 苏门答腊 太平 印度 欧 非 西亚 南亚 东亚 大洋 北美 南美 是从欧洲、非洲向东航行到东南亚、东亚各港口最短海运航线的必经之地，是连接太平洋与印度洋的重要海上通道 日本本国石油贫乏，所需的石油绝大部分来自中东波斯湾沿岸，由波斯湾沿岸运往日本的石油航线必经过马六甲海峡。

3、非洲 南美洲 大西洋 热带 北温带  $60^{\circ}\text{W}$

4、B ① 马六甲 格陵兰岛 苏伊士



# VV99.net

免费文档下载