

义务教育课程标准实验教科书数学三年级（下册）
期 末 调 查 卷（A）

班级 _____ 姓名 _____ 成绩 _____

一、直接写出得数（共 8 分）

$$\begin{array}{llllll} 900 \div 3 = & 400 & \div 8 = & 21 & \times 40 = & 60 & \times 50 = \\ 30 \times 23 = & 20 & \times 42 = & 640 & \div 2 = & 560 & \div 7 = \end{array}$$

二、用竖式计算，有★的题要验算（计算各 2 分，验算各 2 分，共 16 分）

$$\star 406 \div 6 \qquad 721 \qquad \div 7 \qquad 646 \qquad \div 8$$

$$\star 24 \times 35 \qquad 45 \qquad \times 60 \qquad 78 \qquad \times 87$$

三、填空（每题各 3 分，共 24 分）

1. 把每个乘数都看成与它最接近的整十数，估计各题的积。

49×57 的积大约是（ ）；

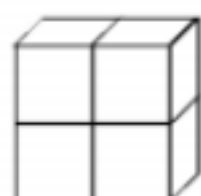
62×11 的积大约是（ ）；

88×33 的积大约是（ ）。

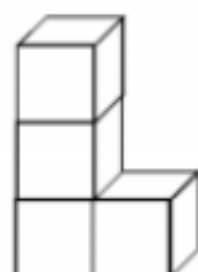
2. $6 \text{ 千米} = (\quad) \text{ 米}$ $3000 \text{ 千克} = (\quad) \text{ 吨}$

$1000 \text{ 平方厘米} = (\quad) \text{ 平方分米}$

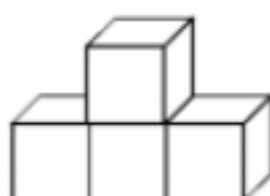
3.



①



②




③




④

从侧面看这几个物体，形状相同的有（ ）、（ ）和（ ）。

4. 在每个图里涂色，表示它右边的小数或分数。



0.7



$\frac{2}{3}$



$\frac{4}{5}$

5. 下面是三种水果的价钱。

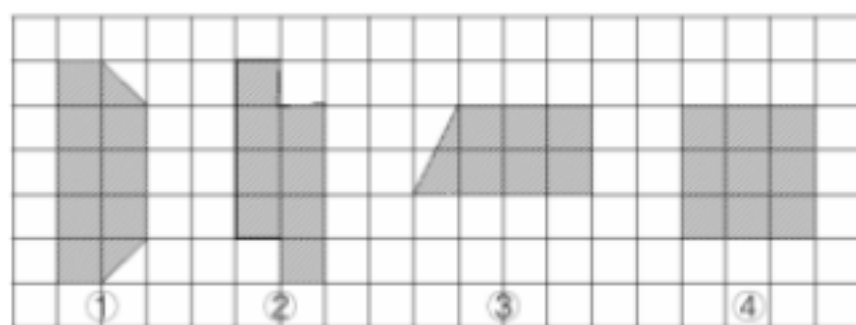
苹 果	橘 子	香 蕉
每千克 9.3 元	每千克 7.5 元	每千克 7.8 元

每千克香蕉比每千克橘子贵（ ）元。

买1千克苹果和 1千克香蕉，一共要付（ ）元。

按7个苹果 1千克计算， 1元钱能买 1个苹果吗？（ ）

6.



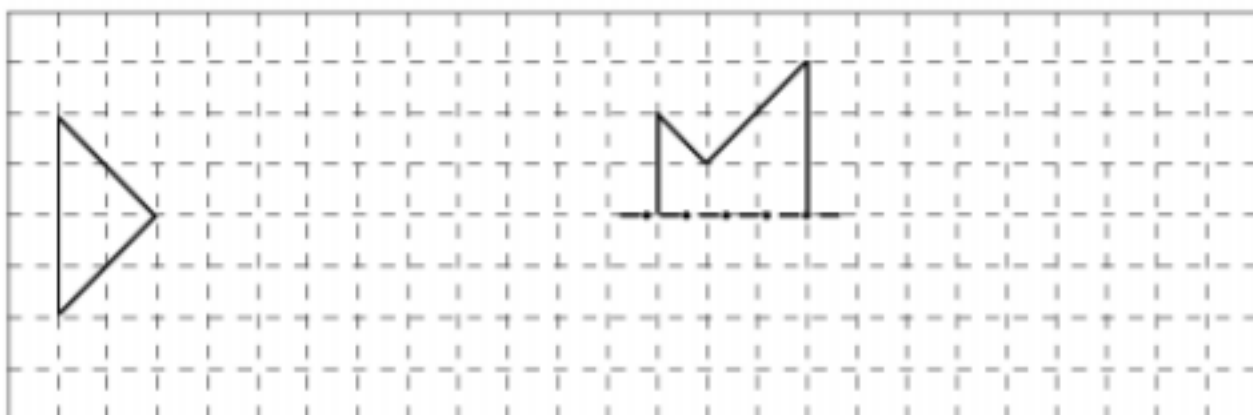
上面的四个图形中，图形（ ）和图形（ ）面积相等。

7. 7 分米是 $\frac{(\quad)}{(\quad)}$ 米，写成小数是（ ）米， 2元5角是（ ）元。

8. 一个星期是 7天，今年全年的天数是（ ）个星期还多（ ）天。今年7月和8月，李林只要到校 5天，其余时间都放暑假。他今年的暑假有（ ）天。


四、画一画，填一填（第 1题6分，第2题4分，共 10分）

1.



- (1) 把方格纸上左边的三角形向右平移 7 格。
- (2) 画出方格纸右边图形的另一半，使它成为一个轴对称图形。
- (3) 在方格纸空出的地方画一个面积 36 平方厘米的正方形（每个方格表示 1 平方厘米）。

2. 2011 年 12 月 1 日是星期四，
完成这个月的月历。
这个月有（ ）个星期六，
（ ）个星期日，



五、选择合适的答案，在 ☐ 里画“√”（共 12 分）

1. 下面的年份中，哪一个是闰年？

2010 年 ☐

2014 年 ☐

2016 年 ☐

2. 观察下面的图形，哪个不是轴对称图形？



3. 1 棵白菜重 2 千克，多少棵这样的白菜重 1 吨？

100 棵 ☐

500 棵 ☐


1000 棵 ☐

4. 小芳拿走右边小棒的 $\frac{1}{2}$ ，她拿走了多少根？

2 根 ☐

4 根 ☐

5 根 ☐



5. 如果算式 $\square 37 \div 7$ 的商是两位数， \square 里的数不可能是几？

5 ☐

6 ☐

7 ☐

6. 甲、乙、丙三个数都是大于 0 的整数，而且 $甲 > 乙 > 丙$ ，这三个数的平均数应该怎么样？

比甲大 ☐


比丙小 ☐

比甲小比丙大 ☐

六、解决问题（每题 6 分，共 30 分）

1. 春江小学的环形跑道一圈是 300 米。张宇在这个跑道上跑 3 圈用了 6 分，平均每分跑多少米？

2. 1张课桌和 1把椅子是一套（如图）。学校买 80套这样的课桌椅， 一共要花多少元？



3. 果园摘下 175吨苹果， 一辆汽车一天能运 12次， 每次能运 15吨。摘下的苹果用这辆汽车一天能运完吗？

4. 王大伯在一块地里种了三种蔬菜（如图）。



种萝卜的地有多少平方米？

种菠菜的地有多少平方米？

种白菜的地有多少平方米？

5. 4 名女生和 3名男生比投篮， 每人投 10次， 各人投中的次数记录如下。

女生投中次数统计

姓 名	投中次数
李玉茹	6
王晓洁	7
马 倩	5
周 丽	6

男生投中次数统计

女生平均每人投中多少次？男生

姓 名	投中次数
朱 海	5
赵一鸣	8
陆 波	8
一	

呢？

是女生投得准一些，还是男生投得准一些？

VV99.net

免费文档下载