

期末综合复习

复习时间:60 分钟

满分:100 分

书写(3 分)

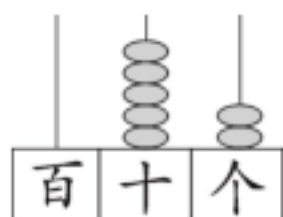
书写	知识技能					生活运用	得分	附加题
	一	二	三	四	五	六		

知识技能 (72 分)

tián kòng

一、填空。(每空 1 分,共 28 分)

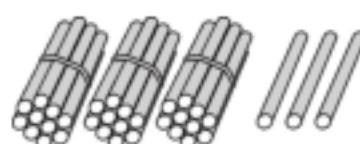
1.看图写数。



()



()

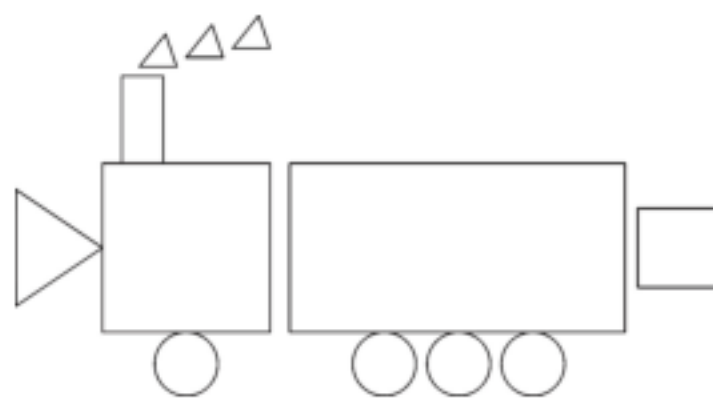


()

2.72 里面有()个十和()个一。

3.3 元 4 角=()角 45 分=()角()分

4.长方形有()个,正方形有()个,圆有()个,三角形有()个。



5.个位上是 4,但比 60 大的两位数有()。

6.34 比 56 少(),80 比 28 多()。

7.在○里填上“>”“<”或“=”。

$$36 + 20 \bigcirc 20 + 36 \quad 70 - 23 \bigcirc 70 - 33 \quad 12 - 8 \bigcirc 16 - 8$$

$$24 + 35 \bigcirc 24 + 45 \quad 6 \text{ 元 } 8 \text{ 角 } \bigcirc 68 \text{ 角 } \quad 36 \text{ 角 } \bigcirc 36 \text{ 元}$$

8.找规律,填一填,画一画。

(1)(),56,57,58,(),(),()。

(2) \triangle \square \square \triangle \square \square () () ()

xuǎn zé

二、选择。(将正确答案的序号填在括号里)(每题2分,共10分)

1. 下面三个数中, () 最接近 80。

① 48

② 79


③ 83

2. 估一估, () 的得数是四十多。

① $45 + 8$

② $58 - 7$

③ $37 + 12$

3. 1 张  不能换成 ()。

① 2 张 

② 10 张 

③ 10 张 

4. 元元有 58 张卡片, 才才的卡片比元元的多得多, 才才可能有 () 张卡片。

① 20

② 62

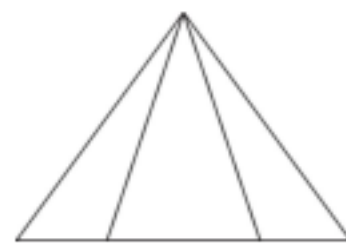
③ 98

5. 右面图中有 () 个三角形。

① 3

② 5

③ 6



jì suàn

三、计算。(共20分)

1. 直接写出得数。(8分)

$56 + 20 =$

$39 - 10 =$

$43 + 5 =$

$14 - 9 + 23 =$

$73 - 8 =$

$15 - 6 =$

$5 + 55 =$

$42 + 5 - 7 =$

2. 用竖式计算。(12分)

$38 + 57 =$

$50 - 39 =$

$16 + 64 =$

$84 - 16 =$


四、看图列式计算。(8分)

1.



$$\square \bigcirc \square = \square$$


2.



$$\square \bigcirc \square = \square$$

zài fāng gé zhǐ shàng huà chū liǎng gè bù tóng de cháng fāng xíng

五、在方格纸上画出两个不同的长方形。(6分)



生活运用 (28分)

jiě jué wèn tí

六、解决问题。(共28分)

1. 图书室现在有多少本书?(5分)



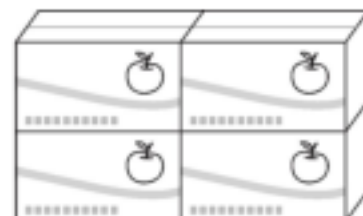
原有49本,又买回新书28本。

2. 给两个班每人发一个苹果,这些苹果够吗?(5分)



我们一班有35人。

我们二班有46人。



共70个

3. 一本故事书有 76 页, 丽丽看了多少页? (5 分)

我看了 5 天, 还有 8 页没看。



4. 一(2)班植树多少棵? (5 分)


一(1)班植树 41 棵。



一(2)班再植 8 棵树就与一(1)班植的一样多。



5. 买玩具。(8 分)



(1) 买①号商品和②号商品一共要多少元? 付 1 张 , 应找回多少元?

(2) ③号商品比②号商品贵多少元?

附加题 (10 分)

在运动会上, 一年级有 20 人参加跳高和跳远比赛。参加跳高的有 13 人, 参加跳远的有 15 人。两项比赛都参加的有多少人?

VV99.net

免费文档下载