

## 一、选择题 (共10题)

第(1)题  
统计每个小朋友各有多少本作文书，可以用写“正”字的方法进行记录。如果记录30本作文书，要写（ ）个“正”字。  
A. 5 B. 30 C. 6

第(2)题  
下面各图中，（ ）是轴对称图形。



第(3)题  
下面算式，商最大的是（ ）。  
A.  $48 \div 86$  B.  $56 \div 78$  C.  $27 \div 39$

第(4)题  
 $\square \div 9 \triangle \cdots \bigcirc$   $\bigcirc$ 最大是（ ）  
A. 9 B. 8 C. 7 D. 10

第(5)题  
除数是9，余数最大是（ ）。  
A. 7 B. 8 C. 9

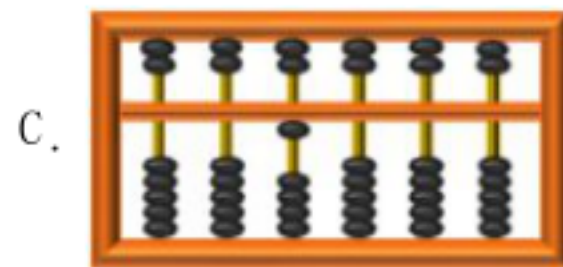


第(6)题  
 $\square \div 5 \square \cdots \square$ 余数可以是（ ）  
A. 1、2、3、4 B. 0、1、2、3、4 C. 2、3、4、5

第(7)题  
下面算式，得数和“ $9 \times 6$ ”相等的是（ ）。  
A.  $8 \times 6$  B.  $9 \times 5$  C.  $8 \times 7$

第(8)题  
全班42人，平均分成7组，每组有（ ）人。  
A. 5 B. 6 C. 7

第(9)题  
算式 $14 \div 72$ ，除数是（ ）。  
A. 14 B. 7 C. 2

第(10)题  
下面（ ）个算盘上的数读作一万。



## 二、填空题 (共10题)

第(1)题  
一个数由3个千、6个十和5个一组成，这个数是\_\_\_\_\_，它是一个\_\_\_\_\_位数，读作\_\_\_\_\_。

第(2)题

被除数	30	—	40	72	81
除数	5	4	—	8	9
商	—	7	5	—	—

第(3)题  
在一道有余数的除法算式中，除数是5，余数和商相同，那么这个商可能是（ ）。

第(4)题

世界上最小的鸟是蜂鸟，大约只有2\_\_\_\_\_重。世界上最大的鸟是鸵鸟，大约重100\_\_\_\_\_，它的一个蛋就重1500\_\_\_\_\_。

第(5)题  
筐里有24个，平均分给8个小朋友，每个小朋友分到( 个)。

第(6)题  
计算82-46+14时，应先算( 法,)再算( 法,)结果是( . )

第(7)题  
56里面有( 个8; 被除数是63, 除数是7, 商是( ; 3乘9的积减去20, 差是( . )


第(8)题  
计算18÷3时，用到的乘法口诀是( , 用)这句口诀还可以计算的算式有( 、( ) 、( ) . )

第(9)题  
写出5002前面的四个数( 、( ) 、( ) 、( ) . )








第(10)题  
5704里面有( 个千) ( 个百)和4个( . 3个千和6个十组成的数是( . )

三、计算题 (共7题)

第(1)题  
看谁算得又对又快。  
 $6 \times 2 =$                        $36 \div 6 - 9 =$                        $18 =$                        $10 \div 5$   
 $16 \div 4 =$                        $+ 5 = 30$                        $=$                        $9 \div 3 =$                        $18 \div 6$   
 $20 - 5 =$                        $= 6 \div 6$                        $=$                        $5 \div 5 =$                        $15 \div 3$

第(2)题  
看图列式计算。  
5根一捆。  
  
( ) ÷ ( ) = ( ) (捆) ... ( ) (根)

第(3)题  
脱式计算。  
~~45 - 25 + 30~~                       $4 \times 9 \div 6$                        $62 - 8 \times 2$   
~~(35 + 15) \div 5~~                       $8 + 64 \div 8$                       ~~6 \times 10~~

第(4)题  
遮住的数是几?  
  $16 \div$    $= 4$                         $\div 4 = 2$                         $= 20 \div$   
  $\div 5 = 5$                         $\div 4 = 1$                         $= 24$                        $6 \times$

第(5)题  
直接写得数。  
 $72 \div 8$                        $- 8 = 64$                        $= 4 \times 7$                        $+ 6 = 35$   
 $21 \div 3$                        $= 9 \times 9$                        $= 54 \div 6$                        $= 12 \div 2$

第(6)题  
口算。  
 $72 \div 9 =$                        $7 \times 6 =$                        $56 \div 8$   
 $600 + 800 =$                        $+ 6 =$                        $4 \times 4 =$                        $32 \div 4 \times 2$   
 $1700 - 900 =$                        $+ 700 + 8 = 3000$                       千克 - 800克 =

第(7)题  
计算。  
 $72 \div 9 =$

四、解答题 (共6题)

第(1)题  
彩灯按照下图的顺序进行排列。



- (1) 第36盏灯是什么颜色的？
- (2) 56盏灯中有多少盏绿色的灯？

第(2)题

有45个乒乓球，平均分给6个组，每组分得几个？还剩下几个？

第(3)题

红红带20元钱去买东西。



3元

6元

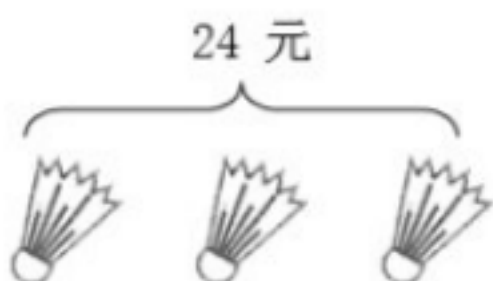
- (1) 全部买毽子,最多能买几个？
- (2) 全部买水杯,最多能买几个？
- (3) 还可以怎么买？

第(4)题

超市棒棒糖专柜按下面的规律摆放了30根棒棒糖。最后一根是什么口味？



第(5)题



一个羽毛球多少元钱？

第(6)题

小红串珠子，按2个红珠子、3个黄珠子和4个绿珠子的顺序，一共串了81颗珠子。



- (1) 第81颗珠子是什么颜色的？
- (2) 这时小红分别用了多少颗红珠子？多少颗黄珠子？多少颗绿珠子？

# VV99.net

免费文档下载