

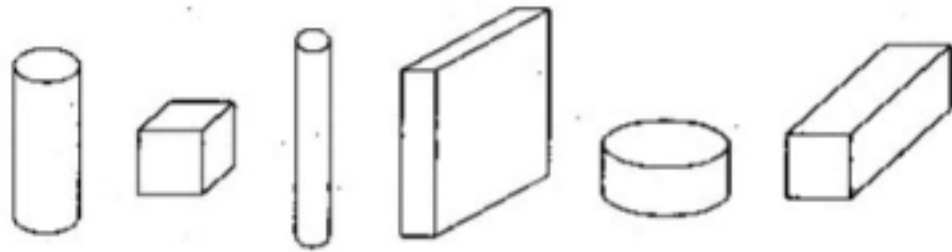
单元测试（四）

一、连连线。

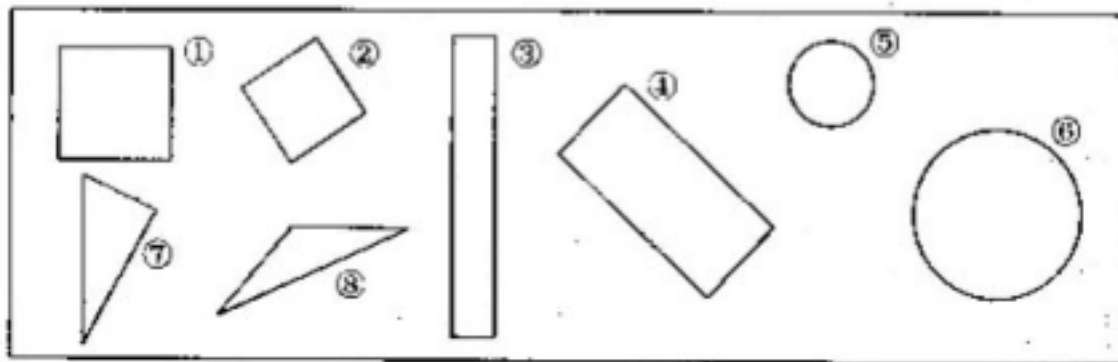
1. 连连线。

正方体闹钟 长方体牙膏盒 排球 大字典 圆柱体化妆品

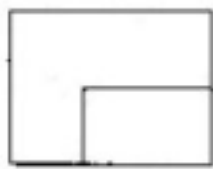
正方体 长方体 圆柱体 球体



2. 把同类的图形连在一起。



二、数一数，填一填。



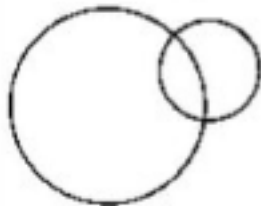
()



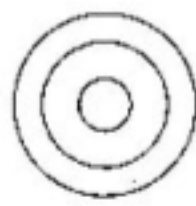
()



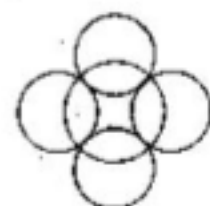
()



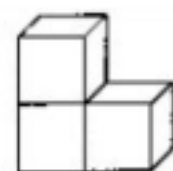
()



()



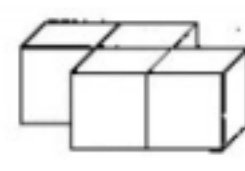
()



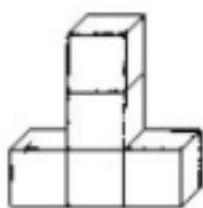
()



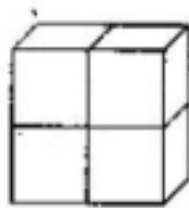
()



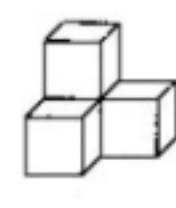
()



()



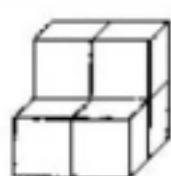
()



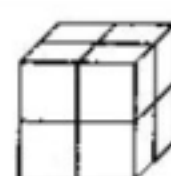
()



()



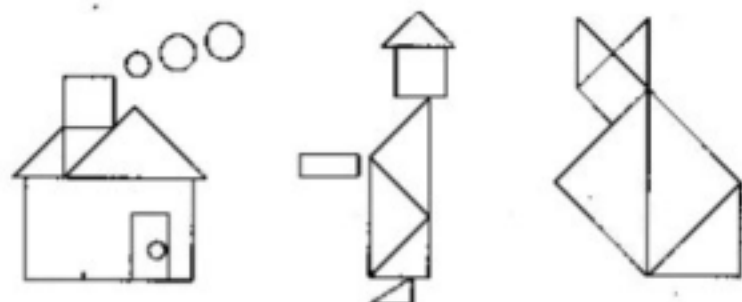
()



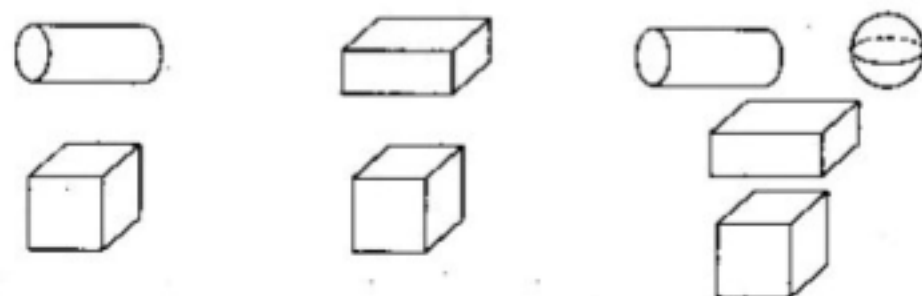
()

三、涂 色。


1. 给□涂红色,给□涂蓝色,给△涂黄色,给○涂绿色。



2. 给□涂红色,给□涂黄色,给○涂蓝色,给⊙涂绿色




四、把不同类的圈起来。



五、在每一个口中不同的是什么?用“√”画出。

太阳	星星	中国	上海	张	李
云朵	月亮	日本	美国	赵	流

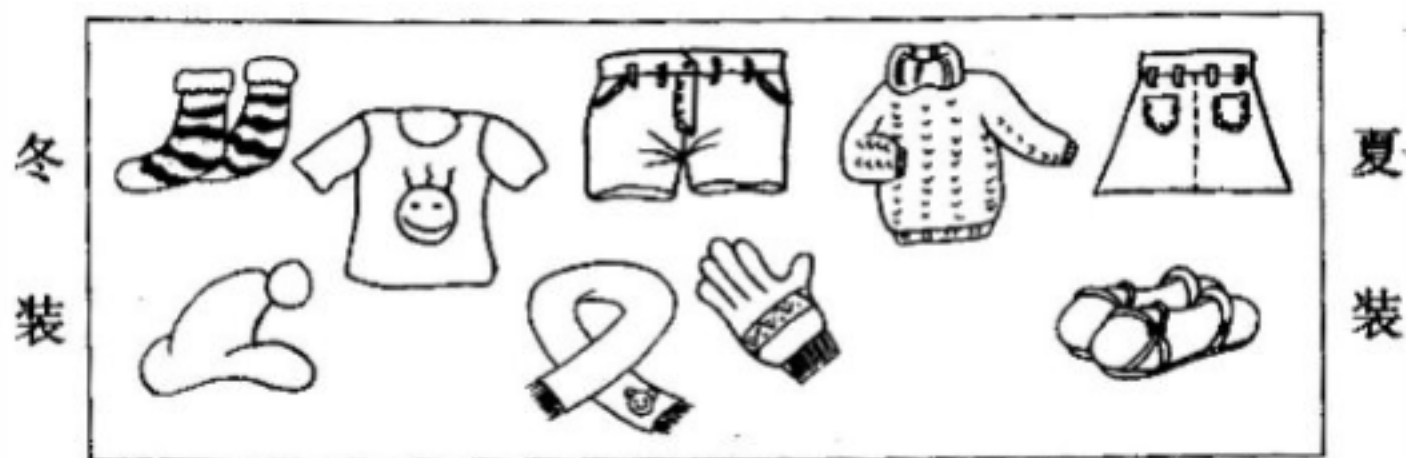
六、有关系的東西用线连起来。



七、比一比,谁算得又对又快。

$0+1=$	$5-4=$	$4-2=$	$2+1=$
$3-3=$	$5+0=$	$1+1=$	$3-0=$
$2+3=$	$5-1=$	$4-1=$	$2-2=$

八、你能帮妈妈整理衣柜吗?连一连。



九、下图中每一行的规律是什么？哪行不同哪行画“√”。

① ()	① 1 2 3 4 ()
② ()	② 2 3 4 5 ()
③ ()	③ 2 4 6 8 ()

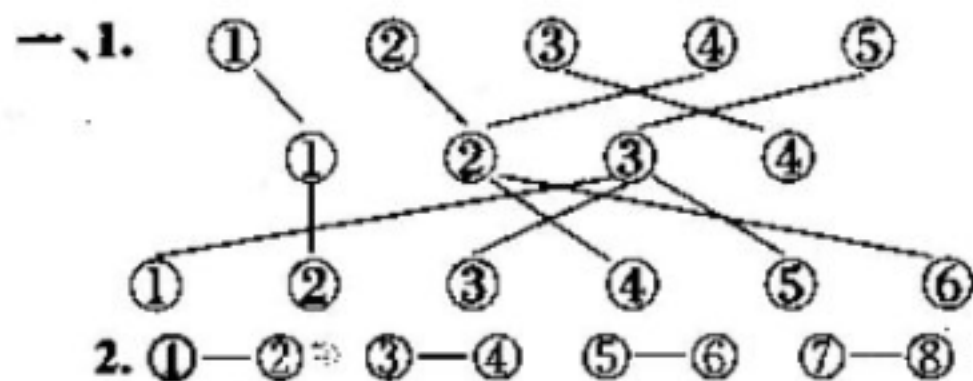
十、看一看，填一填。

星期天，小彬一家人去百货公司购物，商场里的商品真多啊！小彬发现商品是分类摆放的。在一楼有一张示意图：

6F 美食坊
5F 家用电器
4F 黄金 钟表 照相
3F 男装 男鞋
2F 女装 女鞋
1F 儿童用品 文化用品
-1F 地下超市

1. 爸爸要买一部电话机应去()楼。
2. 小彬想买水彩笔和童话书应去()楼。
3. 妈妈想给爷爷买一双鞋应去()楼。
4. 小彬想买饼干、面包应去()楼。
5. 妈妈还想给外公买一块手表，应()楼。
6. 全家人中午吃午餐可以去()楼。

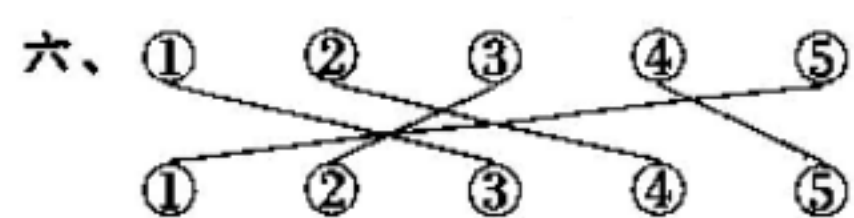
参考答案



二、①2 ②3 ③4 ④2 ⑤3 ⑥5 ⑦3 ⑧5
⑨4 ⑩5 ⑪4 ⑫4 ⑬5 ⑭6 ⑮8

三、略 四、略

五、1. 云朵 2. 上海 3. 流



七、1,1,2,3 0,5,2,3 5,4,3,0

八、略 九、1. ② 2. ③

十、1.5 2.1 3.3 4. -1 5.4 6.6

精心整理资料，感谢使用！

VV99.net

免费文档下载