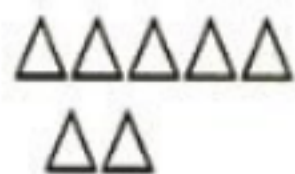


# 人教版一年级数学上册单元测试

姓名：\_\_\_\_\_

## 1.看图读数：



## 2.读数量、读数序。


1      2      3      4      5      6      7      8      9      10

读一读：1 添上 1 是 2，2 添上 1 是 3，3 添上 1 是 4      .....

(      )    2    3                                  (      )    6    7    (      )

## 3.方向与数序。

(1)



①从左往右给上面的小动物在  里编号。

②上面共有 (      ) 只小动物。

③从左边数， 排第 (      )， 排第 (      )。

④从右边数， 排第 (      )， 排第 (      )。

(2) 按要求涂颜色。

涂左边的 2 个: ☆ ☆ ☆ ☆ ☆

涂右边的 第 2 个: ☆ ☆ ☆ ☆ ☆

(3) 圈一圈。(共 10 分)

(左) ○ ○ ○ ○ ○ ○ ○ ○ ○ ○ (右)

①把左边的 3 个 ○ 圈起来;

②把右边的 5 个 ○ 圈起来;

③给从左边数起的第 5 个 ○ 涂上红色;给从右边数起的第 5 个 ○ 涂上绿色;

4. 数量比较。

(1) 看图比较, 在 \_\_\_\_\_ 填上“多”或“少”



和 比较, \_\_\_\_\_, \_\_\_\_\_, .....①

我们可以说, 比 \_\_\_\_\_; 比 \_\_\_\_\_。.....②

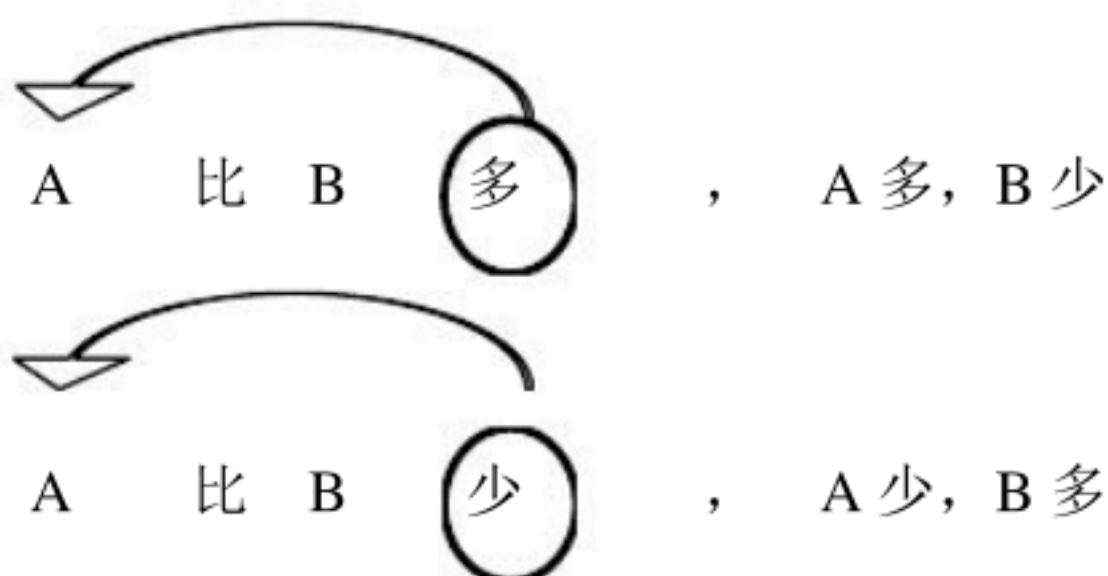
【小技巧】:

孩子往往会说第①种表述方式, 但第②种表述方式容易说错。

要正确说出“A 比 B 多(或少)”, 我们要确认在“比”字之前的“A”是(A 与 B 之间)的较大数还是较小数, 如果“A”是较大的, 我们即说.....

“A 比 B 多”, 如果“A”是较小的, 我们即说..... “A 比 B 少”。

图解:



(2) 按要求画  $\triangle$ 。

○ ○ ○ ○

① 比○多画 1 个。

\_\_\_\_\_

② 比○少画 2 个。

\_\_\_\_\_

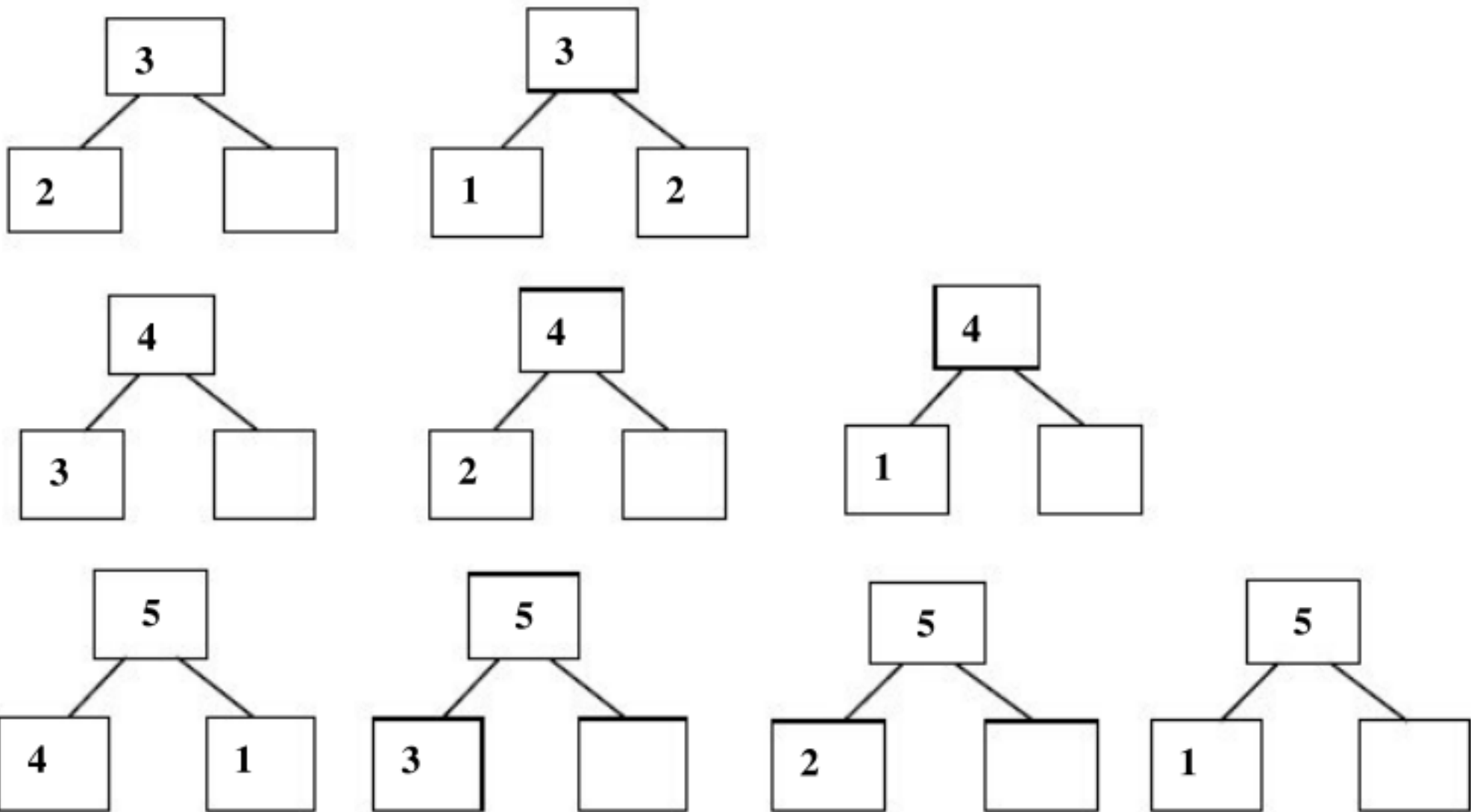
③ 和○画同样多。

\_\_\_\_\_

(3) 请你填上合适的数。

$5 > ( \quad )$	$( \quad ) < 3$	$( \quad ) > 4$
$2 < ( \quad )$	$3 < ( \quad )$	$( \quad ) = ( \quad )$
$1 < ( \quad )$	$( \quad ) > ( \quad )$	$( \quad ) < ( \quad )$

5. 数的组成 (分成), 填空, 读一读, 熟记。



(可以家长的帮助下用小棒把 6——10 数的分成写出来)



# VV99.net

免费文档下载