

(人教新课标) 二年级数学上册期中试卷

班级_____ 姓名_____ 分数_____

一、口算题(8分)

$$\begin{array}{cccc} 58+7= & 6+25= & 36+4= & 23+8= \\ 35-29= & 34-27= & 53-38= & 43-26= \end{array}$$

二、用竖式计算(12)

$$24+9+8= \quad 30-19+10= \quad 50-8+20= \quad 15+9-6=$$

三、填空(30分)

1. 填单位名称。

一支铅笔长20 ()。

一条跑道大约长60 ()。

2. $4 \times 5 = (\quad)$ $(\quad) \times 4 = 16$

$(\quad) \times 1 = 1$ $3 \times (\quad) = 15$

$6 \times 5 = (\quad)$ 表示()个()连加。

3. 看图填空。



$(\quad) \times (\quad) = (\quad)$

$(\quad) + (\quad) = (\quad)$



个
() 个 () 相加

加法算式:

乘法算式: 或

4. 改写算式:

$2+2+2+2$ 或 _____

$$6+6+6+6 \quad \underline{\hspace{2cm}} \text{ 或 } \underline{\hspace{2cm}}$$

$$4+4+4+4+4+3 \quad \underline{\hspace{2cm}} \text{ 或 } \underline{\hspace{2cm}}$$

5. 在○里填上“>、<、=”

$$90 \text{ 厘米} \bigcirc 8 \text{ 米}$$

$$30 \text{ 厘米} \bigcirc 4 \text{ 米}$$

$$40 \text{ 厘米} \bigcirc 75 \text{ 厘米}$$

$$1 \text{ 米} \bigcirc 50 \text{ 厘米}$$

$$60 \text{ 厘米} \bigcirc 37 \text{ 厘米}$$

$$1 \text{ 米} \bigcirc 100 \text{ 厘米}$$

四、看图列算式（6分）



加法

乘加

乘减

五、文字叙述题(9分)

1. 6与3的和是多少？

2. 一个因数是4,另一个因数是6,积是多少？

3. 5乘以2得多少？

4. 两个因数都是6,积是多少？

六、作图题（10分）

1. 画一条比9厘米短3厘米的线段。

2. 画一个直角。

3. 画一个小于直角的角

七 应用题 (25 分)

1. 小芳有 15 元钱，可以买到几枝这样的笔？



5 元

2. 商店里有15辆自行车，又运来18辆，卖出了20辆，还剩多少辆？

3. 王老师去书店买书，用去24元，还剩6元，她一共带了多少钱？

4. 公路边种了两排树，每排12棵，一共种了多少棵？

5.



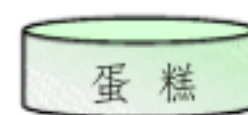
4 元



6 元



5 元



3 元

王华买了 3 盒(hé)薯(shǔ)片，一共要付多少钱？

小云买 4 块蛋糕，要花多少钱？

(3) 小红买了 2 盒巧克力和 1 盒饼干，一共要付多少钱？

(4) 你还能提出什么问题，并列式计算。

人教版二年级上册数学期中试卷

(时间:50 分钟)

班级_____ 姓名_____ 学号_____

一. 知识园

1. 我会算 (10 分)

$3 \times 4 =$	$6 \times 7 =$	$85 - 32 =$	$77 - 30 - 6 =$	$3 \times 6 + 11 =$
$3 + 7 =$	$8 \times 8 =$	$31 - 2 =$	$80 - 78 + 56 =$	$9 - 2 \times 2 =$
$5 \times 2 =$	$7 \times 8 =$	$26 + 6 =$	$34 + 7 - 41 =$	$5 + 5 \times 4 =$
$1 \times 9 =$	$3 \times 5 =$	$8 + 41 =$	$14 + 15 + 16 =$	$9 \times 9 - 80 =$

2. 我会填 (12 分)

- (1) 我的红领巾有()个角。一把三角尺最多只有()个直角。
教室的黑板表面有()个角, 它们都是()角。
- (2) 姚明的身高是 226()。教室门的高度大约是 2()。
东方明珠电视塔高 468(), 亚洲第一, 世界第三。
- (3) 笔算加法和减法时都要把()对齐, 都从()算起, 加法个位上的数相加满(), 就向()位进 1, 减法如果个位不够减, 就从十位()。

3. 让我来判断 (对的打√, 错的打×) (5 分)

- (1) 下面是线段的打√, 不是的打×。




- (2) 用放大镜看角, 角变大了。 ()
- (3) 直角都一样大。 ()
- (4) 一块正方形, 剪去一个角后只剩下三个角。 ()

4. 我来数数角 (6 分)



有()个角



有()个角



有()个角



有()个角 有()个角,其中()个是直角

5. 填口诀(8分)

二二() ()得九 七八() ()二十五
三七() ()得六 三四() ()四十

6. 比一比(2分)

3×3 ○ $3+3$ $2+2+2+2$ ○ 2×4 $26+12$ ○ $42-2$ 6×4 ○ 5×5

7. 看图列式并计算(10分)



加法算式: _____

乘法算式: _____

或 _____



加法算式: _____

乘加算式: _____

乘减算式: _____



() \times () = () 读作: _____

表示()个()相加是()

口诀: _____

8. 列竖式计算(14分)

$$36+23=$$

$$29+56=$$

$$77-36+29=$$

$$62-17=$$

$$48-33=$$

$$19+48-36=$$

9. 猜猜我是谁(4分)

(1) 我再多15就是62了。

(2) 我有两个因数,都是6。

(3) 我是7个3相加。

(3) 5个5个的数,我要数8次。

二. 生活角

(1---4 题, 每题 3 分; 第 5 题 4 分; 第 6 题 6 分)

1. 三年级有 68 人, 四年级比三年级多 26 人, 四年级有多少人?

2. 一个六边形需要 6 根小棒, 搭 7 个六边形, 一共要几根小棒?

3. 学校里原来种了 43 棵树, 今年死了 5 棵, 植树节时又种了 18 棵, 现在学校里有几棵树?

小明 4 天能记住多少句乘法口诀?



5. 用下面的数可以摆哪些乘法算式? (每个数可以重复使用, 至少写出 4 个算式)

18 6 36 9 27 3 54 4 12 8 24 2

6



铅笔 2 元一枝 放大镜 15 元一个 笔记本 19 元一本 尺 4 元一副

(1) 买一枝铅笔，一个放大镜和一本笔记本，一共需要多少元？

(2) 买 4 副尺和 1 枝铅笔，20 元够吗？

(3) 你能提出一个用乘法解决的问题吗？

三. 实践苑

1. 画角。(2 分)

(1) 画一个直角。

(2) 画一个比直角大的角。

2. 画一条长 6 厘米的线段。(1 分)

3. 画一条比 3 厘米长，比 6 厘米短的线段。(1 分)

4. 用你喜欢的图形表示下列算式。(3 分)

$$2 \times 5$$

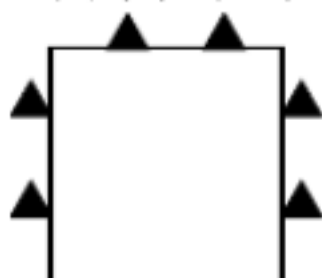


$$6 \times 3$$



四. 聪明屋 (10 分)

1. 移动三角形，使每条边都有 3 个三角形。你会吗？请画一画。





2. 河马收到一个大礼盒，大礼盒中有3个中礼盒，每个中礼盒中有8个小礼盒，那么河马收到了（ ）个礼盒。

人教课标二年级上册数学期中测试卷

班别：_____ 姓名：_____ 得分：_____

二、口算（6分）

$1+50=$	$70-11=$	$78-17=$	$31+32=$
$26+40=$	$6\times 5=$	$4\times 4=$	$25+25=$
$95-20=$	$36+40=$	$83-83=$	$4\times 2=$
$75-40=$	$90-80=$	$50+37=$	$43+42=$
$27-11=$	$37-3=$	$8+17=$	$55+45=$
$58+2=$	$46-14=$	$3\times 3=$	$45+15=$
$90-29=$	$65+9=$	$43+37=$	$1\times 1=$
$30+27=$	$7+36=$	$8+12=$	$10+22=$
$37-26=$	$72-7=$	$5+43=$	$38+22=$
$24-24=$	$4\times 3=$	$2\times 2=$	$60+35=$
$33-7=$	$49+11=$	$3\times 2=$	$6\times 2=$
$98+2=$	$12-7=$	$49+51=$	$38+12=$
$93-80=$	$96-8=$	$67+7=$	$27+35=$
$5\times 4=$	$4\times 6=$	$4+2=$	$40-2=$
$3\times 3+2=$	$4\times 5-1=$	$6\times 6-7=$	$4\times 3+4=$

二、填空。（18分）

1、 2×3 读作（ ）表示（ ）个（ ）相加。

2、厘米和米都是（ ）单位，要知道物体的长度可以用（ ）来量。量较长的物体用（ ）作单位，量较短的物体用（ ）作单位。

3、（ ）五十五， $5 \times () = 15$ ， $() \times 5 = 15$

4、 $4 + 4 + 4 + 4$ 改写成乘法算式是（ ）

读作（ ），口诀：（ ）

5、 $37 \text{ 厘米} + 63 \text{ 厘米} = () \text{ 厘米} = () \text{ 米}$

6.一个直角有（ ）个顶点，（ ）条边。

7、求几个相同加数的和，用（ ）法计算比较简单。

三、判断。（5 分）

1.一幢大楼高 20 厘米。（ ）

2. $3 + 4$ 和 3×4 的结果相同。（ ）

3.5 个 2 写成加法算式是 $5 + 5$ 。（ ）

4.小明身高 128 厘米。（ ）

5.一个角两条边分得越开，这个角就越大。（ ）

四、在□里填上适合的数，在○里填上>、<、或=（9 分）

$$4 + 4 + 4 = \square \times \square$$

$$\square \times 3 = \square + 9$$

$$5 \times \square - 5 = 10$$

$$3 \times 4 \bigcirc 4 \times 3$$

$$42 - 8 \bigcirc 36$$

$$18 \bigcirc 4 \times 5$$

$$15 \bigcirc 5 + 5 + 5$$

五、选泽正确答案的序号填在括号里。（6 分）

1. 求 3 个 5 连加是多少? 算式是 ()

- ① 5×3 ② $3 + 5$ ③ $5 - 3$

2. $18 \bigcirc 6 = 12$, \bigcirc 里填 ()。

- ① 加号 ② 减号 ③ 乘号

3. 48 加上 29 的和, 再减去 30, 列式是 ()。

- ① $48 + 29$ ② $48 - 30$ ③ $48 + 29 - 30$

六、计算。

(1) 竖式计算。(15 分)

$$90 - 27 =$$

$$38 + 49 =$$

$$50 - 11 =$$

$$16 + 28 + 39 =$$

$$62 - 27 - 16 =$$

$$53 - 30 + 14$$

=

七、把下列乘法口诀填写完整。(9 分)

一四 ()

二 () 得六

三五 ()

() 五一十

三 () 得九

四四 ()

() 四得八

五 () 二十五

五六 ()

八、操作题 (10 分)

1、画一条比 7 厘米短 2 厘米的线段。

2、用三角板画一个直角。



3.数一数

上图有（ ）条线段，（ ）个角、（ ）个直角。

九、用数学（22分）

1、



$$\square \bigcirc \square = \square \quad (\text{元})$$

2.一共有多少朵花？

$$\square \bigcirc \square = \square \quad (\text{朵})$$

3.

买3千克苹果，一共花了多少钱？

$$\square \bigcirc \square = \square \quad (\text{元})$$

你还能提出用乘法计算的问题

吗？

人教版二年级上册数学期中试卷

一、想一想，我会填。(18 分)

1. 100 厘米 = () 米 课桌高 90 ()
2. 笔算两位数加、减法时应注意：把 () 对齐，从 () 位算起。加法，个位满 () 向 () 位进 ()，减法，() 不够减，从 () 位退 ()，再加上 () 位上的数再减。
3. 三角板上有 () 个角，有 () 直角。
4. 比 20 少 5 的数是 ()，20 比一个数少 5，这个数是 ()。
5. $5+5+5+5$ 改写成乘法算式是 () 或 ()，口诀是 ()。

二、细心又认真，我会算。(12 分)

$38-7=$	$43+8=$	$71-6=$	$58+8=$
$3\times 4=$	$5\times 3=$	$2\times 6=$	$4\times 6=$
$4+30=$	$70-30=$	$6\times 5=$	$3\times 6=$

三、判断。(对的打“√”，错的打“×”，第 5 题 6 分，共 10 分)

1. 角的边长越长，角就越大。
()
2. 6 和 3 相乘，可以写作 6×3 ，读作 3 乘 6，口诀是三

六十八。()

3. 两个数相乘, 积一定比这两个数的和小。

()

4. 学校操场环形跑道长 60 分米。()

5. 判断对错, 并把错的改正过来。

(1) $45+3=75$

$$\begin{array}{r} 45 \\ + 3 \\ \hline 75 \end{array}$$

(2) $35+24=69$

$$\begin{array}{r} 35 \\ + 24 \\ \hline 69 \end{array}$$

(3) $25+6=21$

$$\begin{array}{r} 25 \\ + 6 \\ \hline 21 \end{array}$$

四、动脑筋, 认真填。(26 分)

1. 看图填空。(6 分)



加法算式:

或:

乘法算式: () \times () = ()

读作:

或: () \times () = ()

读作:

2. 在○里填上“>”或“<”或“=”。(18 分)

$3+3 \bigcirc 9$

$4+4+4 \bigcirc 4 \times 4$

$5 \times 6 \bigcirc 6+5$

$4 \times 3 \bigcirc 2 \times 6$

$54-45 \bigcirc 2 \times 4$

$46+23 \bigcirc 70$

$58 \text{ 厘米} \bigcirc 1 \text{ 米}$

$96 \text{ 厘米} \bigcirc 69 \text{ 厘米}$

$100 \text{ 厘米} \bigcirc 1 \text{ 米}$

3. 画一条比 8 厘米短 3 厘米的线段。(2 分)

五、用竖式计算下面各题。(10 分)

$72-26=$

$54+39=$

$68+27=$

$95-49-46=$

$19+26+45=$

六、列式计算。(12 分)

(1) 4 乘 6 的积是多少?

(2) 26 比 35 少多少?

(3) 比 8 多 17 的数是多少?

(4) 一个因数是 3, 另一个因数是 4, 积是多少?

七、解决生活中的数学问题。(12 分)

1. 猜一猜, 算一算。

妈妈带 100 元可以买上面的哪两样物品？

2.



小白兔

我采了 32 个蘑菇

我比你少采了 5 个

小灰兔

小灰兔采了多少个蘑菇？

3. 一个班有 5 个小组，每组有 6 个同学，这个班有多少人？

人教版二年级上册数学期中试卷

一、口算题（8分）

$58 + 7 =$ $6 + 25 =$ $36 + 4 =$ $23 + 8 =$

$35 - 29 =$ $34 - 27 =$ $53 - 38 =$ $43 - 26 =$

二、用竖式计算（12）

$24 + 9 + 8 =$ $30 - 19 + 10 =$ $50 - 8 + 20 =$ $15 + 9 - 6 =$

三、填空（30 分）

1. 填单位名称.

一支铅笔长20（ ）.

一条跑道大约长60（ ）.

2. $4 \times 5 = (\quad)$ $(\quad) \times 4 = 16$

$(\quad) \times 1 = 1$ $3 \times (\quad) = 15$

$6 \times 5 = (\quad)$ 表示（ ）个（ ）连加.

3. 看图填空.



$$(\quad) \times (\quad) = (\quad)$$

$$(\quad) + (\quad) = (\quad)$$

、



加法算式：

乘法算式：

或

4. 改写算式：

$$2+2+2+2+2$$

$$6+6+6+6$$

$$4+4+4+4+4+3$$

或

或

或

5. 在 里填上 “>、<、=”

$$90 \text{ 厘米} \bigcirc 8 \text{ 米}$$

$$30 \text{ 厘米} \bigcirc 4 \text{ 米}$$

$$40 \text{ 厘米} \bigcirc 75 \text{ 厘米}$$

$$1 \text{ 米} \bigcirc 50 \text{ 厘米}$$

$$60 \text{ 厘米} \bigcirc 37 \text{ 厘米}$$

$$1 \text{ 米} \bigcirc 100 \text{ 厘米}$$

四、看图列算式（6分）



加法

乘加

乘减

五、文字叙述题（9分）

1. 6与3的和是多少？

2. 一个因数是4, 另一个因数是6, 积是多少?

3. 5乘以2得多少?

4. 两个因数都是6, 积是多少?

六、作图题 (10 分)

1. 画一条比 9 厘米短 3 厘米的线段。

2. 画一个直角。

3. 画一个小于直角的角

七 应用题 (25 分)

、 1. 小芳有 15 元钱, 可以买到几枝这样的笔?

5 元

2. 商店里有15辆自行车，又运来18辆，卖出了20辆，还剩多少辆？

3. 王老师去书店买书，用去 24 元，还剩 6 元，她一共带了多少钱？

4. 公路边种了两排树，每排 12 棵，一共种了多少棵？

5、




4 元



6 元



5 元



3 元

王华买了 3 盒(hé)薯(shǔ)片，一共要付多少钱？

小云买 4 块蛋糕，要花多少钱？

(3) 小红买了 2 盒巧克力和 1 盒饼干，一共要付多少钱？

(4) 你还能提出什么问题，并列式计算。

VV99.net

免费文档下载