



试一试

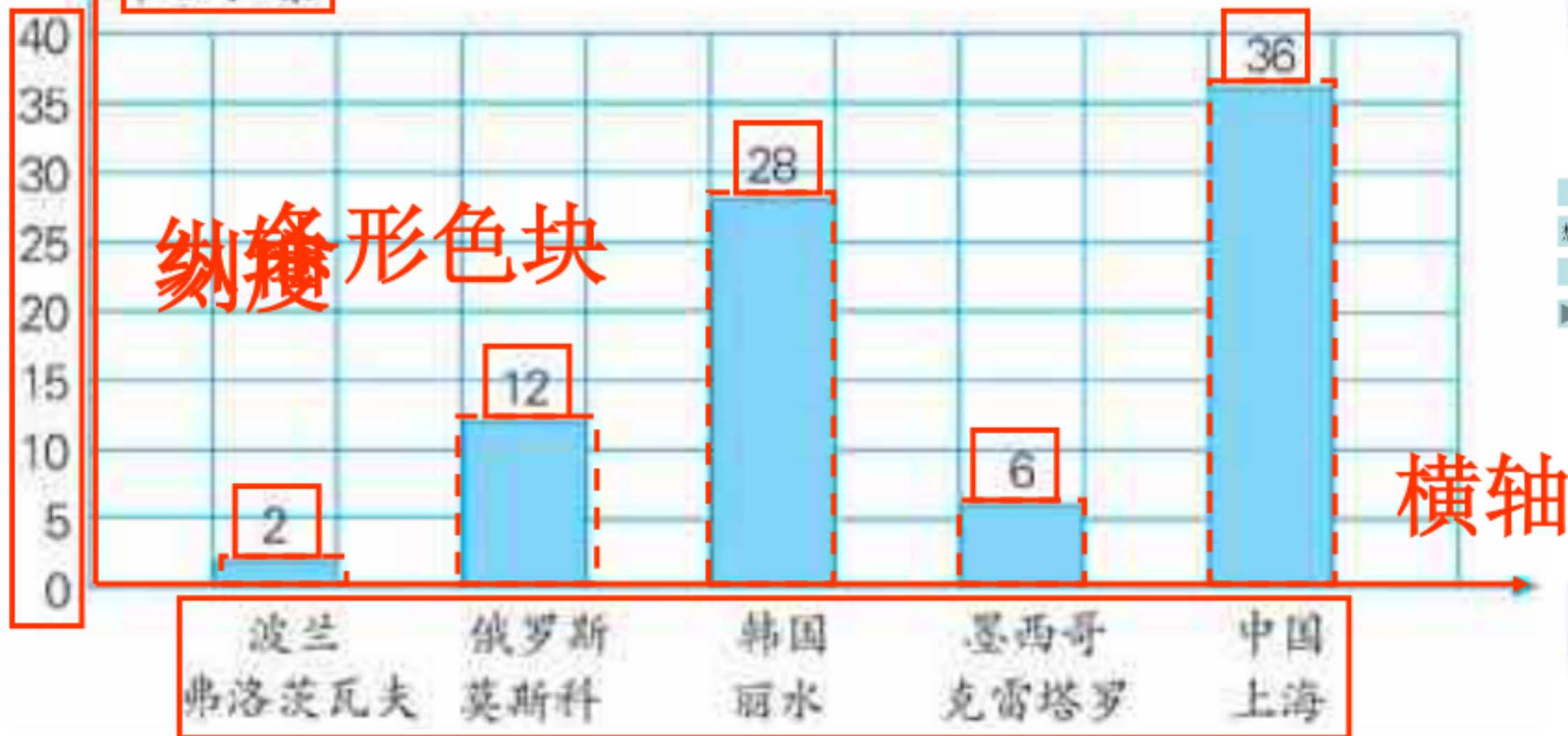
想想做做

2010年世界博览会申办城市第一轮得票情况统计图

2002年12月

数据单图标标题期

单位：票



条形图形色块

横轴

统计项目

你知道这五 你还能提出哪些问题？





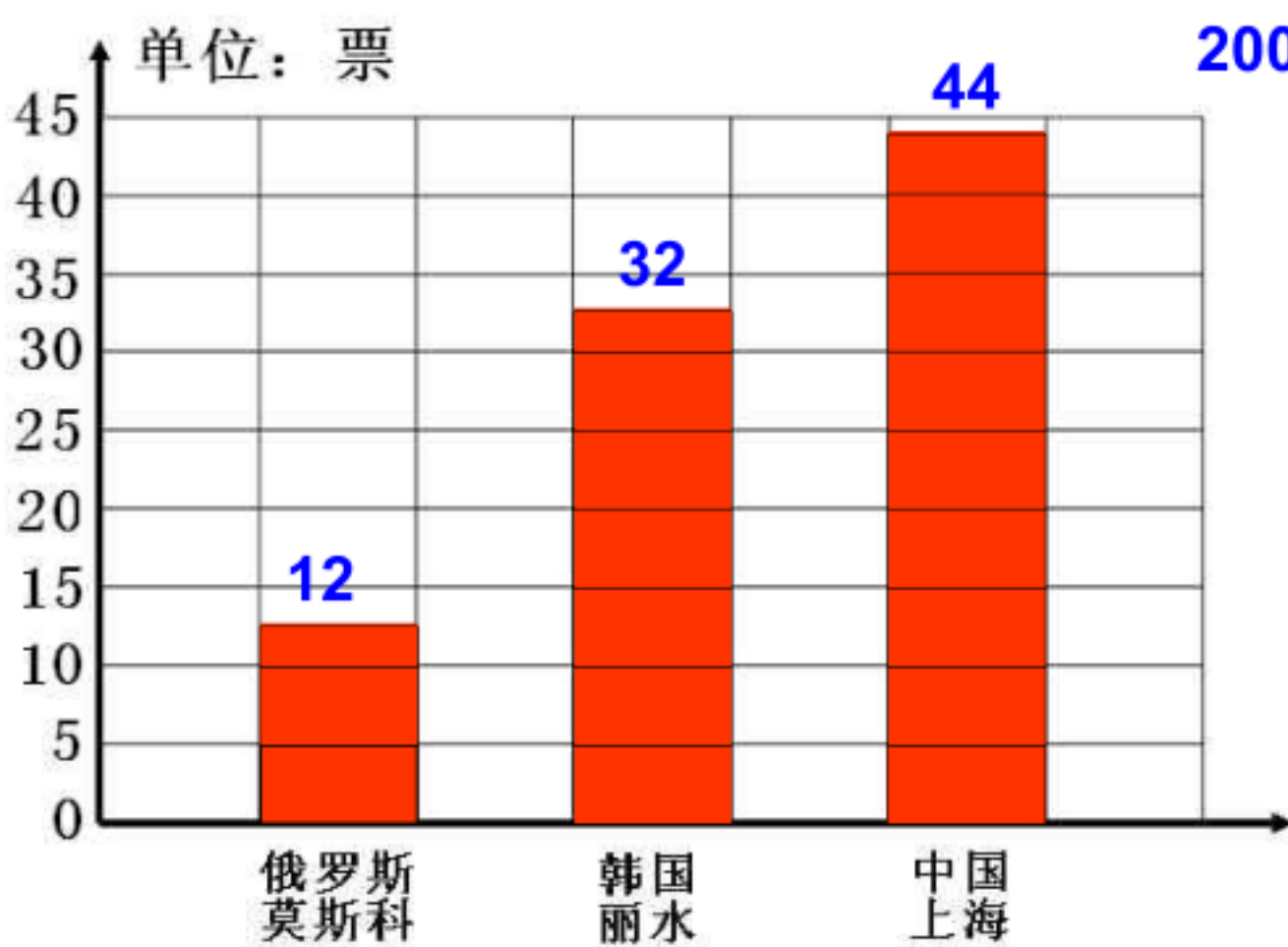
试一试

2010 年世界博览会申办城市第三轮得票情况如下表。

城 市	俄罗斯莫斯科	韩国丽水	中国上海
票 数	12	32	44

你能根据表中的数据，完成下面的统计图吗？

2010 年世界博览会申办城市第三轮得票情况统计图



在小组里说说从统计图里知道了些什么。



试一试
想想做做



1 小芳收集了一些电视塔高度的数据，制成了下面的统计图。

国内部分电视塔高度统计图



(2) 中央电视塔比江苏电视塔高多少米？你还能提出什么问题？



试一试

想想做做

↑

◀ ▶

2 根据下面的统计图回答问题。

我国 2000 ~ 2004 年棉花产量统计图

2005 年 1 月



- (1) 哪一年的棉花产量最高，哪一年的棉花产量最低？
- (2) 2004 年的棉花产量比 2000 年增加了多少万吨？
- (3) 你还能提出什么问题？

试一试

想想做做

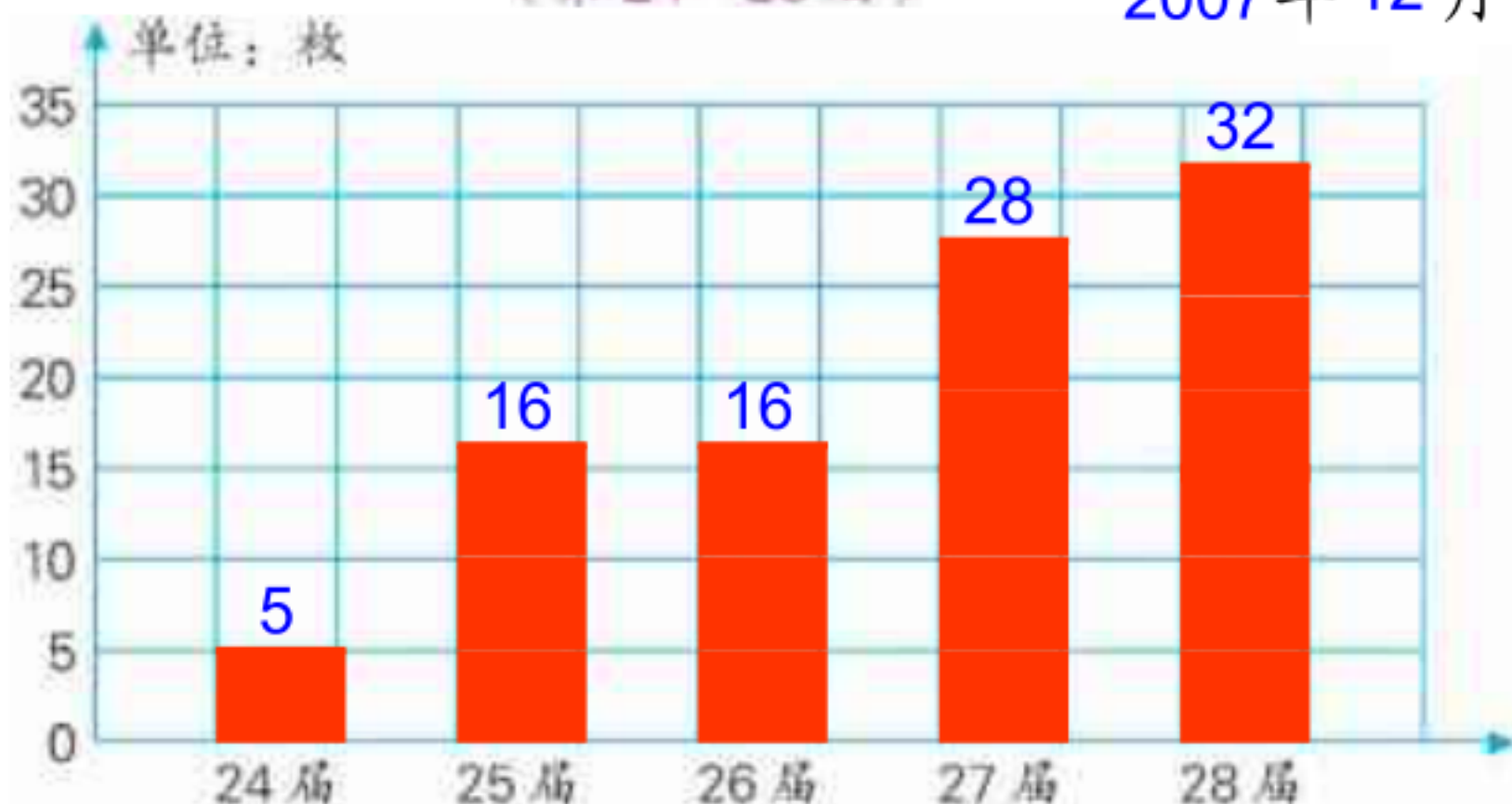
3 我国体育代表团在第24~28届国际奥林匹克运动会上获得的金牌数如下表。

届数	24	25	26	27	28
金牌数(枚)	5	16	16	28	32

你能根据表中的数据把条形统计图绘制完整吗?

中国体育代表团在奥运会上获得金牌数量统计图
(第24~28届)

2007年12月



试一试

想想做做

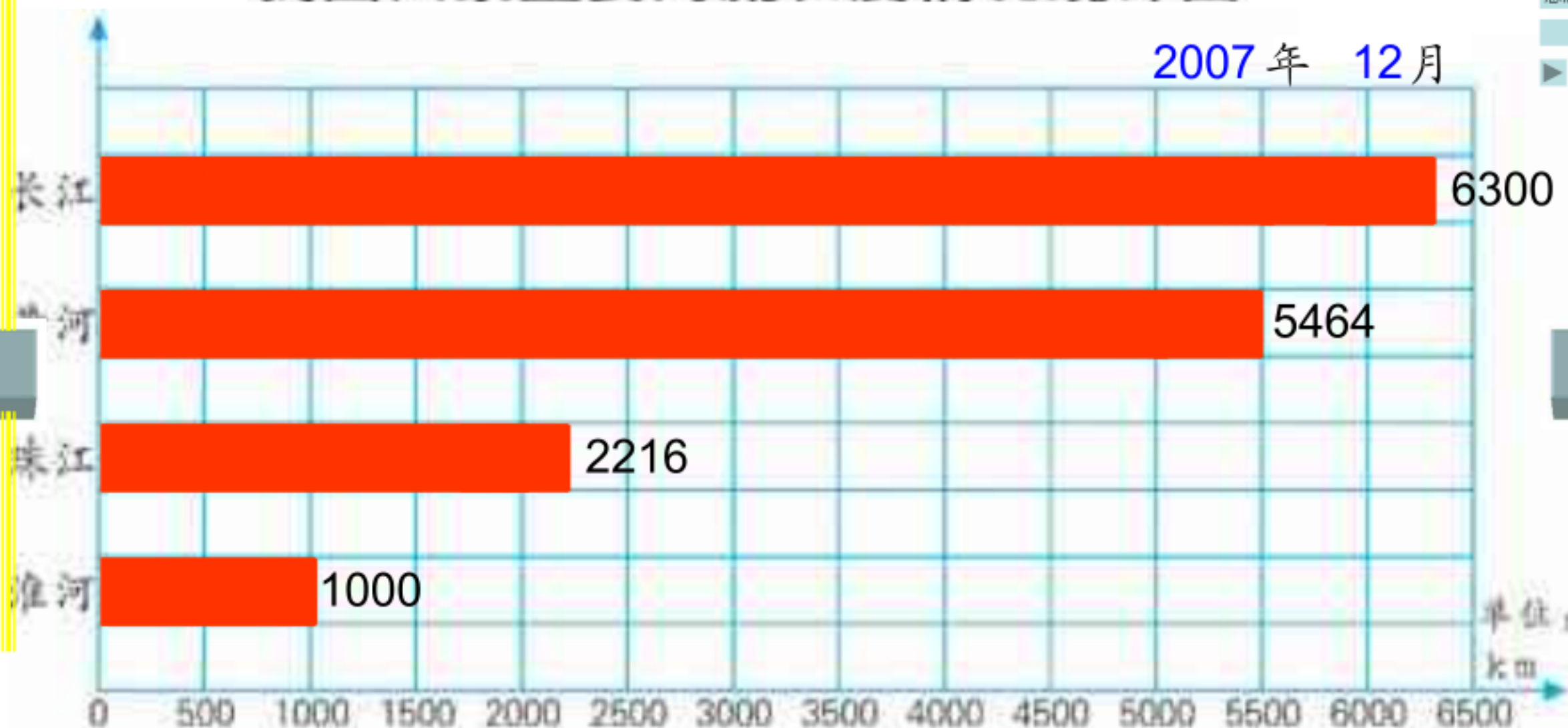


- 4 查找资料，了解我国长江、黄河、珠江和淮河四条河流的长度，再把统计图绘制完整。

资料

江河名	长江	黄河	珠江	淮河
长度:km	6300	5464	2216	1000

我国四条主要河流长度情况统计图



试一试

想想做做

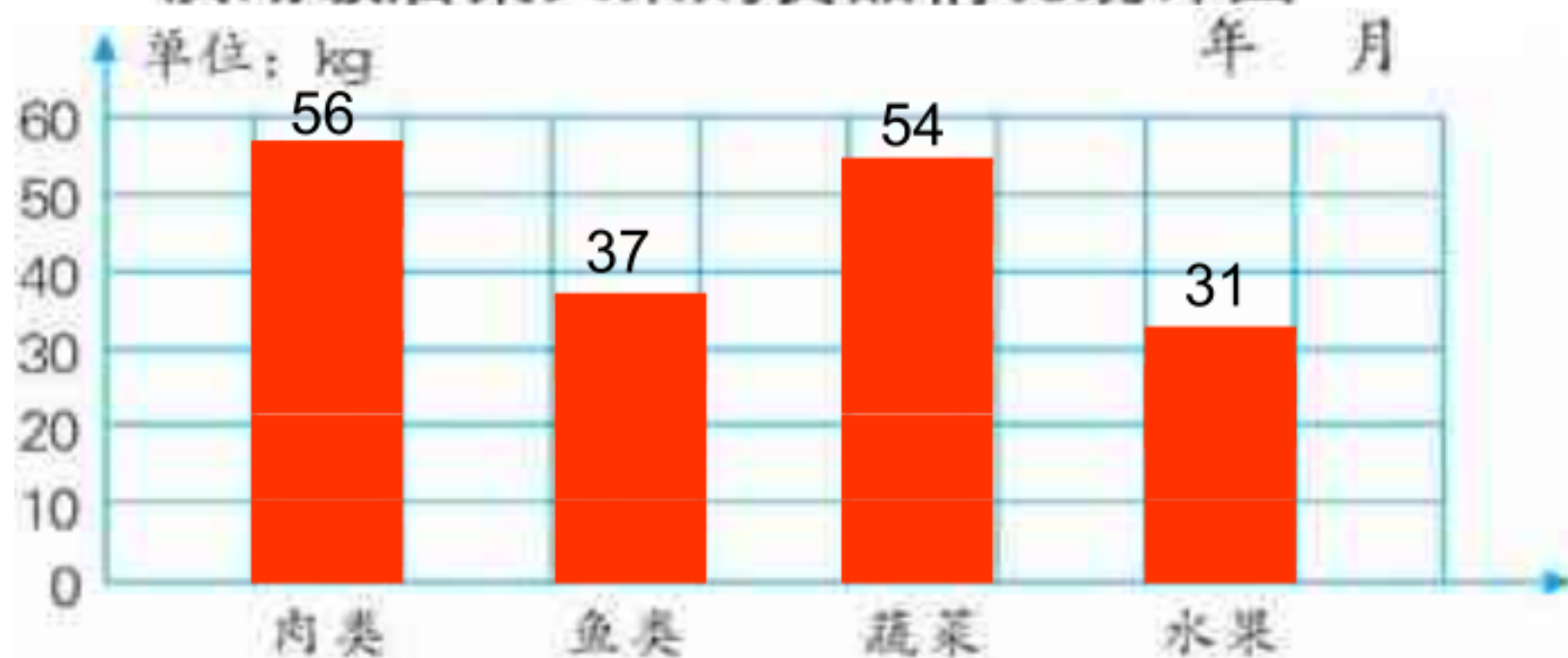
下面是滨湖饭店某天采购的食品清单。

鸡肉 25 千克	鲤鱼 20 千克	带鱼 6 千克	青菜 19 千克
茄子 12 千克	芹菜 15 千克	辣椒 8 千克	牛肉 18 千克
羊肉 13 千克	苹果 22 千克	香蕉 9 千克	鲫鱼 11 千克

先把上面的食品按要求分类整理，再制成统计图。

种 类	肉 类	鱼 类	蔬 菜	水 果
重量 (kg)	56	37	54	31

滨湖饭店某天采购食品情况统计图



试一试

想想做做



VV99.net

免费文档下载