

期中测试 A 卷

(时间: 60 分钟 满分: 100 分)

一、填空。(13 分)

- 三角板上有 () 个角, 有 () 个直角。
- 比 20 少 5 的数是 (), 20 比一个数少 5, 这个数是 ()。
- $5+5+5+5$ 改写成乘法算式是 () 或 (), 口诀是 ()。
- 一个篮球从各个方向看上去都是 () 形的。
- 计算连加、连减的运算顺序是从 () 向 () 依次计算, 如果有小括号, 要先算 () 里的。
- 在 \bigcirc 里填上 “>”、“<” 或 “=”, 在 \square 里填数。

8×5 \bigcirc 45	$18 \div 6$ \bigcirc 2	$\square \times 4 = 20$
5×5 \bigcirc $5+5$	$20 \div 4$ \bigcirc $5 \div 1$	$12 \div \square = 2$
$\square \times 2 = 6+2$	$32+12+50$ \bigcirc 98	$\square - 16 = 25+16$
- 比 62 多 15 的数是 ()。
- 90 减 14 的差, 比 25 多 ()。
- 一根绳子长 69 米, 先截去 18 米, 又截去 26 米, 还剩 () 米。
- 一只小狗有 () 条腿, 5 只小狗有 () 条腿。

二、口算题。(10 分)

$2 \times 6 =$	$5 \times 5 =$	$3 \times 4 =$	$42+15-50 =$
$5 \times 2 =$	$6 \times 4 =$	$5 \times 1 =$	$45+26-18 =$
$6 \div 1 =$	$15 \div 3 =$	$24 \div 6 =$	$39-7+23 =$

$5 \div 5 =$

$30 \div 6 =$

$8 \div 4 =$

$30 - (6 + 5) =$

$18 + 3 =$

$18 \div 3 =$

$4 \times 4 =$

$25 - 5 + 12 =$

三、补全乘法口诀，并写出两个乘法算式，两个除法算式。（16 分）

三（ ）十二 _____

（ ）六三十 _____

二（ ）一十 _____

（ ）五十五 _____

四、看图列算式。（12 分）

1.



乘法算式：（ ） \times （ ）=（ ） （ ） \times （ ）=（ ）

除法算式：（ ） \div （ ）=（ ） （ ） \div （ ）=（ ）

2.



乘法算式：（ ） \times （ ）=（ ） （ ） \times （ ）=（ ）

除法算式：（ ） \div （ ）=（ ） （ ） \div （ ）=（ ）

()



乘法算式：() \times () = () () \times () = ()

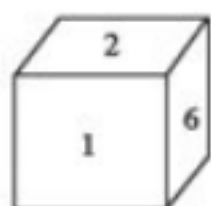
除法算式：() \div () = () () \div () = ()

五、观察物体。(8分)

1. 连一连。



2. (1)

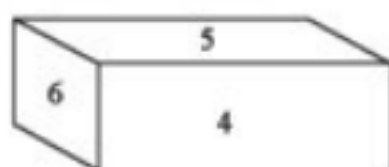


侧面写的是： ☐

正面写的是： ☐

上面写的是： ☐

(2)

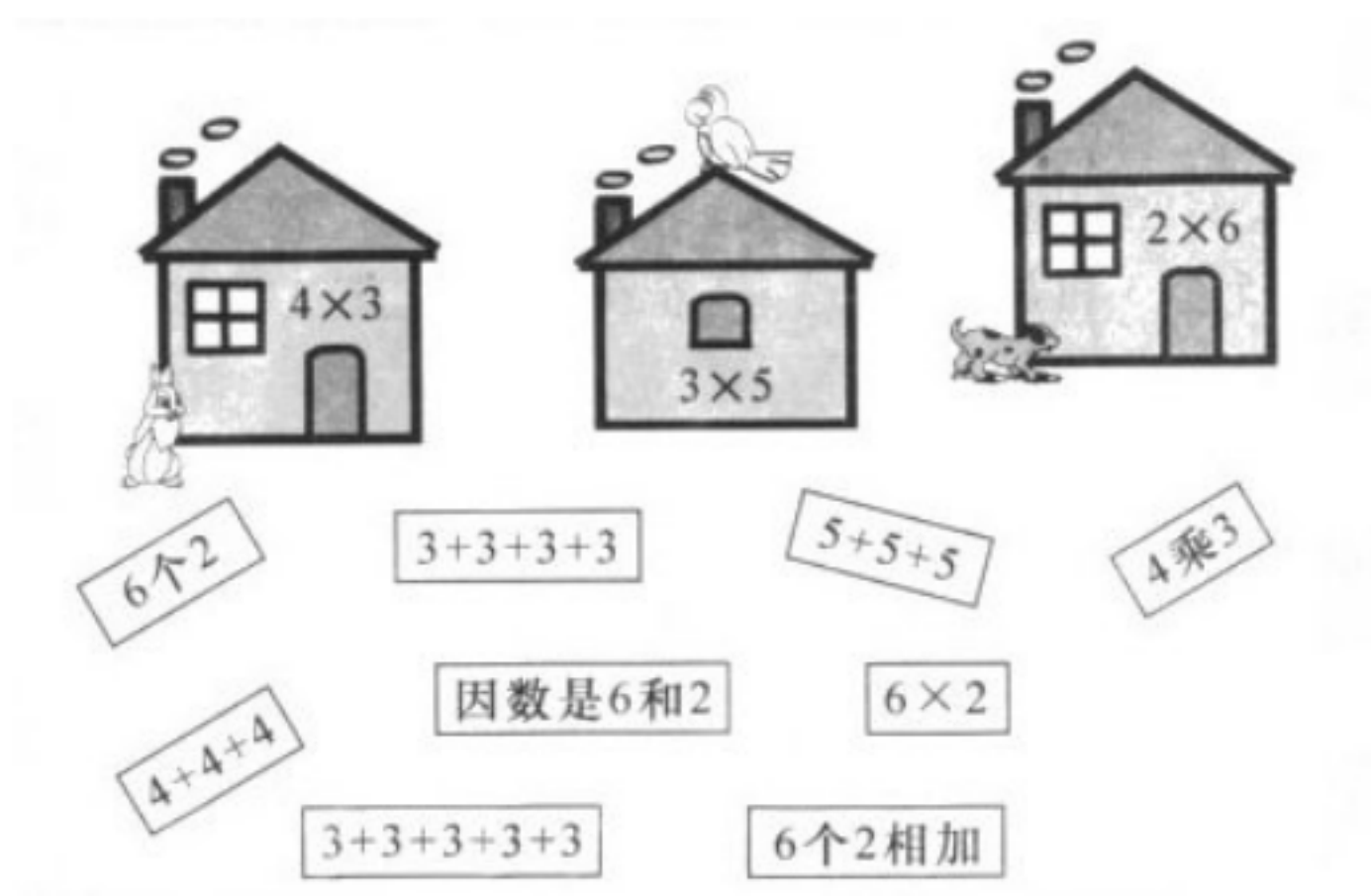


侧面写的是： ☐

正面写的是： ☐

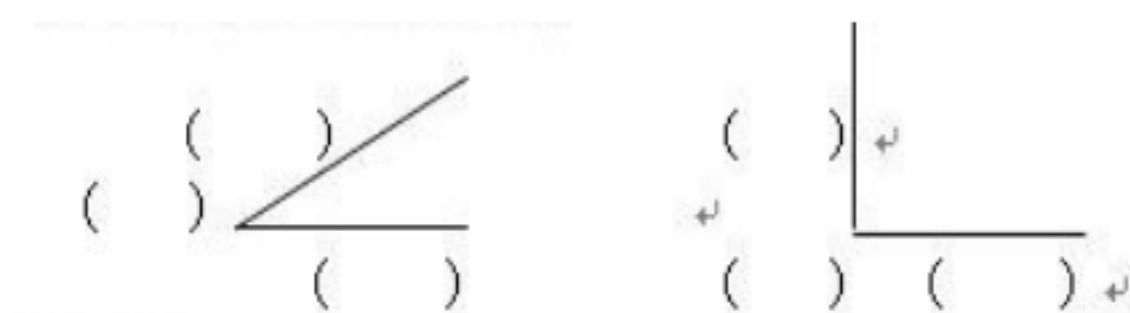
上面写的是： ☐

六、帮小动物把卡片拿回家吧！（9分）



七、画一画，写一写。（10分）

1. 写出角各部分的名称。（6分）



2. 以下面的点为顶点，画一个角。（4分）

八、解决问题。(23 分)

- 1.如果买 4 张游船票
要付多少元?

公园门票处
游船: 4 元

- 如果有 30 元钱, 够几个小朋友
坐碰碰车? (6 分)

$$\square \bigcirc \square = \square$$

$$\square \bigcirc \square = \square$$

- 2.二(1)班去秋游, 4 人一小组, 共有 6 组, 一共有多少名同学去秋游? (5 分)

$$\square \bigcirc \square = \square$$

- 3、18 盆花, 6 盆排一行, 一共可以排几行? (5 分)

$$\square \bigcirc \square = \square$$

- 4.小亮上了一辆有 28 个座位的公共汽车, 他坐下后, 发现还有 5 个空座位, 下一站又上来 10 人, 现在车上有多少乘客? (6 分)



VV99.net

免费文档下载