

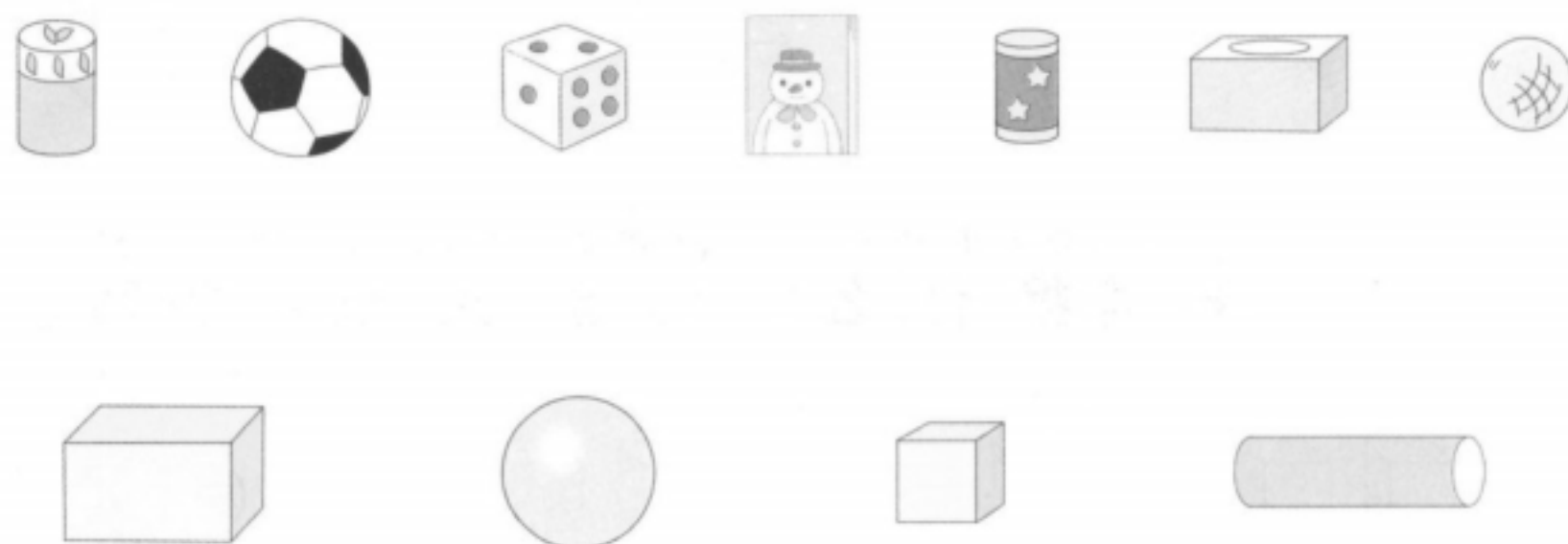
# 25年秋一年级上册数学人教版综合素养测评

## (第三单元测试卷)

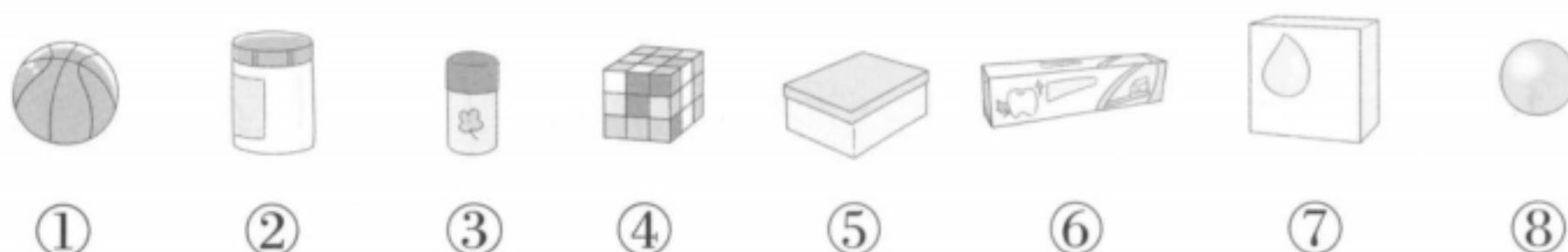
时间：40分钟 满分：100+10分

题序	一	二	三	四	五	六	七	附加题	总分	等级
得分										

### 一 (教材改编) 连一连。(7分)



### 二 分一分。(填序号)(8分)



长方体：( )      正方体：( )  
圆柱：( )      球：( )

### 三 用心分析，我会选。(填序号)(10分)

1. (名校期末真题) 下列物体中，( ) 的形状是圆柱。



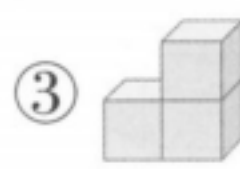
2. 下面物品中形状与其他两个不同的是( )。



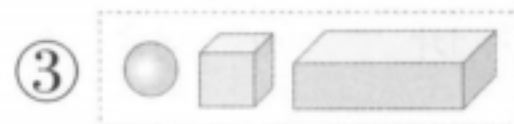
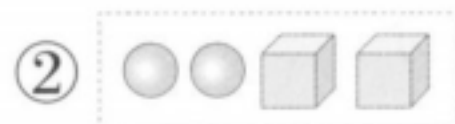
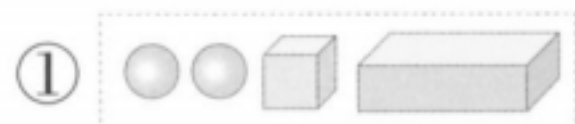
3. 下面图形既可以滚动,又可以立起来的是( )。



4. (名校期末真题)下面( )是用4个 拼成的。



5. 用第( )堆材料可以摆成



**四** (名校期末真题) tián yì tián 填一填。(14分)



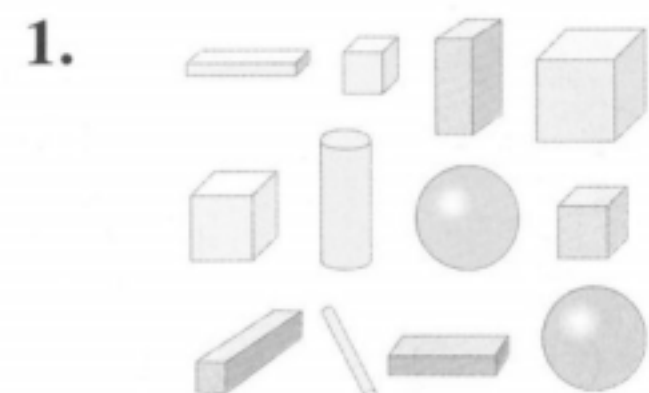
1. 一共有( )个正方体。

2. 从左边数,第( )个是球,第( )个和第( )个是圆柱。

3. 从右边数,球排第( )。

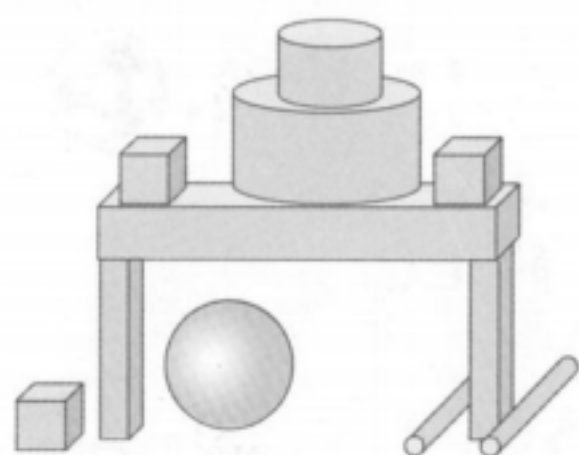
4. 把左边的3个图形圈起来,在从右边数的第3个图形的上面画○。

**五** shǔ yì shǔ tián yì tián 数一数,填一填。(24分)



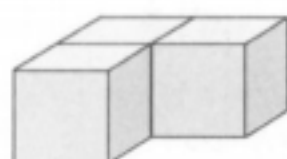
	( )个		( )个
	( )个		( )个

## 2. (名校期末真题)

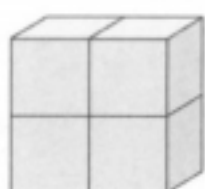


有( )个; 有( )个;  
有( )个; 有( )个。

## 3. 数一数, 下列图形分别是由几个小正方体拼起来的?



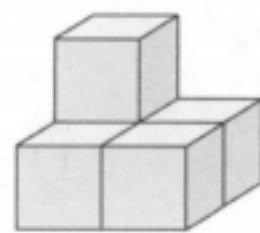
( )个



( )个



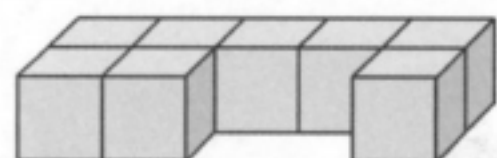
( )个



( )个

## 六 pīn yī pīn dā yì dā 拼一拼, 搭一搭。(25分)

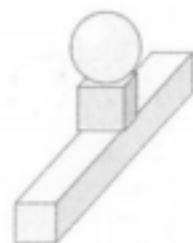
1. (名校期末真题) 右图至少再添( )个小正方体, 就能拼成一个长方体。(3分)



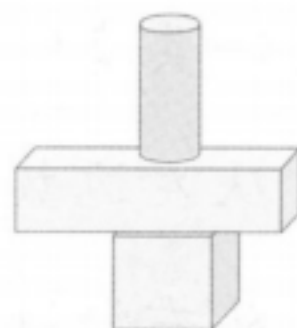
2. 我说你搭。先放一个圆柱, 再在圆柱上面放一个正方体, 最后在正方体上面放一个长方体。放对了的是( )。(填序号)(4分)



①

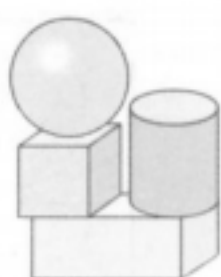
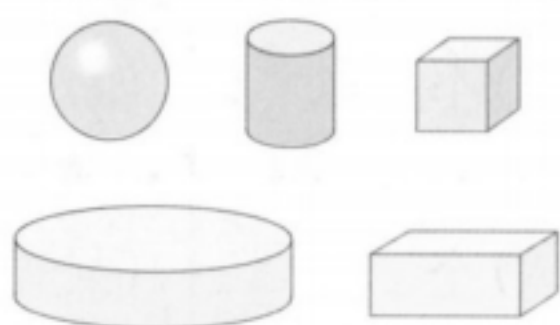


②




③

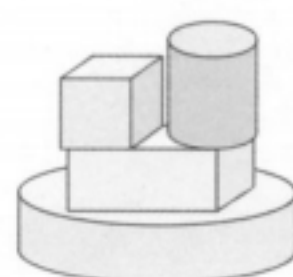
3. 从左边 5 个图形中选取 4 个进行拼搭, 在搭得最稳的图形下面画“√”, 在搭得最高的图形下面画“○”。(6分)



( )

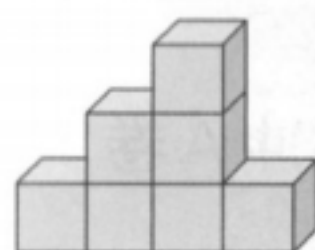


( )



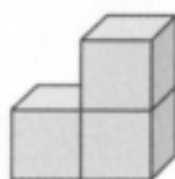

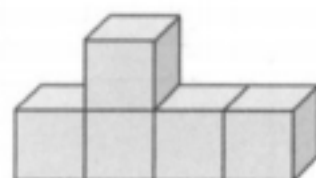
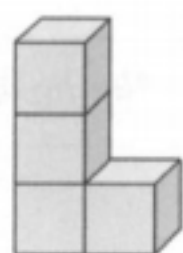
( )

4. (名校期末真题) 下面哪两堆积木可以拼成



? 连一连。

(12分)



七 (名校期末真题) 接着摆什么? 圈出正确的答案。(12分)

jiē zhe bǎi shén me

quān chū zhèng què de dá àn

1. ( )


2. ( )

3. ( )

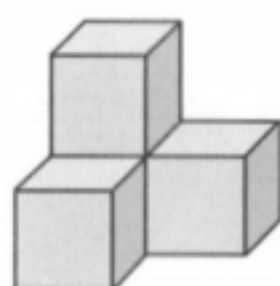
fù jiā tí  
附加题。(10分)

(名校期末真题) 要拼成一个大正方体, 下面的图形至少还需要几

个 ?



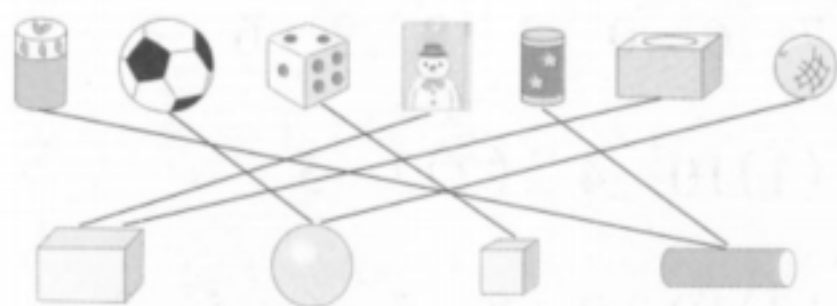
还需要( )个



还需要( )个

### 第三单元综合素养评价

一、



二、长方体：⑤⑥⑦ 正方体：④

圆柱：②③ 球：①⑧

三、1. ② 2. ① 3. ③ 4. ①

5. ①

四、1. 2 2. 4 2 3 3. 4 4. 略。

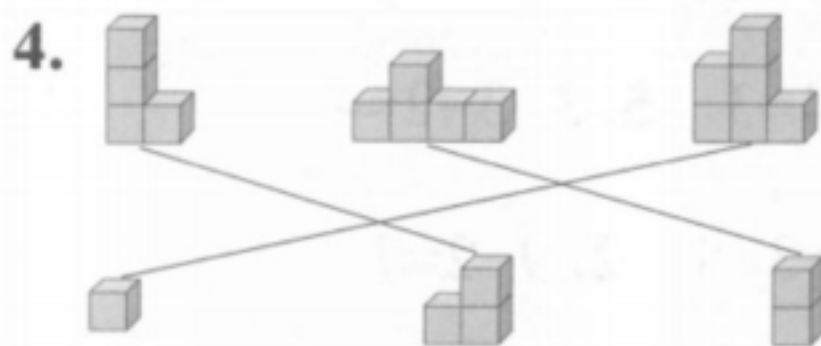
五、1. 4 2 2 4

2. 3 3 4 1

3. 3 4 4 5

六、1. 2 2. ①

3. ( ) ( O ) ( √ )



七、1. (   ) 2. (    )

3. (    )

附加题：3 4

# VV99.net

免费文档下载