

初二地理 测试卷

2025. 4

班级：_____

姓名：_____

注 意 事 项	<div>1. 本试卷共 6 页，共 29 道题，满分 100 分。考试时间 60 分钟。</div> <div>2. 在答题卡上指定位置贴好条形码，或填涂考号。</div> <div>3. 试题答案一律填涂或书写在答题卡上，在试卷上作答无效。</div> <div>4. 在答题卡上，选择题用 2B 铅笔作答，其他试题用黑色字迹签字笔作答。</div> <div>5. 答题不得使用任何涂改工具。</div>	
------------------	---	--

单选题（共 25 小题，共 50 分）

在地理学习中，剖面图很常见。如图 1 为某大洲沿 30° N 以及图 2 为沿 80° E 地形剖面图。读图，完成 1-4 小题。

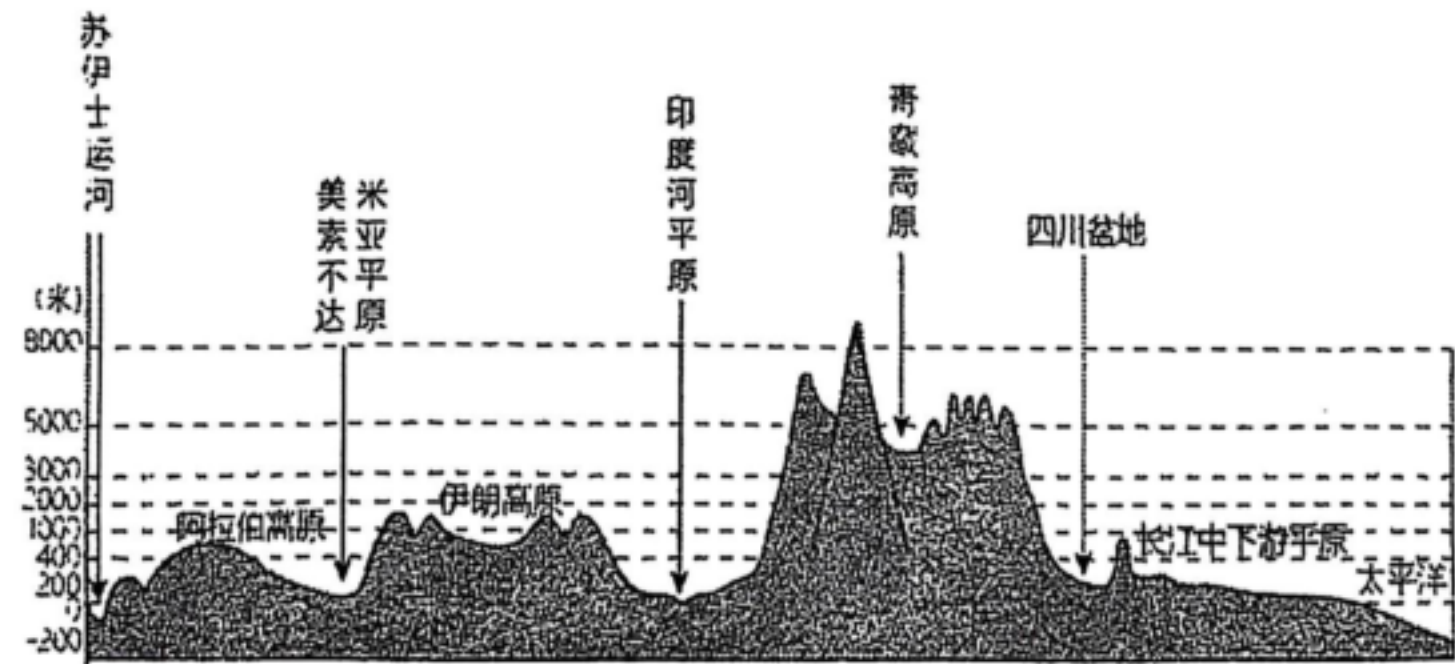


图 1

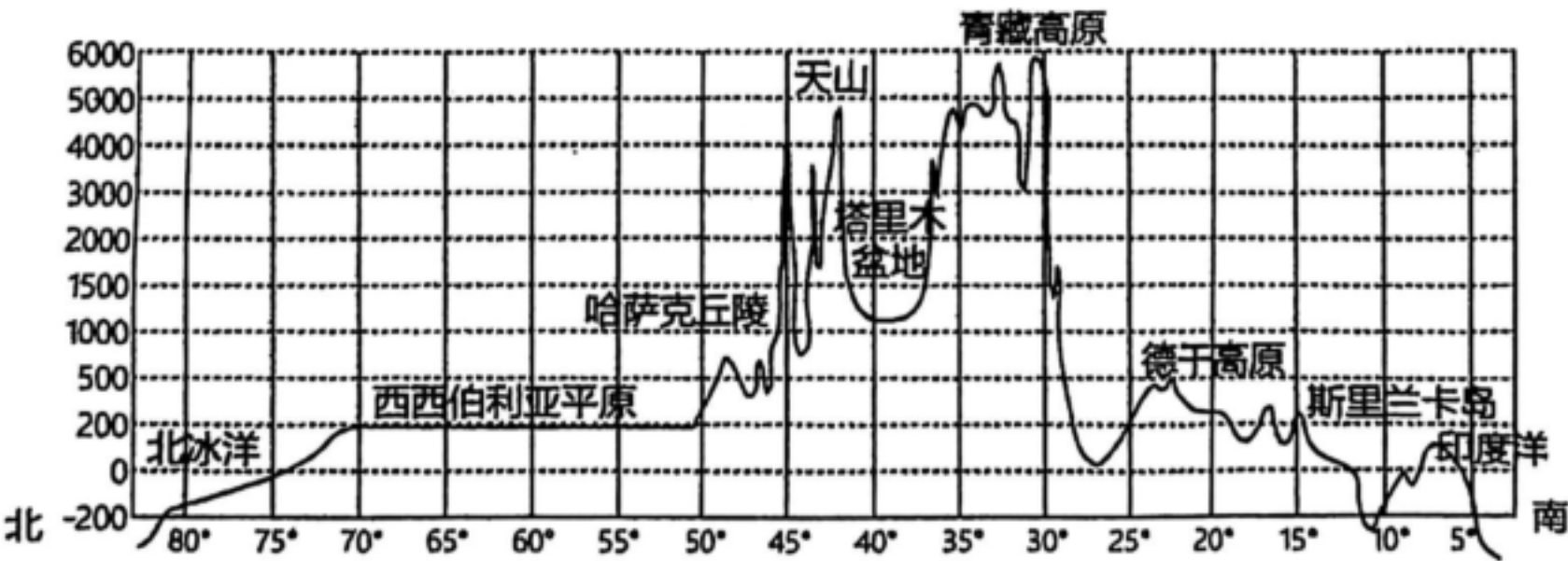


图 2

1. 读图下列说法正确的是 ()

A. 沿 30°N 的剖面图中有四川盆地

C. 塔里木盆地的平均海拔比德干高原低

2. 从图中可以归纳出, 该大洲的地势特点是 ()

A. 距海近, 海拔高

B. 四周高, 中部低

B. 青藏高原的平均海拔在 3000 米以下

D. 西伯利亚平原位于青藏高原南部

3. 受地形、地势影响, 该大洲 ()

A. 河流全部向南注入印度洋

C. 河流多发源于中部

C. 中部高, 四周低

D. 纬度高, 海拔高

B. 青藏高原周围河流流速慢

D. 平原地区水能更加丰富

4. 图示地区的农业生产是 ()

A. 美索不达米亚平原发展水田种植业, 盛产水稻

B. 阿拉伯高原热量水源充足, 适合发展种植业

C. 青藏高原以畜牧业为主, 典型的畜种是牦牛

D. 长江中下游平原灌溉水源不足, 不适合发展种植业

中老(昆万)铁路是一条连接中国云南省昆明市与老挝万象市的电气化铁路, 是第一个以中方为主投资建设、共同运营并与中国铁路网直接连通的跨国铁路 2021 年 12 月 3 日, 全线通车运营。

图 3 为中南半岛地形图。读图完成 5-8 小题。

5. 地势影响河流流向, 中南半岛河流流向多为 ()

A. 自西向东流

B. 自南向北流

C. 中间向四周

D. 自北向南流

6. 中南半岛城市多分布在河流沿岸主要是因为 ()

①水源丰富 ②水运便利

③水能丰富 ④气候湿润

A. ①②

B. ②③

C. ③④

D. ①④

7. 中国和老挝的合作属于 ()

A. 南北对话

B. 南南合作

8. 中老铁路开通对老挝的影响包括 ()

A. 阻碍发展对外贸易

B. 带动旅游业的发展

C. 南北合作

D. 南南对话

C. 居民出行不便捷

D. 实现陆海联运

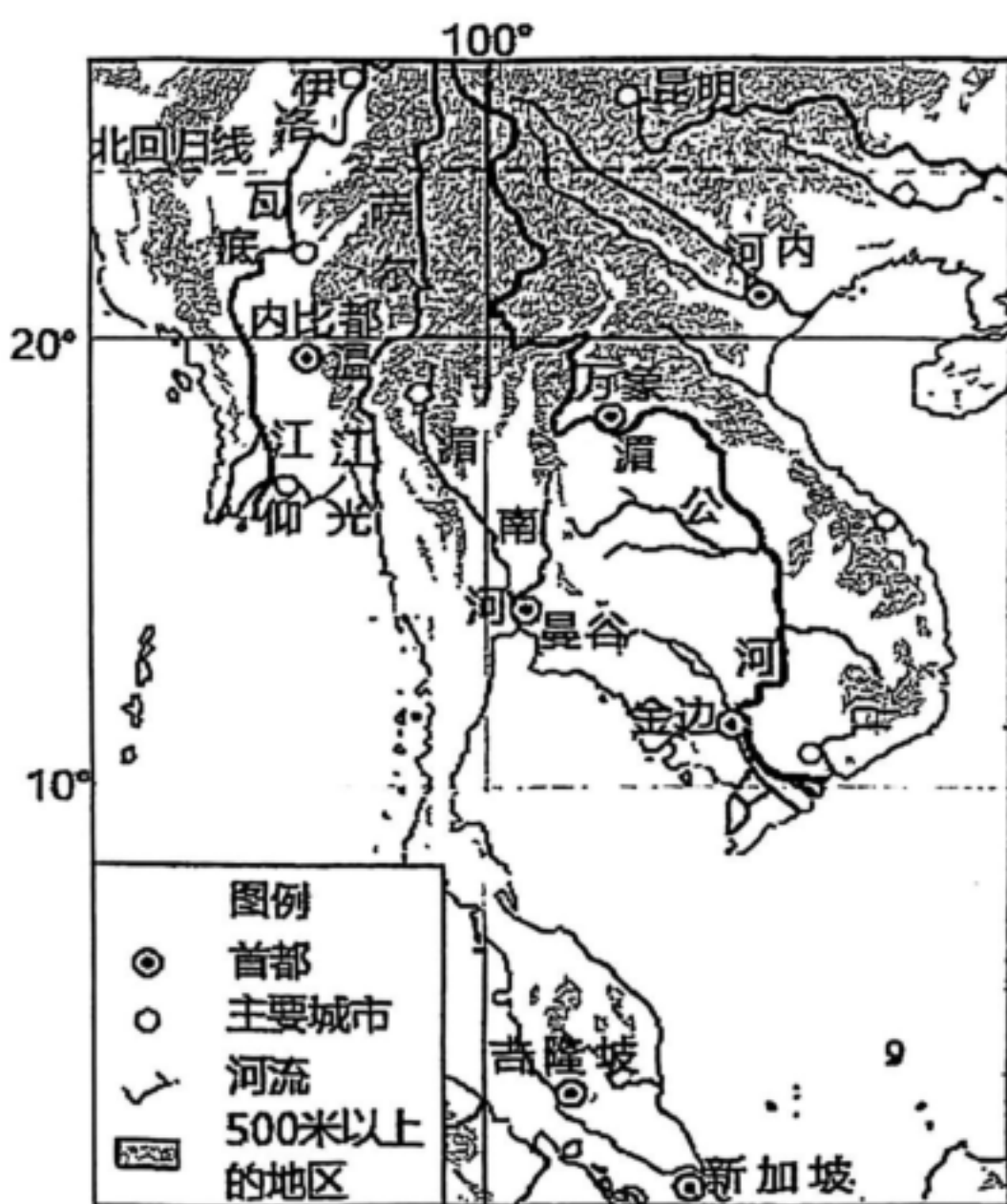


图 3

萨赫勒地区是世界上最贫瘠的地区之一。图 4 左是萨赫勒地区位置图，图 4 右是非洲部分地区气候类型分布图。读图，完成 9、10 小题。

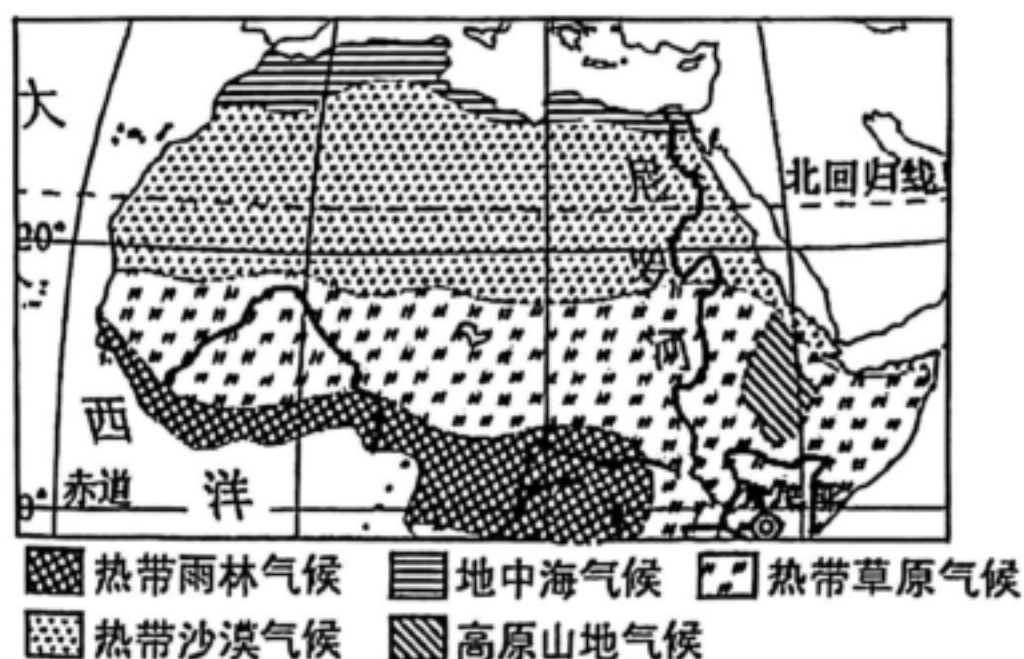
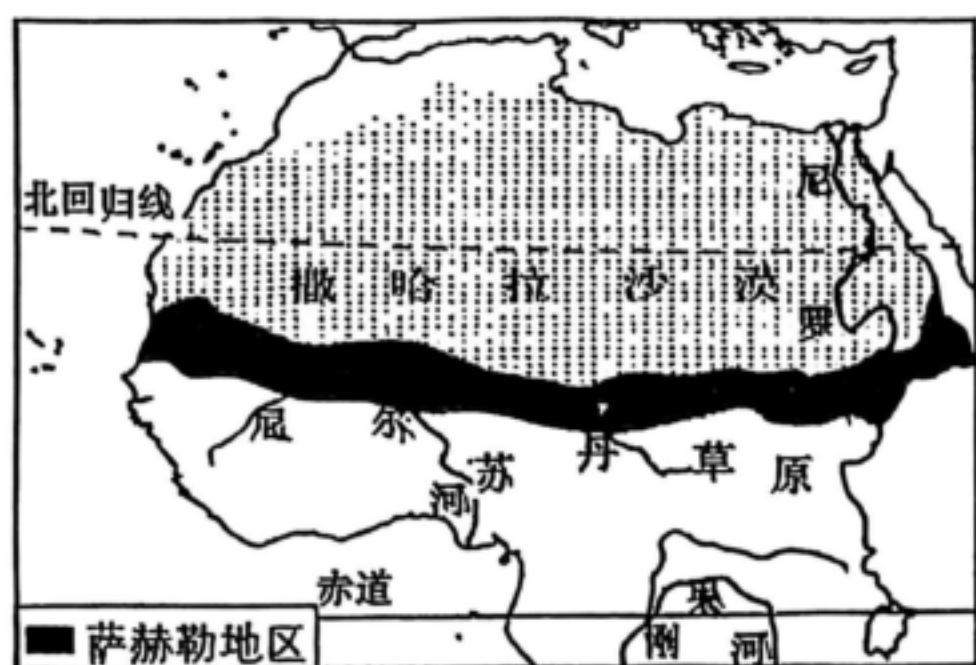


图 4

9. 萨赫勒地区 ()

- A. 地处撒哈拉沙漠中心腹地
- B. 横跨尼罗河和刚果河
- C. 是热带草原向雨林的过渡地带
- D. 年降水量从南向北递减

10. 人口、粮食、环境之间的恶性循环，使得萨赫勒地区生态环境问题日趋严重。萨赫勒地区面临最主要的环境问题是 ()

- A. 森林破坏严重
- B. 土地荒漠化
- C. 工业废水污染
- D. 洪水泛滥

11. 在非洲北部国家，有一种被称为 Beidane 的传统帐篷（如图 5）。通常用松散的羊毛编织而成，既利于白天散热又可以吧刺眼的日光变成微光；这些松散的天然纤维遇水会有所膨胀，也足以应对当地罕见的降水。Beidane 在用材、造型等方面的特色反映出当地 ()

- ①全年炎热少雨
- ②四季分明，雨热同季
- ③以种植业为主
- ④以畜牧业为主

- A. ①③
- B. ①④
- C. ②③
- D. ②④



图 5

冰岛因冰原和火山广布而被称为“冰与火之岛”。图 6 为冰岛地形及板块位置示意图，图 7 为冰岛能源使用结构图。读图，完成 12-14 小题。

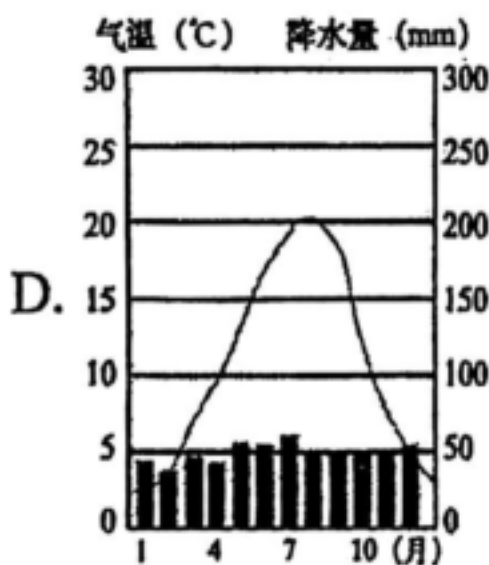
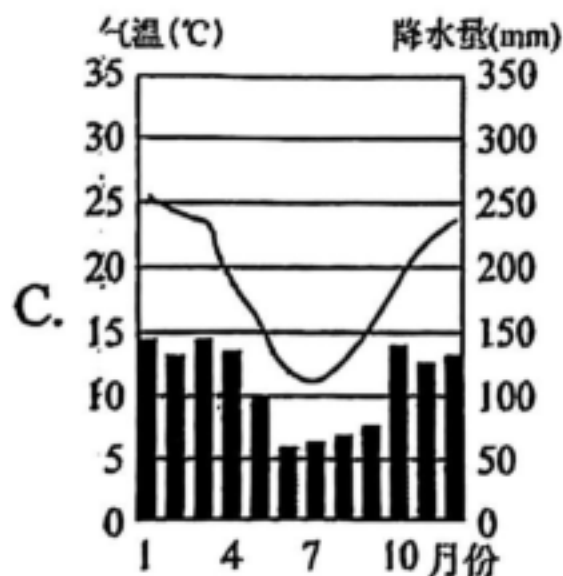
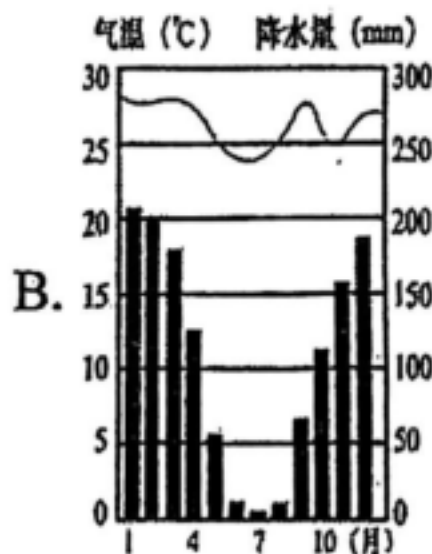
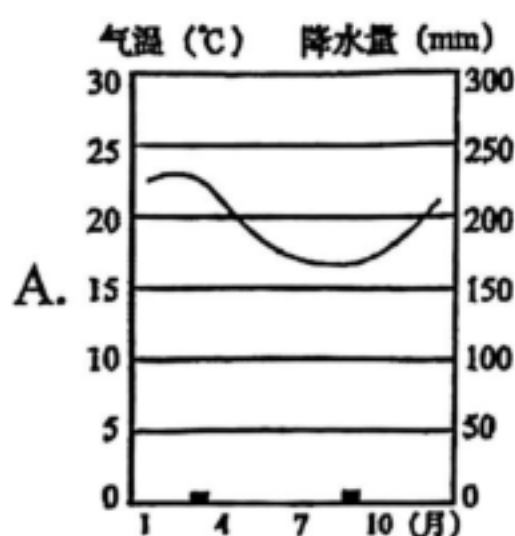
15. 白令海峡 ()
- A. 位于中纬度 B. 沟通北冰洋和太平洋 C. 位于东半球 D. 是欧洲和北美洲分界
16. 北冰洋洋面常年覆盖坚厚冰层的原因 ()
- A. 海拔高、缺氧 B. 淡水资源丰富 C. 纬度高、严寒 D. 年降水量丰富
17. 漫画显示北极熊面临的生存困境是 ()
- A. 北半球陆地面积缩小 B. 当地人口密度加大
- C. 世界的能源消耗增加 D. 冰层融化速度加快

生活在南美洲热带地区的水瓶树 (图 9)，在树干中贮存大量的水。在降水多的季节，树顶上长出绿叶，在降水少的季节，人们可在树干上挖孔取水。读图，完成 18、19 小题。



图 9

18. 水瓶树生长的地区 ()
- A. 气温年较差大 B. 全年多雨
- C. 降水季节变化大 D. 全年少雨
19. 水瓶树生活地区的气温曲线和降水量柱状图最可能是 ()



2022 年 10 月下旬至 2023 年 4 月底，自然资源部组织“双龙探极”行动，由“雪龙”号和“雪龙 2”号极地科考船共同执行任务，考察南极海洋环境、冰川、气象、测绘、天文、空间物理等，

取得了多项成果。图 10 为南极地区图。读图，完成 20-22 小题。

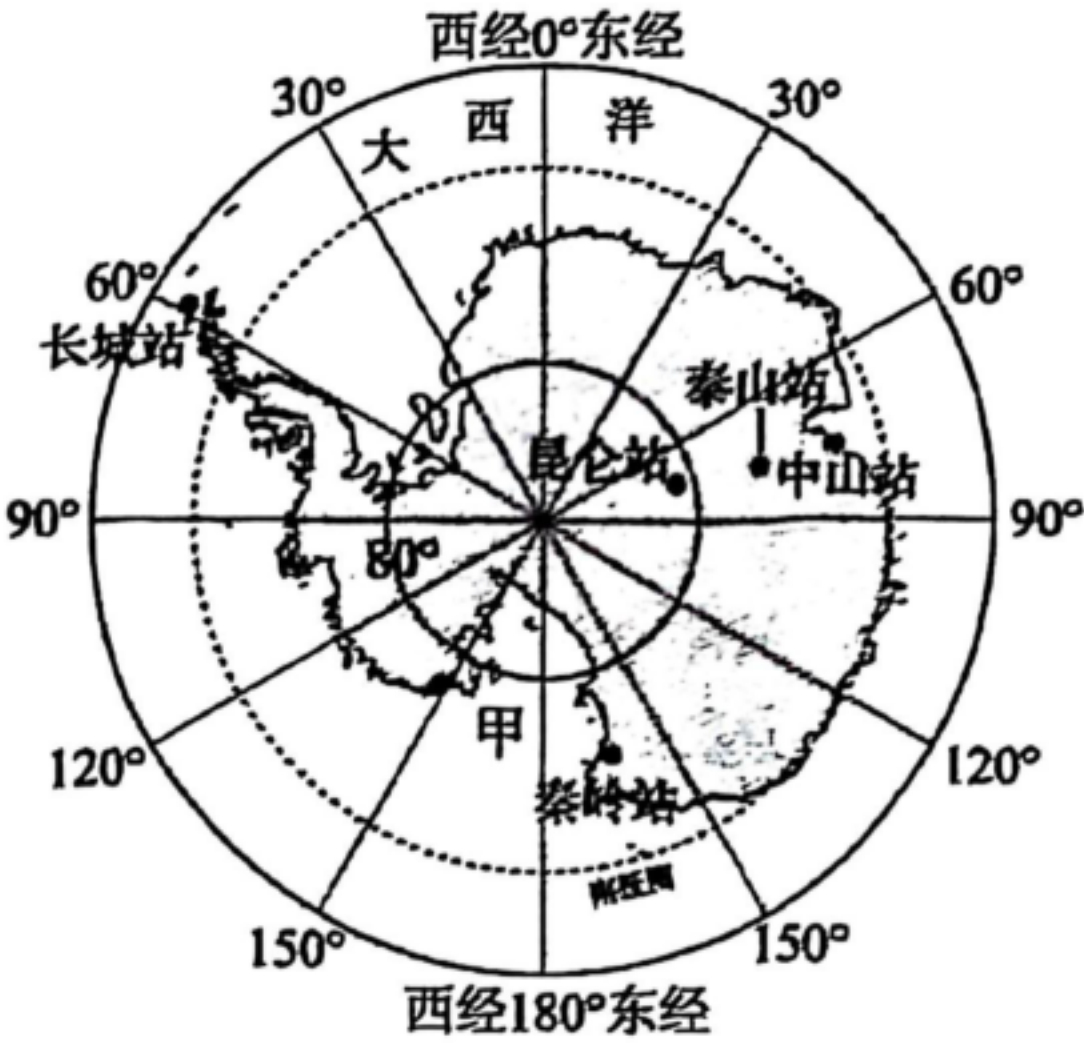


图 10

20. “双龙探极”期间，正值南极地区（ ）
- A. 白昼最短季节 B. 极光现象明显 C. 气温最低季节 D. 海冰融化季节
21. 图中（ ）
- A. 科考站均有极昼极夜现象 B. 秦岭站濒临太平洋
- C. 昆仑站多暴雨、酷寒天气 D. 长城站在中山站西南方
22. 南极科考是为了（ ）
- A. 探索和保护森林资源 B. 开发并利用淡水资源
- C. 大规模开展旅游活动 D. 研究特殊的自然环境

2023 年 3 月 16 日，一列满载 55 个集装箱货物的中欧班列，从北京出发经满洲里驶向莫斯科。

图 11 为中欧班列路线示意图。读图，完成第 23—25 题。



图 11

23. 本次班列从满洲里出境后 ()
- A. 一直向东驶向莫斯科 B. 依次经过平原、高原 C. 需要跨越亚欧分界线 D. 途经常绿阔叶林地带
24. 本次班列装载的货物最可能是 ()
- A. 服装、家电等 B. 大豆、木材等 C. 汽车、可可等 D. 石油、煤炭等
25. 中欧班列有利于 ()
- ①促进中欧之间的商贸联系 ②支撑京津冀经济一体化
③助推“一带一路”的建设 ④带动沿线旅游业的发展
- A. ①② B. ①③ C. ②④ D. ③④

综合题 (共 50 分)

26. 南极、北极与人们的日常生活似乎相去甚远，但如果从地球整体上看，南北两极藏着全球气候的“开关”。图 12 为北极地区图及 1979~2007 年格陵兰岛冰川年内累计融化面积统计图，图 13 为南极地区气温曲线和降水量柱状图。读图，回答下列问题。(11 分)

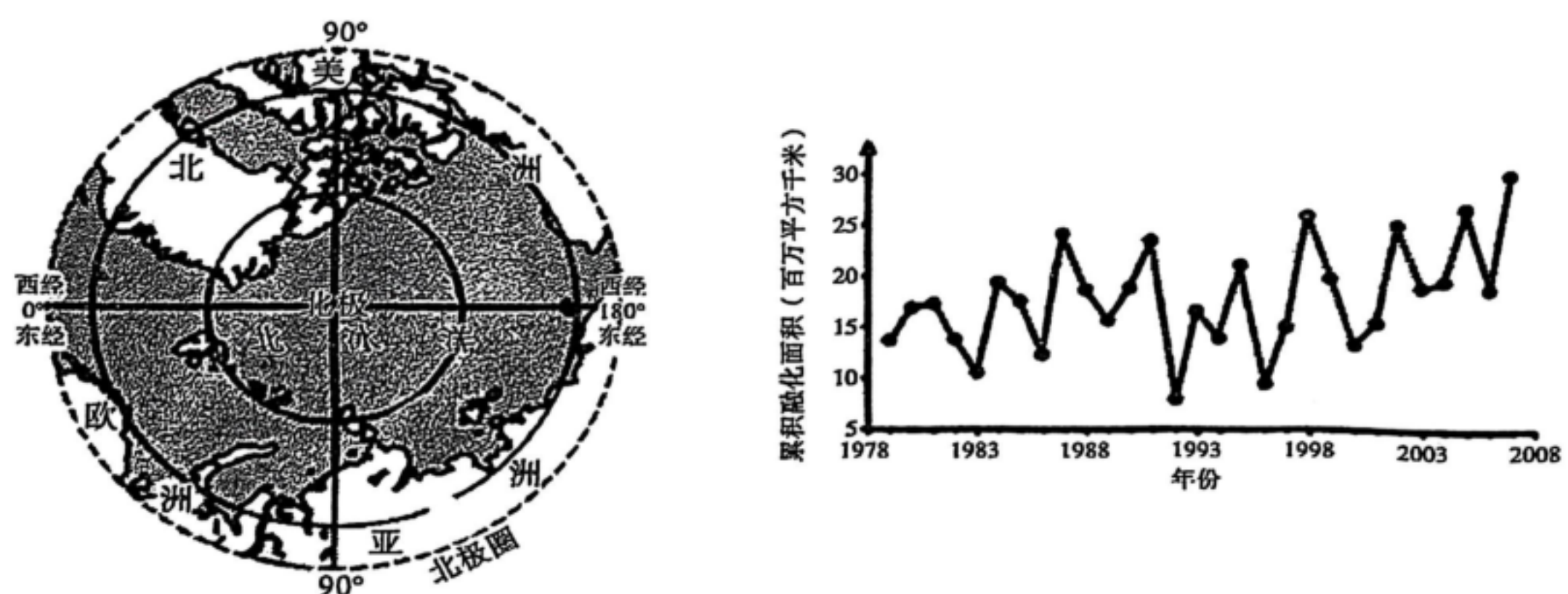


图 12




图 13

(1) 北极地区主要包括_____洋及周围的欧洲、亚洲、_____洲的部分地区。这里纬度_____, 气温低, 常年被海冰覆盖。

(2) 受全球气候变化影响, 格陵兰岛冰川年内累计融化面积_____。

- A.总体增加 B.逐年减小
C.保持不变 D.逐年增加

(3) 南极地区气候特征是_____。独特的地理环境使南极成为科研宝地, 这里可以开展的研究包括_____。

- ①臭氧层监测 ②矿产资源开采 ③气候演变 ④淡水资源开发
A.①② B.①③ C.②③ D.①④

(4) 此次“西瓜雪”出现时, 南极地区正值_____季。气温异常偏高, 会造成藻类繁殖加快, 冰面变暗, 冰的反射_____ (增强/减弱), 使气温进一步升高, 冰川融化_____。

(5) 南北极是全球气候变化的“指向标”, 请你写出日常生活中有助于保护极地环境的建议_____, _____ (两条即可)。

27. 为了认识城市的形成和发展与地理环境的关系, 同学们开展了地理学习活动。图 14 为世界部分地区主要城市分布示意图。阅读图文资料, 回答下列问题。(17 分)

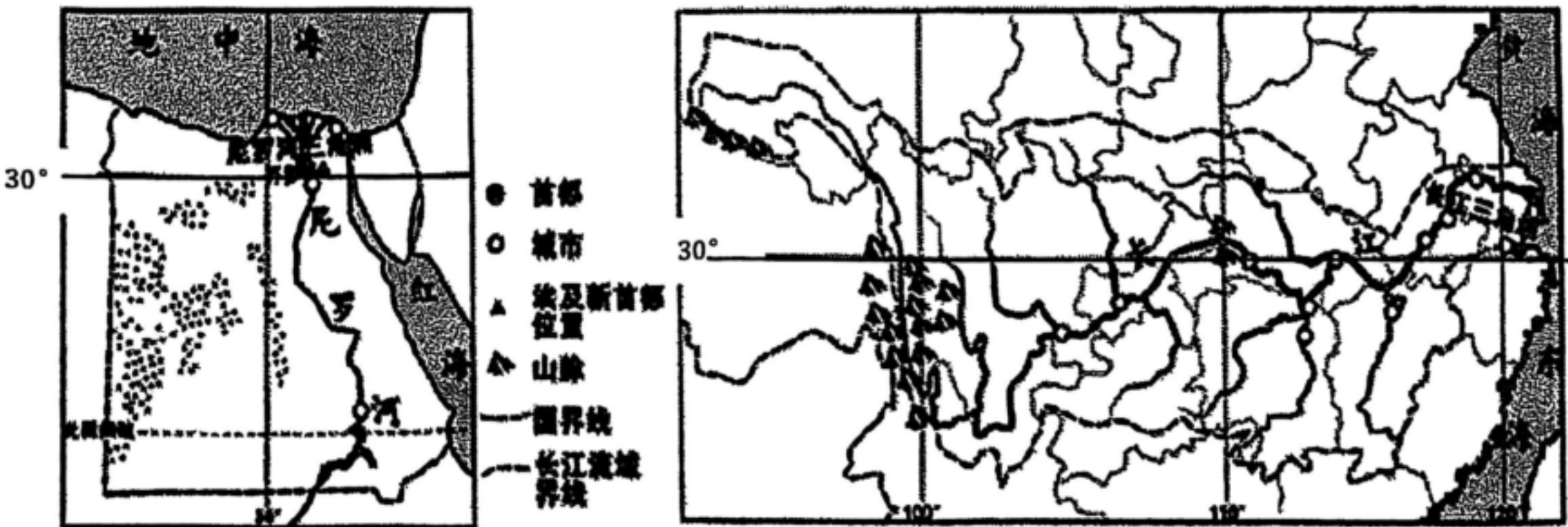


图 14

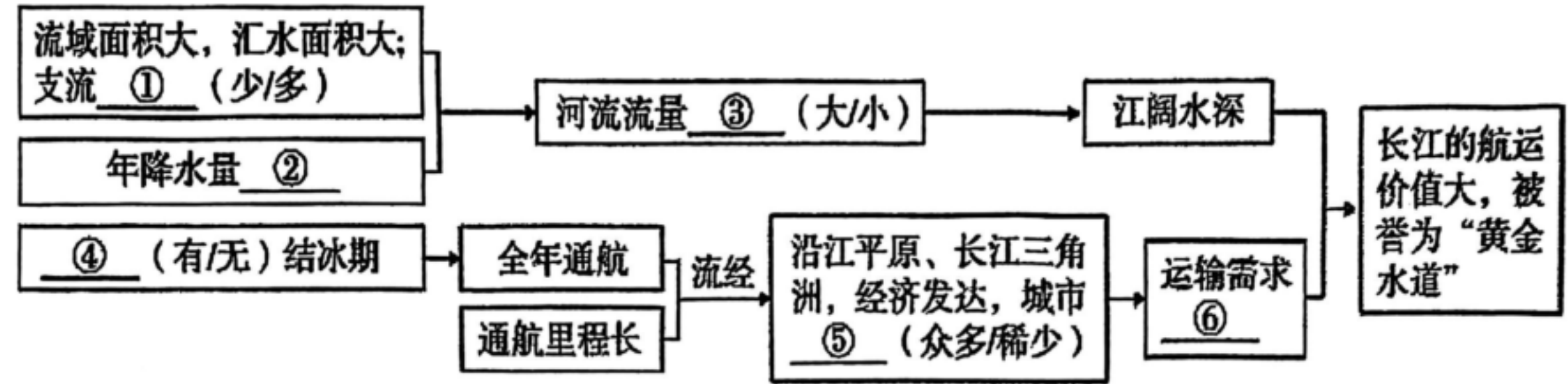
河流三角洲多为世界大城市集中分布区。走进河流三角洲, 揭秘城市与自然环境的关系。

(1) 比较长江三角洲和尼罗河三角洲两大城市群的地理环境特征, 完成表格。

	纬度位置	濒临的海洋	河流干流流向	气候特征相同点
长江三角洲	均位于①____	东临东海	自西向东	冬季温和，夏季⑥____
尼罗河三角洲	(纬线)附近	北临②____	③____	降水季节变化⑦____
城市形成的共同条件	地势④____，河道密集，水源⑤____，土壤肥沃，适合人类生存人口和城市密集。			

大江大河对沿岸和三角洲地区城市的发展有着重要的影响，可为城市的生产生活提供水源和水运之便等。

(2)长江为我国东西水运大动脉，干流通航里程达 2800 多千米，航运价值大。依据图文资料，探究长江航运价值大的主要原因，完成下面结构图。



①____ ②____ ③____ ④____ ⑤____ ⑥____

随着城市的发展，地理环境也相应地受到了影响。城市规模过大、人口过度集中会带来一系列问题。2021 年 12 月开始，埃及将首都迁往位于开罗以东 45 千米的新首都。走进埃及，揭秘埃及迁都的原因。

资料卡:埃及首都开罗的人口约 2280 万，人口密度约为 7390 人/千米²，而且每年增加近百万人。人口的激增，随之带来生活物资短缺、物价上涨、失业率上升、犯罪率上升、交通拥堵，以及大气污染和水污染等问题，城市基础设施不堪重负。

(3)埃及兴建新首都的首要目的是____（分散开罗人口/平衡地区发展），缓解交通拥堵、____等社会问题和大气污染、____等环境问题。

(4)在埃及兴建新首都的过程中，中国某建筑公司承建埃及新首都的中央商务区，体现了国际经济合作中的____（南南合作/南北对话）。

28. 暑假，学校准备组织同学们到欧洲西部一些国家进行游学活动。出发前，老师给同学们提供了相关资料并布置了一些任务，让大家提前了解欧洲西部的情况。据此，回答下面问题

(13 分)

资料 1: 多汁牧草生长在温暖湿润的气候条件下。欧洲西部草场面积广大，英国、法国的草场面积分别占本国面积的 $\frac{1}{2}$ 和 $\frac{1}{4}$ 。人们称牧草为“绿色金子”，多数国家的畜牧业产值占农业总产值的比重较高，如英国在 70% 以上，法国和德国略高于 50%。

资料 2: 图 15 为欧洲西部气候类型图、欧洲西部局部地形图和伦敦、罗马气温曲线降水量柱状图。

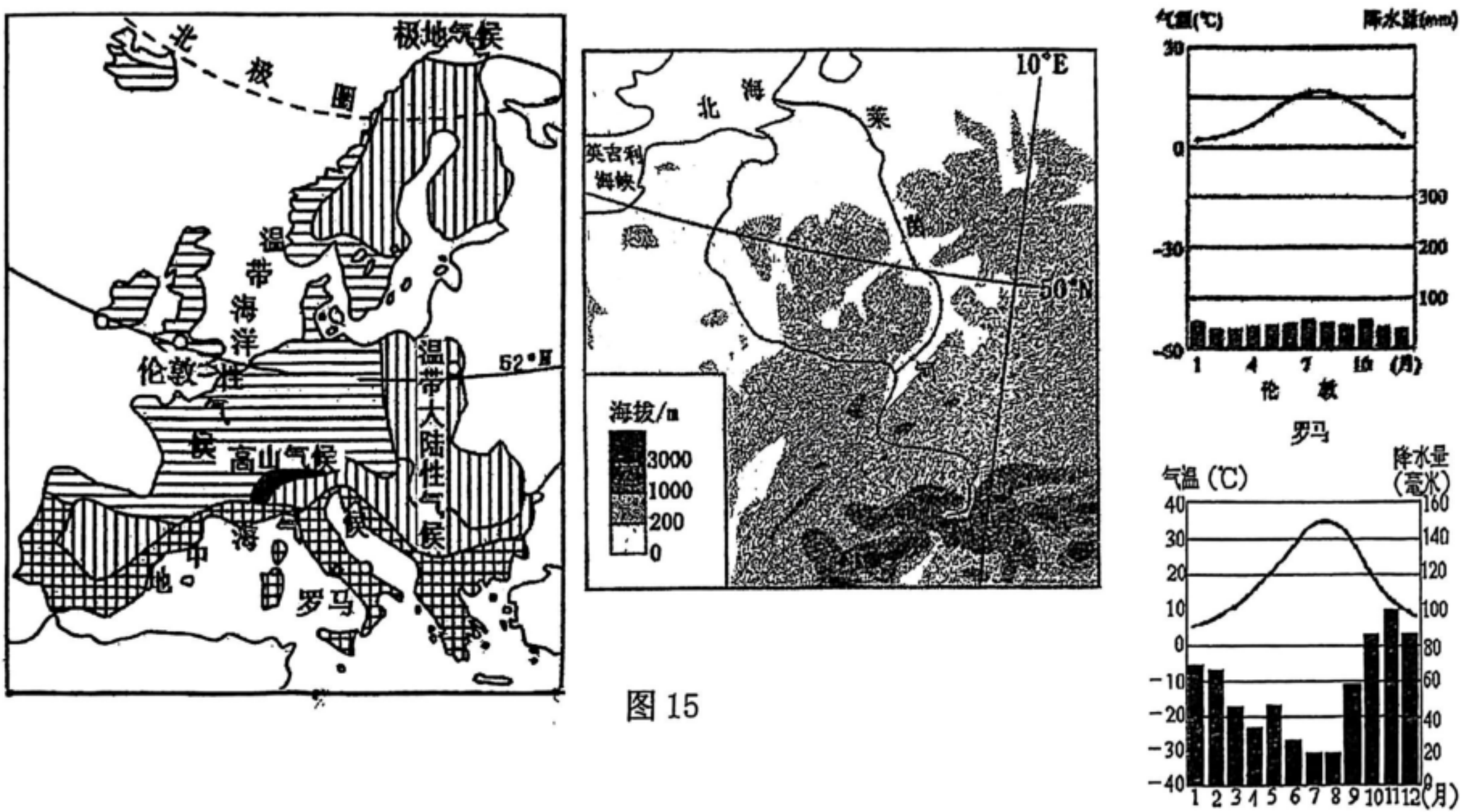


图 15

- (1) 本次游学的第一个国家是德国，老师说同学们只需在德国办理入境签证，就可到绝大部分欧洲西部国家进行购物，其原因是欧洲西部（ ）（单项选择）
- A 属于同一个国家 B 各国之间没有边界划分
- C 大多数国家是欧盟成员国 D 所有国家使用统一货币
- (2) 同学们游学期间，能吃到当地的特色美食是（ ）
- A 叉烧、炖汤 B 米饭、面条 C 鱼片、寿司 D 牛排、奶酪
- (3) 同学们发现人们日常的食物结构与这里发达的_____业有关，结合老师所给的资料，同学们分析认为，由于欧洲西部有典型的_____气候，其特点是_____，所以有

利于_____的生长，人们称之为“绿色金子”；来到南部地区，同学们感受到这里的气候特点是_____，在水果店里看到很多_____水果。

(4) 这次游学的最后国家是英国，它西临_____洋。就海陆位置而言，属于_____国，就纬度位置而言，属于_____纬度国家，就经济发展水平而言，属于_____国家。

(5) 人们通常从河流的流向、流速、流量大小、水位变化、含沙量大小、结冰期等方面描述河流特征。莱茵河是欧洲西部一条重要的国际性河流。请同学们结合资料分析说出莱茵河的主要特征（说出一方面即可）

29. 大国风范之谋共赢，阅读图文资料，回答下列问题。（9分）

2019年第二届中国进口博览会上，品质优良的玫瑰是肯尼亚的主打产品。新鲜的肯尼亚玫瑰从采摘到中国消费者手中仅需1~2天。中国已经成为肯尼亚增长最快的玫瑰消费市场。如图16为肯尼亚简图，如图17为奈瓦沙湖畔玫瑰园景观图。

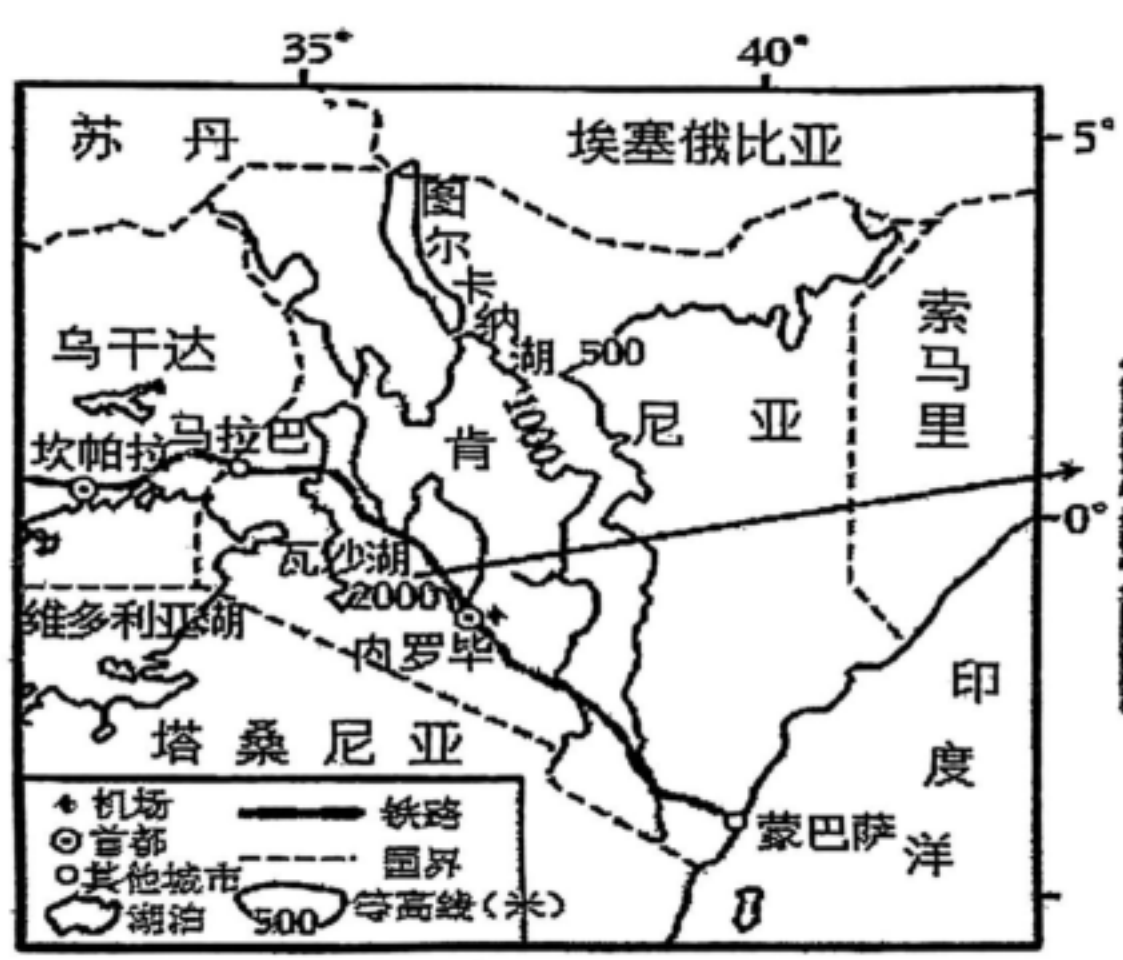


图 16



图 17

(1) 关于肯尼亚描述正确的是 _____（多项选择）。

- A. 肯尼亚位于非洲东部，东北临印度洋
- B. 赤道穿过中部，地跨南北半球
- C. 地形以高原为主，地势西高东低
- D. 当地居民以黄色人种为主

(2) 肯尼亚一年四季均可以生产玫瑰，其中瓦沙湖畔是肯尼亚著名的玫瑰产地，玫瑰农场鳞次栉比，全部采用温棚种植，并使用计算机控制其生长条件，是真正的“鼠标农业”。分析瓦沙湖畔成为肯尼亚玫瑰产地的有利条件。请将序号表示的内容填写在对应的横线上。

①靠近湖泊，_____充足、②位于高原，地形_____、③火山灰土，土壤_____、④人口众多，_____充足、⑤靠近首都，_____便利。

明永乐十三年，郑和下西洋回国后，带着麻林国（肯尼亚）国王赠送的“麒麟”回到了南京（如图18），“麒麟”适宜生活于非洲稀树草原地带，以树叶及小树枝为主食。

(3) 适宜“麒麟”生活的气候区是_____（填写字母），该气候特征是_____。

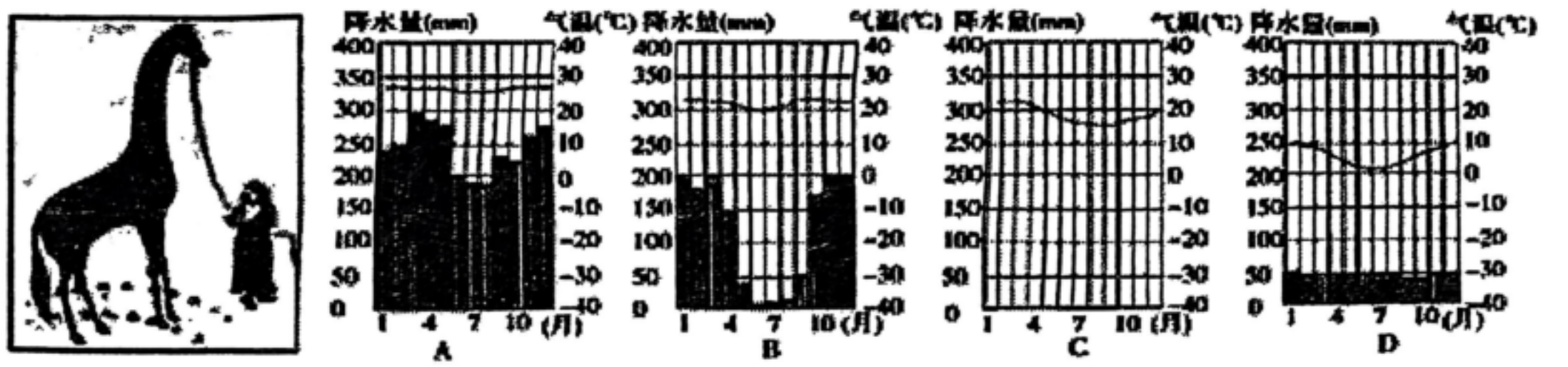


图 18

VV99.net

免费文档下载